

# Задания с картами

Часть 1

Если вы до сих пор не поняли, что делать с картами – значит, вы когда-то пропустили алфавит географии. Поэтому и начинать надо с самых азов.

До начала работы с *историческими* картами необходимо заполнить пробелы в знании *физической географии*. Это нужно для того, чтобы вы не испытывали сложности с определением территории, на которой происходят события в предложенном задании, узнавали объекты, которые требуется назвать и т.д. Перечисленные в задании моря, реки, острова и т.д. – это минимальный «пакет», который поможет на следующем этапе «привязать» к этим объектам города. Вам необходимо научиться узнавать эти объекты независимо от того, какая часть страны изображена на карте и каков масштаб изображения. Поскольку фрагменты карт постоянно меняются (а вместе с этим и угол, под которым показано изображение), необходимо научиться узнавать эти объекты по взаимному положению и очертанию.

**Объекты физической географии для запоминания:**

1. *Балтийское море*
2. *Черное море*
3. *Азовское море*
4. *Каспийское море*
5. *Белое море*
6. *Охотское море*

7. *П-ов Крым*

8. *П-ов Камчатка*

9. *Финский залив*

10. *Ладожское озеро*

11. *Чудское озеро*

12. *Озеро Ильмень*

13. *Озеро Байкал*

14. *Волга*

15. *Днепр*

16. *Дон*

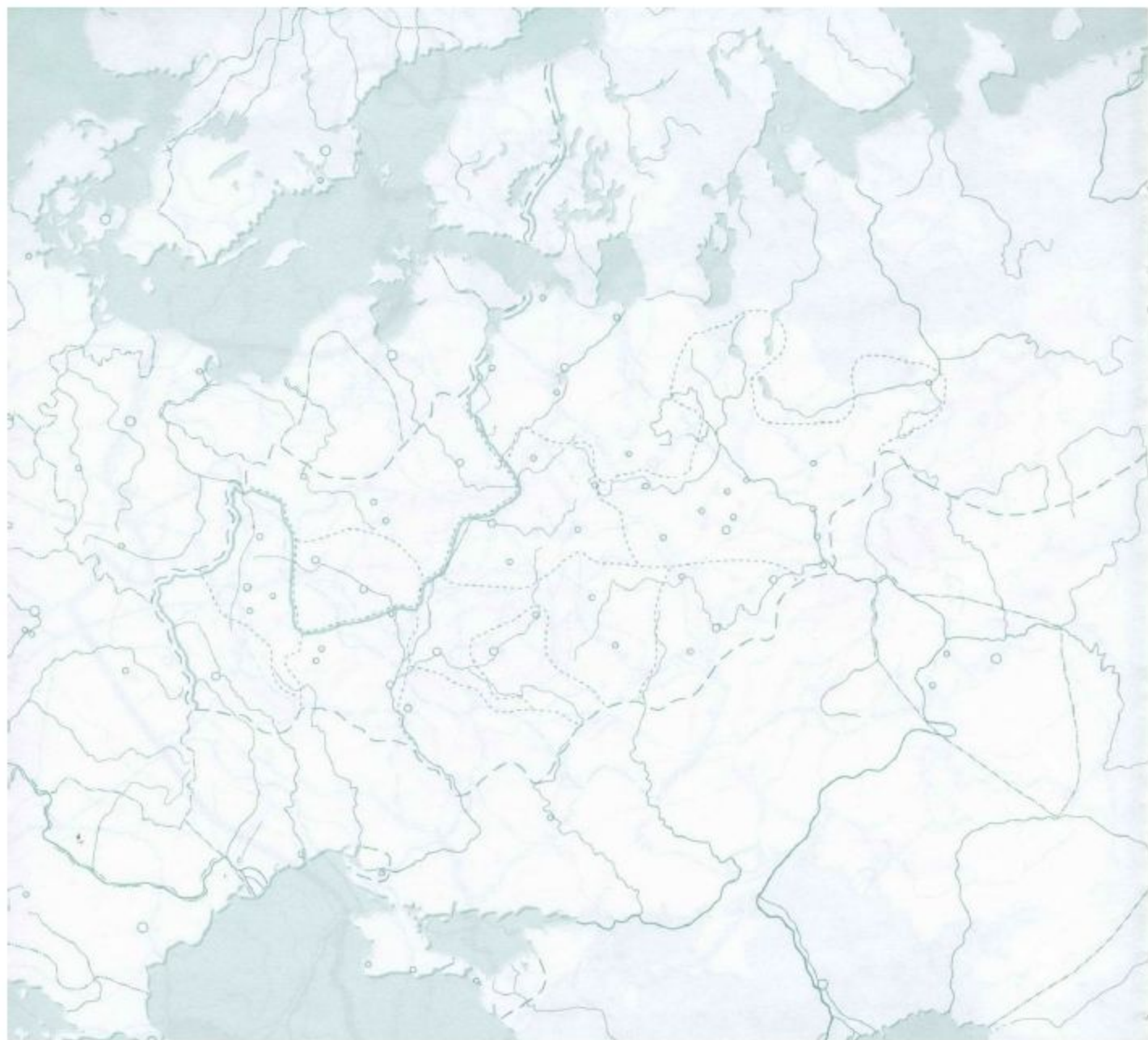
17. *Нева*

18. *Амур*

19. *Енисей*

20. *Лена*

*Западная часть России*






## Северо-Запад и центральная часть России



## *Дальний Восток России*



Если вы уже выучили большинство географических объектов из первого домашнего задания, вы готовы к следующему шагу.

Следующий этап занятий по карте – запоминание расположения городов. Это значительно сложнее, чем предыдущее задание, но гораздо важнее с точки зрения экзамена. Начнем с городов эпохи Древней Руси.

Опираясь на знание расположения рек, озер и морей, становится гораздо легче узнать города, которые в 99% случаев четко привязаны к воде.



*Проанализируйте по карте, на каких реках или возле каких других географических объектов были основаны города из списка и научитесь узнавать их по контурной карте (в разных масштабах) с опорой только на знание географии. Отметьте города из списка на всех контурных картах из этого задания. Правильность выполнения задания проверим на занятии. Для удобства советуем сначала найти и подписать названия рек или морей, к которым будут «привязаны» города.*

1. Новгород
2. Киев
3. Смоленск
4. Владимир
5. Псков
6. Чернигов
7. Нижний Новгород
8. Москва
9. Херсонес (Корсунь)
10. Константинополь (Царьград)

*Образец «привязки» города к реке:*

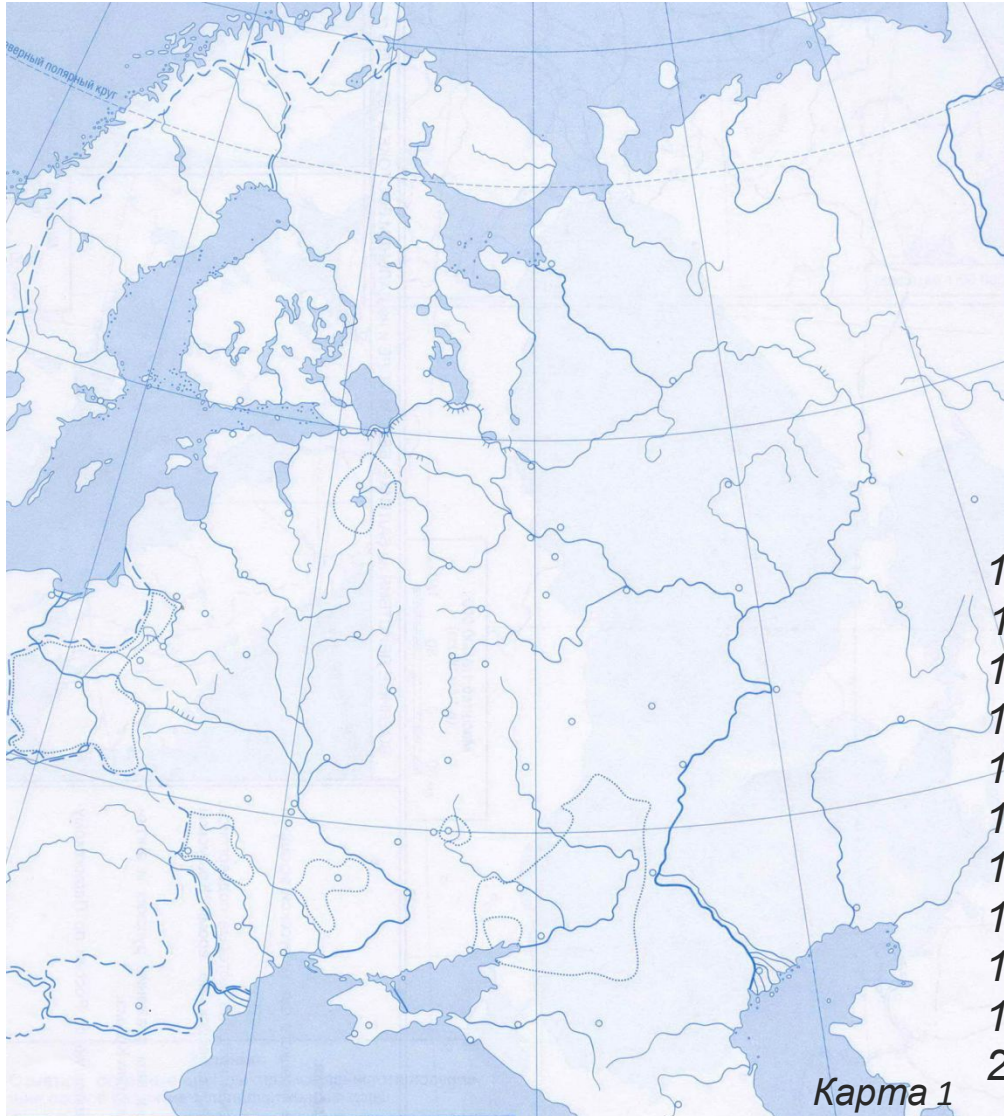
**Киев**, ищем над Черным морем. Стоит на берегу Днепра, чуть ниже «развилки» трех рек.

**Новгород**, ищем на Северо-Западе, чуть ниже и правее Финского залива. Нам нужен Ильмень, самое маленькое озеро в этом районе, оно «свисает» с Ладожского озера. Новгород «сидит» прямо сверху на озере.



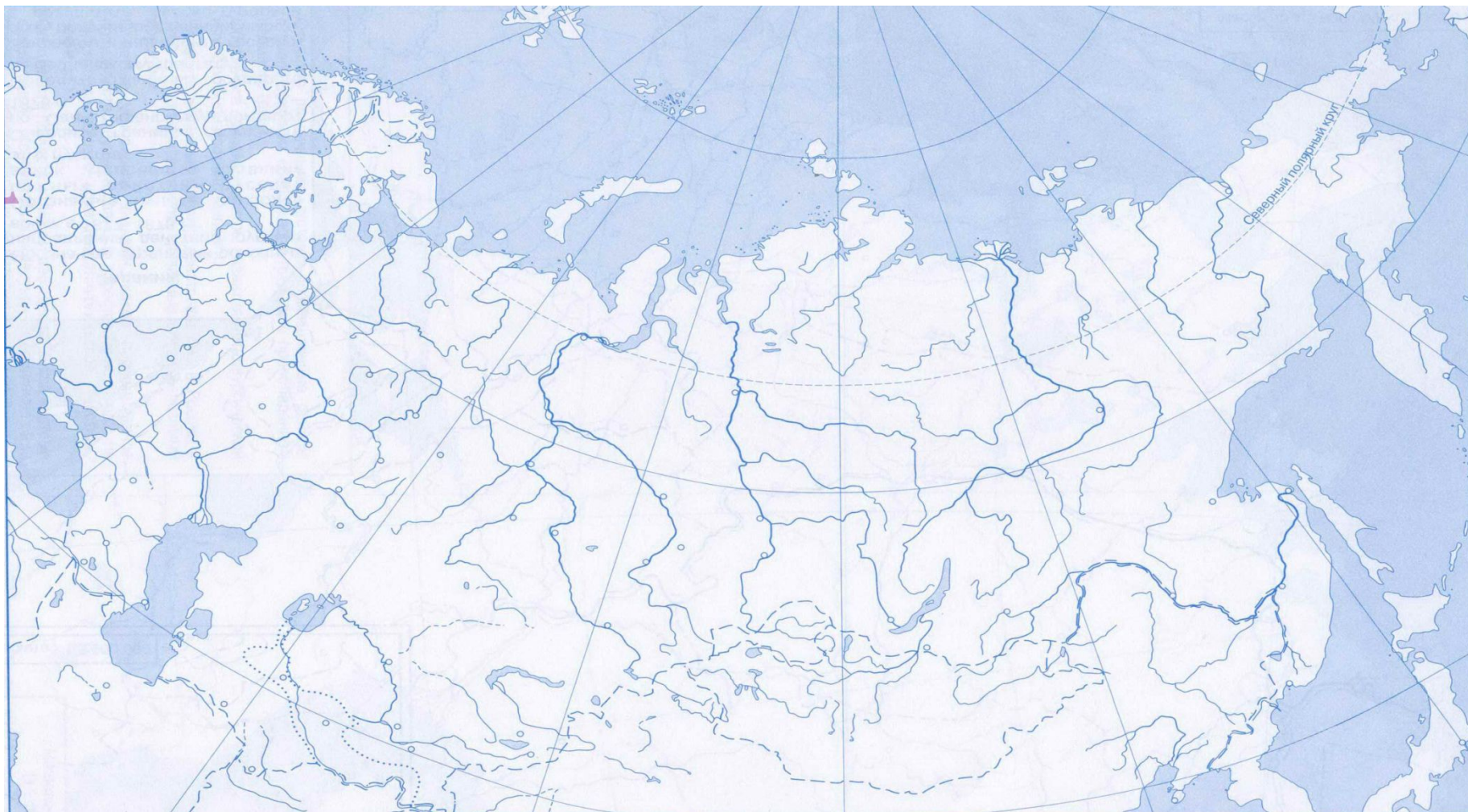
# Самодиагностика. 1 уровень:

**Найди на карте 1 и (или) карте 2 следующие объекты физической географии:**



1. Балтийское море
2. Черное море
3. Азовское море
4. Каспийское море
5. Белое море
6. Берингов пролив
7. Ладожское озеро
8. Волга
9. Днепр
10. Дунай
11. Северная Двина
12. Лена
13. Амур
14. Нева
15. Уральские горы
16. Крым
17. Камчатка
18. Сахалин
19. Курильские острова
20. Мыс Дежнева

# Самодиагностика. 1 уровень:



Карта 2



# Самодиагностика. 2 уровень:

**Найди на карте 1 и (или) карте 2 следующие города:**



1. Новгород
2. Киев
3. Чернигов
4. Смоленск
5. Владимир
6. Тверь
7. Псков
8. Москва
9. Санкт-Петербург
10. Нижний Новгород
11. Казань
12. Астрахань
13. Волгоград
14. Архангельск
15. Екатеринбург
16. Севастополь
17. Рига
18. Варшава
19. Владивосток
20. Хабаровск



## Самодиагностика. 3 уровень:



**Найди на карте 1 и (или) карте 2, где примерно расположены следующие территории:**

1. Финляндия
2. Царство Польское
3. Левобережная Украина
4. Правобережная Украина
5. Бессарабия
6. Северное Причерноморье
7. Грузия
8. Эстония (Курляндия)
9. Литва (в современных границах)
10. Пруссия (в границах конца XIX в.)

## **Критерии оценки диагностики:**

### **Отлично:**

- Уровень 1 – 95-100%
- Уровень 2 – 90-95%
- Уровень 3 – 90-95%

### **Хорошо:**

- Уровень 1 – 90-95%
- Уровень 2 – 80-90%
- Уровень 3 – 85-90%

### **Предстоит много работы:**

- Уровень 1 – 75-85%
- Уровень 2 – 70-80%
- Уровень 3 – 75-85%

### **Есть повод для опасений:**

- Уровень 1 – 60-75%
- Уровень 2 – 50-70%
- Уровень 3 – 50-75%

### **Нужно срочно принимать меры!**

- Уровень 1 – 50-60%
- Уровень 2 – 30-50%
- Уровень 3 – 30-50%

### **А Вы вообще в школе были?**

- Уровень 1 – меньше 50%
- Уровень 2 – меньше 30%
- Уровень 3 – меньше 30%

Итак, за прошедшее время мы выучили основные объекты физической географии и ключевые города. Заодно вы учились «видеть» карту – обращать внимание на сочетание рисунка рек, линии побережья, запоминать развилки и изгибы, привязывать города к этим очертаниям. Теперь мы можем приступить к следующему этапу – «обживать» отдельные районы и запоминать ключевые пункты по регионам. Это и станет следующей ступенькой вашей географической лестницы. И кстати – не забывайте повторять объекты из первых заданий – они еще не все улеглись в памяти!

Перед вами карта, с которой вам надо начать заучивание. Красным выделены реки, которые будут окружать Черное море на картах практически любого масштаба – они слишком крупные, без них и карта не карта. Черным выделены реки, которые надо запомнить, но они иногда не нарисованы. Города, которые надо запомнить, в списке «на дом», но на карту они не «посажены» - сделайте это самостоятельно, чтобы еще раз присмотреться к привязкам и привыкнуть к расположению ключевых городов.





Карта 1.

### **Задание 1.**

**Выучите реки, которые отмечены на карте 1.**

### **Задание 2.**

*Отметьте на каждой карте из задания следующие города и географические объекты, которые мы будем учиться опознавать «без подсказок». Обратите внимание, что на большинстве карт нельзя отметить все перечисленные пункты одновременно.*

1. Керченский пролив
2. Босфор
3. залив Сиваш
4. Перекоп
  
5. Азов
6. Таганрог
7. Севастополь
8. Симферополь
9. Керчь
10. Евпатория
11. Запорожская Сечь
12. Очаков
13. Одесса
14. Херсон
15. Константинополь (Стамбул)
16. Синоп
17. Карс
18. Измаил

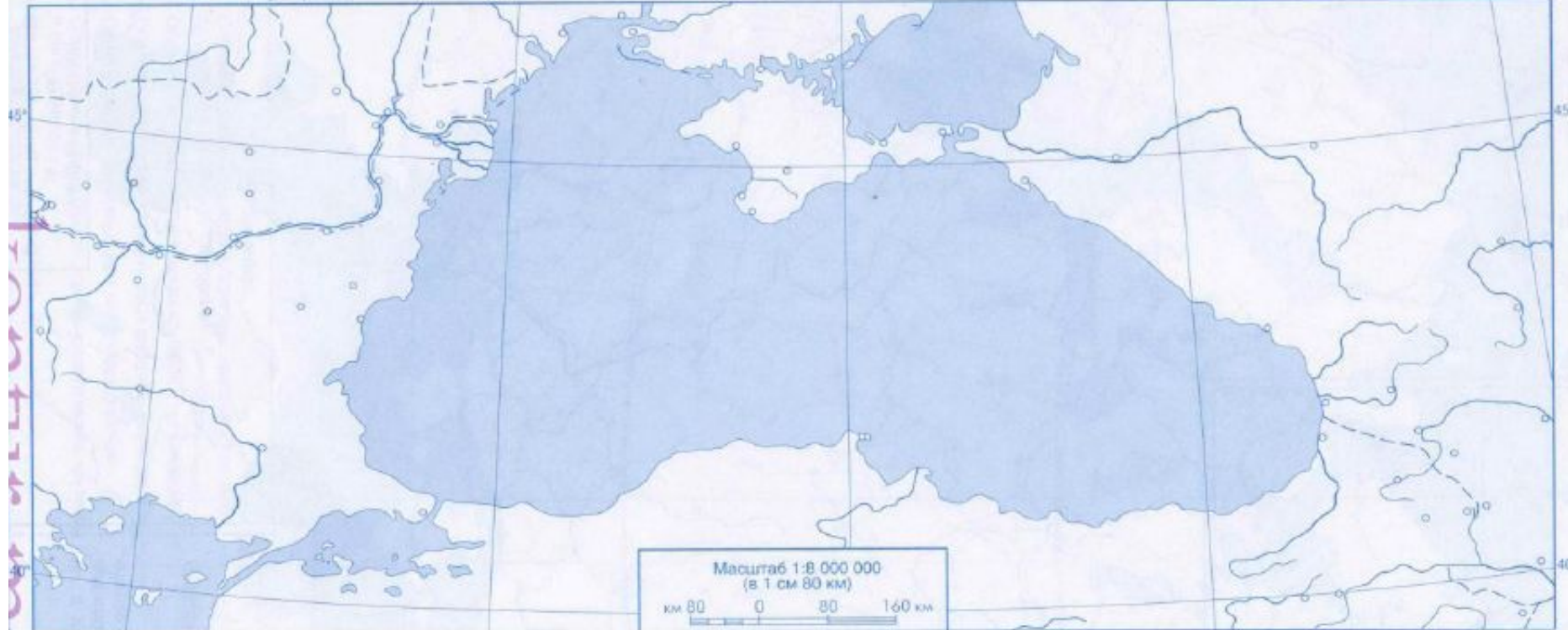
25° к востоку от Гринвича

30°

35°

40°

45°



Масштаб 1:8 000 000  
(в 1 см 80 км)

км 80 0 80 160 км



*Карта №2*



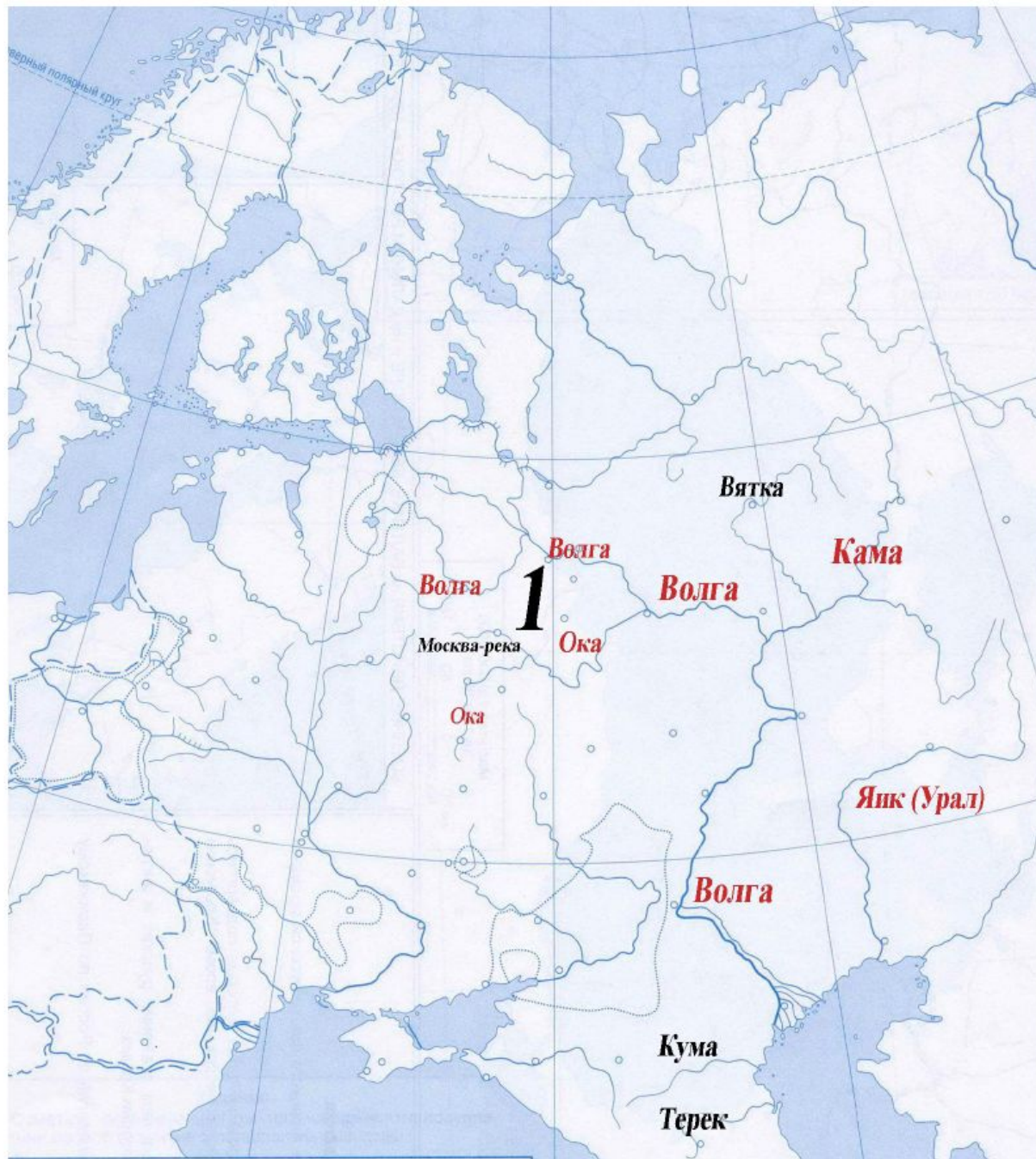
## Бассейн северной части Каспийского моря

За три предыдущих занятия вы должны были освоиться в очень непростом регионе – бассейне Черного моря. За время работы с картой (если, конечно, вы занимались, а не тыкали в ответы наудачу) вы должны были постепенно «присмотреться» - привыкнуть к очертаниям морей и рек в западной части страны (все-таки бОльшая часть события нашей истории происходит здесь). На следующем этапе освоения материала вас ждет две новости: хорошая и плохая. Хорошая заключается в том, что бассейн Каспийского моря проще – там меньше рек и извилин. Так что учить большинство рек будет легко. Плохая – это то, что главная река (Волга) в верхнем течении очень путаная, но при этом там много городов, которые сыграли очень важную роль в нашей истории. Так что выучить города будет гораздо сложнее, чем раньше.

Итак, начнем «обживать» бассейн Каспийского моря. Перед вами карта, с которой вам надо начать заучивание. Красным шрифтом подписаны главные реки. Обратите внимание на изгибы Волги. В верхнем течении она довольно извилистая, но поскольку к ней привязаны довольно важные города, хорошо бы различать, где именно она протекает. Черным выделены реки, которые тоже надо запомнить, но они не всегда прорисованы.



Выучите реки, которые отмечены на карте





*Отметьте на каждой карте из задания перечисленные города. Обратите внимание, что города разделены на две группы – города «без подсказок» - это те, что легко узнать по очертаниям рек. Отдельно собраны города из района, отмеченного на карте цифрой 1. Они расположены очень близко друг к другу и вам достаточно помнить, что эти города «примерно там», в междуречье Волги и Оки. Составители вопросов вас не будут специально путать и не заставят различать их совсем уж «без подсказок», ловя вас на миллиметрах различий.*

**«Без подсказок»**

1. Москва
2. Тверь
3. Нижний Новгород
4. Казань
5. Царицын / Волгоград / Сталинград
6. Астрахань
7. Симбирск
8. Саратов

**Находятся в междуречье Оки и Волги**

9. Суздаль
10. Владимир
11. Ярославль
12. Рязань
13. Кострома
14. Углич

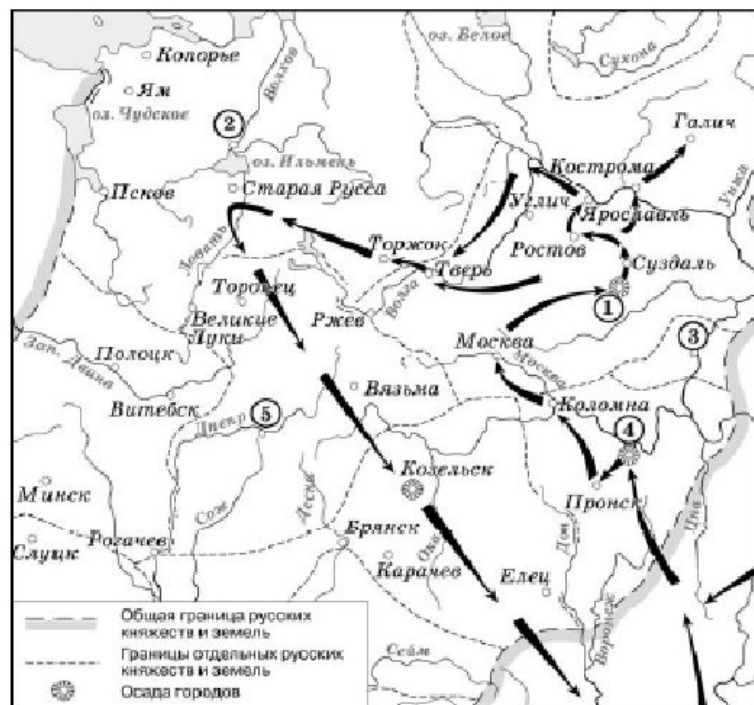
# Знакомимся с заданиями: Демоверсия-2015

Демонстрационный вариант ЕГЭ 2015 г.

История, 11 класс

(2015 - 15 / 29)

Рассмотрите схему и выполните задания 29–32.



29 Назовите имя полководца, осуществившего поход, обозначенный на схеме стрелками.

Ответ: \_\_\_\_\_

30 Назовите название города, обозначенного на схеме цифрой «1».

Ответ: \_\_\_\_\_

Демонстрационный вариант ЕГЭ 2015 г.

История, 11 класс

(2015 - 16 / 29)

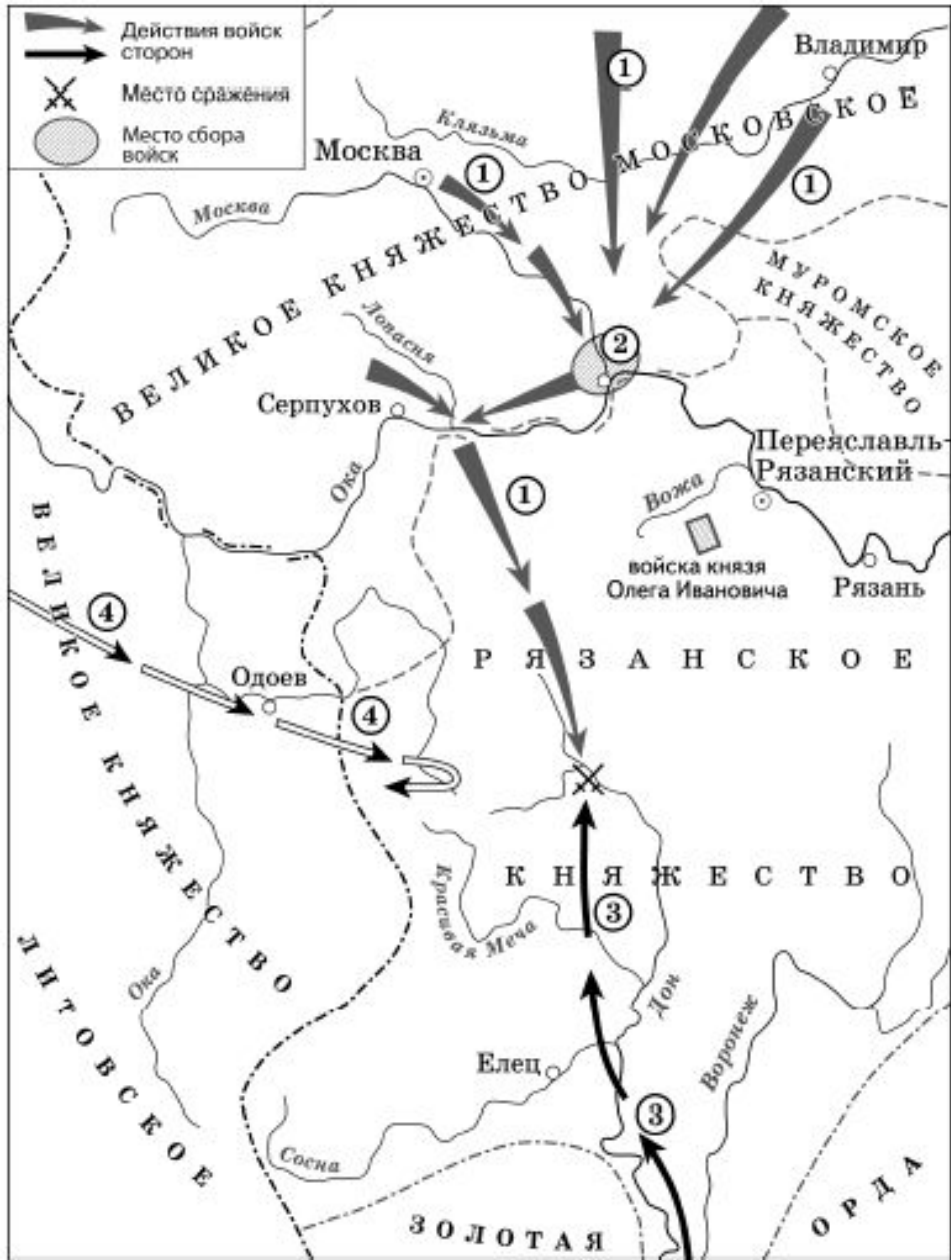
31 Укажите название города, обозначенного на схеме цифрой, где в период данного похода существовала республиканская форма правления.

Ответ: \_\_\_\_\_

32 Какие суждения, относящиеся к событиям, обозначенным на схеме, являются верными? Выберите три суждения из шести предложенных. Запишите в таблицу цифры, под которыми они указаны.

- 1) Завоеватели вторглись в пределы Руси в зимний период.
- 2) Ни один из городов, захваченных завоевателями, не выдержал осады более одной недели.
- 3) Поход, обозначенный на схеме стрелками, длился около трёх лет.
- 4) Одним из последствий событий, обозначенных на схеме, было начало раздробленности Древнерусского государства.
- 5) В результате событий, обозначенных на схеме, русские земли попали в зависимость.
- 6) Полководец, поход которого обозначен на схеме, является основателем государства.

Ответ:



29 Укажите век, к которому относятся события, обозначенные на схеме. Ответ напишите словом.

Ответ: \_\_\_\_\_

30 Укажите название города, обозначенного на схеме цифрой «2».

Ответ: \_\_\_\_\_

31 Укажите полководца, возглавившего поход, направление которого обозначено на схеме цифрой «3».

Ответ: \_\_\_\_\_

32 Какие суждения, относящиеся к исторической ситуации, обозначенной на схеме, являются верными? Выберите три суждения из шести предложенных. Запишите в таблицу цифры, под которыми они указаны.

- 1) Действиями войск, направление движения которых обозначено на схеме цифрой «1», руководил князь – основатель династии московских князей.
- 2) Цифрой «4» на схеме обозначено направление движения войск под руководством литовского князя Ягайло.
- 3) В результате сражения, обозначенного на схеме, на Руси было окончательно ликвидировано ордынское владичество.
- 4) В сражении, обозначенном на схеме, на стороне русских войск принимали участие войска рязанского князя.
- 5) В период правления князя, руководившего действиями войск, обозначенных на схеме цифрой «1», были возведены белокаменные стены Московского Кремля.
- 6) На схеме обозначена река, по названию которой было дано прозвище московскому князю, руководившему действиями русских войск, обозначенных на схеме цифрой «1».

\_\_\_\_\_

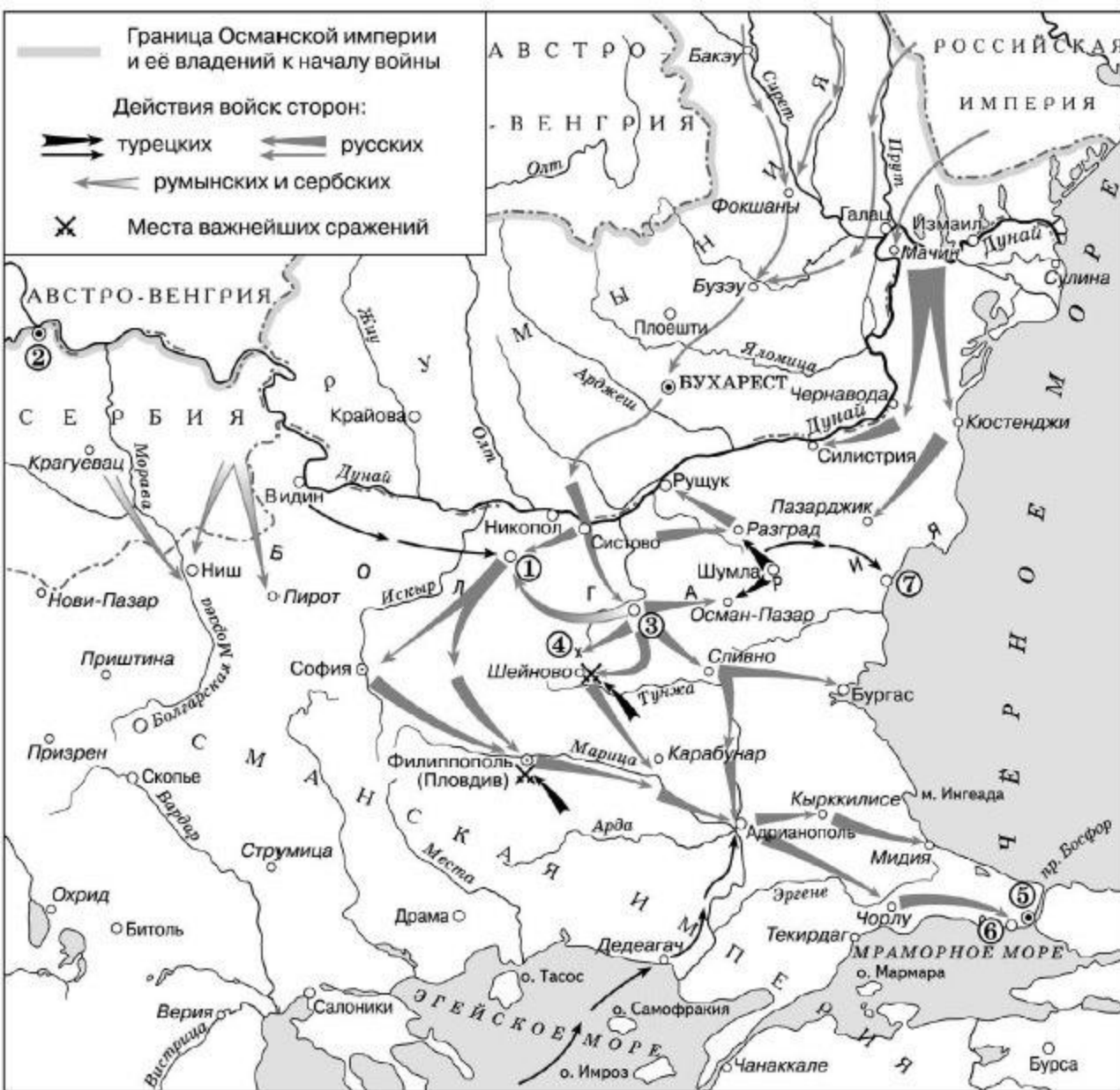




Земли, обозначенные цифрой I, вошли в состав России в годы правления

Назовите город, обозначенный цифрой 5





Назовите крепость, обозначенную цифрой 1





**В годы гражданской войны этот человек прославился в качестве командующего в боях за город... А кстати! За какой город-то?**

Сталин командовал фронтом под Царицыным (поэтому он и был позже переименован в его честь). Царицын (Волгоград, Сталинград) - 2



**В университете какого города учился этот студент?**

6, Казанский университет,





А этот Кремль  
где?



Нижний Новгород,





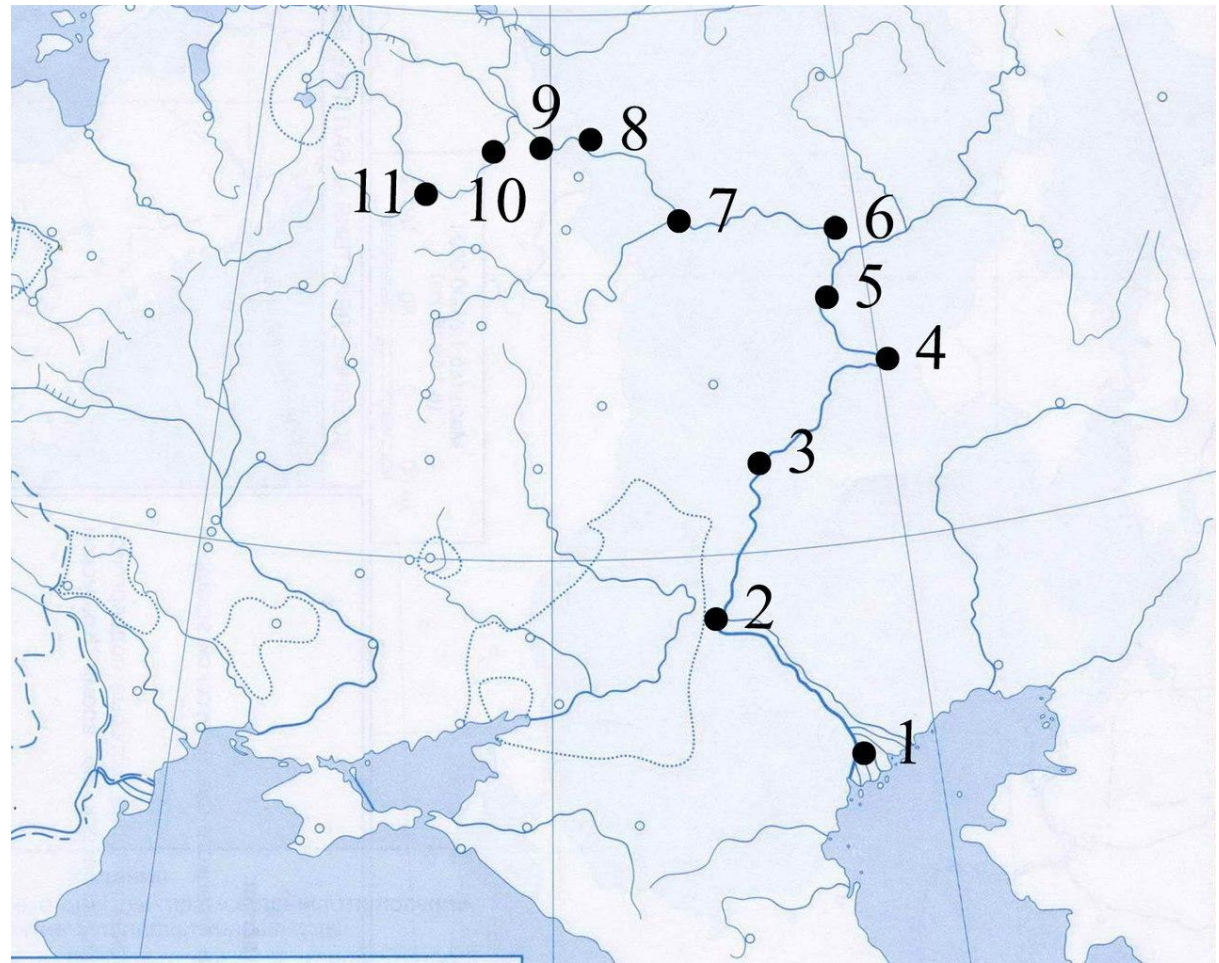
Где такой красивый  
Кремль?



Казан  
ь

Какой город отмечен  
цифрой 11

- Москва
- Киев
- Санкт-Петербург
- Казань
- Ярославль
- Кострома
- Владимир
- Нижний  
Новгород
- Тверь
- Вашингтон



**Тверь**



Какой цифрой отмечен город  
Царицын?



2







Напишите словом пропущенный в фразе год: «Битва, изображённая на схеме, началась в тысяча девятьсот сорок \_\_\_\_\_ году».

Напишите название реки, обозначенной на схеме цифрой 1.

Напишите пропущенное название фронта, обозначенного на схеме цифрой 3.

Какие суждения, относящиеся к событиям, обозначенным на схеме, являются верными? Выберите три суждения из шести предложенных. Запишите в таблицу цифры, под которыми они указаны.

- 1) Обозначенный на схеме цифрой 2 город был полностью захвачен противником на начальном этапе изображённой на схеме битвы.
- 2) Советская военная операция, события которой изображены на схеме, получила кодовое обозначение «Уран».
- 3) Войсками противника, обозначенными на схеме цифрой 4, командовал генерал Паулюс.
- 4) Обозначенные на схеме события происходили летом.
- 5) Одним из результатов битвы, изображённой на схеме, стало пленение крупной группировки противника.
- 6) Во время изображённой на схеме битвы союзниками был открыт второй фронт в Нормандии.