

Закрепление знаний по теме
«Табличное сложение и
вычитание»

стр. 96-97

Урок № 125-126



Школа России
Математика 1 класс





Устный счёт

Запиши только ответы:



1. Уменьшаемое **18**, вычитаемое **9**. Найди разность.
2. Запиши число, которое на **3** меньше, чем **16**
3. Найди разность чисел **15** и **6**.
4. Первое слагаемое **8**. Второе слагаемое **7**. Найди сумму чисел.
5. Уменьшаемое **11**. Вычитаемое **6**. Чему равна разность?
6. Найди разность **12** и **6**.
7. Найди сумму чисел **7** и **5**.

9 13 9 15 5 6 12

В одной вазе 12 цветов, а в другой на 5 меньше.
Сколько цветов во второй вазе?

7

$$12 - 5 = 7$$



Сколько цветов всего в двух вазах?


$$12 + 7 = 19$$



После того, как обезьянка съела **3** банана, у неё осталось ещё **8**. Сколько бананов было у обезьянки?

11

$$8 + 3 = 11$$



В зоопарке на детской площадке **6** тигрят. Зебры **4**, а леопардов на **2** больше чем зебр. Сколько всего зверей на детской площадке.



$$6 + 6 + 4 + 2 = 16$$

16



Петя поймал **5** ершей, **8** карасей и **3** окуня. Сколько всего рыб поймал Петя?



$$5 + 8 + 3 = 16$$



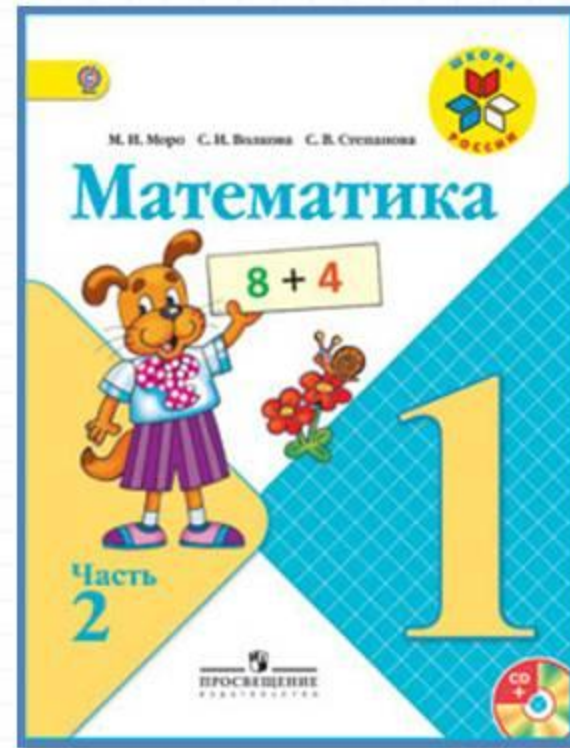

16

Физкультминутка

Мы сегодня обезьянки,
По-английски – просто манк
Покривляемся немножко
И похлопаем в ладошки.
Головой кивнем друг другу
И опять бежим по кругу!
Сядем, встанем – и прыжок!
Ты же манки, мой дружок!



Работа по учебнику



стр. 96-97

ПРОВЕРИМ СЕБЯ

И ОЦЕНИМ СВОИ ДОСТИЖЕНИЯ

Тест

Вариант 1

Выбери правильный ответ.

Задание	Варианты ответов
1. Укажи сумму чисел 8 и 5.	14 13 12
2. Сколько получится, если 14 уменьшить на 6?	7 6 8
3. Укажи разность чисел 15 и 7.	8 7 9
4. На сколько 11 больше, чем 6?	На: 6 5 4
5. Укажи результат вычислений $5 + 9 - 6$.	9 8 7
6. Какая сумма больше: $8 + 4$ или $7 + 6$?	$8 + 4$ $7 + 6$
7. Какое число надо записать в окошко, чтобы равенство $15 - \square = 6$ стало верным?	7 9 8
8. На сколько уменьшили 11, если получили 7?	На: 5 4 3
9. На сколько сантиметров 1 дм больше, чем 1 см?	На: 11 см 9 см 4 см

Вариант 2

Выбери правильный ответ.

Задание	Варианты ответов
1. Укажи разность чисел 16 и 9.	8 9 7
2. Укажи сумму чисел 7 и 4.	12 11 13
3. Сколько получится, если 8 увеличить на 8?	15 16 17
4. На сколько 9 меньше, чем 12?	На: 3 4 5
5. Укажи результат вычислений $15 - 7 + 6$.	12 13 14
6. Какая разность больше: $12 - 4$ или $13 - 6$?	$12 - 4$ $13 - 6$
7. Какое число надо записать в окошко, чтобы равенство $7 + \square = 16$ стало верным?	8 9 7
8. На сколько увеличили 8, если получили 12?	На: 4 5 6
9. На сколько сантиметров 1 см меньше, чем 1 дм?	На: 9 см 8 см 11 см

Что узнали, чему научились в 1 классе?

СЧИТАТЬ

1. Сколько жёлтых квадратов? синих? зелёных? Сколько всего квадратов?



2. Которым по счёту будет в верхнем ряду квадрат с кружком, если считать слева направо? справа налево?
3. Которым по счёту будет последний квадрат со звёздочкой во втором ряду?

ЧИТАТЬ И ЗАПИСЫВАТЬ ЧИСЛА

1. Прочитай записанные в №1 числа.
2. Запиши пропущенные числа.

СРАВНИВАТЬ ЧИСЛА

1. Запиши в одной строке числа, которые меньше чем 6, а в другой — которые больше чем 6.




2. Назови самое большое и самое маленькое из этих чисел:



Что узнали, чему научились в 1 классе?

СЧИТАТЬ

1. Сколько жёлтых квадратов? синих? зелёных? Сколько всего квадратов?



2. Которым по счёту будет в верхнем ряду квадрат с кружком, если считать слева направо? справа налево?
3. Которым по счёту будет последний квадрат со звёздочкой во втором ряду?

ЧИТАТЬ И ЗАПИСЫВАТЬ ЧИСЛА

1. Прочитай записанные в №1 числа.
2. Запиши пропущенные числа.

СРАВНИВАТЬ ЧИСЛА

1. Запиши в одной строке числа, которые меньше чем 6, а в другой — которые больше чем 6.



2. Назови самое большое и самое маленькое из этих чисел:



Физкультминут

ка

На реке живёт енот.
Чешет лапкой он живот.
Своим хвостиком виляет,
Кверху лапки поднимает.
Шустро он по кочкам скачет
Под корнём запасы прячет.
Он среди воды живёт
Добродушный наш енот.



Работа в тетради

стр. 47



Для закрепления и проверки знаний

1 Запиши пропущенные числа.

20, , 18, 17, , 15, 14, , , 11, , , 8.

2

$4 + 5 =$	$9 - 3 =$	$10 - 4 =$
$7 - 2 =$	$10 - 8 =$	$3 + 7 =$

3 Соедини линией карточку, на которой записан пример, с кружком, в котором записан его ответ.

$8 + 7$	$5 + 6$	$8 + 4$	$6 + 7$	$9 + 9$
---------	---------	---------	---------	---------

18 10 14 16 15 11 12 13

$2 + 8$	$6 + 8$	$7 + 9$	$9 + 5$	$9 + 3$
---------	---------	---------	---------	---------

$13 - 5$	$11 - 2$	$12 - 9$	$11 - 7$	$14 - 8$
----------	----------	----------	----------	----------

3 4 5 6 7 8 9

$15 - 8$	$12 - 7$	$14 - 5$	$12 - 7$	$13 - 9$
----------	----------	----------	----------	----------

4 Числа, которые меньше, чем 9, увеличь на 7, числа, которые больше, чем 9, уменьши на 6.

6		11		12
8		5		13

Для закрепления и проверки знаний

1 Запиши пропущенные числа.

20, , 18, 17, , 15, 14, , , 11, , , 8.

2

$4 + 5 =$	<input type="text"/>	<input type="text"/>	$9 - 3 =$	<input type="text"/>	<input type="text"/>	$10 - 4 =$	<input type="text"/>	<input type="text"/>
$7 - 2 =$	<input type="text"/>	<input type="text"/>	$10 - 8 =$	<input type="text"/>	<input type="text"/>	$3 + 7 =$	<input type="text"/>	<input type="text"/>

- 3** Соедини линией карточку, на которой записан пример, с кружком, в котором записан его ответ.

$8 + 7$	$5 + 6$	$8 + 4$	$6 + 7$	$9 + 9$
---------	---------	---------	---------	---------

(18) (10) (14) (16) (15) (11) (12) (13)

$2 + 8$	$6 + 8$	$7 + 9$	$9 + 5$	$9 + 3$
---------	---------	---------	---------	---------

$13 - 5$	$11 - 2$	$12 - 9$	$11 - 7$	$14 - 8$
----------	----------	----------	----------	----------

(3) (4) (5) (6) (7) (8) (9)

$15 - 8$	$12 - 7$	$14 - 5$	$12 - 7$	$13 - 9$
----------	----------	----------	----------	----------

- 4** Числа, которые меньше, чем 9, увеличь на 7, числа, которые больше, чем 9, уменьши на 6.

6				11			12		
8				5			13		

Закрепление изученного



Сосчитай примеры, проверь нажатием.



17

18

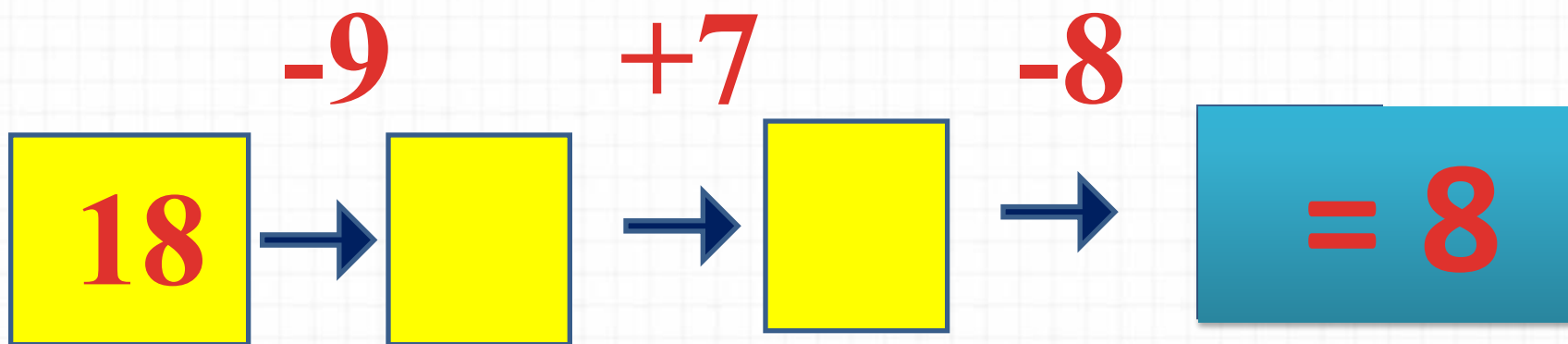
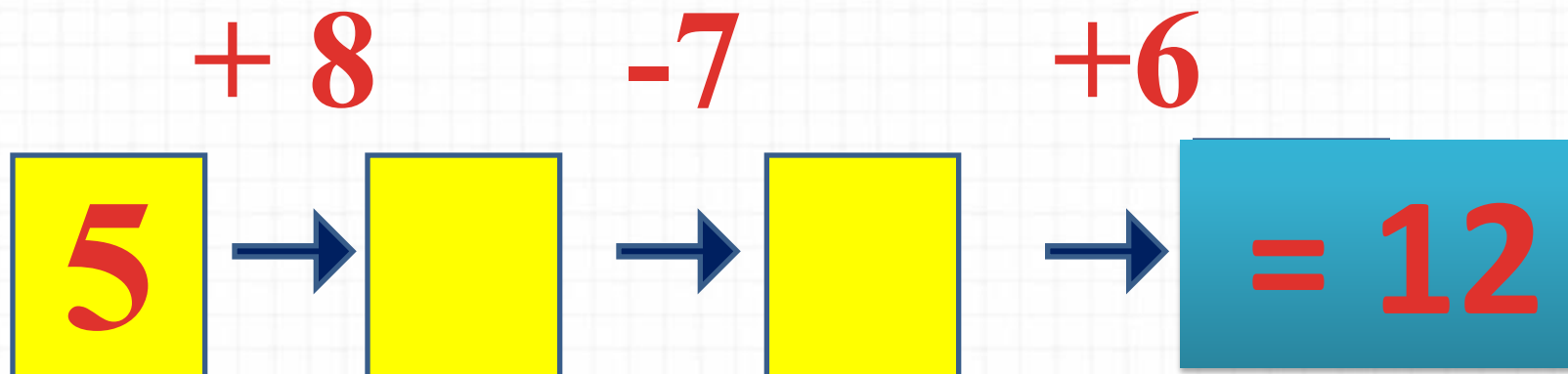
9

7

4



Сосчитай цепочку примеров.



10

16

11

8

-6

17

14

8

12

Вставь пропущенные числа.



$$\square - 7 = 12$$

$$13 - \square = 8$$

$$\square + 8 = 13$$

Рефлексия

**Что было особенно интересным?
Как вы оцените свою работу на уроке?**



