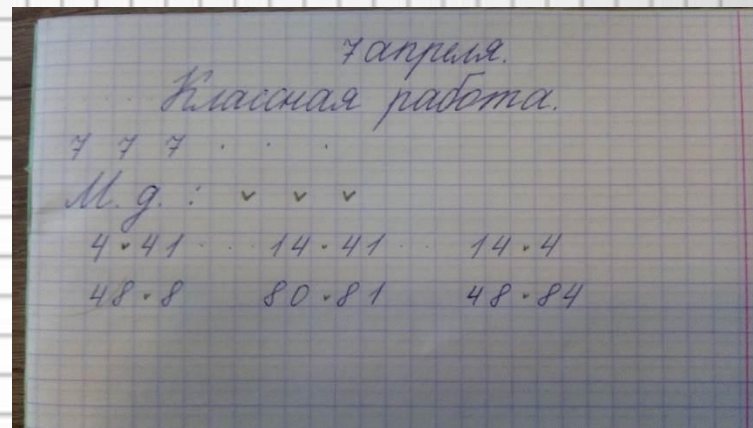


Здравствуйте, ребята.
Откройте свои тетрадочки.
Запишите число, классная работа.
Красиво пропишите целую строчку
цифру 7.

Расскажите, что вы знаете о числе 7.
Подготовьтесь к математическому
диктанту:



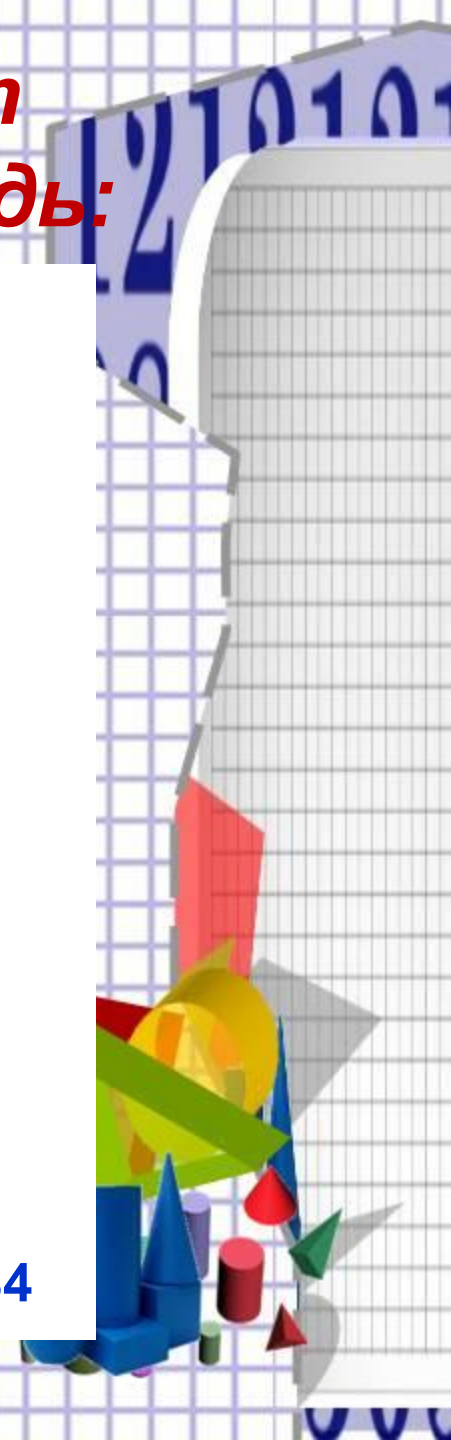
Математический диктант

Запишите ответы в тетрадь:

- Пять щенят плюс мама-лайка.
Сколько будет? Сосчитай-ка!
- Четыре сороки пришли на уроки.
Одна из сорок не знала урок.
Сколько прилежно трудилось сорок?
- Посадила бабка в печь пирожки с капустой печь.
Для Наташи, Маши, Тани, Коли, Оли, Гали, Вовы
Пирожки уже готовы.
Да ещё один пирог кот под лавку уволок.
Да в печи четыре штуки. Пироги считают внуки
Если сможешь, помоги сосчитать им пироги.

Сравни числа: $<$, $>$ или $=$

4... 41 14 ... 41 14 ... 4 48 ... 8 80 ... 81 48 ... 84



**Тема нашего урока:
Закрепление**


**Больше на... Меньше на...
На сколько больше...
На сколько меньше....**



Задача № 1.

У Лены – 10 шаров

У Маши - ? на 5 шаров больше ()



Рассуждаем так: у Лены – 10 шаров, у Маши – на 5 больше. Чтобы узнать сколько шаров у Маши, нужно выбрать действие _____

$$10 \square 5 = \square \text{ (ш.)}$$

Ответ: шаров у Маши.



Задача № 2.


У Лены – 10 шаров

У Маши - ? на 5 шаров меньше ()

Рассуждаем так: у Лены – 10 шаров, у Маши – на 5 меньше. Чтобы узнать сколько шаров у Маши, нужно выбрать действие _____

$$10 \square 5 = \square (\text{ш.})$$

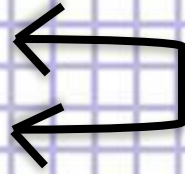
Ответ: шаров у Маши.



Задача № 3.

У Лены – 10 шаров

У Маши – 5 шаров




? На сколько больше ()



Рассуждаем так: у Лены – 10 шаров, у Маши – 5 шаров. Чтобы узнать, на сколько шаров у Лены больше, чем у Маши, нужно выбрать действие

$$10 \square 5 = \square \text{ (ш.)}$$

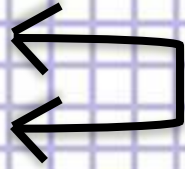
ОТВЕТ: на шаров больше у Лены.



Задача № 4.

У Лены – 10 шаров

У Маши – 5 шаров




? На сколько меньше ()

Рассуждаем так: у Лены – 10 шаров, у Маши – 5 шаров. Чтобы узнать, на сколько шаров у Маши меньше, чем у Лены, нужно выбрать действие

$$10 \square 5 = \square \text{ (ш.)}$$

ОТВЕТ: на шаров меньше у Маши.



**Опираясь на памятку
сформулируйте вывод:**

Памятка при решении задач

Больше на...

Увеличить на...

+

Меньше на...

Уменьшить на...

-

На сколько больше (меньше)?

-



Молодцы!

***Настало время отдохнуть.
Встаньте, пройдитесь по
комнате, потянитесь.
Представьте на потолке
наш тренажёр. Выполните
зарядку для глаз.***



Самостоятельная работа

Отдохнули? Молодцы!


Продолжаем нашу работу.

Выполните в тетрадях задания № 3,4 со страницы 74.

Вспомните, мы умеем решать задачи в несколько действий.

Устно выполните задания 5 и 6 со страницы 75.

Если у вас осталось время, в тетради выполните задание № 7 со стр. 75.



Наш урок заканчивается...

Вы – молодцы!

К среде вам нужно:

1. Запомнить памятку (лучше переписать ее в тетрадь для правил)

2. Сфотографировать сегодняшнюю работу и прислать мне в электронном дневнике или вайбере.

