


Пять ежей – с
лукошками,
Три ежа – с
гармошками.
Сколько среди сосен
Ежей гуляет?



$$5+3=8$$





?

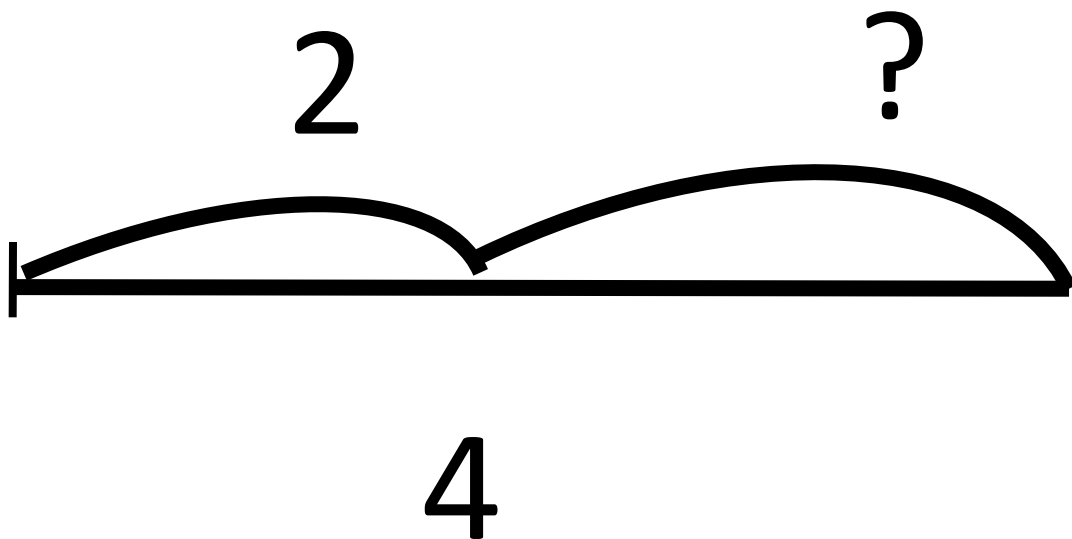
$$5 + 3 = 8(\text{еж.})$$

Ответ: 8 ежей

По дорожке мышка шла,
Четыре яблока несла,
Два – зайцу отдала,
Остальные в кладовку убрала.

$$4 - 2 = 2$$






$$4 - 2 = 2 \text{ (яб.)}$$

Ответ: 2 яблока

Идут гулять козлята,
Четыре дружных брата.
А рядом **три** сестрицы –
Три козочки идут.
И братья, и сестрицы
Отправились гулять.
Попробуй-ка, сумеи-ка
Их всех пересчитать.

$$4+3=7$$





?

$$4 + 3 = 7(\text{ж.})$$

Ответ: 7 ЖИВОТНЫХ