

Единица длины -дециметр стр. 51



*Школа России
Математика 1 класс*




УСТНО

$$14 = \square \text{ дес. } \square \text{ ед.}$$

$$16 = \square \text{ дес. } \square \text{ ед.}$$

$$18 = \square \text{ дес. } \square \text{ ед.}$$

Новый материал



(писать в 11 клетке) 6 апреля

(писать в 5 клетке) **Классная работа**

(Устно)

Папа держал чемодан, масса которого 11

В ведро помещается 6 ____

Ученик начертил отрезок длиной 5



Л

С

КГ

М



Мерку новую Знайка нам
принес.

Это мера длины?
Как ее называют? Вопрос.
Чтобы тему урока узнать,
Запись нам надо
расколдовать.




17	12	15	19	1	18	14	20
М	Е	И	Т	Д	Е	Ц	Р

Расположите числа в порядке возрастания, и вы узнаете,
с какой новой единицей измерения длины мы
познакомимся сегодня на уроке.

Дециметр


ДМ



1 дм



1 дм = 10 см

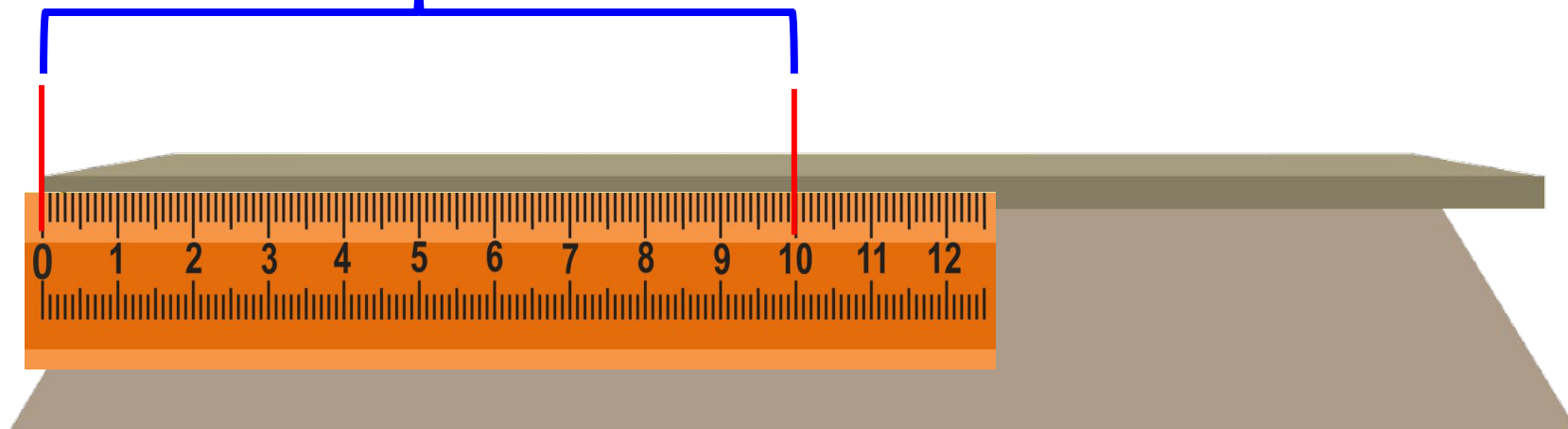


1 дм

2 см

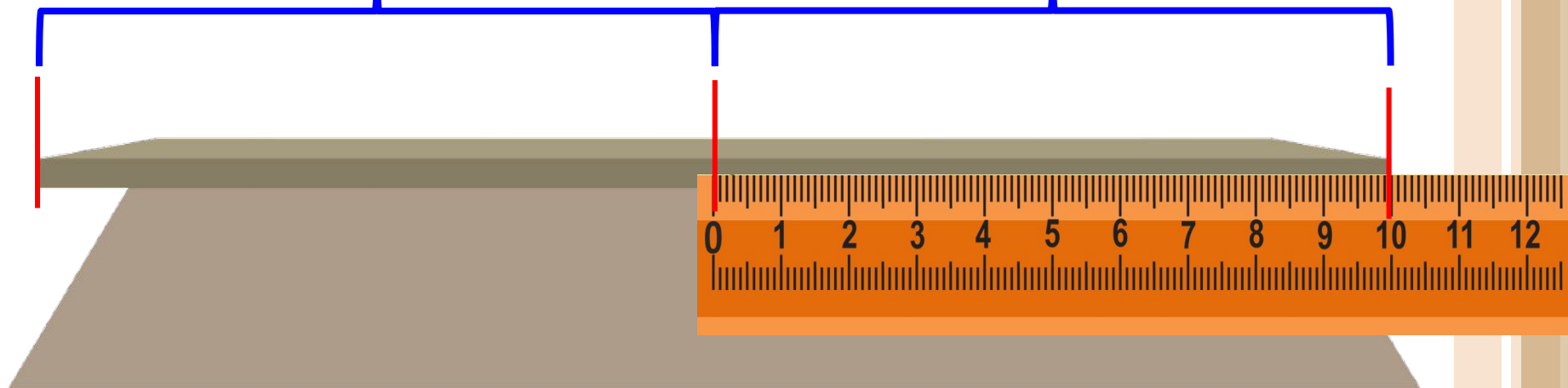
12 см = 1 дм 2 см

1 дм



1 дм

1 дм



$$2 \text{ дм} = 20 \text{ см}$$

Работа в тетради

стр. 25



Дециметр

- 1 Поставь на лучах точки, чтобы получить отрезки длиной 1 дм и 1 дм 2 см.



2

14	18	10	19
<input type="text"/>	<input type="text"/>	<input type="text"/>	<input type="text"/>

На 1 больше:

3

В букете было 5 гвоздик, а потом распустилось ещё 3 цветка. Сколько стало цветков?

Ответ:

4

12 см = дм см 1 дм 3 см = см

5

20	11	15	17
<input type="text"/>	<input type="text"/>	<input type="text"/>	<input type="text"/>

На 1 меньше:

6

В первое ведро входит 5 л воды, а во второе — на 1 л меньше. Сколько литров воды входит во второе ведро?

Ответ:

Сколько литров воды входит в эти два ведра?

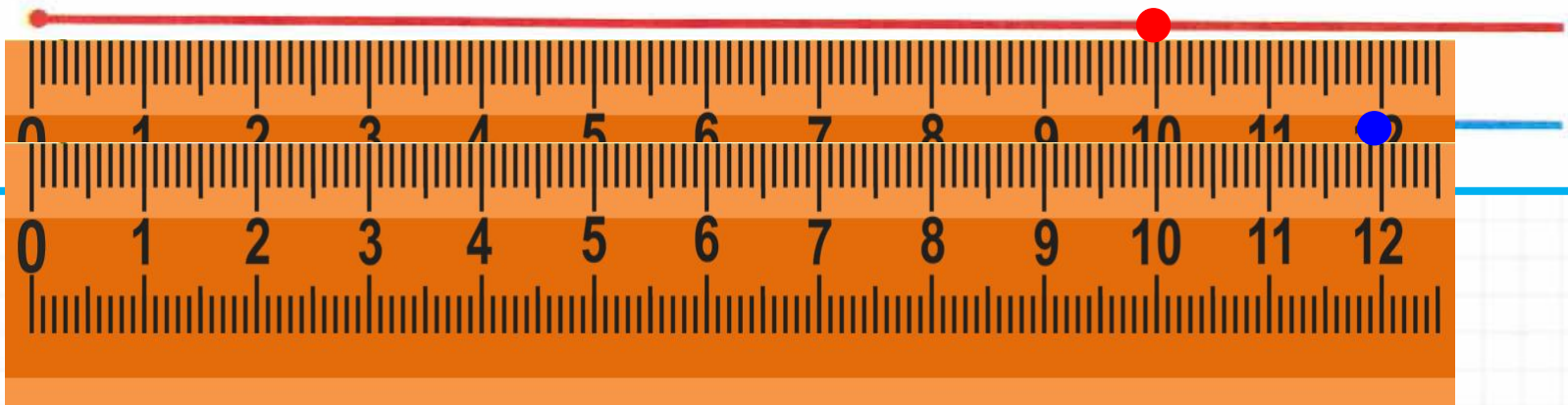
Ответ:

7

20, 19, , , 16, , , 13, , , .

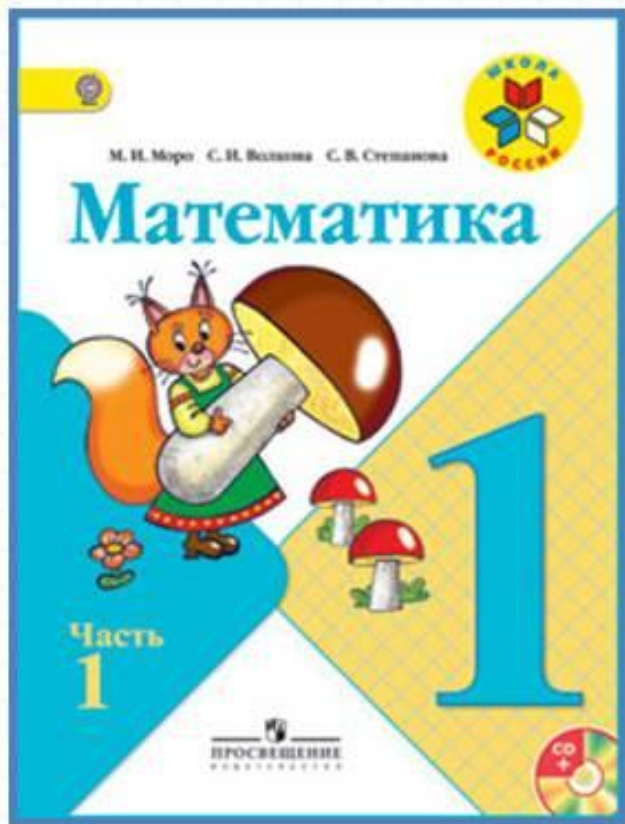
Дециметр

- 1 Поставь на лучах точки, чтобы получить отрезки длиной 1 дм и 1 дм 2 см.



4 $12 \text{ см} = \square \text{ дм } \square \text{ см}$ $1 \text{ дм } 3 \text{ см} = \square \square \text{ см}$

Работа по учебнику

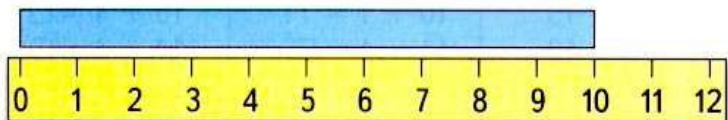


стр. 51

Дециметр

Узнаем, что есть более крупная, чем сантиметр, единица длины — **дециметр**.

$$1 \text{ дм} = 10 \text{ см}$$



1. Возьми полоску бумаги длиной 1 дм и отмерь ею 2 дм верёвки. Сколько это сантиметров?
2. Начерти отрезок длиной 12 см. Сколько это дециметров и сантиметров?

3. У Вити



У Коли на 2 рыбки больше. Сколько рыбок у Коли?

У Вити



У Кати на 2 рыбки меньше. Сколько рыбок у Кати?

4.

Уменьши на 1:

16	11	13	20
----	----	----	----

Увеличь на 1:


19	18	14	17
----	----	----	----

5. $3 + 5$ $8 - 6$ $10 - 7$ $2 + 5 + 3$
 $9 - 6$ $4 + 4$ $10 - 8$ $9 - 9 + 1$

Измерь длину и ширину обложки учебника в сантиметрах. Сколько это дециметров и сантиметров?



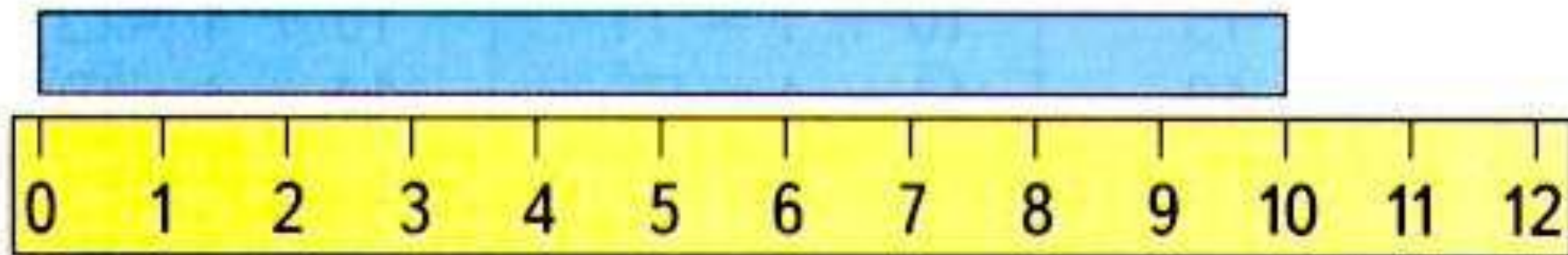
СКОЛЬКО
ТРЕУГОЛЬ-
НИКОВ?
СКОЛЬКО
ЧЕТЫРЁХ-
УГОЛЬНИКОВ?



Дециметр

Узнаем, что есть более крупная, чем сантиметр, единица длины — **дециметр**.

$$1 \text{ дм} = 10 \text{ см}$$



2. Начерти отрезок длиной 12 см. Сколько это дециметров и сантиметров?

Домашнее задание: рабочая тетрадь

стр. 25

1 Поставь на лучах точки, чтобы получить отрезки длиной 1 дм и 1 дм 2 см.



2

14	18	10	19
<input type="text"/>	<input type="text"/>	<input type="text"/>	<input type="text"/>

На 1 больше:

3

В букете было 5 гвоздик, а потом распустилось ещё 3 цветка. Сколько стало цветков?

Ответ:

4

12 см = дм см 1 дм 3 см = см

5

20	11	15	17
<input type="text"/>	<input type="text"/>	<input type="text"/>	<input type="text"/>

На 1 меньше:

6

В первое ведро входит 5 л воды, а во второе — на 1 л меньше. Сколько литров воды входит во второе ведро?

Ответ:

Сколько литров воды входит в эти два ведра?

Ответ:

7

20, 19, , , 16, , , 13, , , .

Задания на смекалку



Повторение



Переведите в дм и см.



15 см =

14 см =

11 см =

19 см =

18 см =

Рефлексия

С какой новой единицей измерения длины познакомились?
А чему она равна?

Оцените свою работу на уроке
«!»- молодец, выполнил всё верно.
«+» – хорошо, ошибся совсем
немного.
«-» с заданием пока не справился.

