

# Случай вычитания

12 –

стр. 83


Урок № 117



*Школа России*  
*Математика 1 класс*



# Новый материал

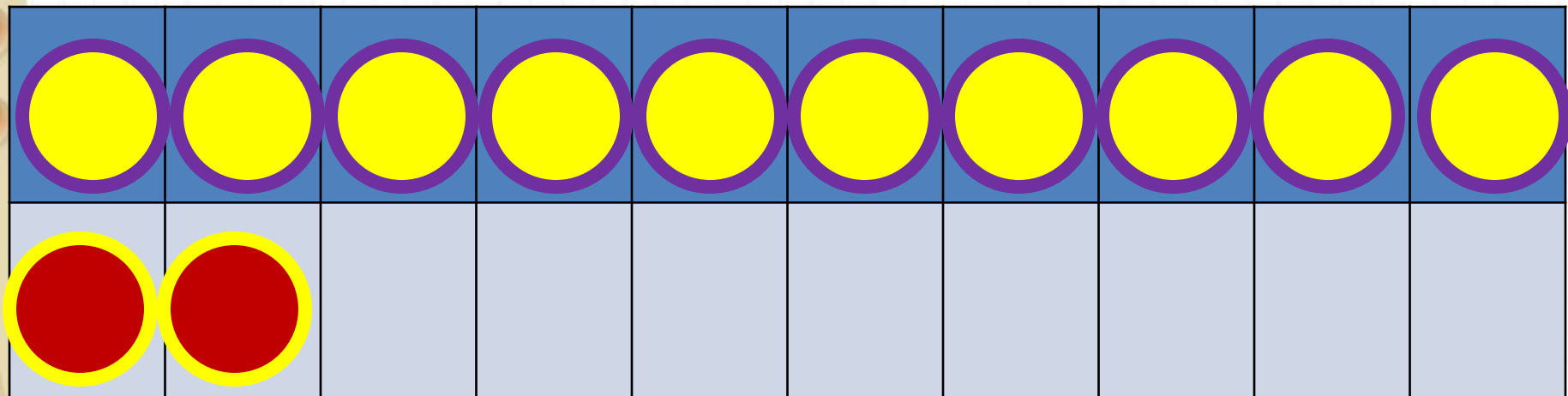


# Состав числа 12



	9	8	7	6
12	3	4	5	6

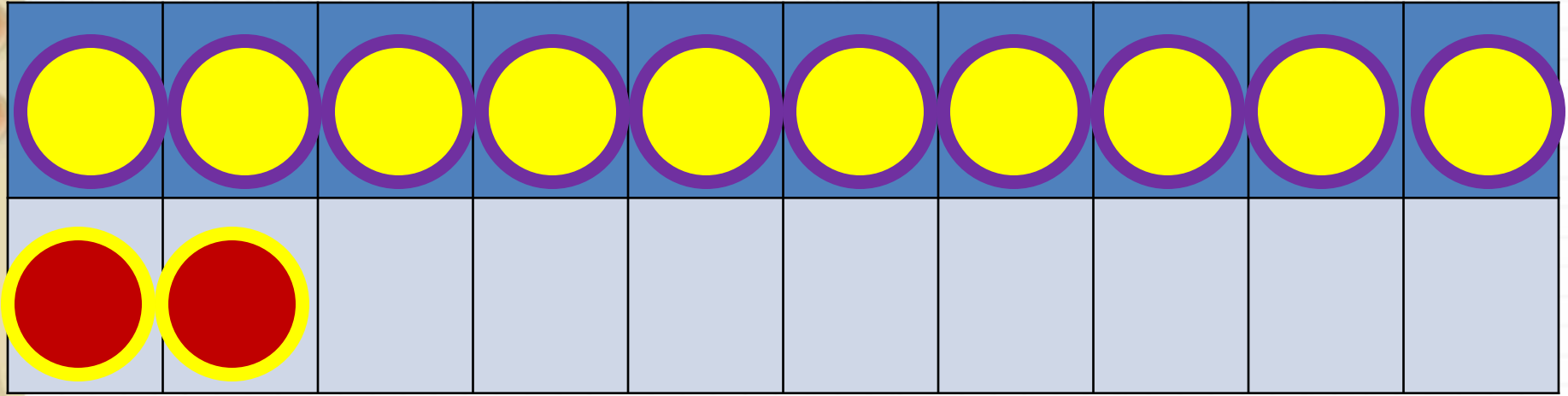
1 способ



**2 способ**

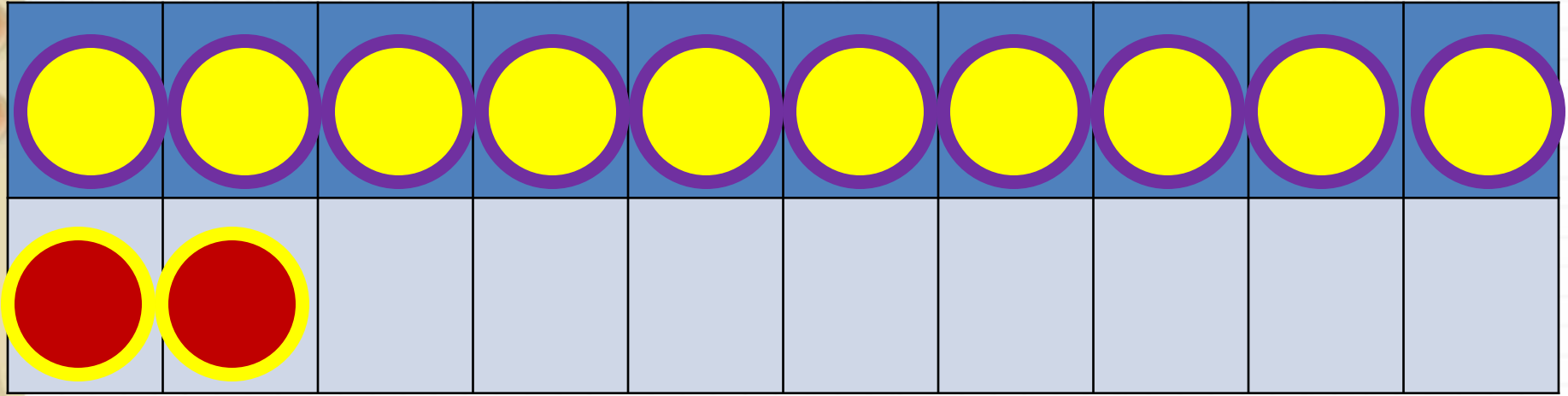
$$12 - 3$$

$$12 - 2 - 1$$



$$12 - 4$$

$$12 - 2 - 2$$

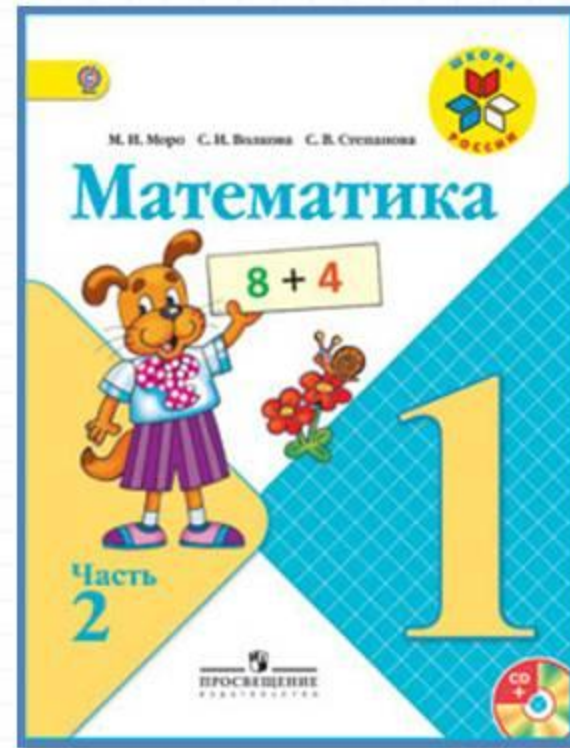



$$12 - 5$$

$$12 - 2 - 3$$



# Работа по учебнику



стр. 83

Объясни, как из числа 12 вычесть 4.

12
3
4
5
6



$$\begin{array}{r} 12 - 4 \\ 12 - 2 - 2 \end{array}$$

Вычисли и запомни.

12 - 3	12 - 4	12 - 5	12 - 6
12 - 9	12 - 8	12 - 7	

1.  $7 = 2 + \square$        $6 = 2 + \square$        $8 = 2 + \square$

2. Объясни разные способы решения.

$$\begin{array}{r} 12 - 6 = 6 \\ \swarrow \searrow \\ 2 \quad 4 \end{array} \qquad \begin{array}{r} 12 - 9 = 3 \\ \swarrow \searrow \\ 9 \quad 3 \end{array}$$

3.  $12 - 2 - 3$        $13 - 3 - 5$        $8 + 7 - 10$   
 $12 - 2 - 7$        $13 - 3 - 6$        $6 + 8 - 10$

4. Володе подарили два диска с играми. На одном диске 4 игры, а на другом — на 2 игры больше. Сколько всего игр на этих дисках?

5. На кассете 6 мультфильмов. Вчера дети посмотрели 3 из них, а остальные сегодня.

Поставь вопрос и реши задачу.

6. 1) Найди число, которое на 2 меньше, чем число 9; 10; 12; 2.  
2) Найди число, которое на 3 больше, чем число 6; 9; 10; 0.

7. Коля выше Пети, но ниже Васи. Кто из них самый высокий? Кто из них ниже всех?

$12 - 5 = \square$

$12 - 8 = \square$

$12 - 3 = \square$

$12 - \square$

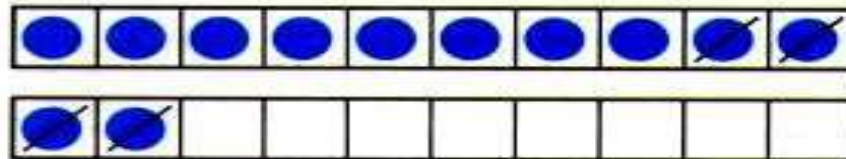




# В учебнике на стр.82 выполни упр.1 и 2 - устно

Объясни, как из числа 12 вычесть 4.

12	
3	
4	
5	
6	



$$\begin{array}{r} 12 - 4 \\ \hline 12 - 2 - 2 \end{array}$$

Вычисли и запомни.

$12 - 3$	$12 - 4$	$12 - 5$	$12 - 6$
$12 - 9$	$12 - 8$	$12 - 7$	

1.  $7 = 2 + \square$        $6 = 2 + \square$        $8 = 2 + \square$

2. Объясни разные способы решения.

$$12 - 6 = 6$$

2 4

$$12 - 9 = 3$$

9 3

# В учебнике на стр.83 выполни упр.6 - устно

6. 1) Найди число, которое на 2 меньше, чем число 9; 10; 12; 2.

2) Найди число, которое на 3 больше, чем число 6; 9; 10; 0.

7. Коля выше Пети, но ниже Васи. Кто из них самый высокий? Кто из них ниже всех?

---


$$12 - 5 = \square$$

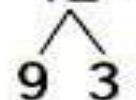
$$12 - 8 = \square$$

$$12 - 3 = \square$$

# В учебнике на стр.83 выполни упр.3 и 4 - письменно

2. Объясни разные способы решения.

$$12 - 6 = 6$$


$$12 - 9 = 3$$


3.  $12 - 2 - 3$   
 $12 - 2 - 7$

$13 - 3 - 5$   
 $13 - 3 - 6$

$8 + 7 - 10$   
 $6 + 8 - 10$

4. Володе подарили два диска с играми. На одном диске 4 игры, а на другом — на 2 игры больше. Сколько всего игр на этих дисках?

5. На кассете 6 мультфильмов. Вчера дети посмотрели 3 из них, а остальные сегодня.

Поставь вопрос и реши задачу.

**12 мая.**

**Класная работа.**





# Работа в тетради

стр. 42







1	8	4 = 12	5	2 = 7	10	2 = 8
⊕	11	3 = 8	9	3 = 6	12	5 = 7
	10	4 = 6	7	6 = 13	13	3 = 10

- 2 На полке было 8 кукол и 11 колясок. Сколько кукол надо ещё поставить на полку, чтобы кукол и колясок стало поровну?

Ответ:



**Письменные задания  
выполненные на уроке  
сфотографируй и вышли в группу  
фото в WHATSAPP**



# Рефлексия

С какими вычислительными приёмами мы познакомились сегодня на уроке?  
Кто запомнил таблицу вычитания из числа 12?

Мне удалось на уроке...

Мне понравилось...

Я порадовался за...

Я могу похвалить себя за...

С каким настроением заканчиваем урок?



