

**Случаи
вычитания 11-**

УСТНЫЙ СЧЁТ



Запиши ответы в тетрадь.



A flower-shaped diagram with a central stem and two leaves. The stem consists of two orange circles with red borders, containing a blue plus sign (+) and a blue minus sign (-). The leaves are blue-outlined shapes containing red numbers. The petals are blue-outlined shapes containing red numbers. The numbers are arranged as follows:

- Top row: 1, 8, 9
- Middle row: 5, 1, +, -, 12
- Bottom row: 1, 7, 6
- Bottom-most: 1



В ящике **15** кг яблок, а в корзине на **10** кг меньше.
Сколько кг яблок в корзине?

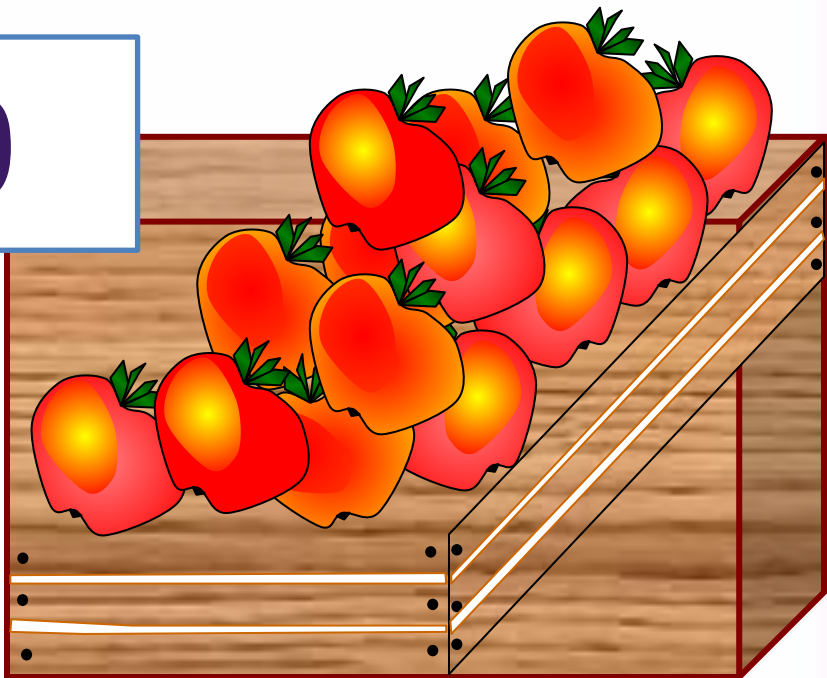

5

$$15 - 10 = 5$$


КГ Сколько всего кг яблок в ящике и корзине
вместе?



$$15 + 5 = 20$$



После того как Петя решил **6** примеров, ему осталось решить **9**. Сколько примеров нужно решить Пете ?




15

$$9 + 6 = 15$$

3 девочки нарисовали двух кошек и зайца. Что рисовала Ася, если Катя с Асей и Лена с Асей рисовали разное?



**Ася -
зайца.**



Объясни, как из числа 11 вычесть 4.

▶

11	
2	
3	
4	
5	



$$\begin{array}{r} 11 - 4 \\ \hline 11 - 1 - 3 \end{array}$$

Вычисли и запомни.

$11 - 2$	$11 - 3$	$11 - 4$	$11 - 5$
$11 - 9$	$11 - 8$	$11 - 7$	$11 - 6$

НОВЫЙ МАТЕРИАЛ

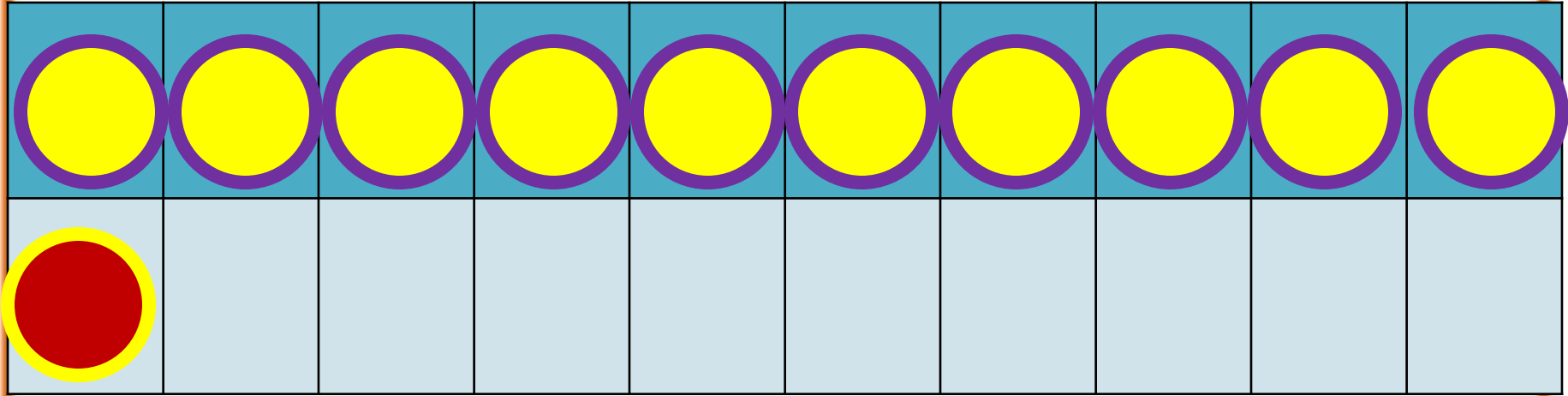


Состав числа

11

	9	8	7	6
11	2	3	4	5

1



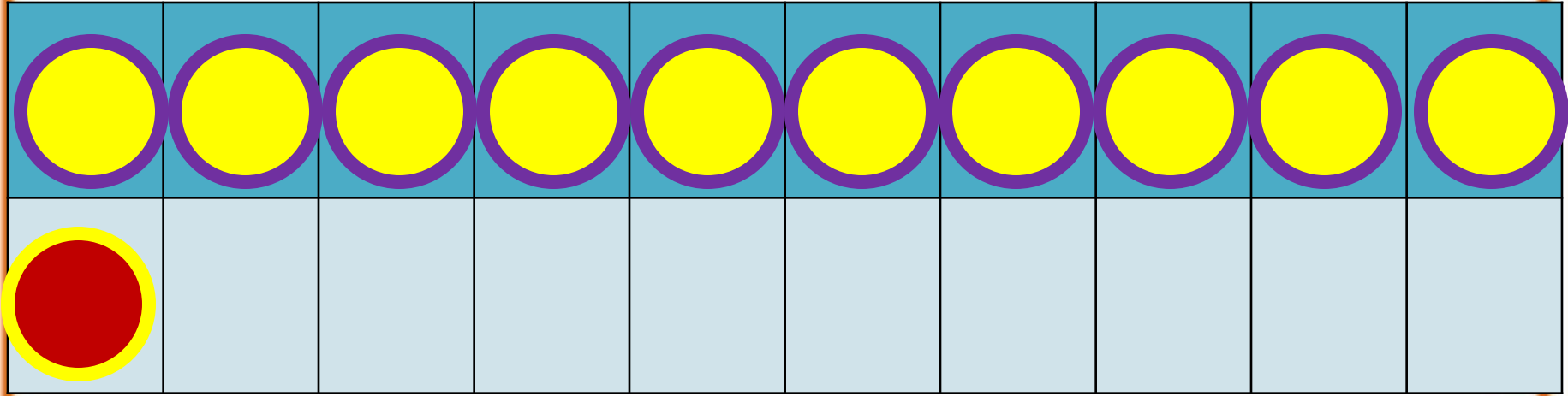
2



способ

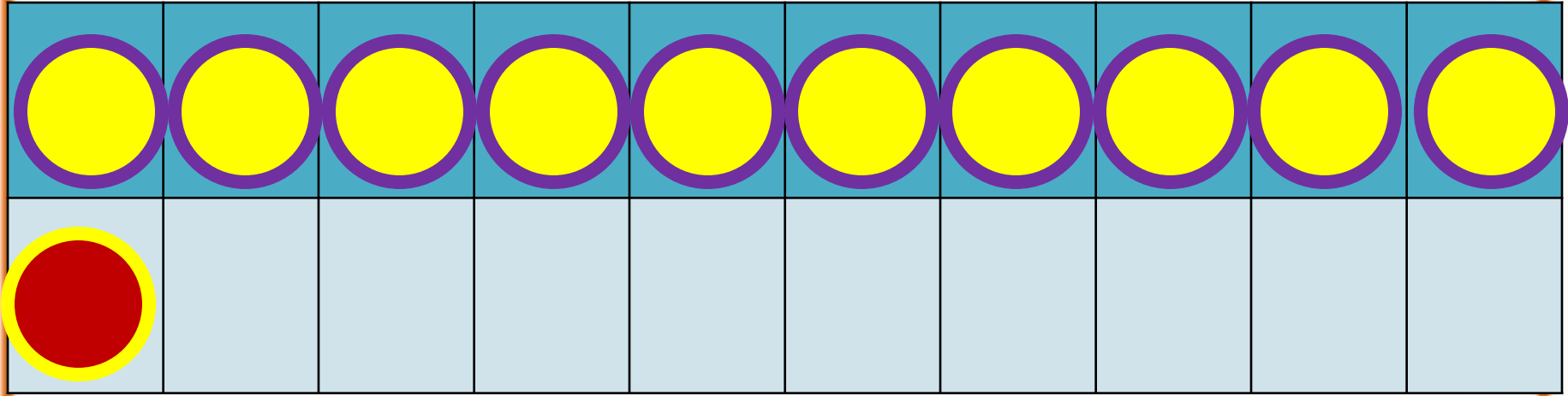
$$11 - 2$$

$$11 - 1 - 1$$



$$11 - 3$$

$$11 - 1 - 2$$



$$11 - 4$$

$$11 - 1 - 3$$

Запомни!

$$11 - 2 = 9$$

$$11 - 3 = 8$$

$$11 - 4 = 7$$

$$11 - 5 = 6$$

$$11 - 6 = 5$$

$$11 - 7 = 4$$

$$11 - 8 = 3$$

$$11 - 9 = 2$$

1. Объясни разные способы решения.

$$11 - 5 = 6$$



$$11 - 5 = 6$$



2. $12 - 2 + 4$

$13 - 3 - 2$

$10 + 5 - 1$

$12 - 2 + 5$

$14 - 4 - 5$

$17 - 7 + 6$

$12 - 2 + 7$

$16 - 6 - 3$

$10 - 8 + 8$

3. Сделай рисунки к задачам и реши их.

1) Петя нарисовал 6 больших квадратов и 4 маленьких. Он раскрасил 7 квадратов. Сколько квадратов осталось нераскрашенными?

2) Саша принёс 6 морковок, а Оля — 4. Они отдали кроликам 8 морковок. Сколько морковок осталось?

4. Ребята посадили по 10 горошин. У Коли не дали ростки 3 горошины, а у Миши — 4. Сколько горошин дали ростки у каждого из этих мальчиков?

5. Из коробки взяли 6 кубиков. Сколько кубиков надо положить в коробку, чтобы в ней стало на 3 кубика больше, чем было сначала?

▶ $11 - 7 = \square$

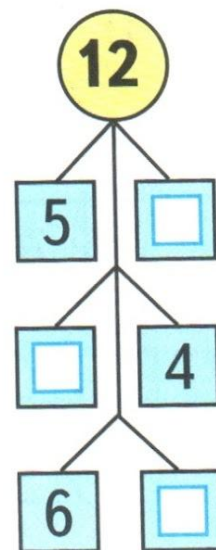
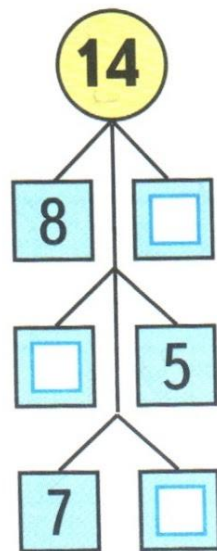
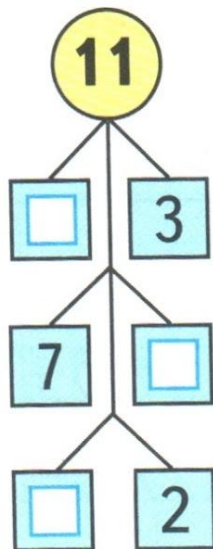
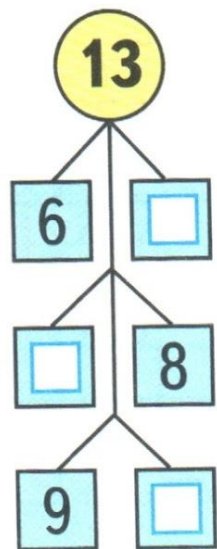
$11 - 3 = \square$

$11 - 6 = \square$

$$11 - \square$$

$$12 - \square$$

1





2

Дима сделал 7 маленьких лодочек, а больших на 2 лодочки меньше, чем маленьких. Сколько всего лодочек сделал Дима?

Ответ:

ЗАДАНИЯ НА СМЕКАЛКУ



Стр. 42 (1и2)

Стоит в поле дуб. На дубе **три** ветки, на каждой ветке по **три** яблока. Сколько всего яблок?



**На дубе яблоки
не растут.**





Ты пилот самолета, летящего из Парижа в Москву с посадкой в Киеве. Время в полете - 2 часа. Сколько лет пилоту?



А сколько тебе?

Какого цвета стоп-кран в поезде и в самолете?



**В самолете нет
стоп-крана.**

КОНЕЦ