

# Решение задач с величинами: цена, количество, стоимость



# Нахождение стоимости

	Цена	Количество	Стоимость
	3 р.	2 шт.	? р.
	2 р.	5 шт.	? р.
	4 р.	2 шт.	? р.



# Нахождение количества

	Цена	Количество	Стоимость
	3 р.	? шт.	6 р.
	2 р.	? шт.	10 р.
	4 р.	? шт.	8 р.





# Нахождение цены

	Цена :	Количество :	Стоимость •
	? р.	2 шт.	6 р.
	? р.	5 шт.	10 р.
	? р.	2 шт.	8 р.



# Нахождение цены, количества, стоимости

	Цена :	Количество :	Стоимость •
	6 р.	2 шт.	? р.
	10 р.	? шт.	30 р.
	? р.	4 шт.	8 р.



# Нахождение цены, количества, стоимости

	Цена :	Количество :	Стоимость •
	3 р.	5 шт.	? р.
	4 р.	? шт.	12 р.
	? р.	3 шт.	18 р.




# Нахождение цены, количества, стоимости

	Цена :	Количество :	Стоимость •
	8 р.	3 шт.	? р.
	6 р.	? шт.	18 р.
	? р.	3 шт.	30 р.



# Нахождение цены, количества, стоимости


	Цена :	Количество :	Стоимость •
	7 р.	3 шт.	? р.
	6 р.	? шт.	12 р.
	? р.	4 шт.	40 р.






# Нахождение цены, количества, стоимости

	Цена :	Количество :	Стоимость •
	3 р.	8 шт.	? р.
	4 р.	? шт.	16 р.
	? р.	10 шт.	20 р.



# Нахождение цены, количества, стоимости

	Цена :	Количество :	Стоимость •
	9 р.	2 шт.	? р.
	7 р.	? шт.	70 р.
	? р.	4 шт.	40 р.




# Нахождение цены, количества, стоимости

	Цена :	Количество :	Стоимость •
	7 р.	4 шт.	? р.
	3 р.	? шт.	18 р.
	? р.	5 шт.	50 р.




## Решить задачу

Одна наклейка стоит 5 рублей.  
Сколько стоят 3 таких наклейки?

	Цена	Количество	Стоимость
	5 р.	3 шт.	? р.

$$5 \cdot 3 = 15 \text{ (р.)}$$

Ответ: 15 рублей стоят наклейки.



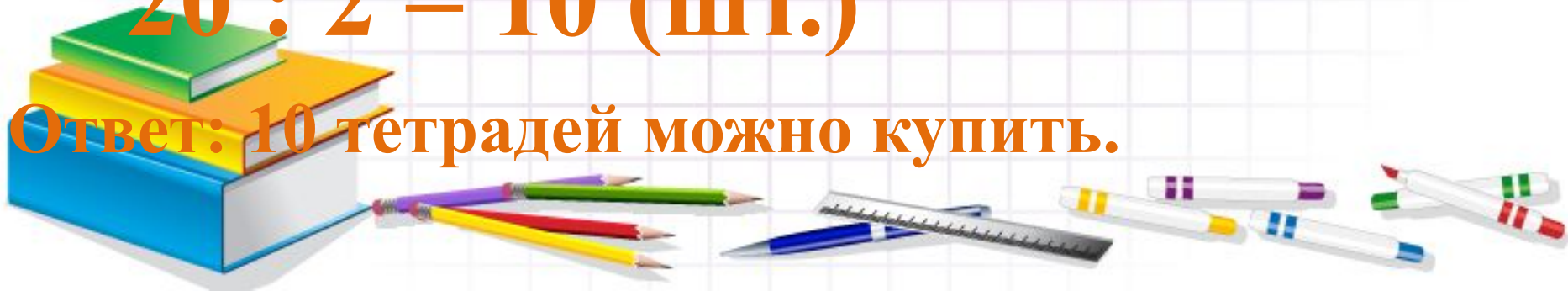
## Решить задачу

Одна тетрадь стоит 2 рубля.  
Сколько таких тетрадей можно купить  
на 20 рублей?

	Цена	Количество	Стоимость
	2 р.	? шт.	20 р.


$$20 : 2 = 10 \text{ (шт.)}$$

Ответ: 10 тетрадей можно купить.



# Решить задачу

Одна свеча стоит 3 рубля. Сколько стоят 8 таких свечей?

	Цена	Количество	Стоимость
	3 р.	8 шт.	? р.

$$3 \cdot 8 = 24 \text{ (р.)}$$

Ответ: 24 рубля стоят свечи.

