

ДОМАШНЯЯ РАБОТА.

Площадь и периметр
прямоугольника.

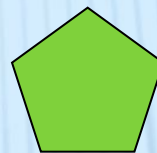
РАСПУТАЙТЕ КЛУБОК



+



=



x

4

=




18

x

7

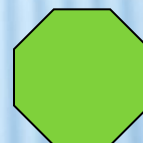
=



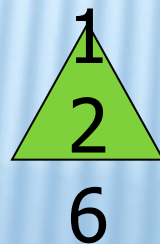
-

59

=



+

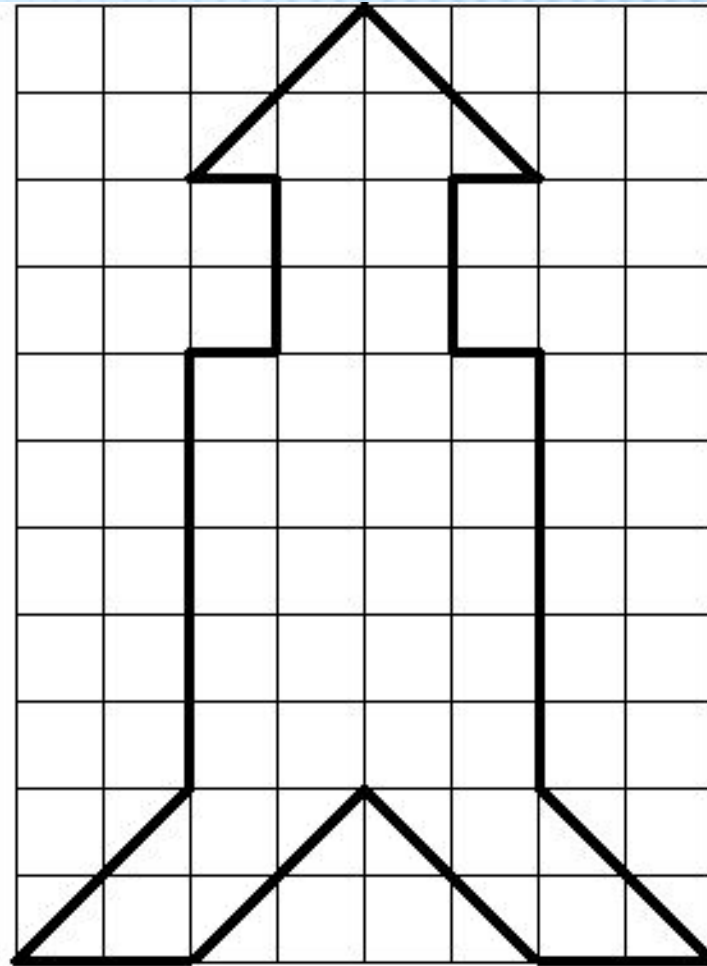
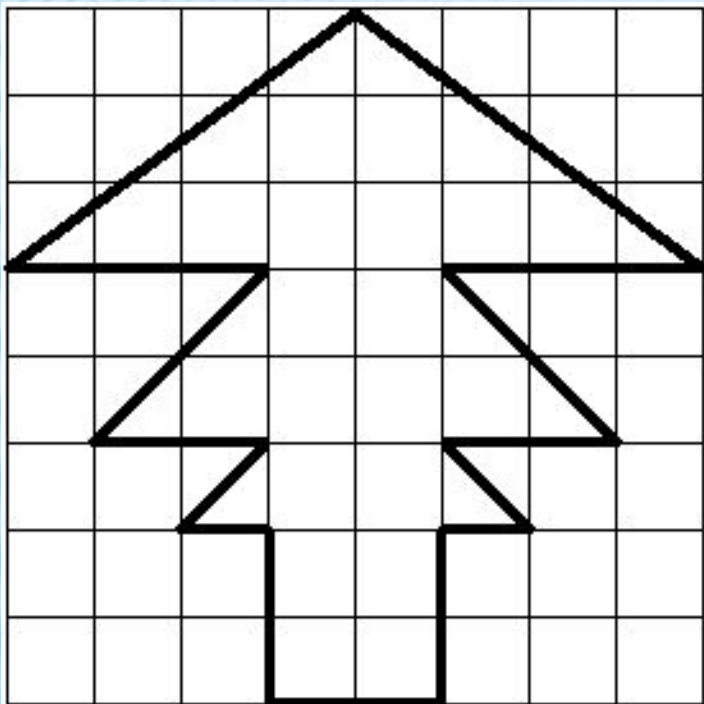


=

ВЫЧИСЛИ НЕДОСТАЮЩУЮ ВЕЛИЧИНУ

длина	12 см	3 дм	15 см	
ширина	5 см			8 см
периметр		72 см		36 см
площадь			60 см ²	

НАЙТИ ПЛОЩАДИ ИЗОБРАЖЕННЫХ ФИГУР



ИССЛЕДОВАТЕЛЬСКАЯ РАБОТА ПО ТЕМЕ: «СРАВНЕНИЕ ФИГУР, ИХ ПЕРИМЕТРОВ И ПЛОЩАДЕЙ»

