

НАЗВАННЯ ЧИСЕЛ ДО ДВАДЦАТИ

Устный счёт

1. Прочитать числа.

2. Что Вы можете сказать о ряде чисел?

2 4 6 8 10 12 14 16 18 20

**Переставить суммы слагаемых
Найдите значения сумм**

$$12 + 2$$

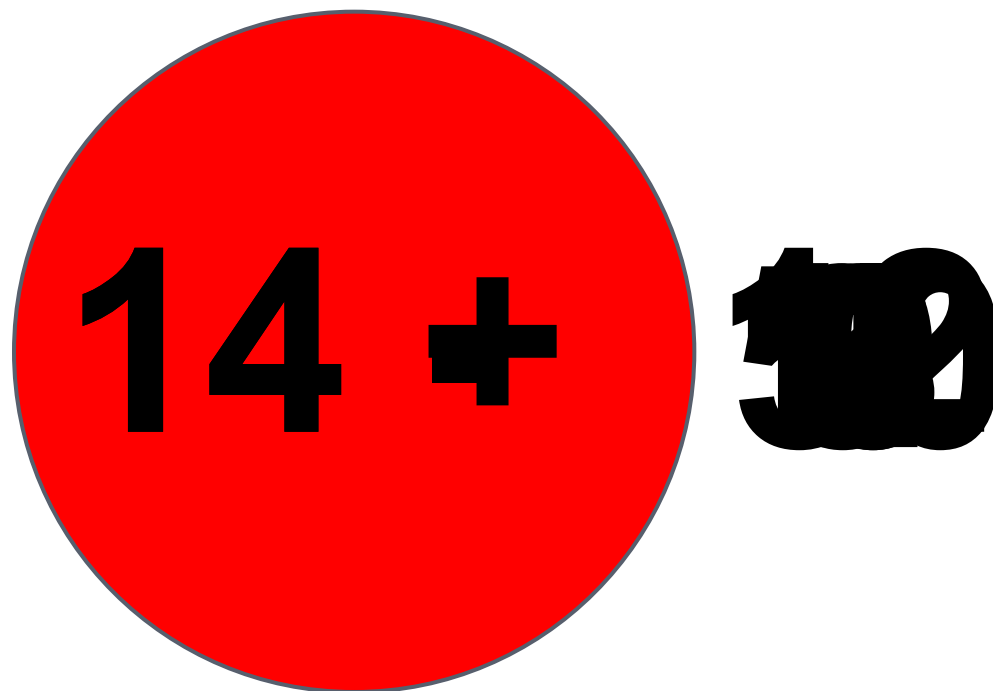
$$15 + 2$$

$$11 + 2$$

$$13 + 2$$

$$16 + 2$$

Игра «Светофор»



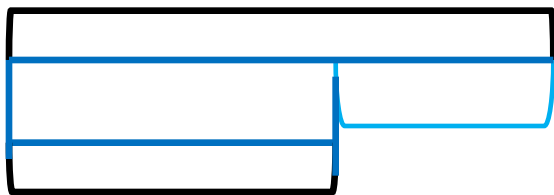
Игра «День-ночь»

$$12+7-9-8+5-3-4+6+10-5=11$$

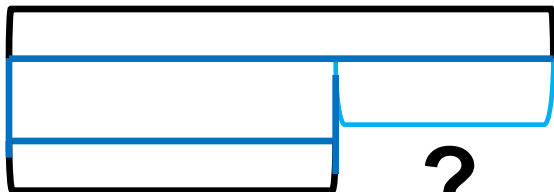
Подберите схему и решите

задачу

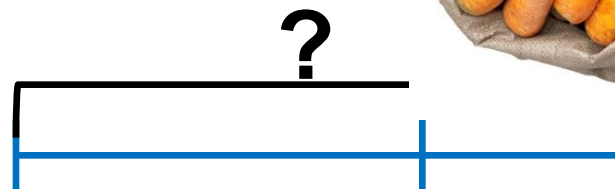
На склад привезли 17 мешков картофеля, а моркови на 7 мешков меньше. Сколько мешков моркови привезли на склад?



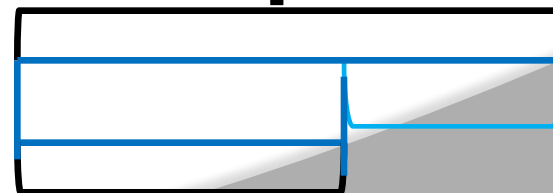
?



?



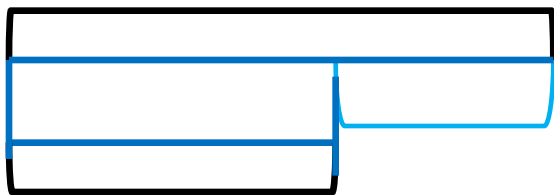
?



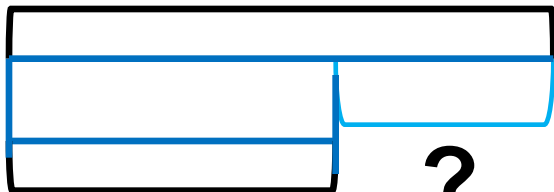
Подберите схему и решите

задачу

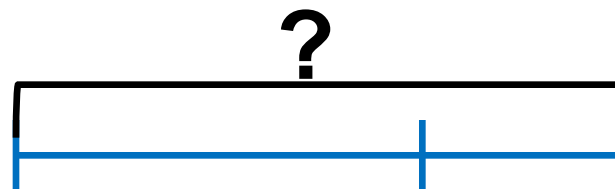
*В парке посадили 15 лип. Это на 3
дерева меньше. Чем рябин. Сколько
посадили рябин?*



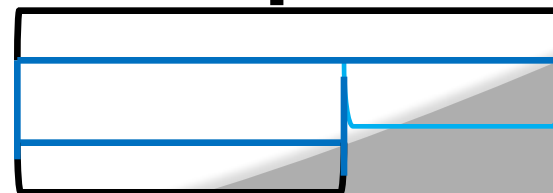
?



?



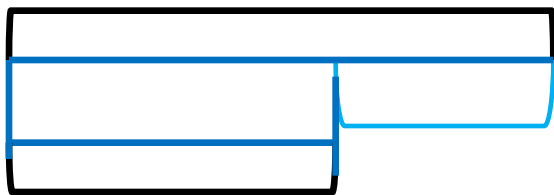
?



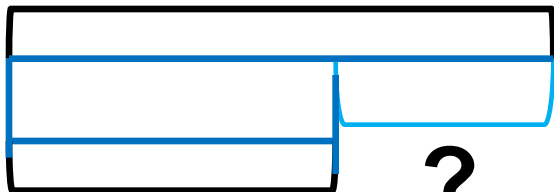
Подберите схему и решите

задачу

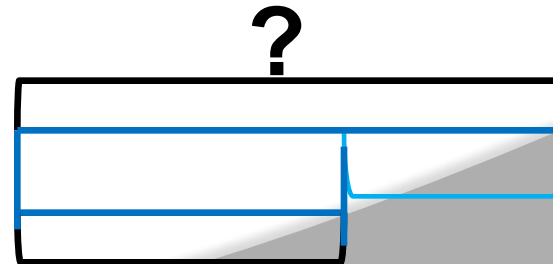
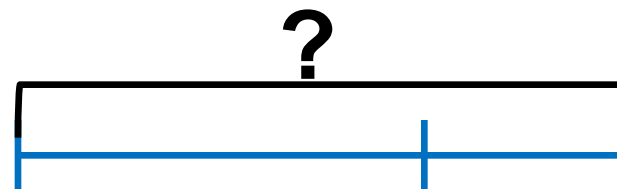
*С первого куста сняли 16 помидор
а со второго – 12. На сколько
помидоров меньше сняли со вто-
рого куста, чем с первого?*



?



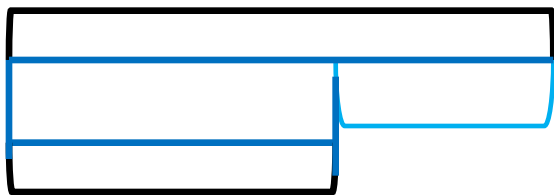

?



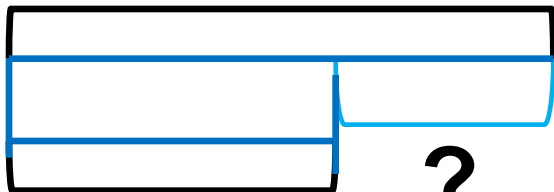
Подберите схему и решите

задачу

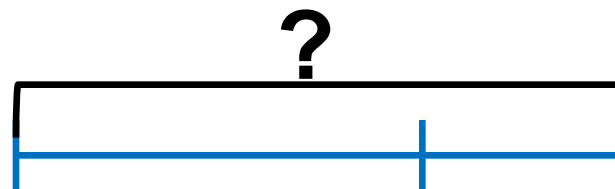
Миша поймал несколько рыбок. Когда мама взяла на уху 6 рыбок, у него осталось 10 рыбок. Сколько рыбок поймал Миша?



?



?



?

