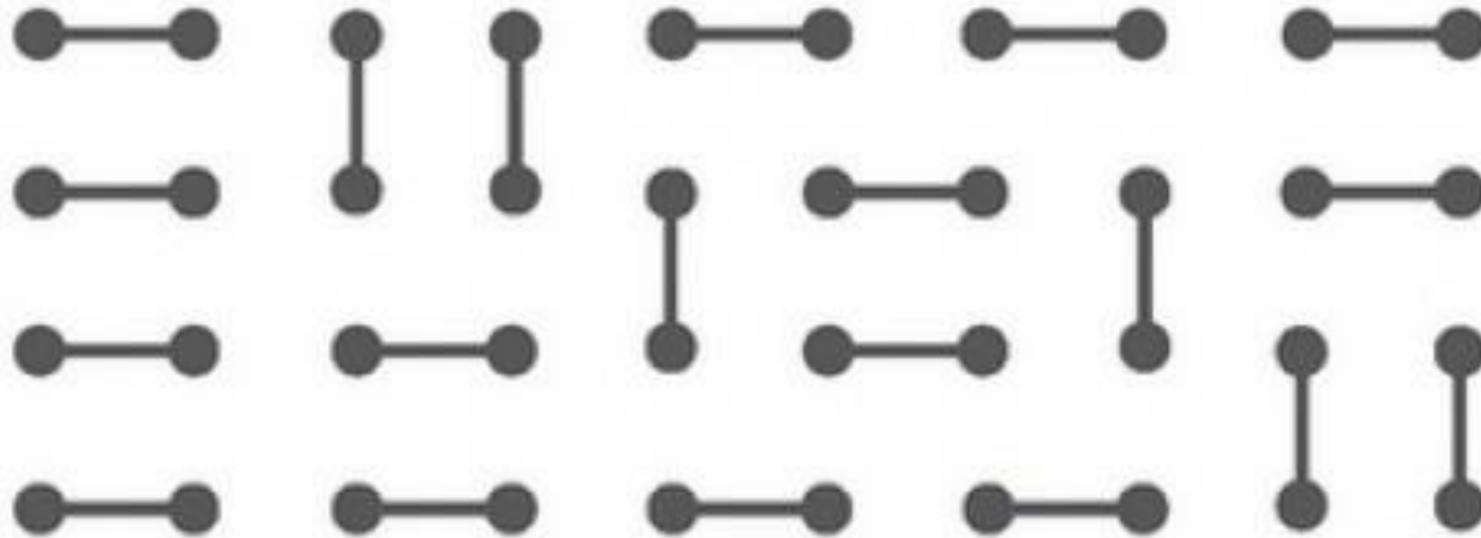



**«Тренировка памяти и внимания»**

Запоминайте в течение минуты  
расположение точек и линий



Добавьте недостающие линии в нижних  
четырех строках.



# Запоминайте в течение минуты

0

*яйцо*

1

*свеча*

2

*утка*

3

*птица*

4

*парусник*

5

*детская  
горка*

6

*змея*

7

*овраг*

8

*снеговик*

9

*воздушный  
шарик*

# Ответьте на вопросы:

- 1. Какая цифра соответствует снеговика?
- 2. Какие цифры соответствуют оврагу и свече?
- 3. Какие цифры соответствуют паруснику, яйцу и змее?
- 4. Какие цифры соответствуют воздушному шару, птице, детской горке и утке?

# Запоминайте в течение необходимого вам времени список покупок.

- ◆ дистиллированная вода
- ◆ бумажные полотенца для кухни
- ◆ хозяйственное мыло мандарины
- ◆ 1 булка
- ◆ макароны для супа
- ◆ 4 куриные грудки

# Скажите, какой из представленных внизу списков — правильный.

А

- ◆ дистиллированная вода
- ◆ 4 йогурта
- макароны для супа
- ◆ бумажные полотенца для кухни
- ◆ хозяйственное мыло
- ◆ фрукты
- ◆ 1 булка

Б

- ◆ макароны для супа
- ◆ мандарины
- ◆ дистиллированная вода
- ◆ хозяйственное мыло
- ◆ 1 булка
- ◆ 4 куриные грудки
- ◆ бумажные полотенца для кухни

Изучите два списка слов. В правой колонке находятся анаграммы к словам из левой.

Рифма

Фирма

Полет

Тепло

Загон

Газон

Мария

Армия

Салат

Атлас

Гроза

Розга

Вилка

Валик



Посмотрите на колонки, которые  
расположены ниже, и назовите слова,  
которых не хватает.

Рифма

Фирма

Полет

.....

Загон

Газон

Мария

.....

Салат

Атлас

Гроза

Розга

Вилка

.....

Запоминайте одежду, предметы и имена этих четырех девочек в течение полутора минут.



*Мария*



*Бибиана*



*Мерседес*




*Хуана*

# Ответьте на вопросы:

- 1. У кого на голове синие бантики — у Марии или Бибианы?
- 2. Как зовут девочку в синих сапогах?
- 3. У кого из девочек челка и костюм в горошек?
- 4. У кого из девочек есть котенок — у Хуаны или Бибианы?

Изучайте рисунки в квадратах столько времени, сколько необходимо.



# Ответьте на вопросы:

- 1. Сколько цветков с тремя лепестками изображено на рисунке?
- 2. Сколько черных цветков изображено на рисунке?
- 3. Сколько на рисунке цветков, у которых есть только пять лепестков, но отсутствуют любого рода дополнительные элементы?

***Спасибо за  
внимание!***