


# МАТЕМАТИКА

## 3 класс




С малой  
удачи  
начинается  
большой  
успех.





# УСТНЫЙ СЧЁТ

## Табличное умножение и деление



Увеличь в 10 раз:

1 см  $\longrightarrow$   $1 \text{ см} \cdot 10 = 10 \text{ см}$

8 см  $\longrightarrow$   $8 \text{ см} \cdot 10 = 80 \text{ см}$

10 см  $\longrightarrow$   $10 \text{ см} \cdot 10 = 100 \text{ см}$





Увеличь в 10 раз:

1 дм  $\longrightarrow$  10 дм

5 дм  $\longrightarrow$  50 дм


17 дм  $\longrightarrow$  170 дм



У Незнайки и Пончика возник спор, что больше:

1. Одна третья часть суток или 9 часов;
2. Одна четвёртая часть года или 4 месяца?





- Длина – 9 м
- Ширина – 7м
- Площадь - ?
- Периметр - ?



# Вычисли

7

• 10  
→

70

3

• 10  
→

30

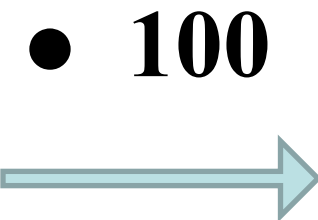
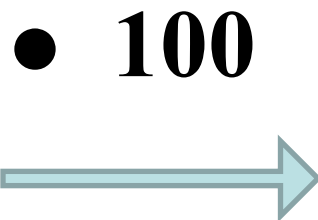

1

• 10  
→

10



# Вычисли



# Проверь себя

$$100 * 7 = 700$$

$$3 * 10 = 30$$

$$5 * 100 = 500$$


$$100 * 8 = 800$$


$$100 * 2 = 200$$


$$4 * 100 = 400$$

Зарядка для глаз











# Вычисли

700

: 10



70

50

: 10



5

100

: 10



10

# Вычисли

400

: 100



4

200

: 100



2

8000

: 100



80

# Проверь себя

$$30:10=3$$

$$50:10=5$$

$$300:10=30$$

$$500:10=50$$

$$300:100=3$$

$$500:100=5$$



# Задача



Гусь весит 10 кг, а утка 4 кг

Что тяжелее:

10 гусей или 100 уток?



A large flock of geese of various colors (white, grey, black) standing in a grassy field under a blue sky with trees in the background.
$$10 \cdot 10 = 100$$

$$100 <$$

A large group of ducks, mostly white and brown, packed together in a dark, enclosed space.
$$4 \cdot 100 = 400$$

$$400$$

**ОБЪЯСНИТЬ ПОСЛОВИЦУ**

**«Повторенье –  
мать ученья».**





