



Устный счёт

Математика 1 класс





Сосчитай

$$8 - 2 = 6$$

$$3 + 3 = 6$$

$$6 + 2 = 8$$

$$4 - 2 = 2$$

$$5 + 3 = 8$$

$$9 - 1 = 8$$





Вставь знаки «-» или


$$6 + 4 - \overset{\langle\langle - \rangle\rangle}{2} = 8$$

$$6 - 4 - 2 = 0$$

$$6 - 4 + 2 = 4$$



Разгадай ритм и продолжи



КТО ЕСТЬ КТО?



Шари

Тузи

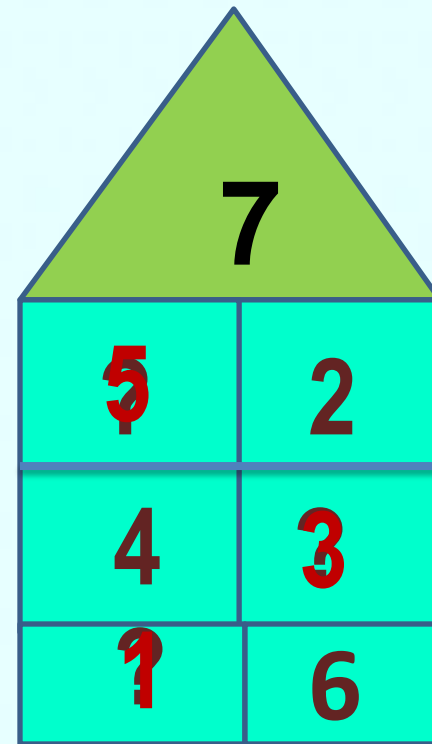
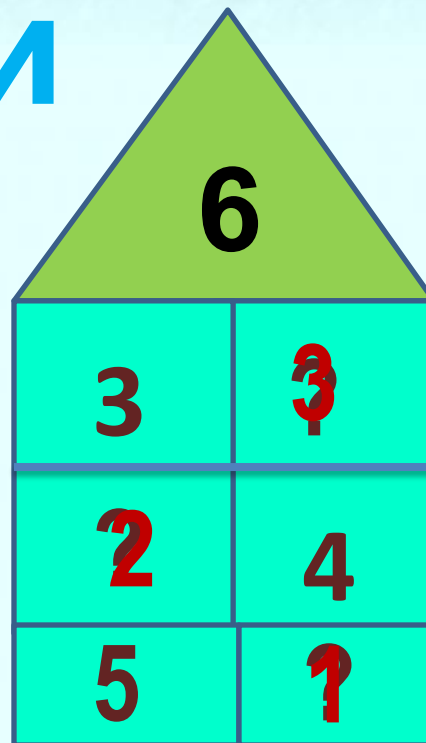
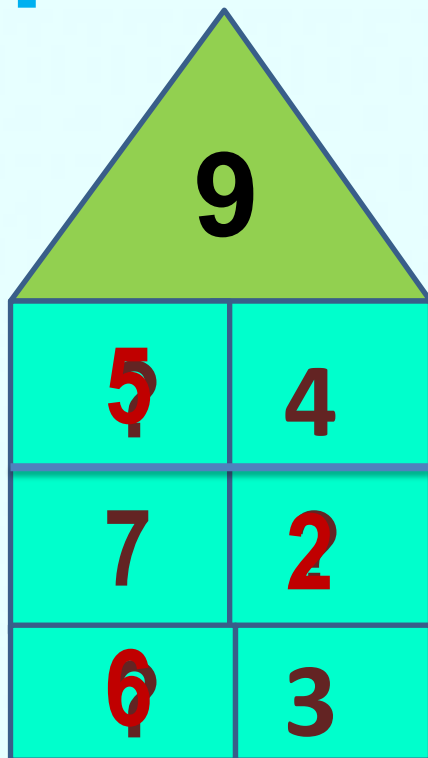
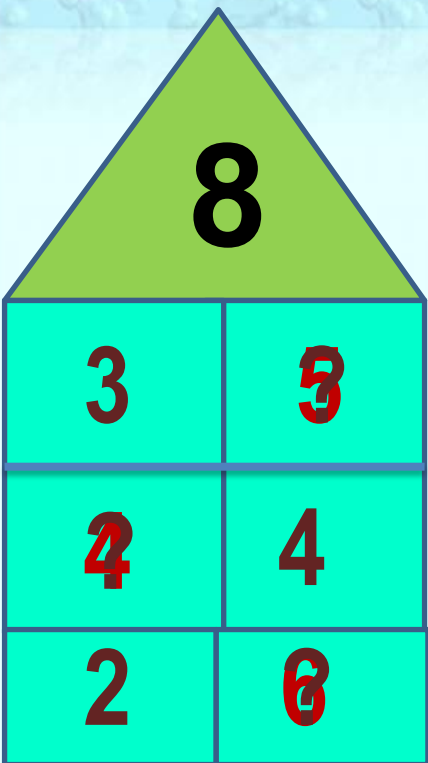
Боби

Трёх щенков назвали Бобик, Шарик и Тузик.
У Бобика длинные уши. У Шарика длинный
хвост. А Тузик сидит в середине.



«Засели»

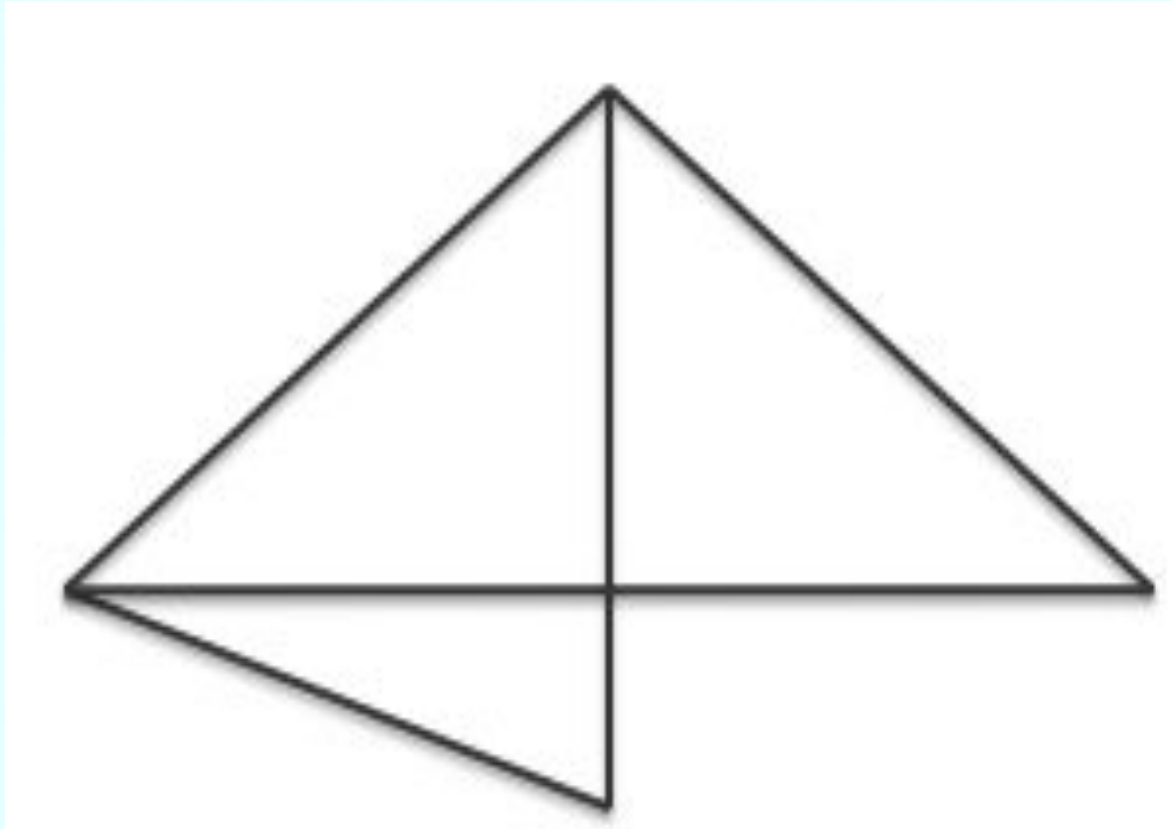
ДОМИКИ






Сколько здесь
треугольников?

5





Задача на смекалку



Лежали конфеты в кучке.

Две матери, две дочери да бабушка с внучкой взяли конфет по одной штучке, и не стало этой кучки.

Сколько конфет было в кучке?



3





Задача в стихах

Группа малышей- утят
Плавать и нырять хотят.
6 – уплыли далеко,
2 – нырнули глубоко.
Сколько же утят в пруду?
Сосчитать я не могу.





15 декабря
Классная работа

КОМПОНЕНТЫ СЛОЖЕНИЯ

ПЕРВОЕ СЛАГАЕМОЕ ВТОРОЕ СЛАГАЕМОЕ СУММА

4 + 5 = 9

СУММА



КОМПОНЕНТЫ ВЫЧИТАНИЯ

УМЕНЬШАЕМОЕ ВЫЧИТАЕМОЕ РАЗНОСТЬ

7 - 4 = 3

РАЗНОСТЬ





Диктант

- Сумма чисел 5 и 3



Диктант

- Сумма чисел 5 и 3
- Разность чисел 6 и 3



Диктант

- Сумма чисел 5 и 3
- Разность чисел 6 и 3
- Увеличь 2 на 5



Диктант

- Сумма чисел 5 и 3
- Разность чисел 6 и 3
- Увеличь 2 на 5
- Первое слагаемое 4, второе слагаемое 5



Диктант

- Сумма чисел 5 и 3
- Разность чисел 6 и 3
- Увеличь 2 на 5
- Первое слагаемое 4, второе слагаемое 5
- На сколько 5 больше, чем 3?



Диктант

- Сумма чисел 5 и 3
- Разность чисел 6 и 3
- Увеличь 2 на 5
- Первое слагаемое 4, второе слагаемое 5
- На сколько 5 больше, чем 3?
- Уменьшаемое 10, вычитаемое 3



Проверь себя!

8, 3, 7, 9, на 2, 7.



15 декабря

Классная работа

8, 3, 7, 9, на 2, 7.



Реши примеры

$$3 + 5 - 6 =$$

$$7 - 2 + 5 =$$

$$9 - 4 - 3 =$$

$$7 + 2 + 1 =$$



8, 3, 7, 9, ма 2, 7

$$\begin{array}{r} 3 + 5 - 6 = 2 \\ 8 \end{array}$$

$$\begin{array}{r} 9 - 4 - 3 = 2 \\ 5 \end{array}$$

8, 3, 7, 9, на 2, 7.

$$3 + 5 - 6 = 2$$

8

$$7 - 2 + 5 = 10$$

5

$$9 - 4 - 3 = 2$$

5

$$7 + 2 + 1 = 10$$

9



Реши уравнения

$$7 - x = 4$$

$$5 + y = 10$$



Реши уравнения

$$7 - x = 4$$

$$x = 7 - 4$$

$$\underline{x = 3}$$

$$7 - 3 = 4$$

$$4 = 4$$

$$5 + y = 10$$

$$y = 10 - 5$$

$$\underline{y = 5}$$

$$5 + 5 = 10$$

$$10 = 10$$



Задача

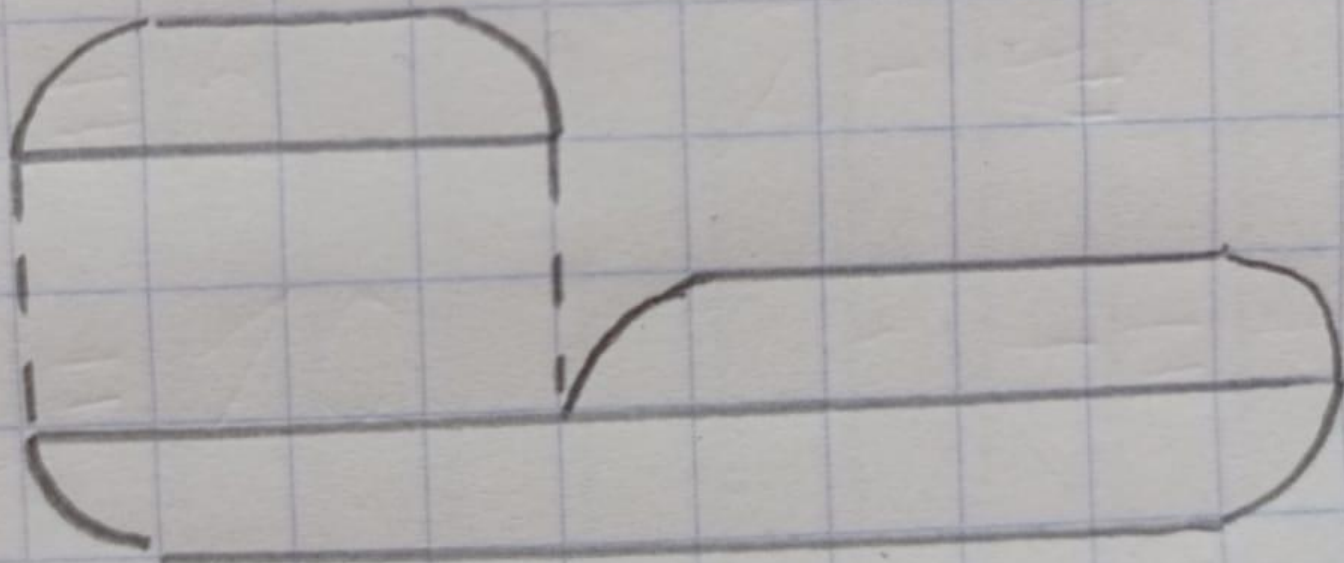
**В лыжный поход пошли
4 девочки, а мальчиков на
6 человек больше.**

**Сколько мальчиков
пошли в лыжный поход?**

Задача

Д.

М.



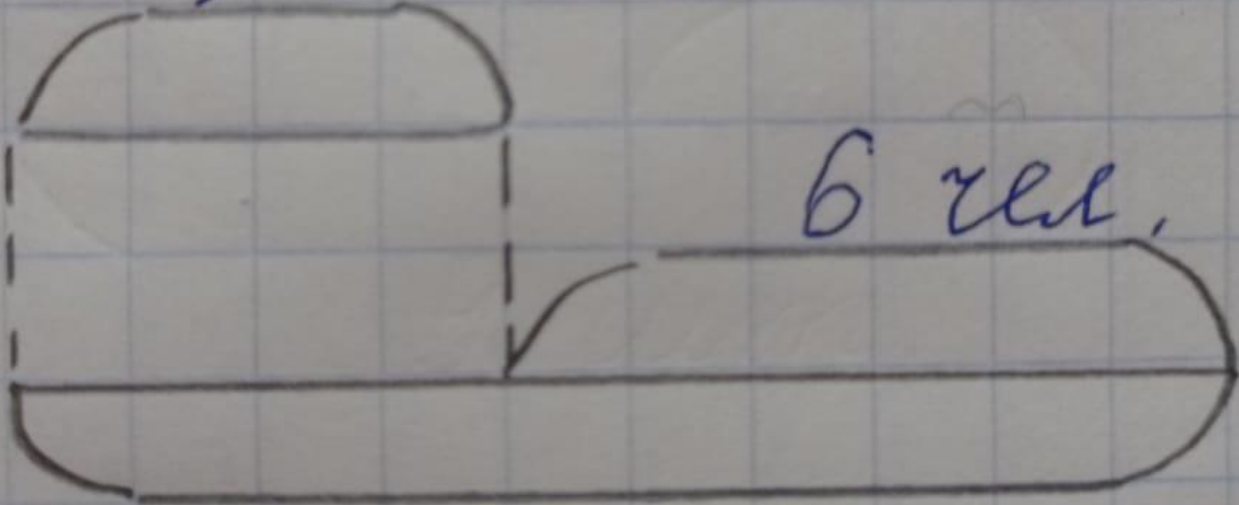
Задана

4 чел.

Д.

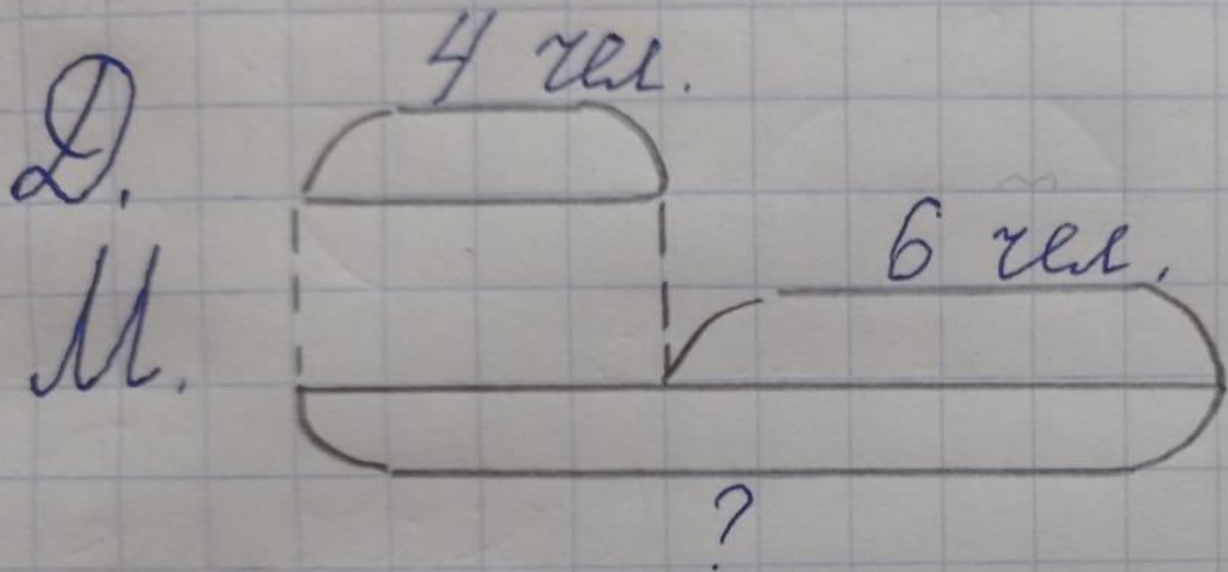
М.

6 чел.



?

Задача



Решение:

$$4 + 6 = 10 \text{ (м.)}$$

Ответ: 10 мальчиков.



**Какие числа
пропущены в
каждом ряду?**

1, 2, ●, 4, ●, ●



**Какие числа
пропущены в
каждом ряду?**

1, 2, ●, 4, ●, ●.

10, 8, ●, 4, ●.



**Какие числа
пропущены в
каждом ряду?**

1, 2, ●, 4, ●, ●.

10, 8, ●, 4, ●.

1, 3, ●, ●, 9.



Проверь себя!

1, 2, 3, 4, 5, 6.

10, 8, 6, 4, 2.

1, 3, 5, 7, 9.



**МОЛОДЦ
Ы!**