

Министерство образования и науки Российской Федерации

Федеральное государственное бюджетное образовательное учреждение
высшего профессионального образования
Санкт-Петербургский горный университет

В.В. ТОЛБАСОВ, С.В. ВАКУЛЕНКО

ОБЩАЯ ТАКТИКА

Сборник упражнений

Санкт-Петербург
2017

Общая тактика. Сборник упражнений. Санкт-Петербургский горный университет
Сост. доцент, к.т.н., полковник запаса В.В.Толбасов, подполковник запаса С.В.Вакуленко. СПб, 2017.56с.

Авторы сборника упражнений ставили своей задачей обеспечить получение знаний, формирование практических умений и привитие практических навыков студентам военной кафедры по общей тактике.

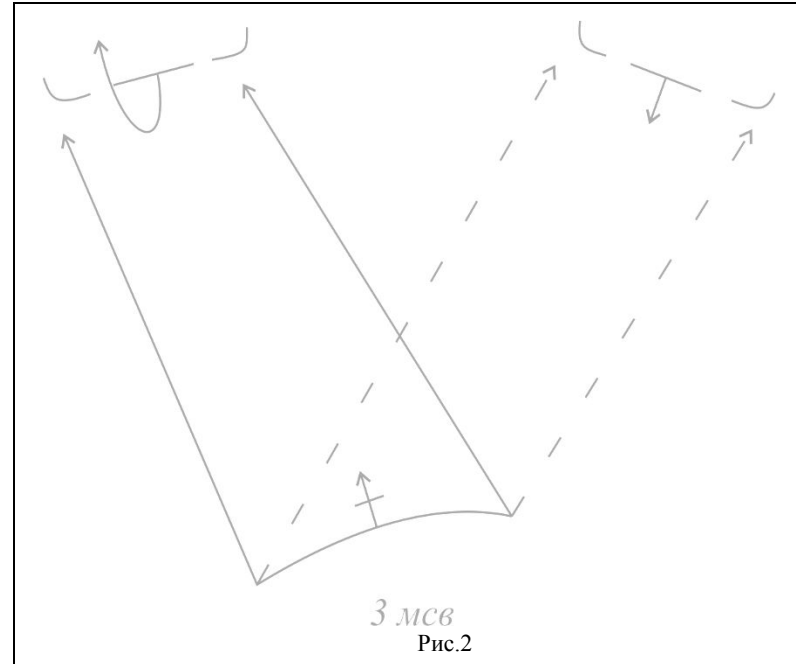
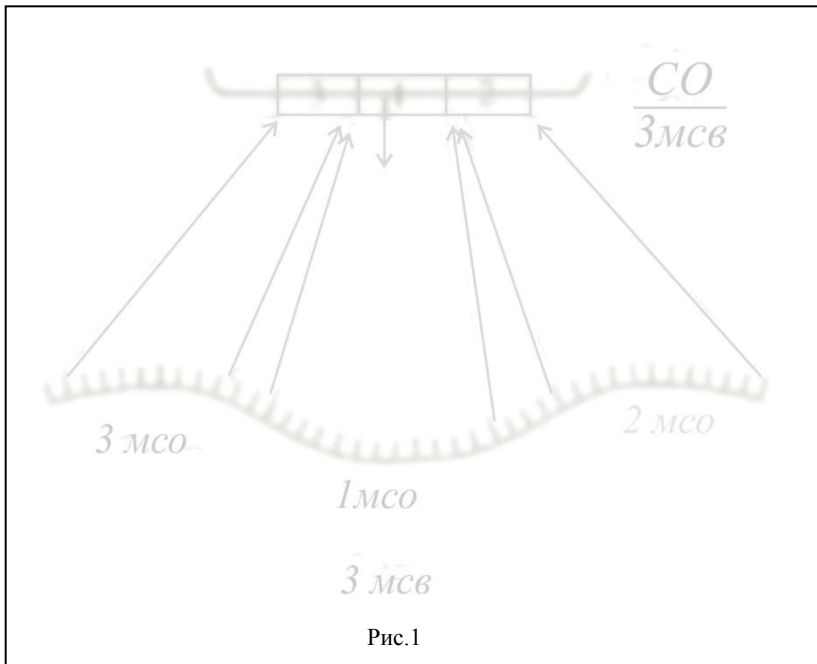
В сборнике предложен метод информационно - коммуникативных технологий, в котором заложен принцип не только научить, а создать условия для самостоятельного творческого поиска студентов.

Сборник упражнений содержит комплекс заданий для обучения, контроля и самоконтроля в соответствии с целями учебной дисциплины. В сборнике упражнений в виде заданий рассмотрены виды маневра огнем и взводом, организационная структура подразделений, частей и соединений мотострелковых и танковых войск, организация и вооружение мотострелковых и танковых подразделений, организация и вооружение мотопехотных и танковых подразделений США, ФРГ и их тактические нормативы, боевые порядки мотострелковых подразделений в обороне и наступлении, инженерное обеспечение боевых действий мотострелкового взвода в обороне, передвижение подразделений и их расположение на месте.

Содержание сборника упражнений базируется на данных открытой отечественной печати, соответствует программе обучения студентов на военных кафедрах при гражданских ВУЗах.

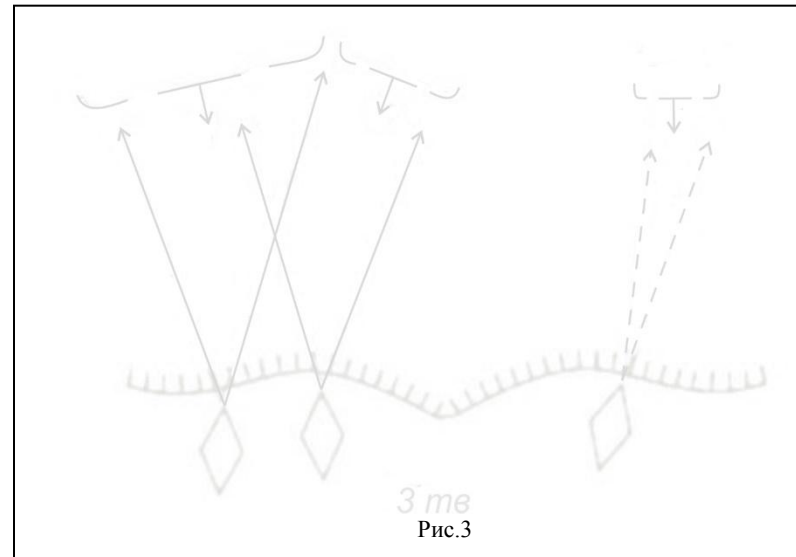
© Санкт-Петербургский горный университет 2017г.

Виды манёвра огнем

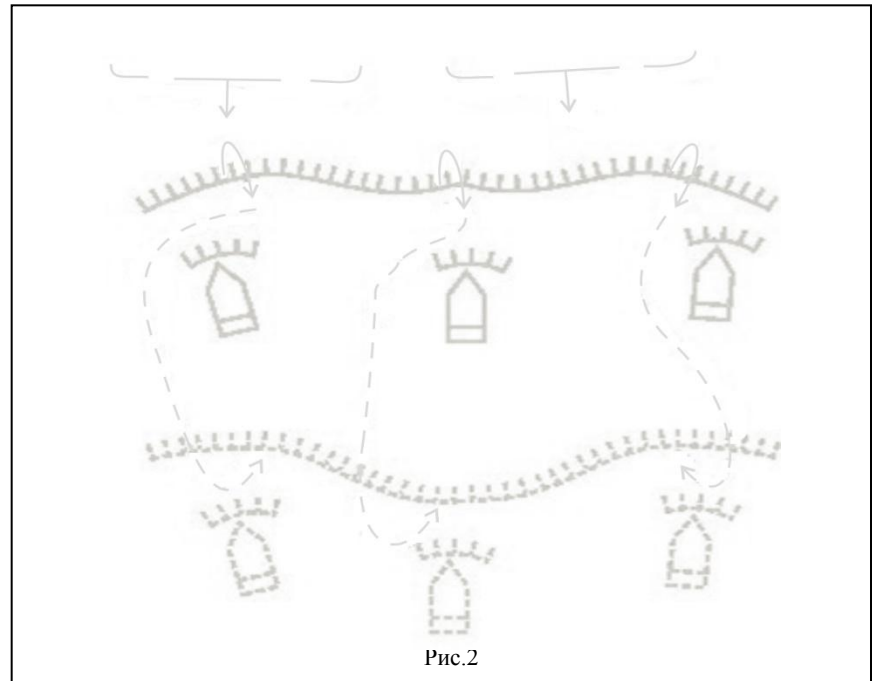
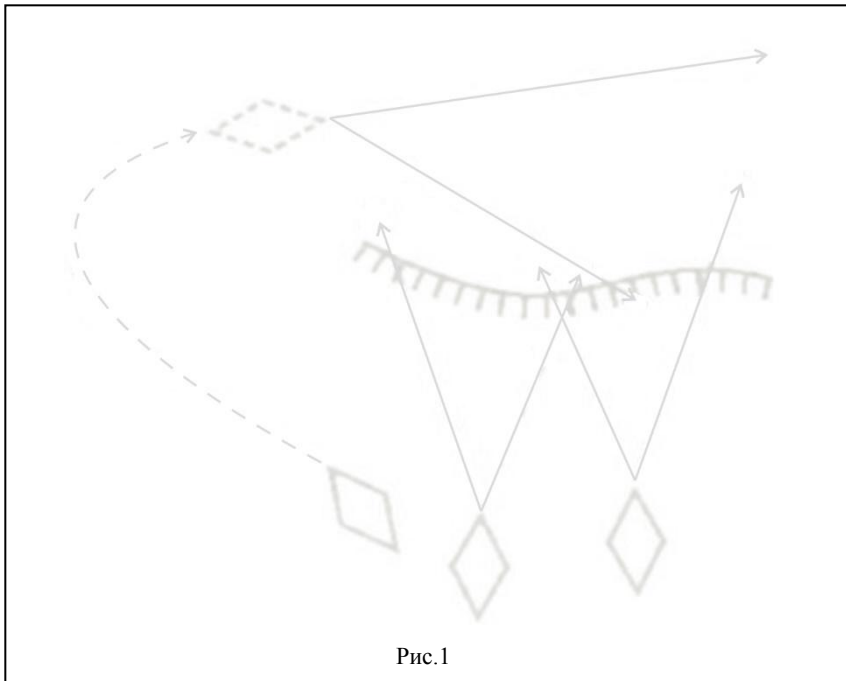


Задания

1. Используя офицерскую линейку и цветные карандаши раскрыть (нанести) виды манёвра огнем на рис.1, 2, 3 в соответствии с опорным конспектом (с. 10).
2. Указать виды маневра огнем и обозначить подразделения.
3. Изучить условные обозначения и сокращения.

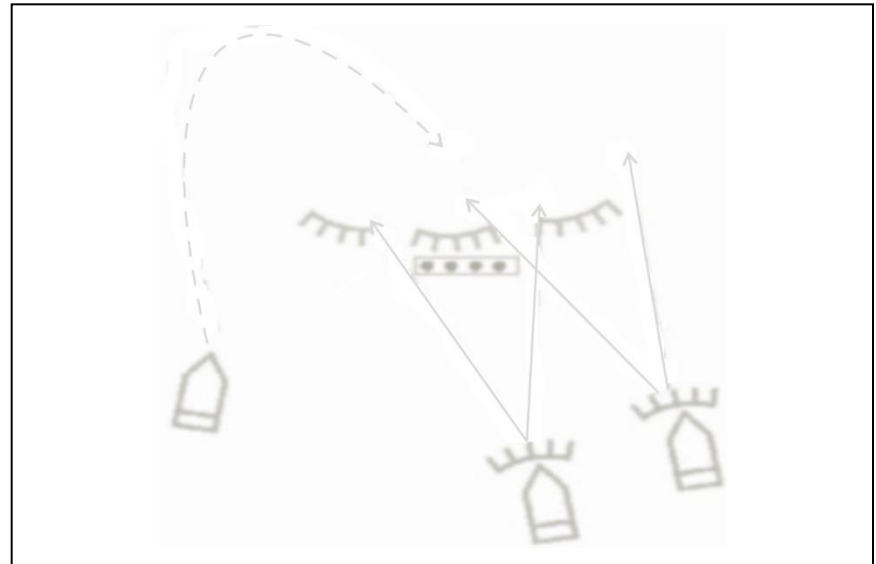


Виды манёвра взводом



Задания

1. Используя офицерскую линейку и цветные карандаши раскрыть виды манёвра на рис. 1, 2, 3 в соответствии с опорным конспектом (с. 9-10).
2. Вписать подразделения на рис. 1, 2, 3 и направления их огня и движения.



Виды соединений, частей и подразделений Сухопутных войск

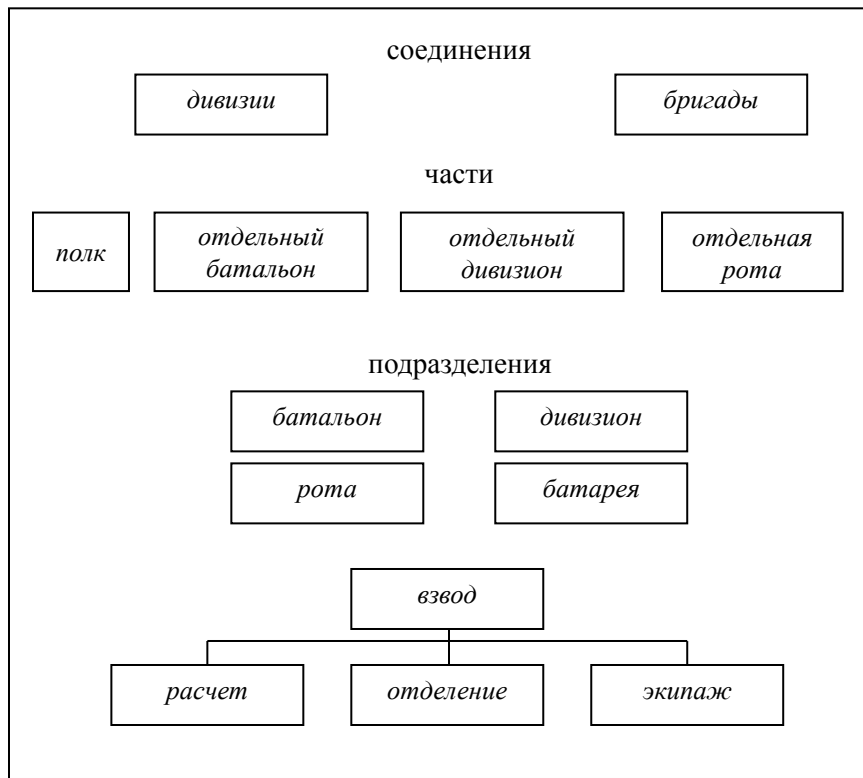


Рис.1

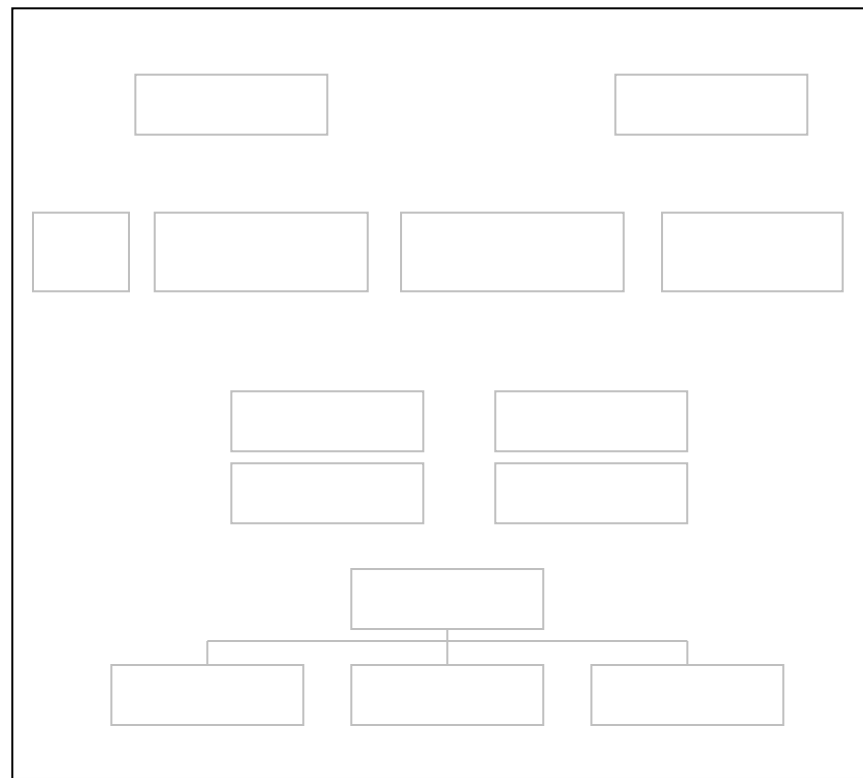
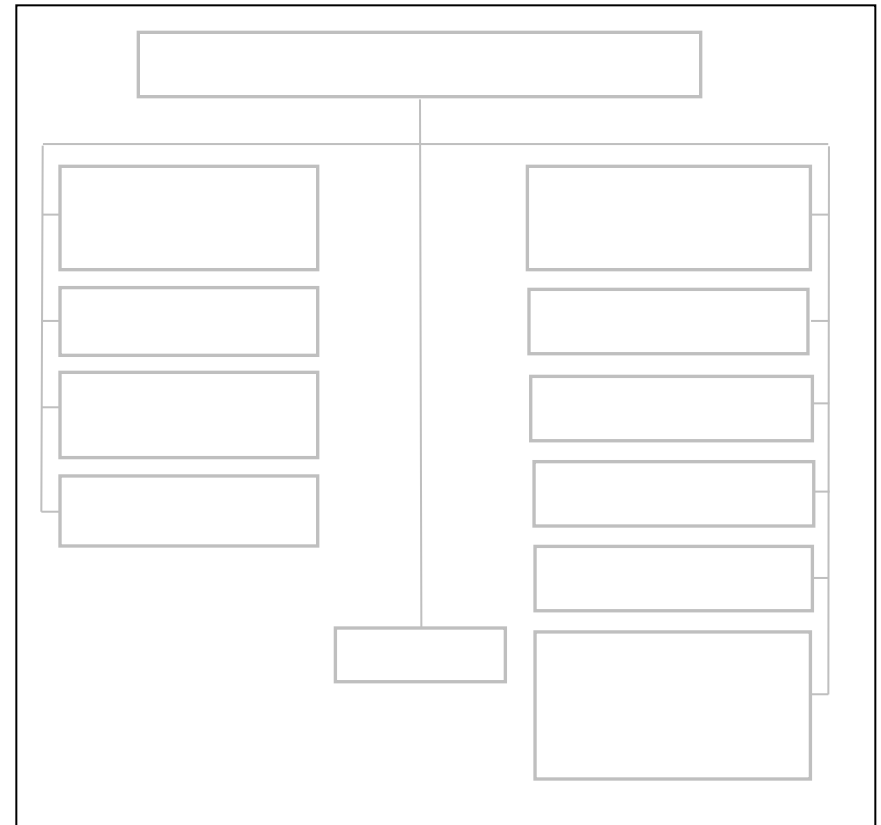
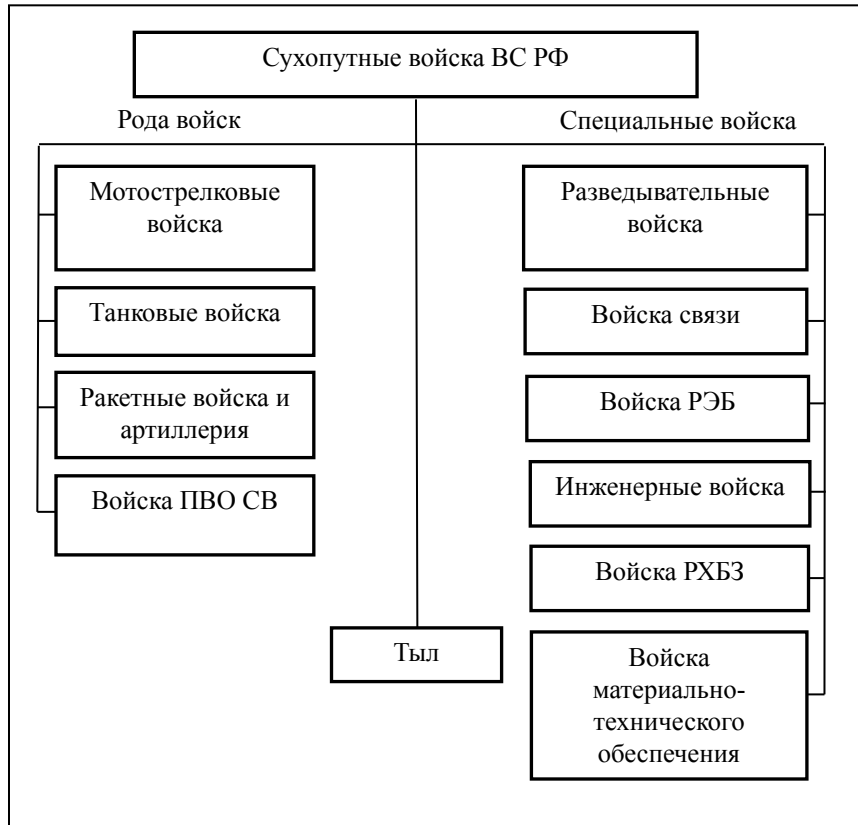


Рис.1а

Задания

1. Используя офицерскую линейку выделить виды соединений, частей и подразделений Сухопутных войск на рис.1а, согласно рис.1.
2. Подписать наименования видов соединений, частей и подразделений.
3. Изучить структуру видов соединений, частей и подразделений Сухопутных войск.

Структура Сухопутных войск Вооруженных сил РФ



Задание

1. Используя офицерскую линейку выделить структуру Сухопутных войск Вооруженных сил РФ.
2. Подписать наименования структуры Сухопутных войск Вооруженных сил РФ.
3. Изучить структуру Сухопутных войск Вооруженных сил РФ.

Организация и вооружение мотострелкового отделения (мсо) на БМП

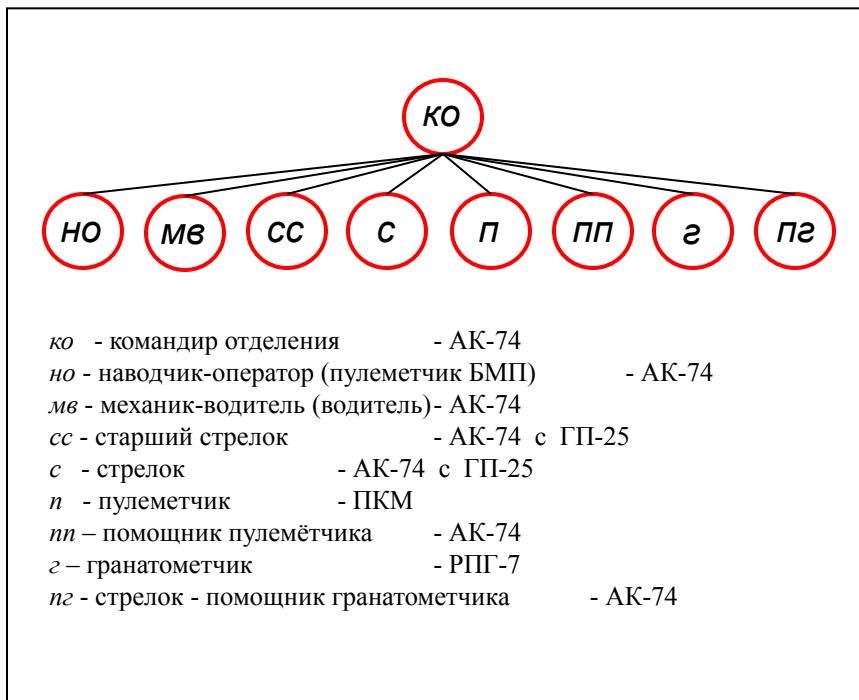


Рис.1

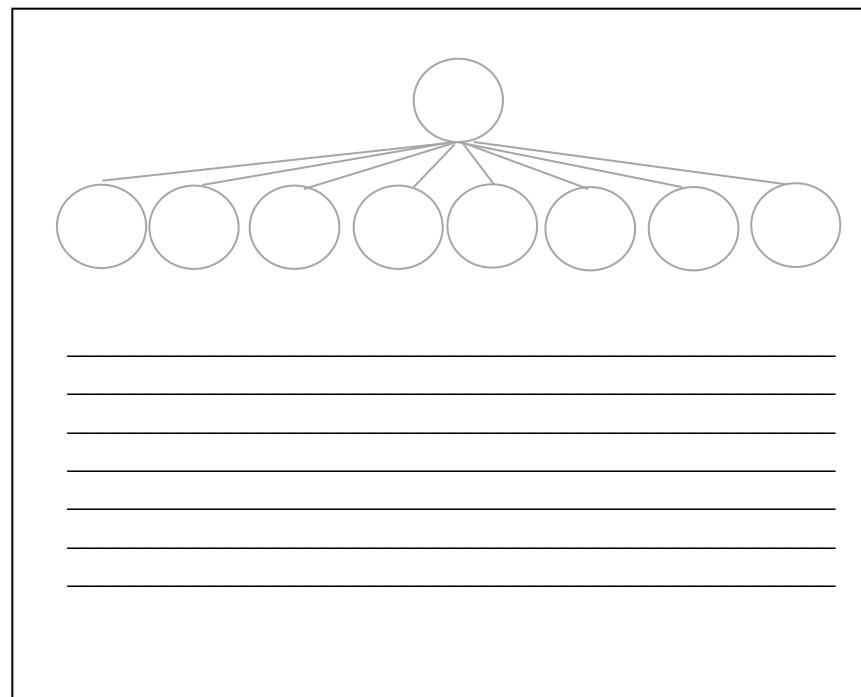


Рис.1а

Задания

1. С помощью офицерской линейки и цветных карандашей выделить организацию мсо на рис.1а, согласно рис.1.
2. Написать должности военнослужащих и их вооружение на рис.1а.
3. Используя рис.1 выделить основные сокращения и подписать их.
4. Изучить организацию и вооружение мсо.

Основные сокращения

КО -
НО -
МВ -
СС -
С -
П -
ПП -
Г -
ПГ -

Организация и вооружение мотострелкового взвода (мсв) на БМП

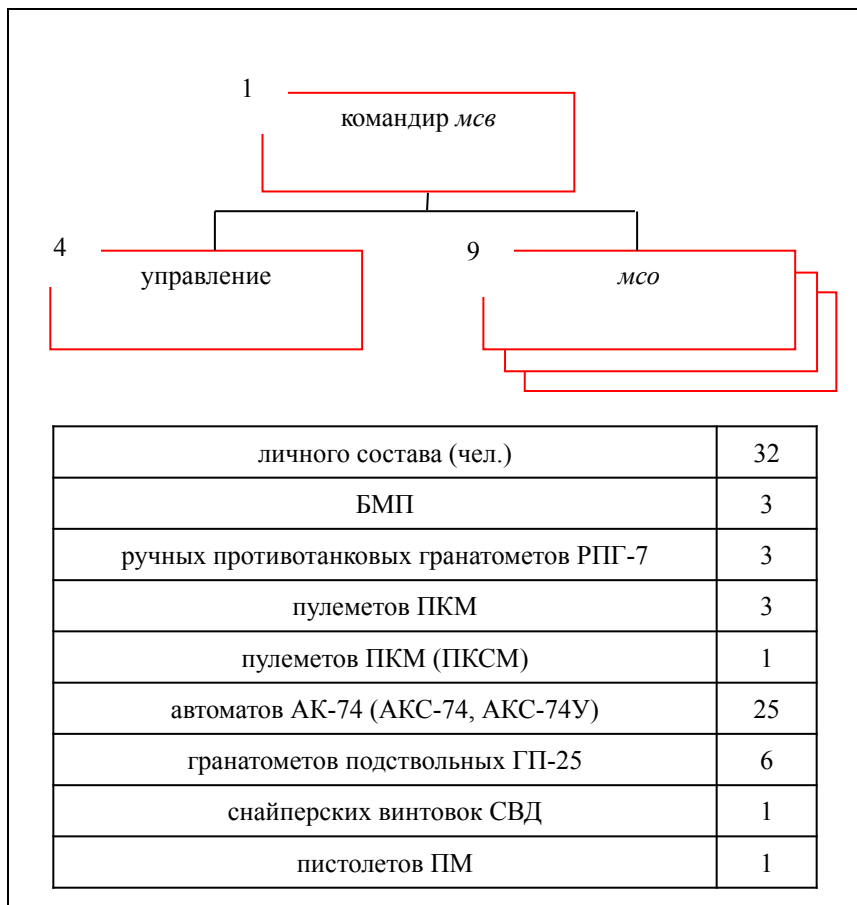


Рис.1

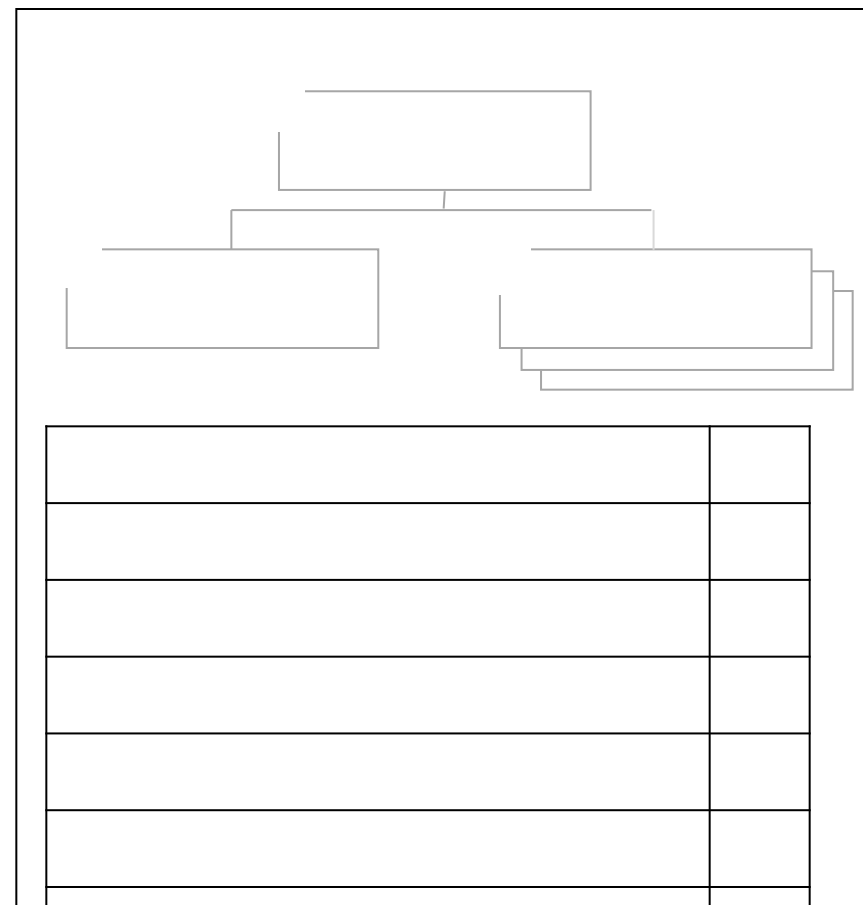


Рис.1а

Задания

1. С помощью офицерской линейки выделить соответствующим цветом и подписать организацию *мсв* на рис. 1а, согласно рис. 1.
2. Написать личный состав и вооружение *мсв* на рис. 1а и их количество.
3. Выделить основные сокращения и подписать их.
4. Изучить организацию и вооружение *мсв*.

Основные сокращения

- мсо* –
- мсв* –
- БМП* –
- РПГ* –
- РПК* –
- ПКСМ* –
- ГП* –

Организация и вооружение мотострелковой роты (*мср*) на БМП

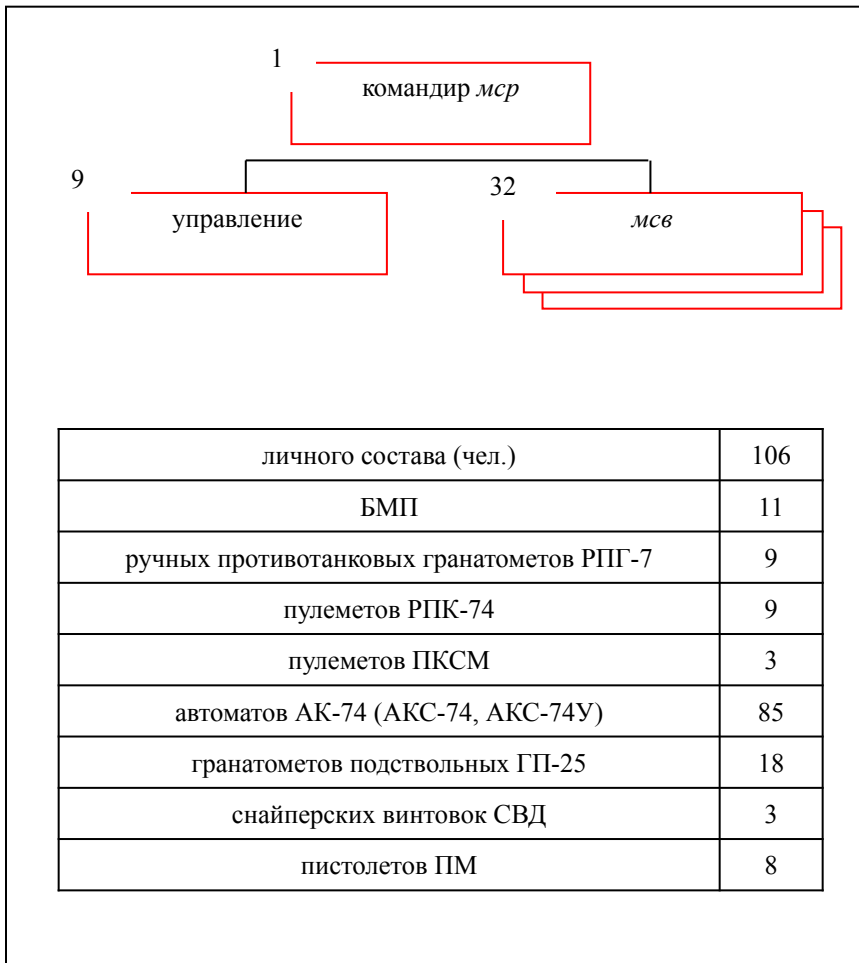


Рис.1

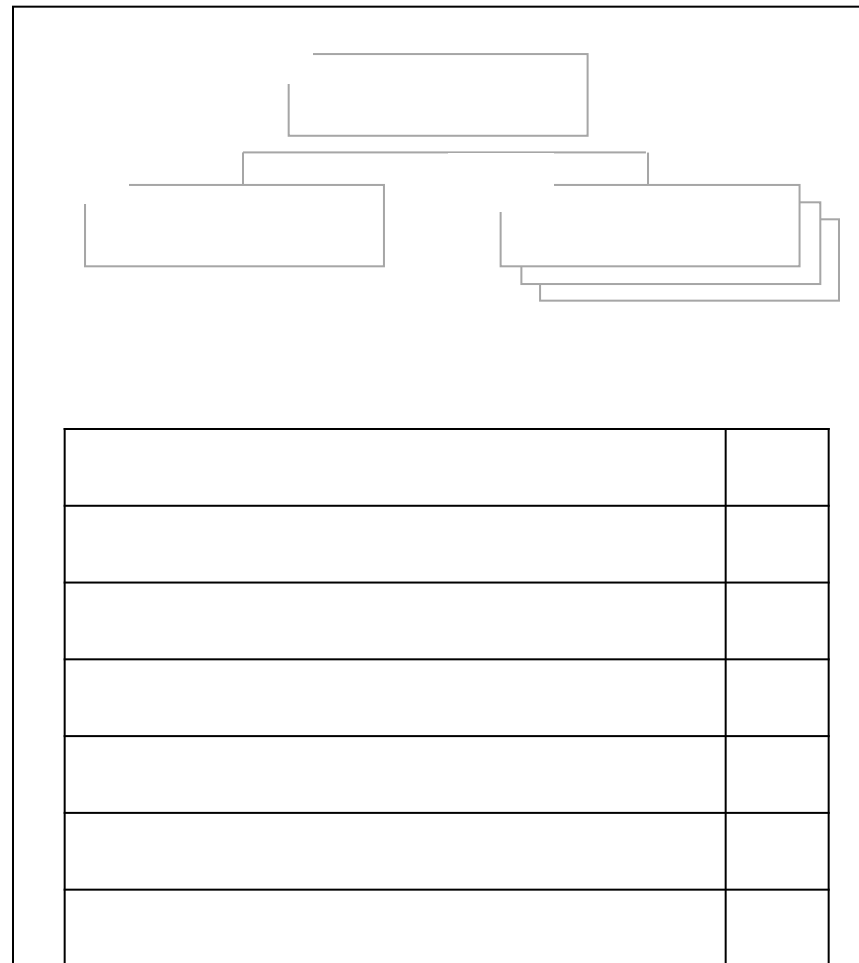


Рис.1а

- ### Задания
- С помощью офицерской линейки выделить соответствующим цветом и подписать организацию *мср* на рис. 1а, согласно рис.1.
 - Написать личный состав, вооружение *мср* на рис.1а и их количество.
 - Выделить основные сокращения и подписать их.
 - Изучить организацию и вооружение *мср* на БМП.

Основные сокращения

<i>мср</i> –	<i>СВД</i> -
<i>мсв</i> –	<i>РПГ</i> –
<i>мср</i> –	<i>ПКСМ</i> –
<i>БМП</i> –	<i>ГП</i> –
<i>ПМ</i> -	<i>РПК</i> –

Организация и вооружение мотострелкового батальона (мсб) на БМП

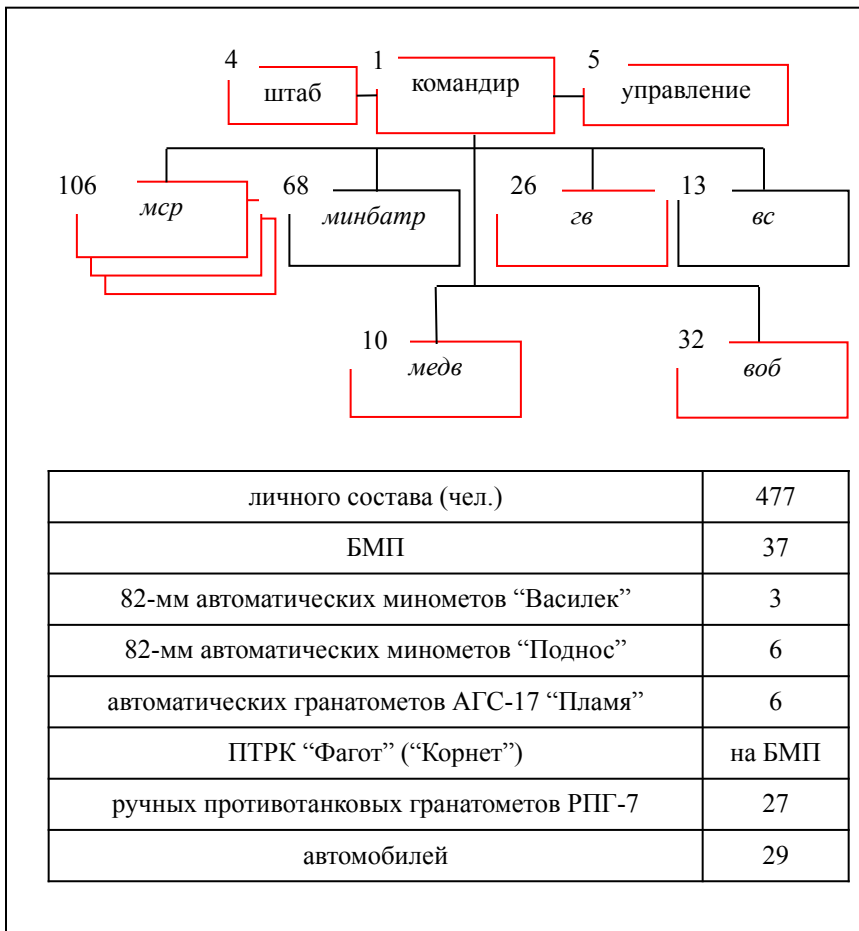


Рис.1




Рис.1а

- ### Задания
1. С помощью офицерской линейки и цветных карандашей выделить и подписать организацию мсб на рис. 1а, согласно рис. 1
 2. Написать личный состав, вооружение мсб на рис. 1а и их количество.
 3. Используя Боевой устав ч.3, приложение 2 выделить соответствующим цветом основные сокращения и подписать их.
 4. Изучить организацию и вооружение мсб.

Основные сокращения

мсб –	медв –
зв –	БМП –
вс –	АГС –
минбатр –	ПТРК –
воб –	РПГ –

Организация и вооружение танкового батальона (*тб*)

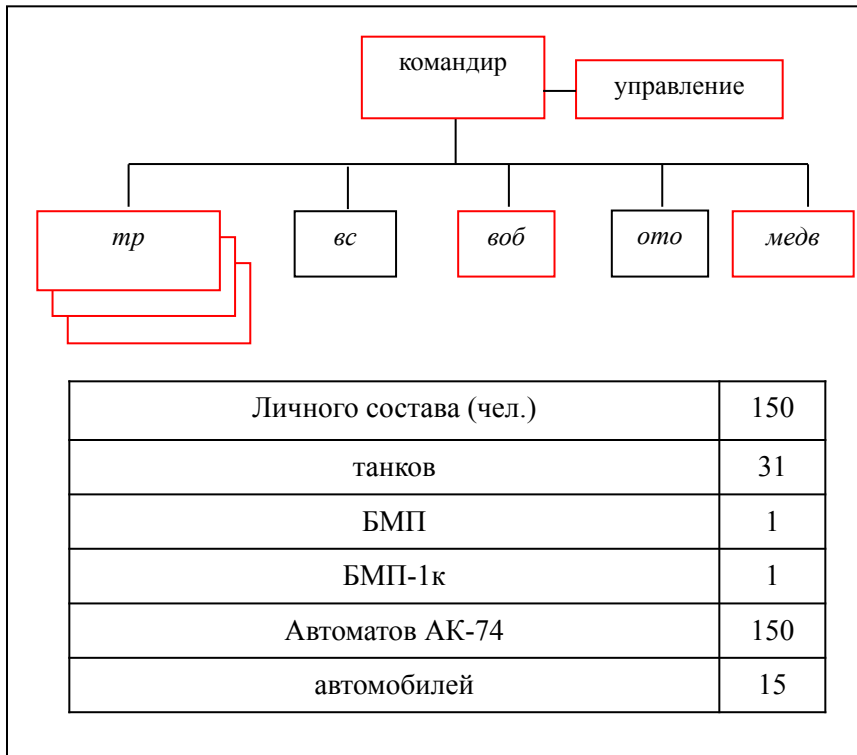


Рис.1

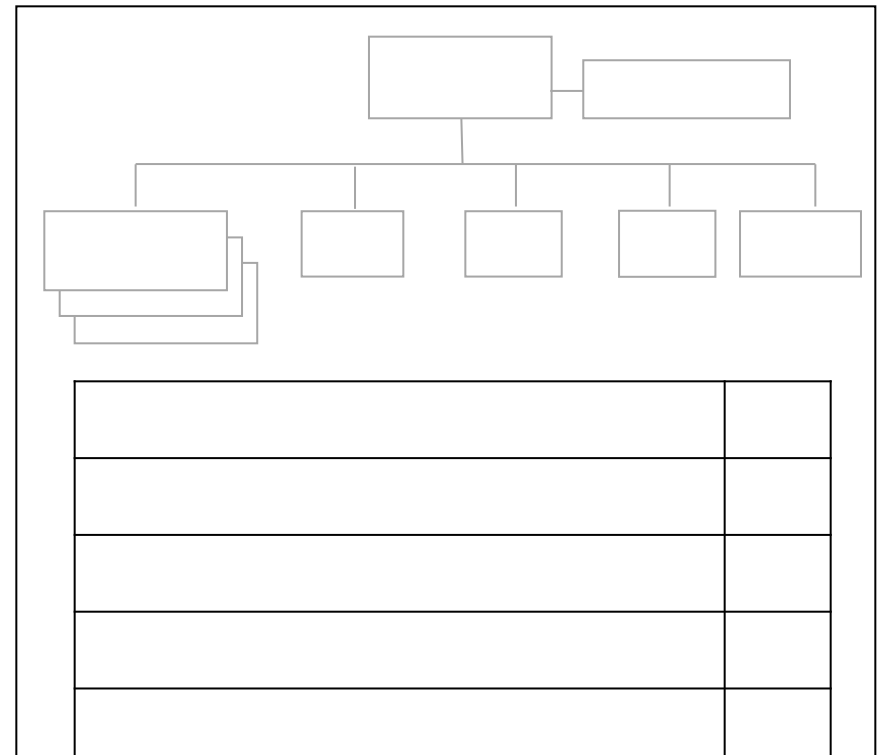


Рис.1а

Задания

1. С помощью офицерской линейки и цветных карандашей выделить и подписать организацию *тб* на рис.1а, согласно рис.1.
2. Написать личный состав, вооружение *тб* на рис.1а и их количество.
- 3.Используя Боевой устав ч.3, приложение 2 выделить соответствующим цветом основные сокращения и подписать их.
4. Изучить организацию и вооружение *тб*.

Основные сокращения

- тб* –
- тр* –
- вс* –
- воб* –
- ото* –
- медв* –
- БМП* –
- АГС* –

Организация и вооружение мотопехотного батальона (*мпб*) армии США

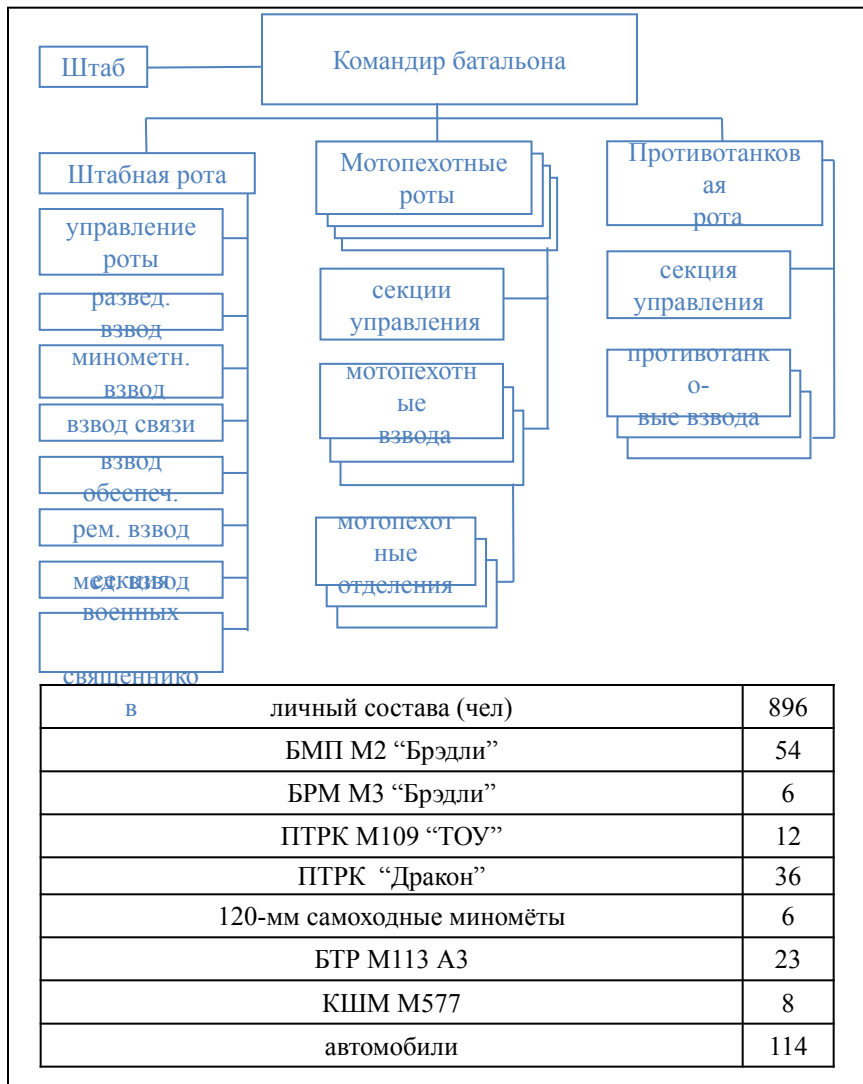


Рис. 1




Рис. 1а

Задания

1. С помощью офицерской линейки выделить соответствующим цветом организацию *мпб* армии США на рис. 1а, согласно рис. 1.
2. Вписать подразделения, личный состав, вооружение *мпб* армии США на рис. 1а и их количество.
3. Изучить организацию и вооружение *мпб* армии США.

Организация танкового батальона (*тб*) армии США

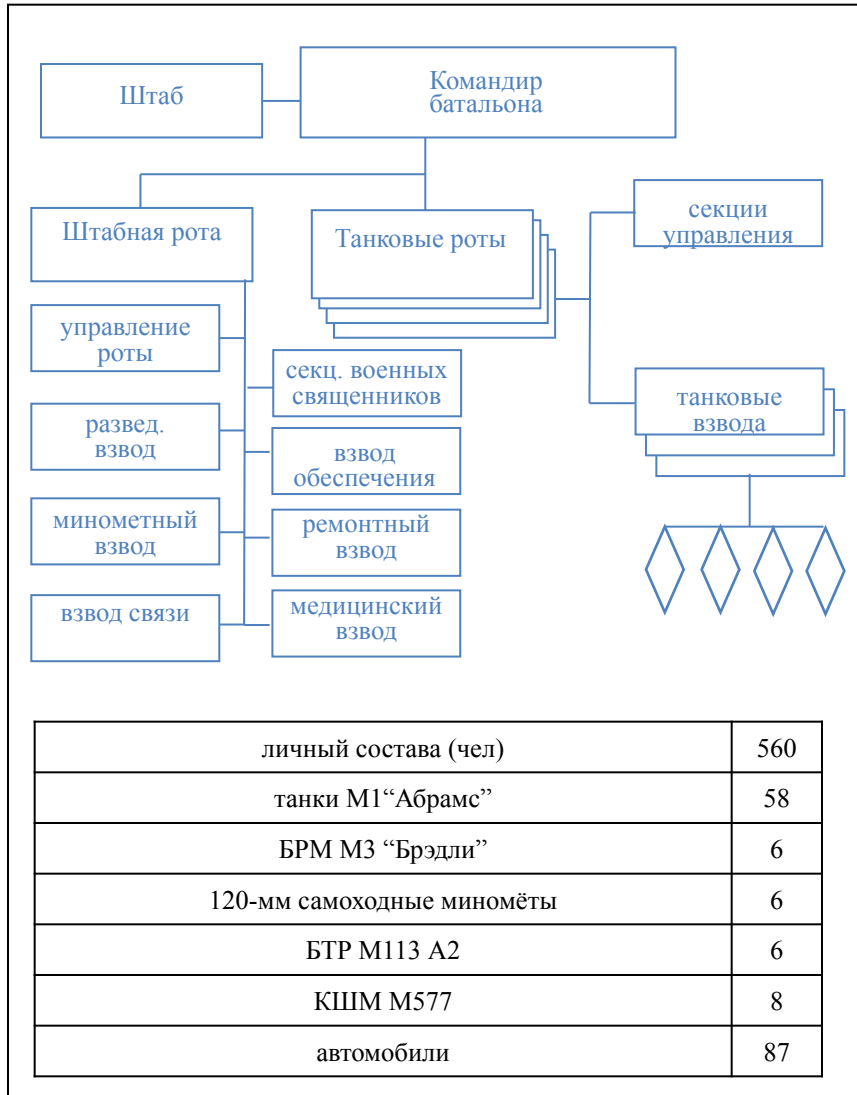


Рис. 1

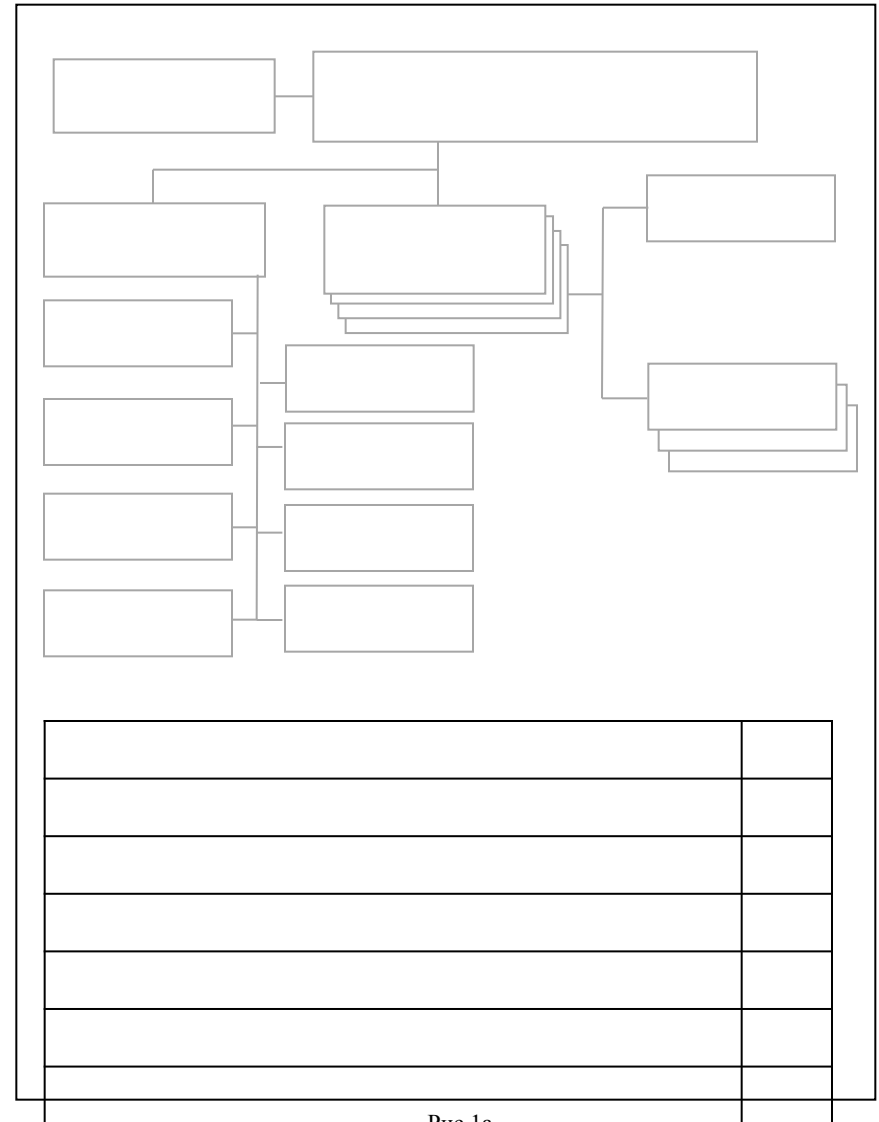


Рис. 1а

Задания

- С помощью офицерской линейки выделить соответствующим цветом организацию *тб* армии США на рис. 1а, согласно рис. 1.
- Вписать подразделения, личный состав, вооружение *тб* армии США на рис. 1а и их количество.
- Изучить организацию *тб* армии США.

Боевой порядок ротной тактической группы (р_{тгр}) армии США в обороне

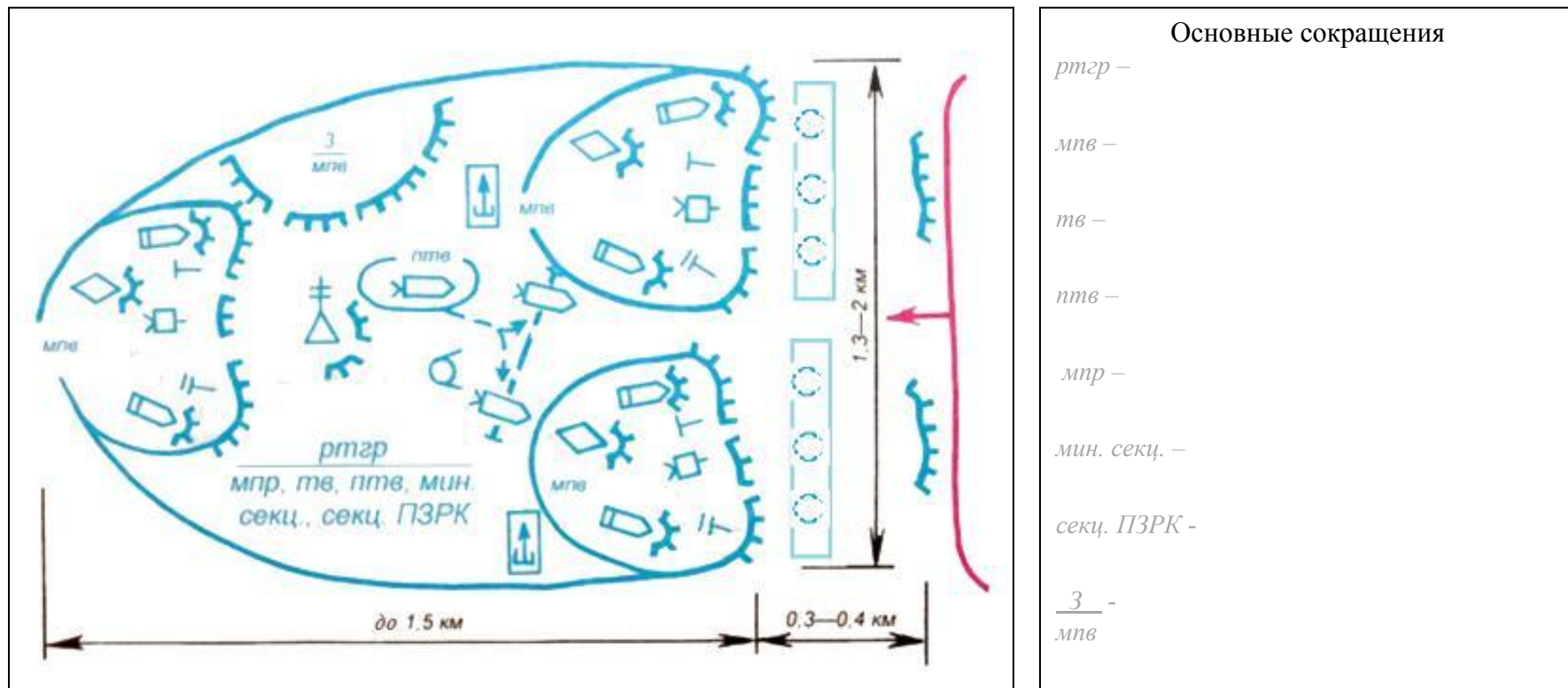
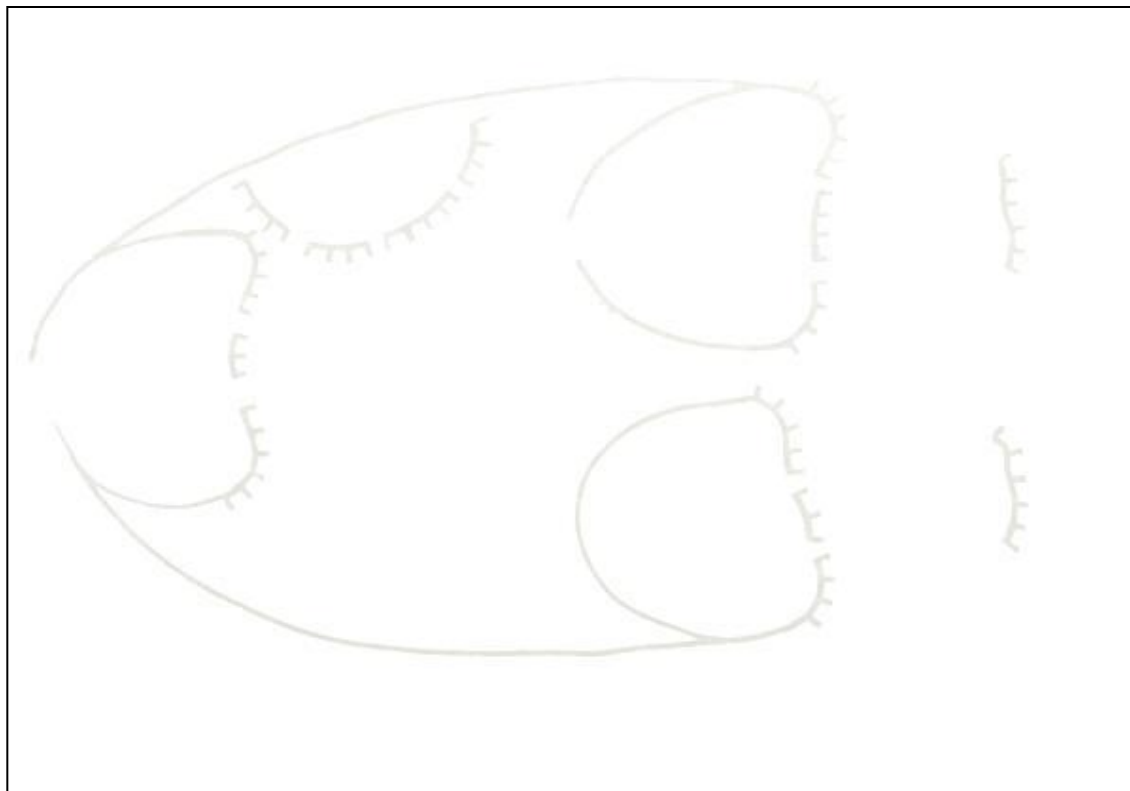


Рис.1

Задания

1. Используя офицерскую линейку раскрыть боевой порядок *р_{тгр}* армии США в обороне на рис.1а, согласно рис.1.
2. Нанести на рис.1а недостающие элементы *р_{тгр}* в обороне.
3. Указать на рис.1а тактические нормативы *р_{тгр}* в обороне.
4. Выделить соответствующим цветом основные сокращения и подписать их (Боевой устав ч.3, приложение 2).
5. Нанести соответствующим цветом основные условные обозначения и подписать их (Боевой устав ч., приложение 3).
6. Изложить состав мотопехотной и сбалансированной *р_{тгр}* (Учебник Тактика: батальон, рота, с.197).
7. Изучить боевой порядок *р_{тгр}* армии США в обороне и ее тактические нормативы.



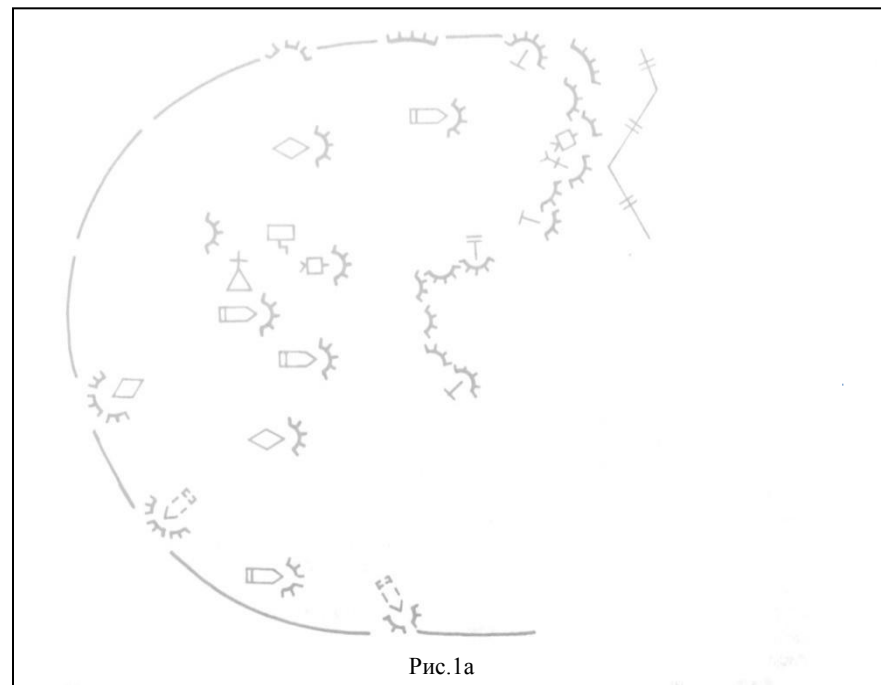
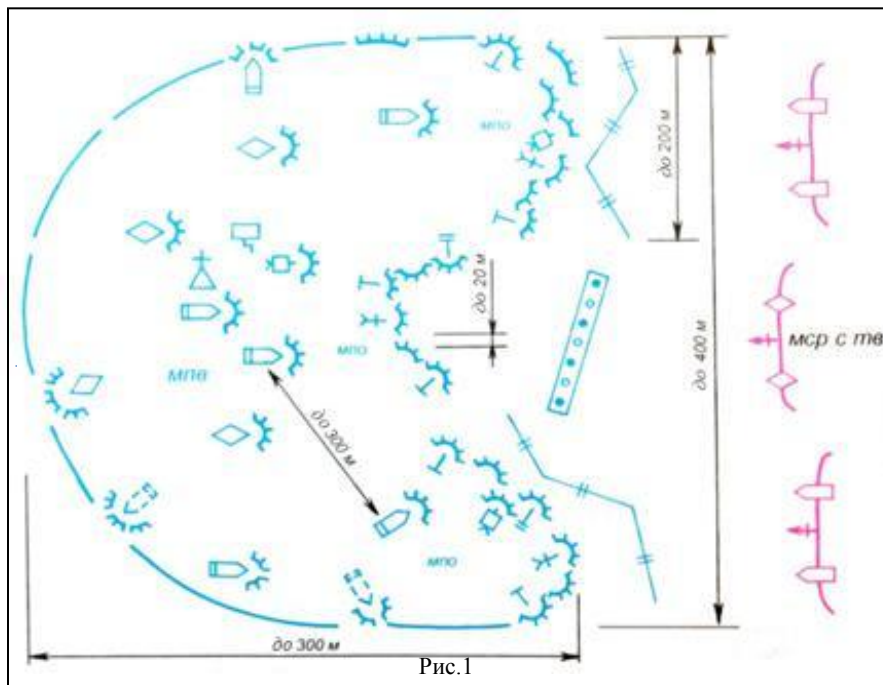
Основные условные обозначения

Рис.1а

Мотопехотная тактическая группа

Сбалансированная ротная тактическая группа

Боевой порядок мотопехотного взвода (*мпв*) армии США в обороне



Задания

1. Используя офицерскую линейку и цветные карандаши раскрыть боевой порядок *мпв* в обороне на рис.1а, согласно рис.1.
2. Нанести на рис.1а недостающие элементы боевого порядка *мпв* в обороне согласно рис.1.
3. Указать на рис.1а тактические нормативы *мпв* в обороне.
4. Используя Боевой устав ч.3, приложение 3, выделить основные условные обозначения соответствующим цветом и подписать их.
5. Выделить основные сокращения соответствующим цветом и подписать их.
6. Изучить боевой порядок *мпв* в обороне и его тактические нормативы.

Основные условные обозначения



Основные сокращения

мпв -
мпо -
мпр с тв -

Боевой порядок батальонной тактической группы (бтгр) армии США в обороне


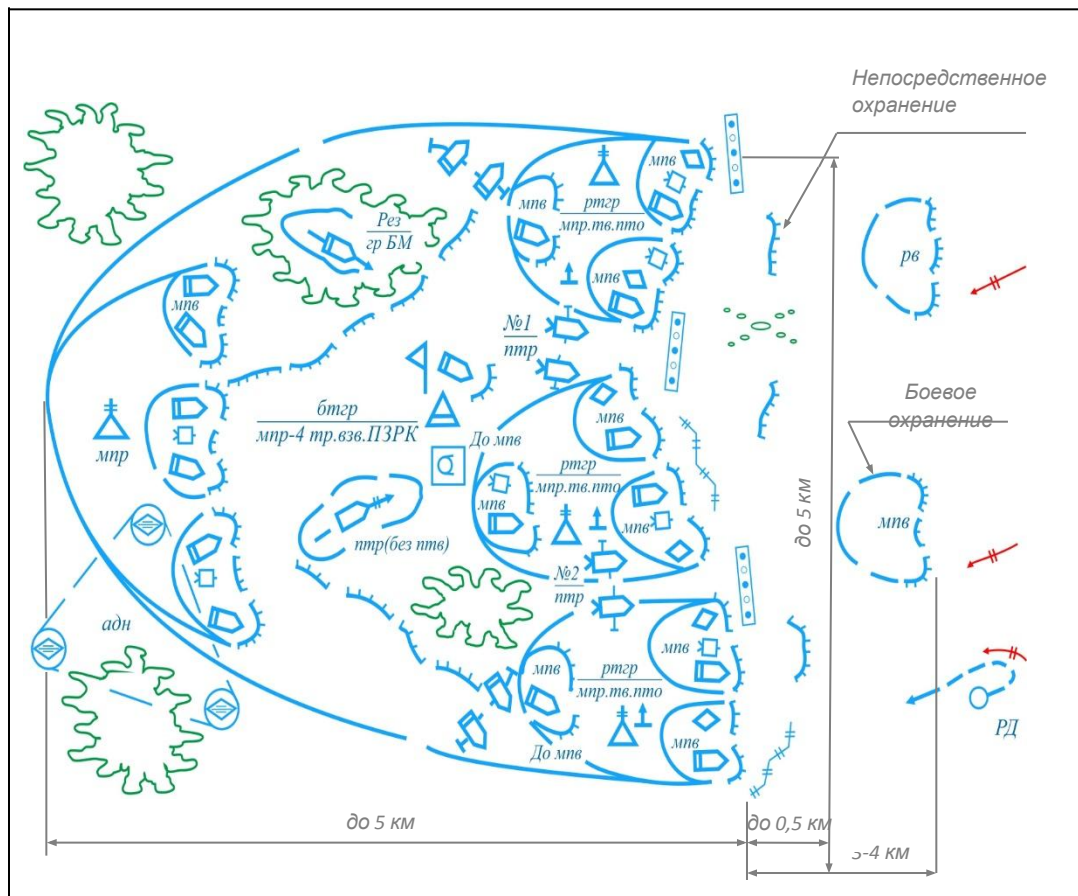


Рис.1

Задания

1. Используя офицерскую линейку и цветные карандаши на рис.1 раскрыть боевой порядок *бтгр* армии США в обороне согласно учебнику Тактика: батальон, рота, с.194 и нанести недостающие элементы.
2. Указать тактические нормативы боевого порядка *бтгр* армии США в обороне.
3. Используя Боевой устав ч.2, приложение 3 нанести соответствующим цветом основные условные обозначения и подписать их.
4. Изучить боевой порядок *бтгр* армии США в обороне и его тактические нормативы.

Боевой порядок батальонной тактической группы (бтгр) армии США в наступлении

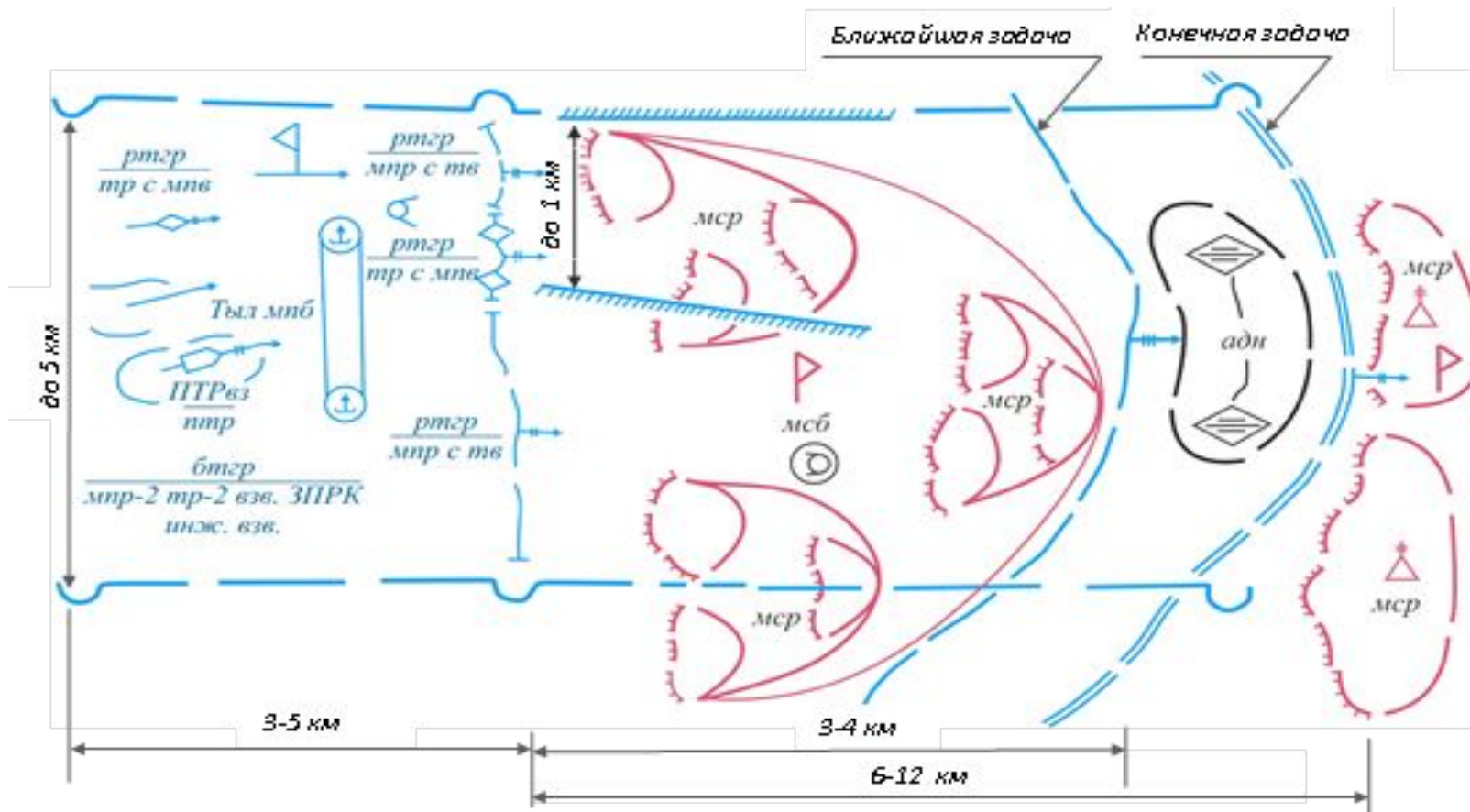
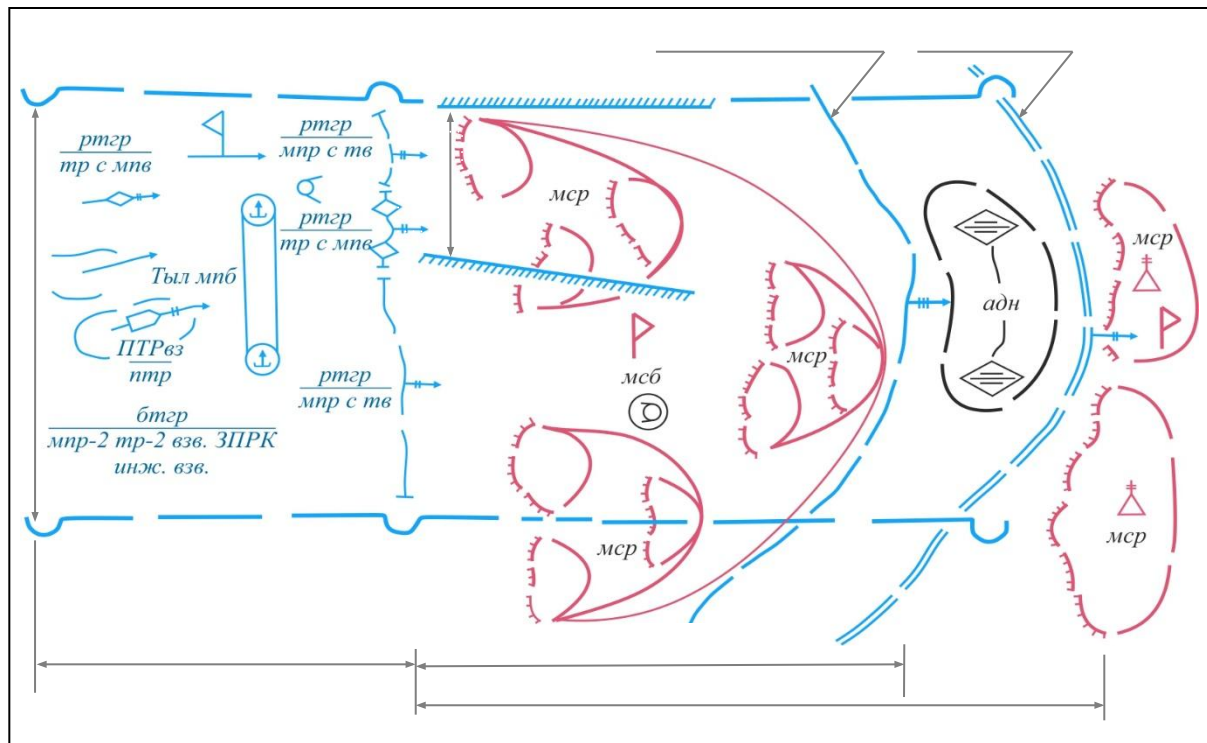


Рис.1

Задания

1. Используя офицерскую линейку и цветные карандаши на рис.1а раскрыть боевой порядок *бтгр* армии США в наступлении по рис.1(Учебник «Вооруженные Силы зарубежных государств» с. 193).
2. Указать на рис.1а тактические нормативы боевого порядка *бтгр* армии США в наступлении.
3. Нанести соответствующим цветом основные сокращения и подписать их.
4. Выделить основные условные обозначения соответствующим цветом и подписать их.



Основные сокращения

Рис. 1а

Основные условные обозначения



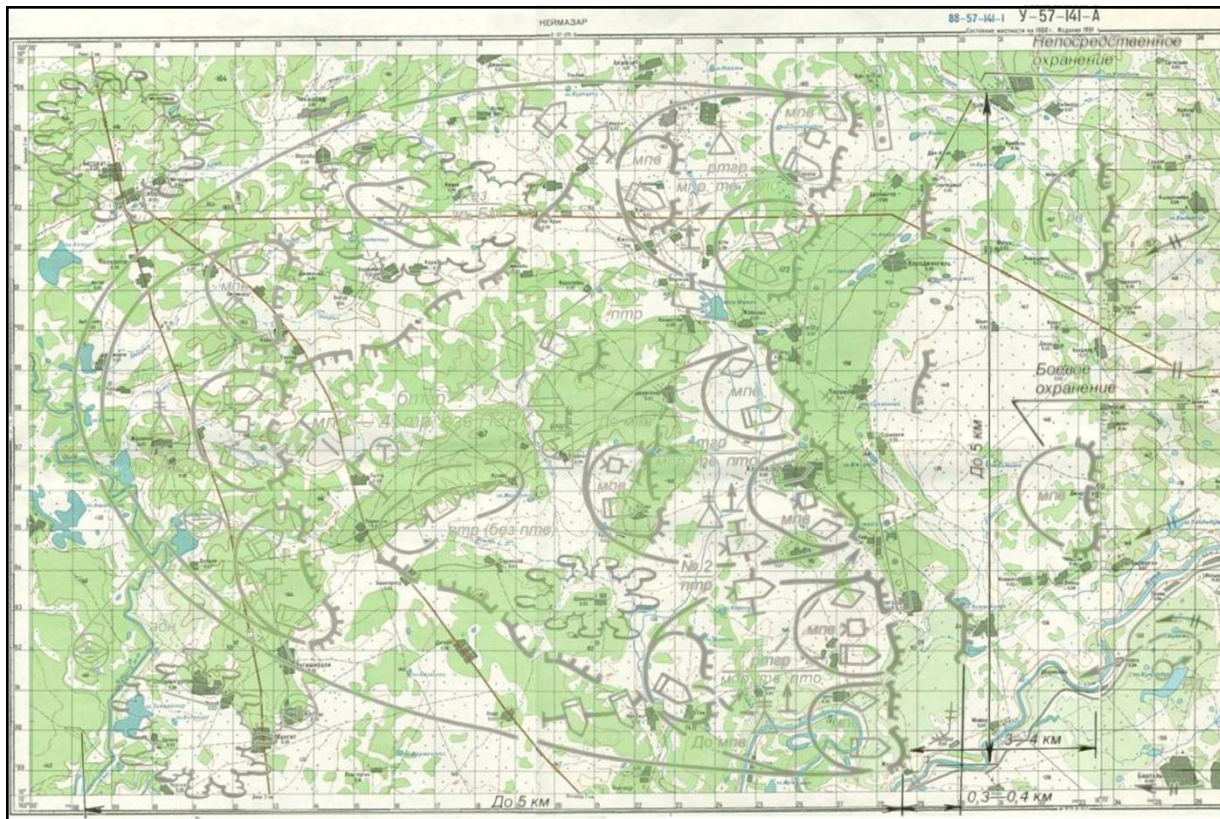


Рис. 2

Основные сокращения

бтгр-

млр-

тр-

птр-

млв-

рв-

рд-

взв ПЗРК-

Задания

1. Используя офицерскую линейку и цветные карандаши раскрыть боевой порядок *бтгр* армии США в обороне на рис.2, согласно рис.1и нанести недостающие элементы.
2. Указать тактические нормативы *бтгр* армии США в обороне.
3. Выделить соответствующим цветом основные сокращения и подписать их (Боевой устав ч. 2, приложение 2).
4. Изучить основные условные обозначения и сокращения вероятного противника.

Организация и вооружение мотопехотного батальона (мпб) армии ФРГ

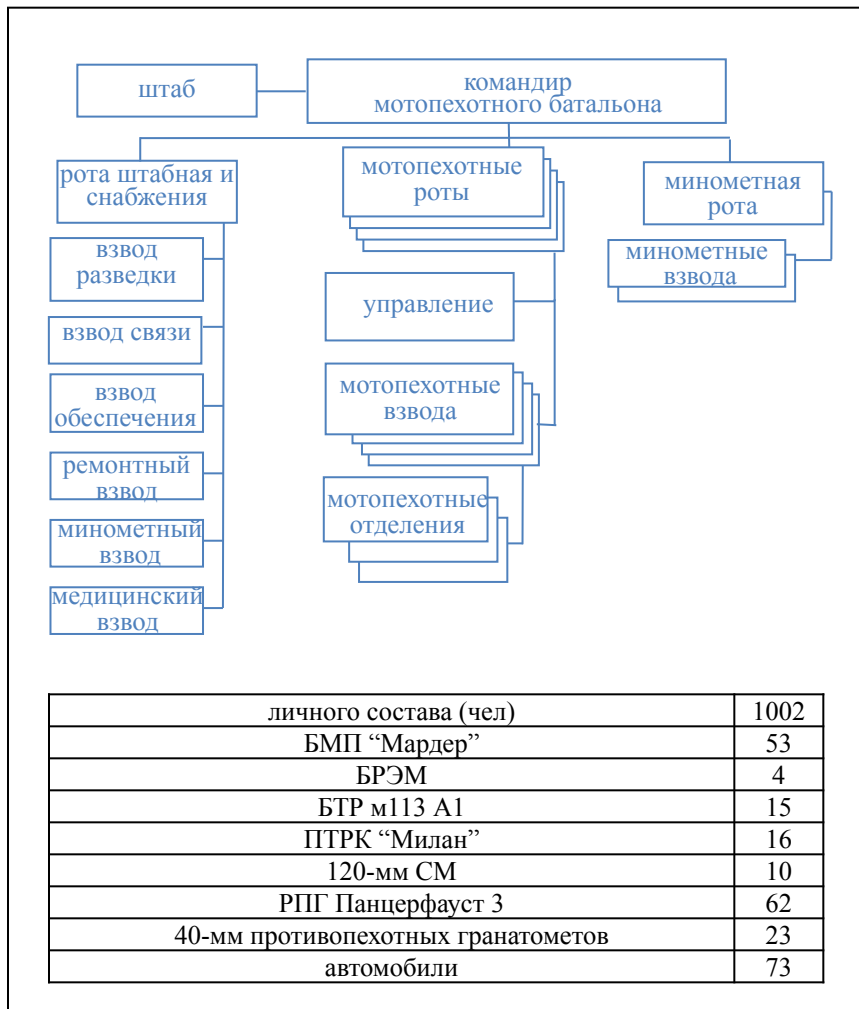


Рис. 1

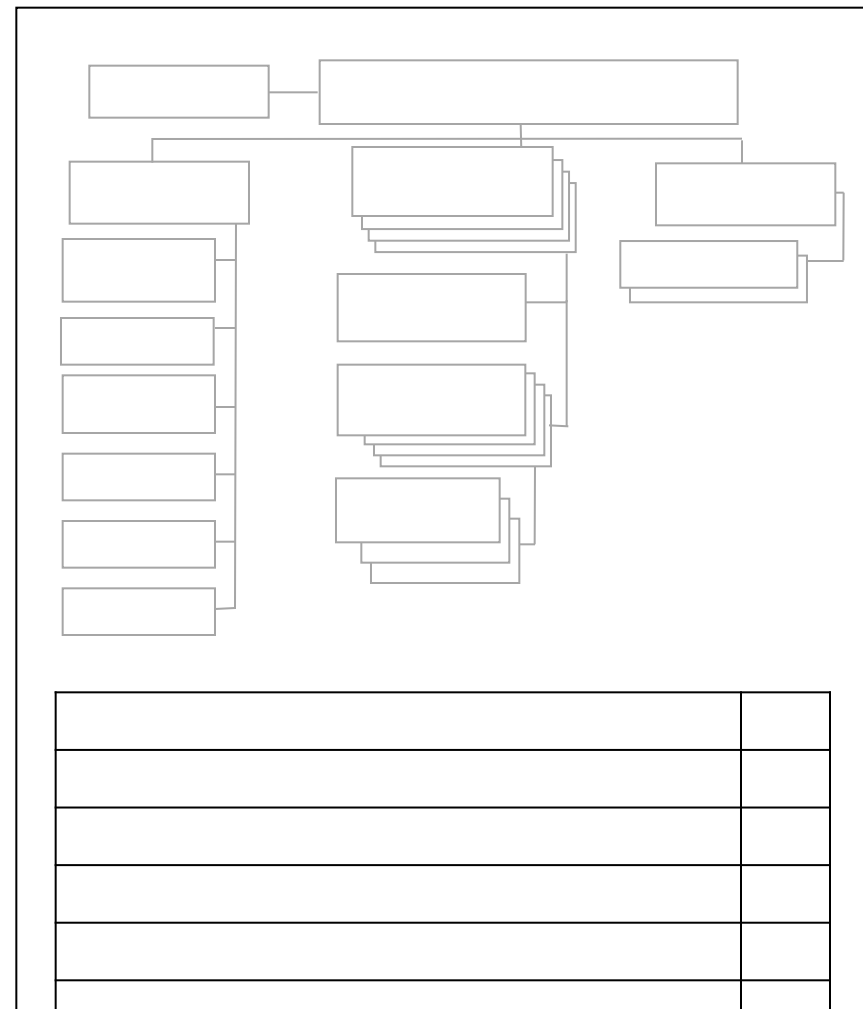


Рис. 1а

Задания

1. С помощью офицерской линейки выделить соответствующим цветом организацию *мпб* армии ФРГ на рис. 1а, согласно рис. 1.
2. Вписать подразделения, личный состав, вооружение *мпб* армии ФРГ на рис. 1а и их количество.
3. Изучить организацию и вооружение *мпб* армии ФРГ.

Боевой порядок мотопехотного батальона (мпб) ФРГ в обороне

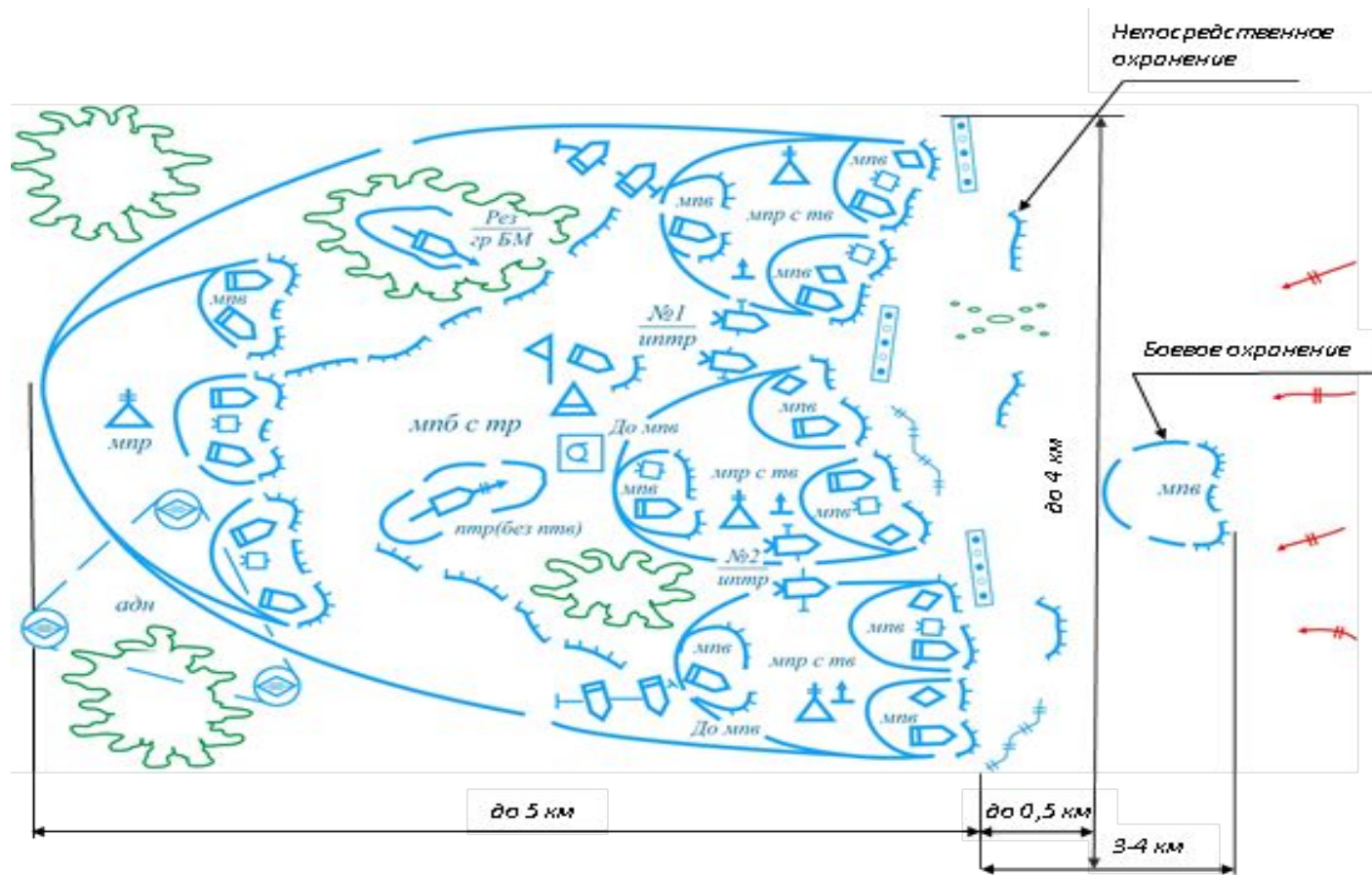


Рис.1

Задания

1. Используя офицерскую линейку и цветные карандаши на рис. 1а раскрыть боевой порядок *мпб* армии ФРГ в обороне, согласно рис.1.
2. Указать тактические нормативы боевого порядка *мпб* армии ФРГ в обороне.




Рис. 1а

Боевой порядок мотопехотного батальона (мпб) ФРГ в наступлении

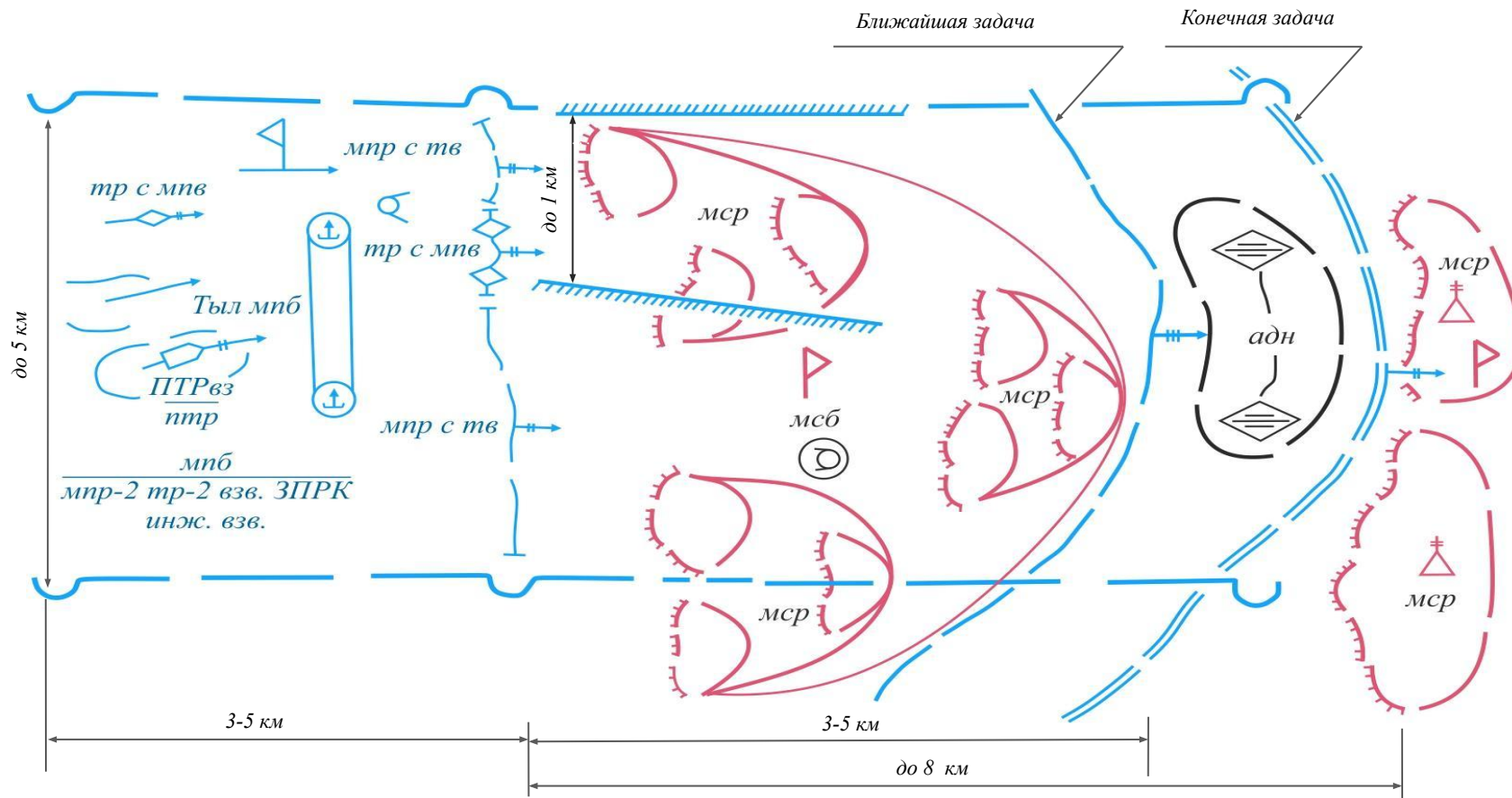


Рис. 1.

Задания

1. Используя офицерскую линейку раскрыть боевой порядок *мпб* ФРГ в наступлении на рис. 1а, согласно рис. 1.
2. Нанести тактические нормативы боевого порядка *мпб* ФРГ в наступлении.

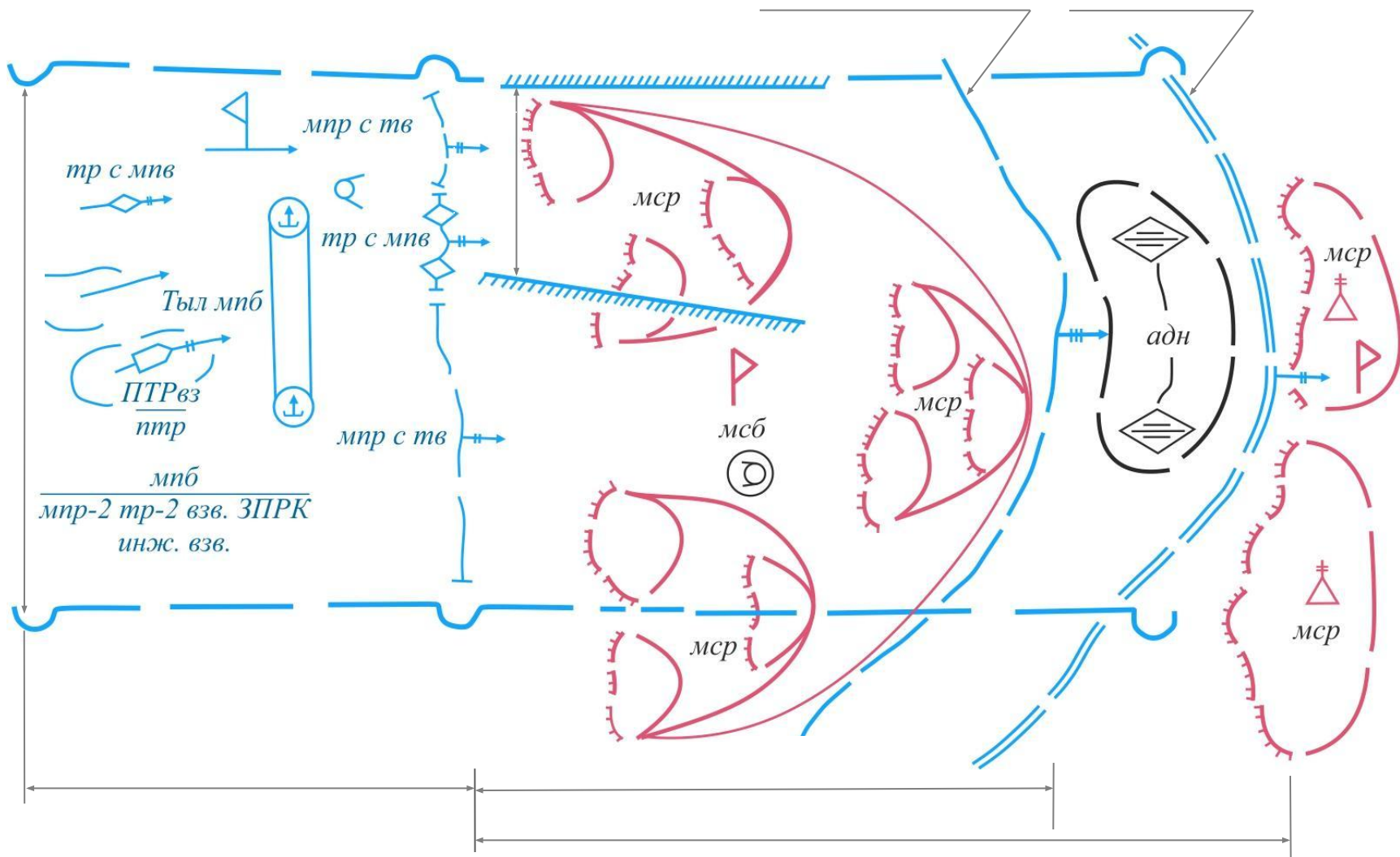


Рис. 1а

Организация и вооружение танкового батальона (тб) армии ФРГ

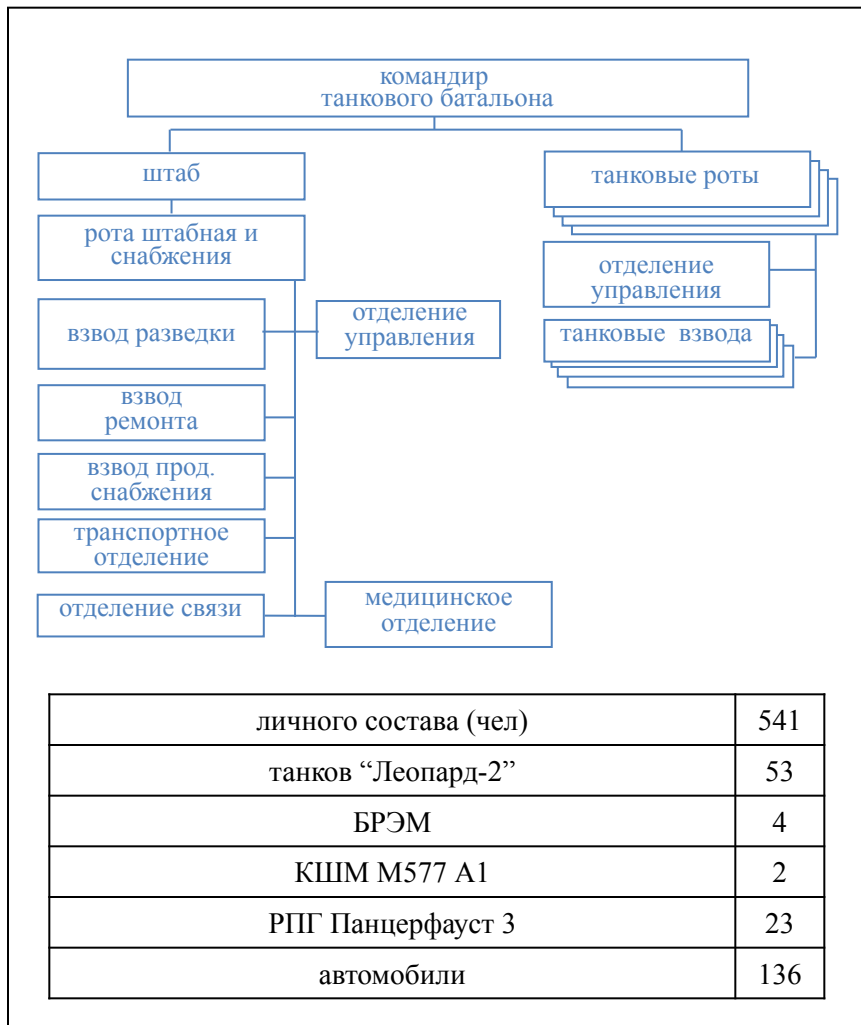


Рис.1

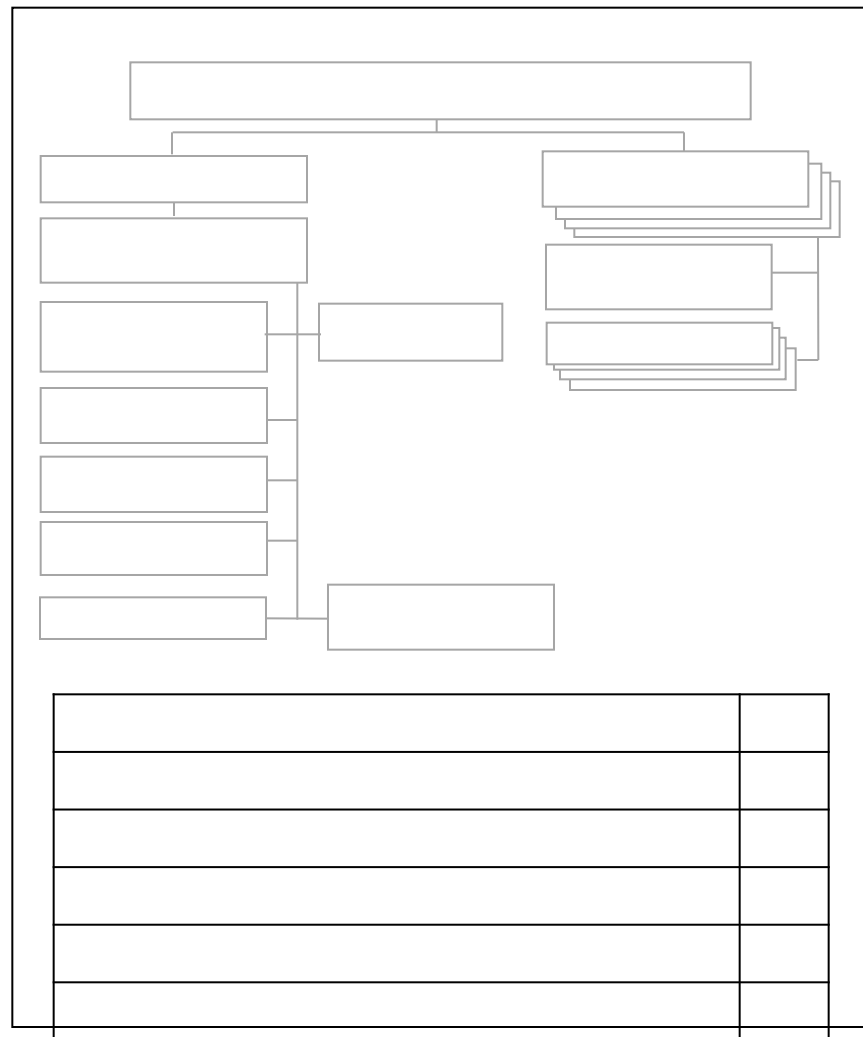


Рис.1а

Задания

1. С помощью офицерской линейки выделить соответствующим цветом организацию тб армии ФРГ на рис.1а, согласно рис.1.
2. Вписать подразделения, личный состав, вооружение тб армии ФРГ на рис.1а и их количество.
3. Изучить организацию и вооружение тб армии ФРГ.

Боевой порядок мотострелкового отделения (МСО) в обороне

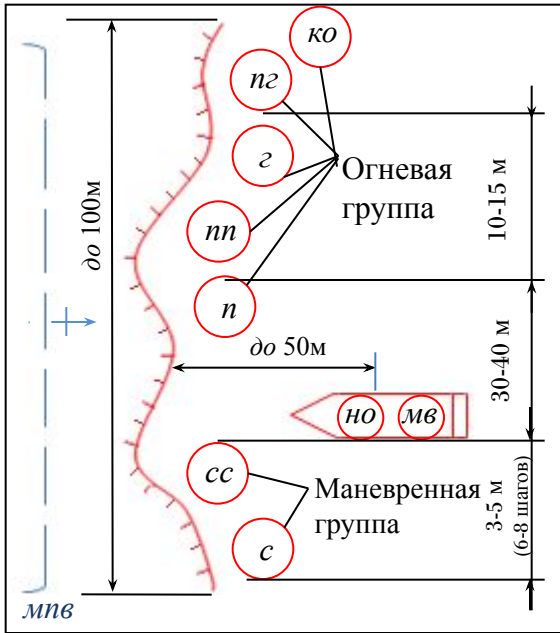


Рис. 1.

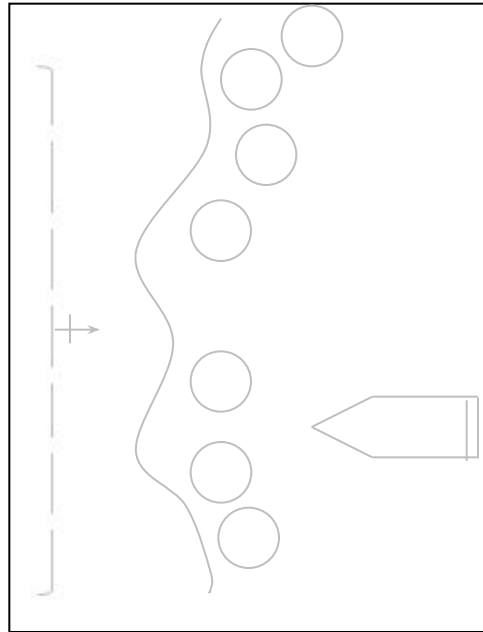


Рис. 1а.

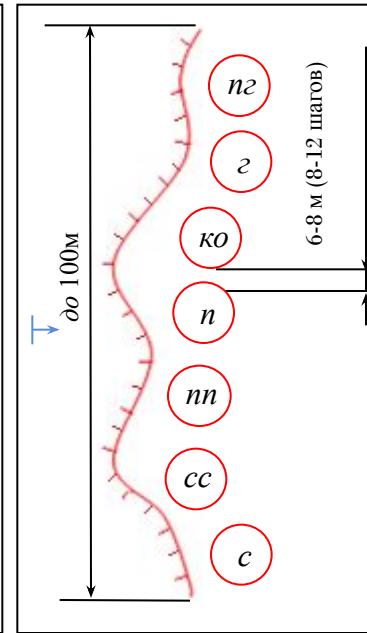


Рис. 2.

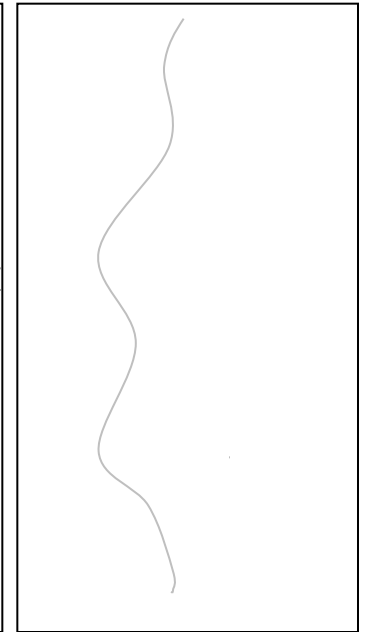


Рис. 2а.

Задания

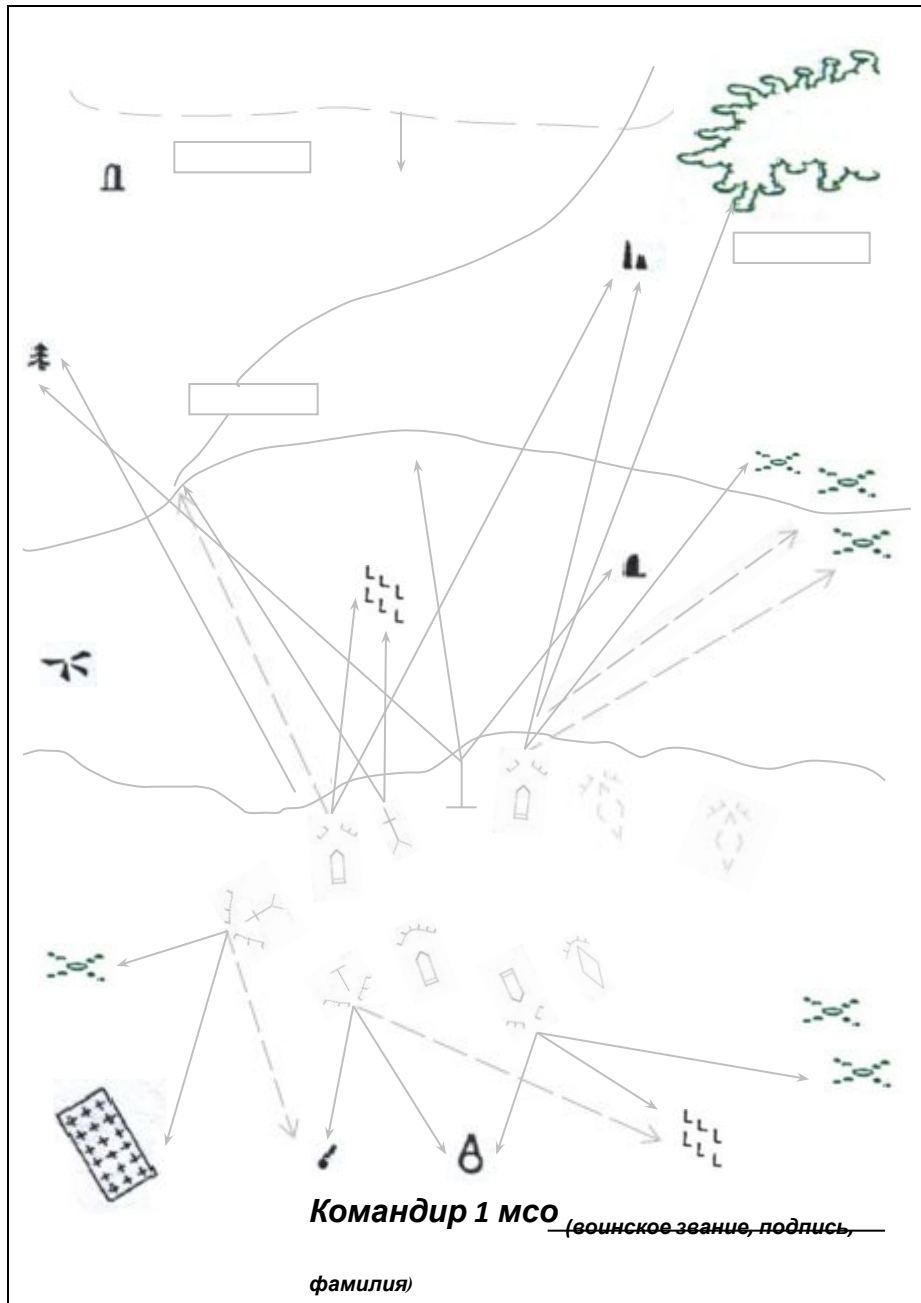
1. Используя офицерскую линейку и цветные карандаши раскрыть боевой порядок *мсо* в обороне на рис.1а, согласно рис.1 и нанести недостающие элементы.
2. Используя офицерскую линейку и цветные карандаши выделить боевой порядок *мсо* в обороне на рис.2а, согласно рис.2 и нанести недостающие элементы.
3. Указать на рис.1а тактические нормативы боевого порядка *мсо*.
4. Нанести основные условные обозначения соответствующим цветом и подписать их (Боевой устав ч.3, приложение 3).
5. Выделить соответствующим цветом основные сокращения и подписать их.
6. Изучить элементы боевого порядка *мсо* в обороне (Боевой устав ч.3, ст. 65).

Основные условные обозначения

Основные сокращения

<i>пг</i> -	<i>с</i> -
<i>г</i> -	<i>но</i> -
<i>ко</i> -	<i>мв</i> -
<i>п</i> -	<i>мсо</i> -
<i>пп</i> -	<i>мпв</i> -

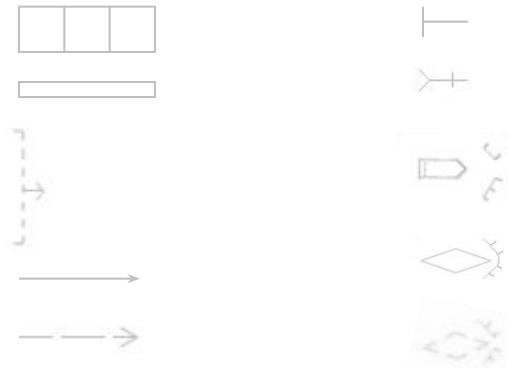
Карточка огня мотострелкового отделения (мсо) в обороне



Задание

1. Используя офицерскую линейку, цветные карандаши составить карточку огня мсо в обороне (Боевой устав ч. 3, ст.76).
2. Выделить основные условные обозначения соответствующим цветом и подписать их (Боевой устав ч. 3, приложение 3).
3. Изложить, что включает карточка огня мсо в обороне (Боевой устав ч. 3, ст. 76).
4. Изучить содержание карточки огня мсо в обороне.

Основные условные обозначения



Карточка огня мсо включает:

- 1.
- 2.
- 3.
- 4.
- 5.
- 6.

Боевой порядок мотострелкового взвода(мсв) в обороне

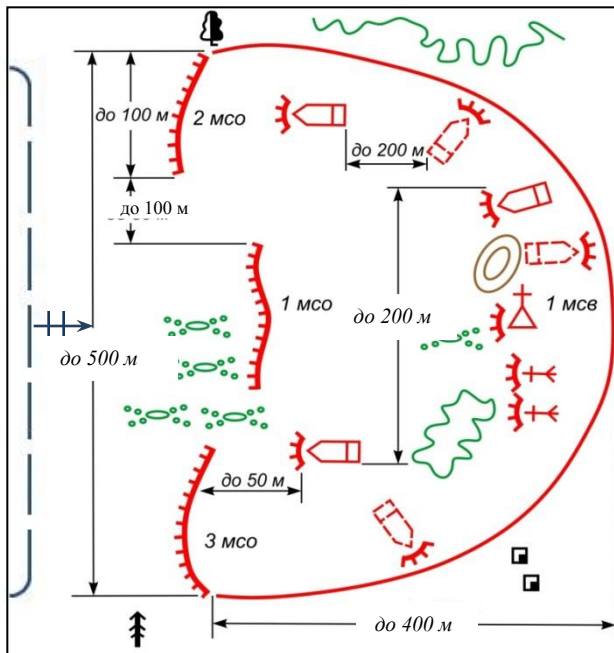


Рис. 1



Рис. 1а

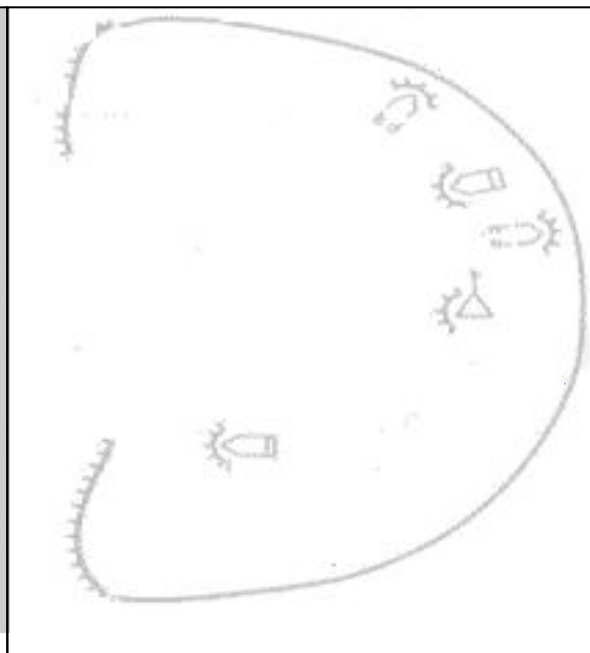
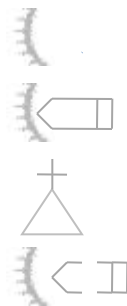


Рис. 1б

Задания

1. Используя офицерскую линейку и цветные карандаши раскрыть боевой порядок *мсв* в обороне на рис. 1а и 1б, согласно рис. 1.
2. Нанести соответствующим цветом недостающие элементы.
3. Указать на рис. 1а и 1б тактические нормативы боевого порядка *мсв* в обороне.
4. Используя Боевой устав ч.3, приложение 3 выделить основные условные обозначения соответствующим цветом и подписать их.
5. Изложить, что включает боевой порядок *мсв* в обороне (Боевой устав ч.3 ст. 36).
6. Изучить боевой порядок *мсв* в обороне и его тактические нормативы.

Основные условные обозначения



Боевой порядок *мсв* включает:

- 1.
- 2.
- 3.

Система огня усиленного мотострелкового отделения (*мсо*) в обороне

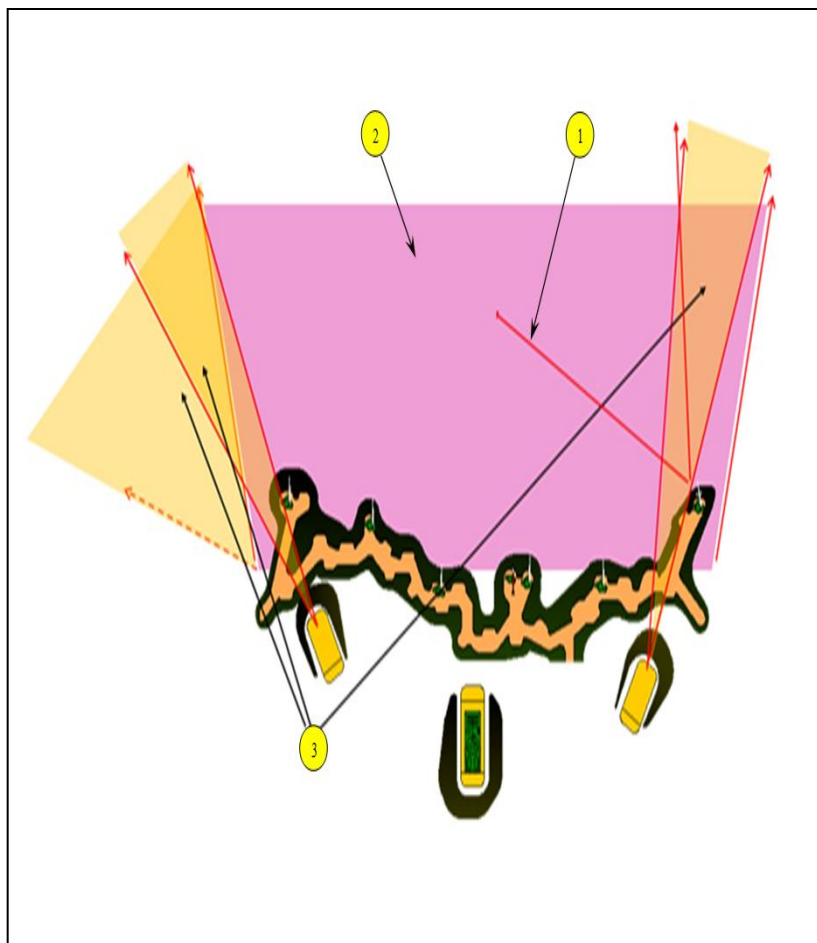


Рис.1

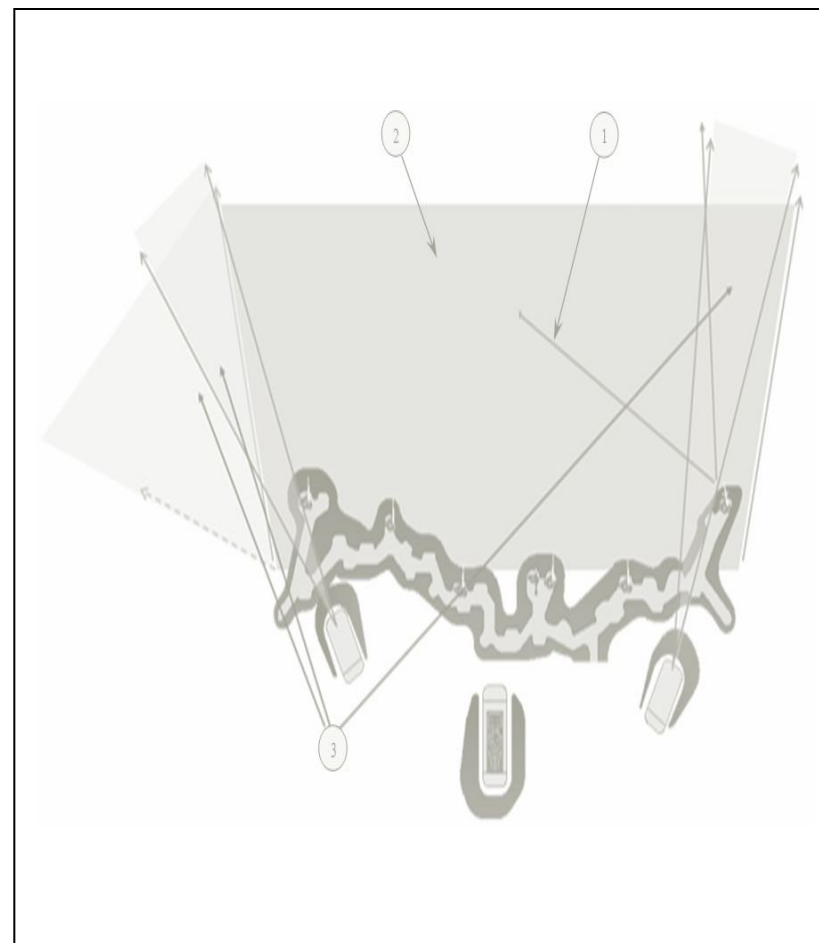


Рис.1а

Задание

1. Используя офицерскую линейку и цветные карандаши составить систему огня *мсо* на рис.1а, согласно рис.1.
2. Выделить соответствующим цветом и подписать рубежи открытия огня и основные элементы системы огня *мсо*.
3. Изложить, что включает система огня *мсо* в обороне (Боевой устав ч.3, ст. 37.)
4. Изучить содержание системы огня *мсо* в обороне.

Система огня *мсо* включает:

- 1.
- 2.
- 3.

Система огня усиленного мотострелкового взвода (мсв) в обороне

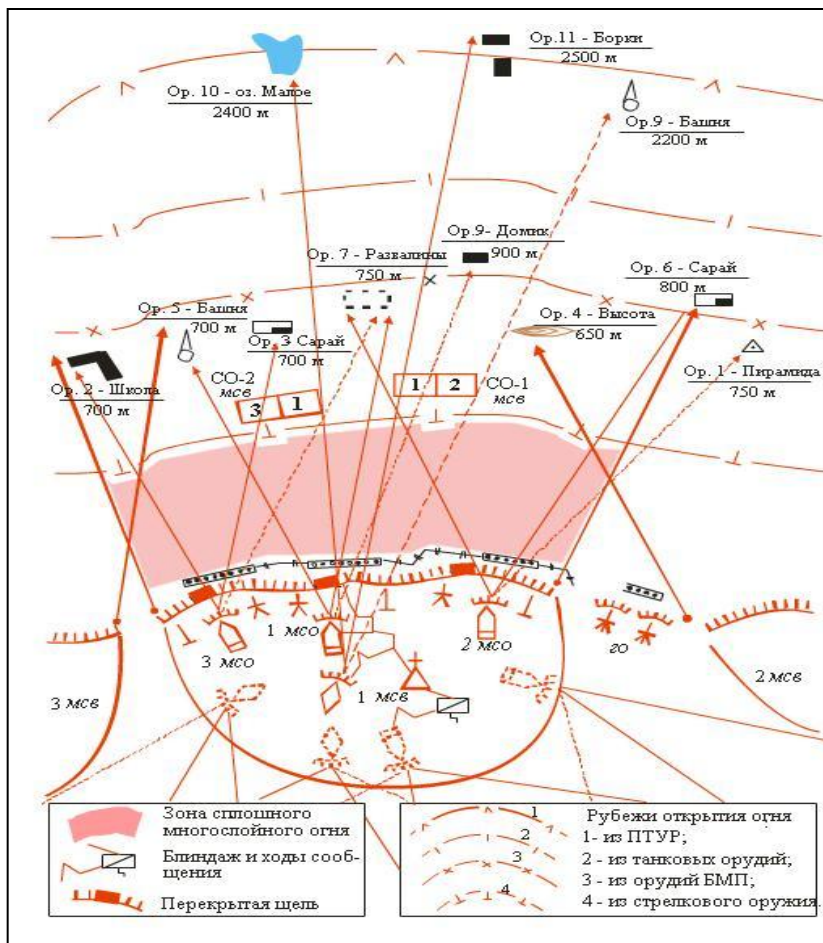


Рис.1

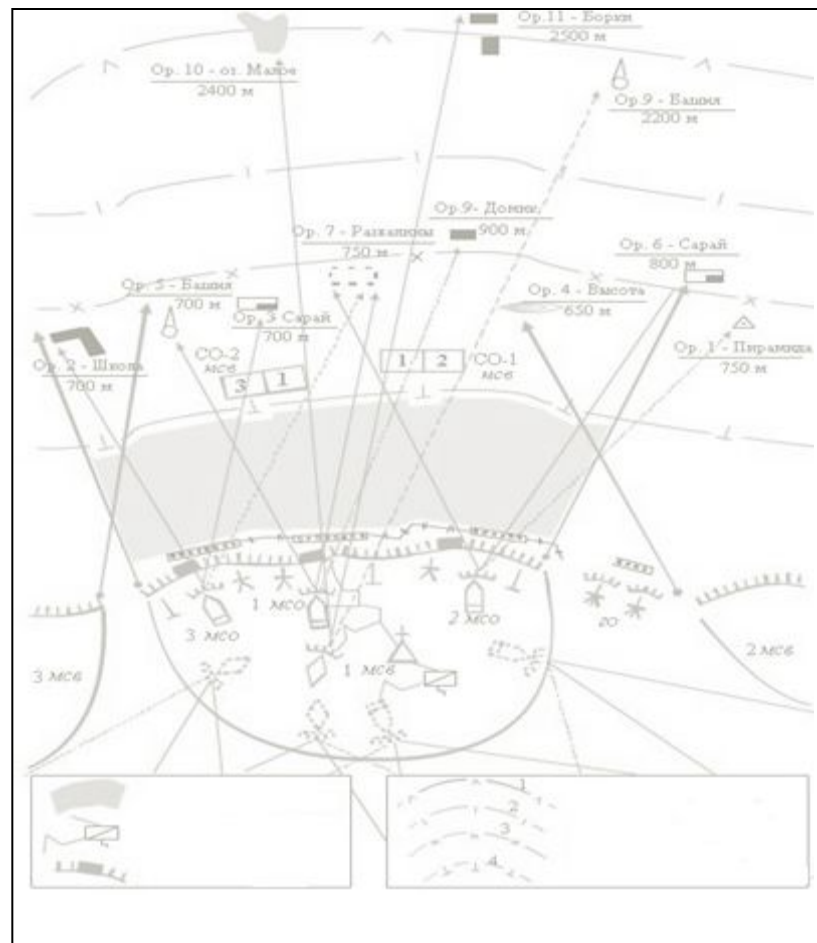


Рис.1а

Задание

1. Используя офицерскую линейку и цветные карандаши составить систему огня мсв на рис.1а, согласно рис.1.
2. Выделить соответствующим цветом и подписать рубежи открытия огня и основные элементы системы огня мсв .
3. Изложить, что включает система огня мсв в обороне (Боевой устав ч.3, ст. 38.)
4. Изучить содержание системы огня мсв в обороне.

Система огня мсв включает:

- 1.
- 2.
- 3.
- 4.

Боевой порядок мотострелковой роты (мср) в обороне

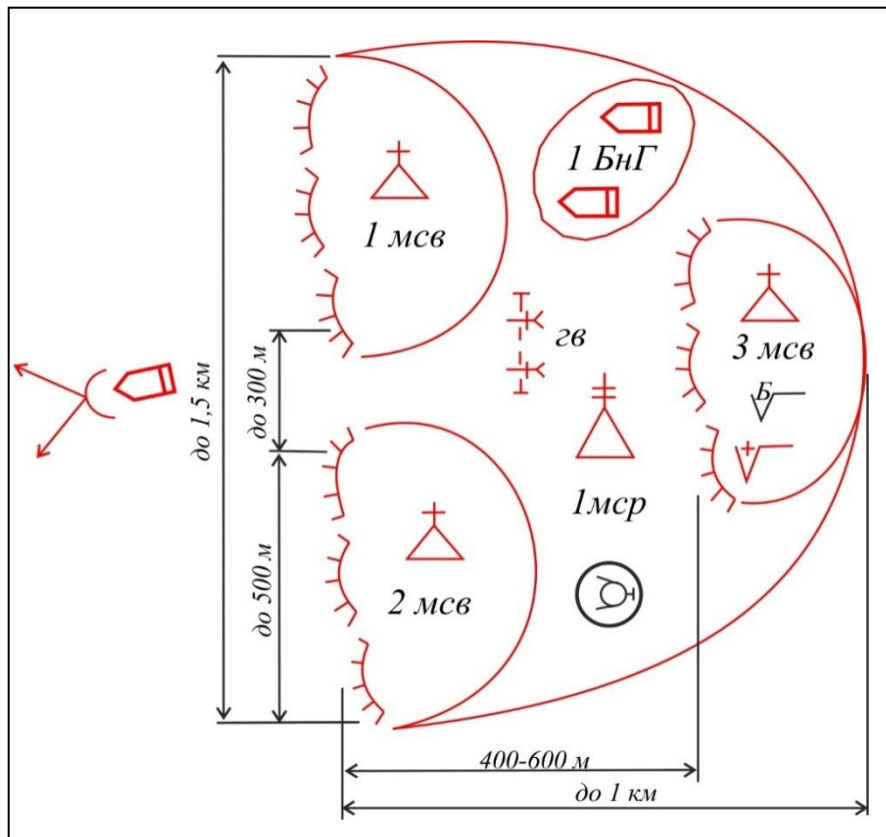


Рис.1

Задания

- Используя офицерскую линейку и цветные карандаши раскрыть боевой порядок *мср* в обороне на рис.1а и 1б, согласно рис.1.
- Нанести недостающие элементы боевого порядка *мср* в обороне.
- Указать на рис.1а и 1б тактические нормативы.
- Выделить соответствующим цветом основные условные обозначения и подписать их (Боевой устав ч. 2, приложение 3).
- Изложить, что включает боевой порядок *мср* в обороне (Боевой устав ч. 2, ст. 40).
- Изучить боевой порядок *мср* в обороне и его тактические нормативы.

Основные условные обозначения



Боевой порядок *мср* включает:

- 1.
- 2.
- 3.
- 4.
- 5.

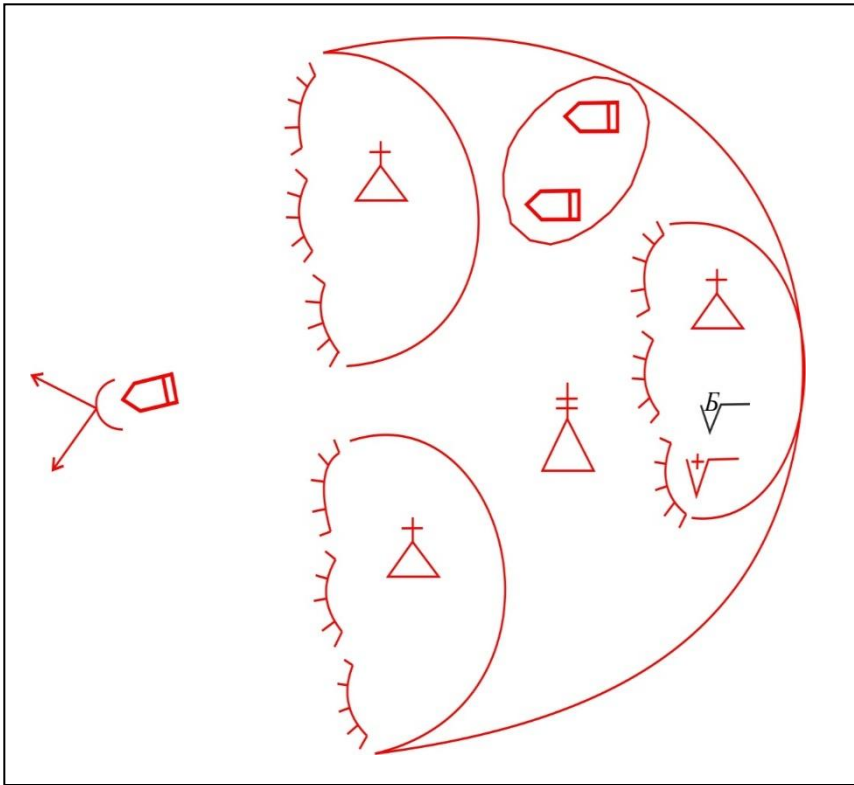


Рис.1а

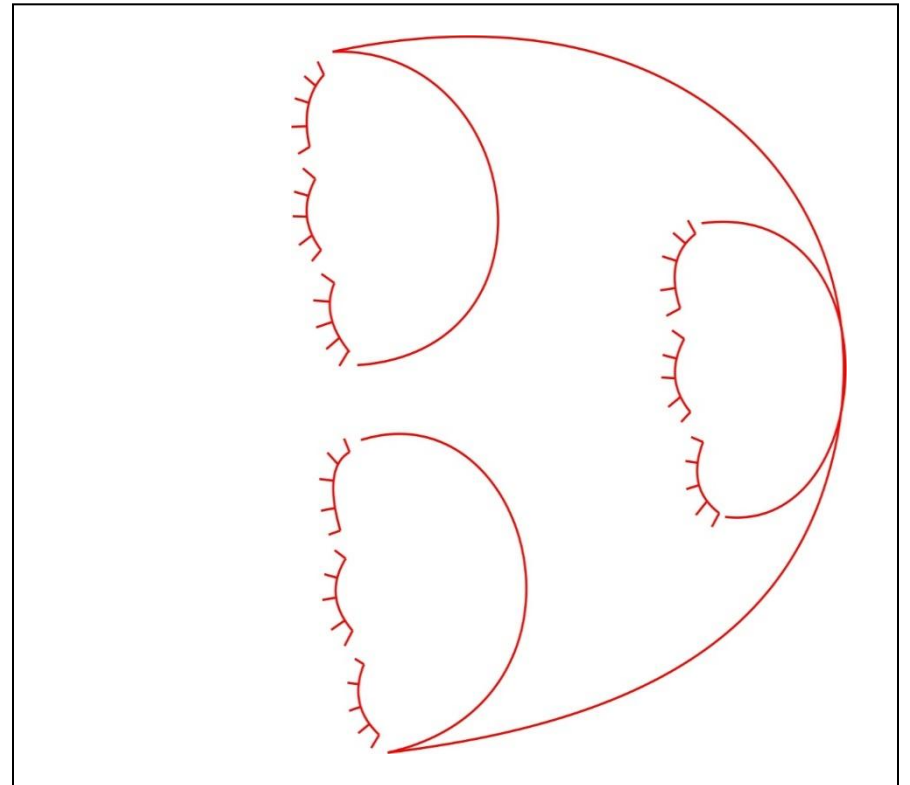


Рис.1б

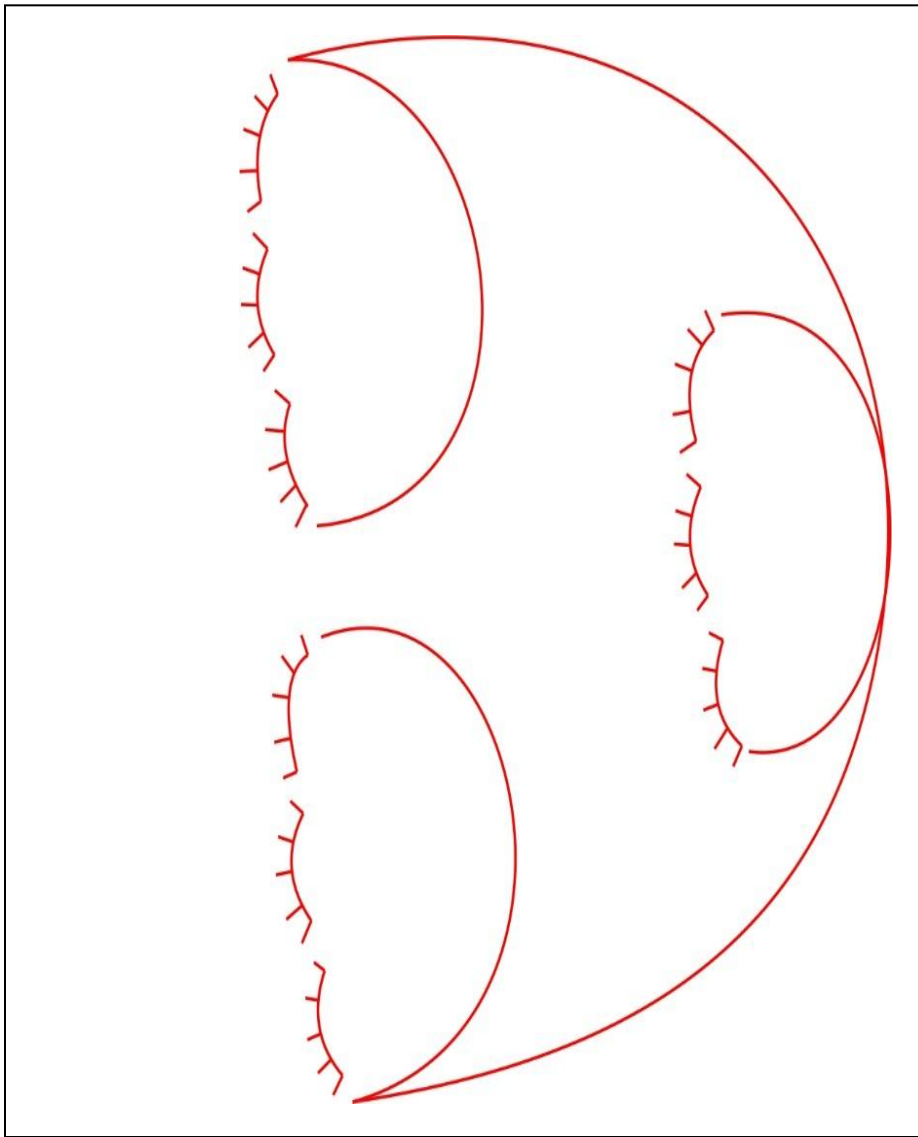


Рис.16

Основные условные обозначения

Устройство фортификационных сооружений открытого типа для личного состава

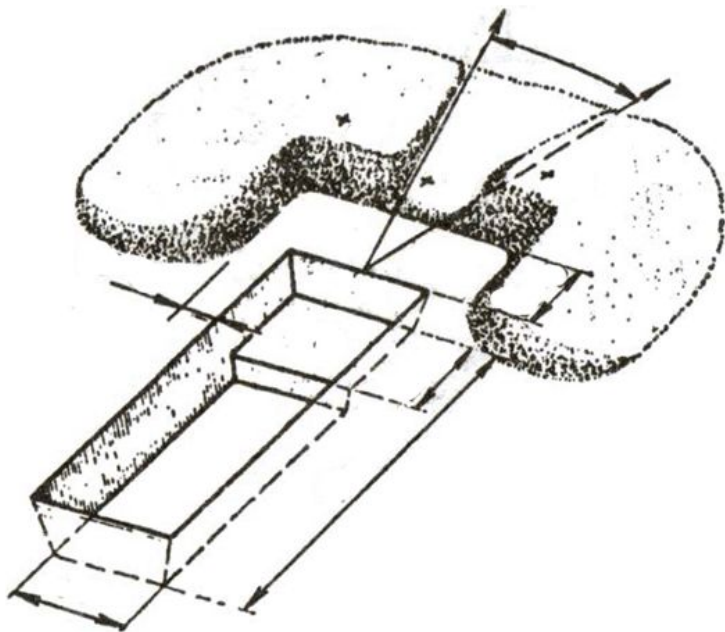


Рис.1 Одиночный окоп для стрельбы лежа

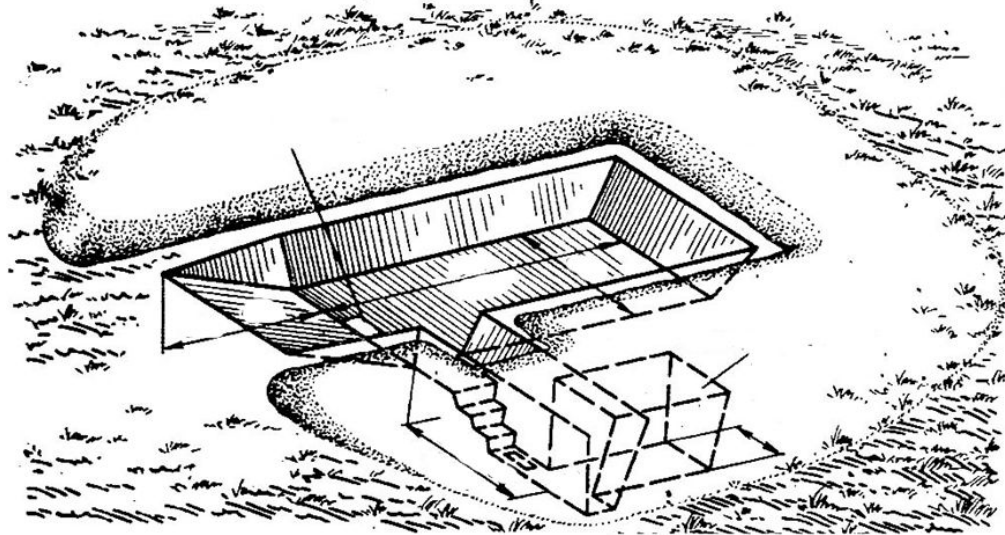


Рис.2 Окоп для боевой машины пехоты

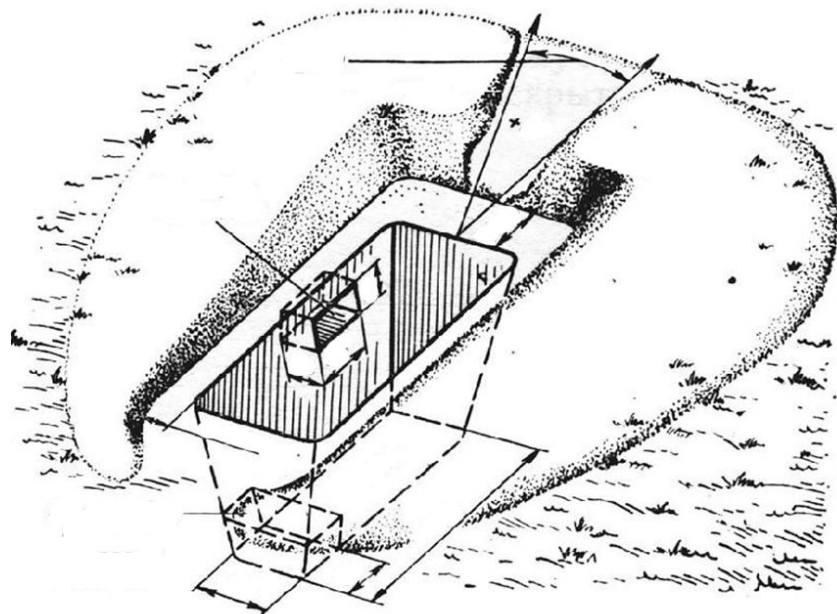


Рис.3 Одиночный окоп для стрельбы стоя

Задания

1. Используя учебное пособие Общая тактика с. 81, 84 и Боевой устав ч.3, приложение 16 подписать название элементов и нанести размеры окопов на рис.1, 2, 3.
2. Изучить нормативы по инженерной подготовке (Учебное пособие. Общая тактика ,с. 88, Боевой устав ч.3, приложение 16).

Фортификационное оборудование опорного пункта мотострелкового взвода (мсв)

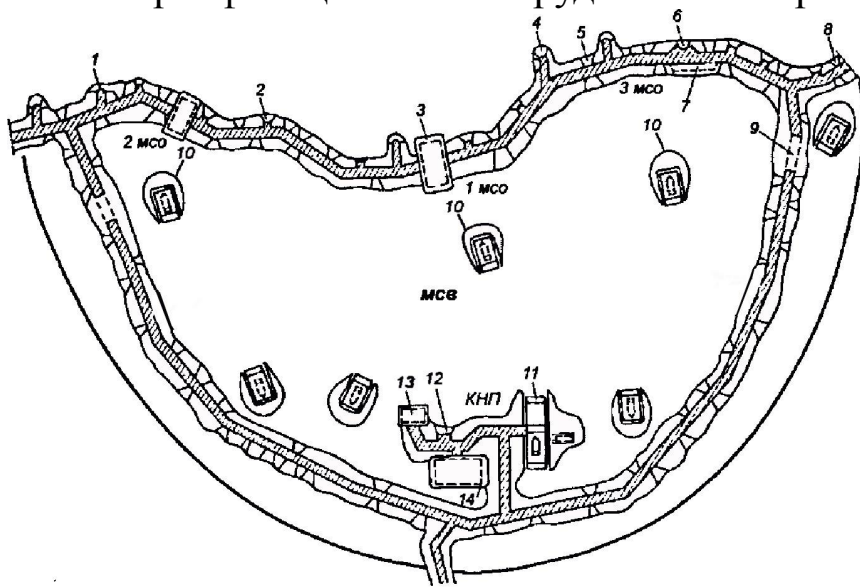


Рис.1 Фортификационное оборудование опорного пункта мотострелкового взвода первого эшелона роты (вариант)

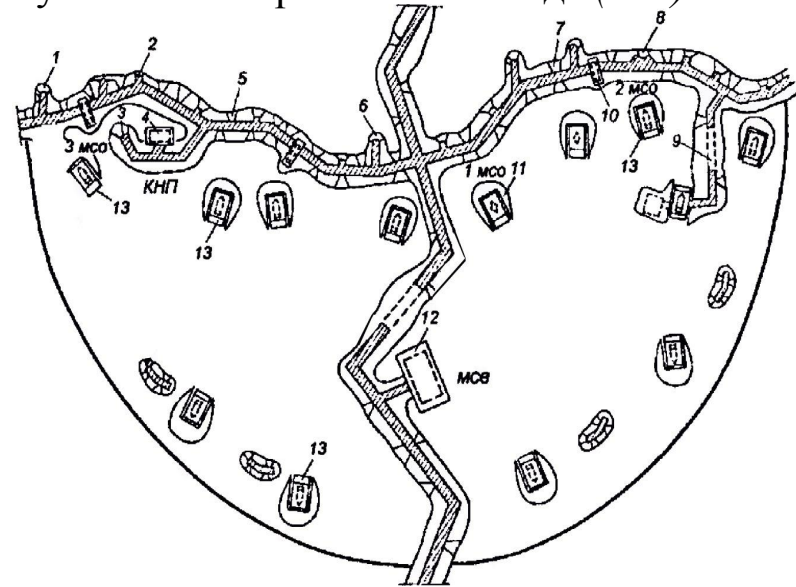


Рис.2 Фортификационное оборудование опорного пункта мотострелкового взвода второго эшелона роты (вариант)

- 1 -
- 2 -
- 3 -
- 4 -
- 5 -
- 6 -
- 7 -
- 8 -
- 9 -
- 10 -
- 11 -
- 12 -
- 13 -
- 14 -

- 1 -
- 2 -
- 3 -
- 4 -
- 5 -
- 6 -
- 7 -
- 8 -
- 9 -
- 10 -
- 11 -
- 12 -
- 13 -

Задания

1. Записать устройство фортификационного оборудования опорного пункта мотострелкового взвода первого и второго эшелона роты на рис.1 и 2 (Боевой устав 2005г. ч. 3, Приложение 25).
2. Изучить фортификационное оборудование опорного пункта мотострелкового взвода первого эшелона роты.

Боевой порядок мотострелкового отделения (мсо) на БМП в наступлении




Рис.1

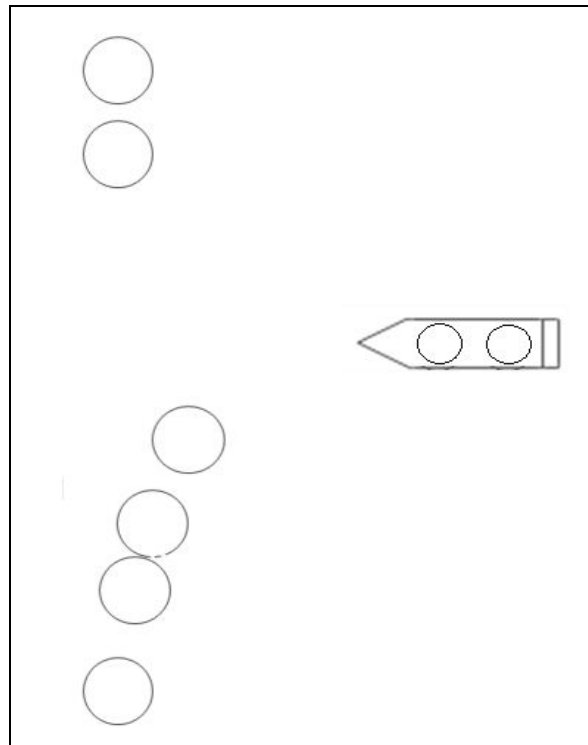


Рис.1а




Рис.1б

Задание

1. Используя офицерскую линейку и цветные карандаши раскрыть боевой порядок *мсо* на БМП в наступлении на рис.1а и 1б, согласно рис.1.
2. Нанести недостающие элементы боевого порядка *мсо* на БМП в наступлении на рис.1а и 1б.
3. Указать на рис.1а и 1б тактические нормативы боевого порядка *мсо* в наступлении.
4. Нанести основные сокращения и подписать их.
5. Изложить, что включает боевой порядок *мсо* в наступлении (Боевой устав ч.3, ст. 196).
6. Изучить боевой порядок *мсо* в наступлении и его тактические нормативы.

Основные сокращения

Боевой порядок *мсо* в наступлении включает:

- 1.
- 2.
- 3.

Боевой порядок мотострелкового взвода (мсв) на БМП в наступлении (в линию)

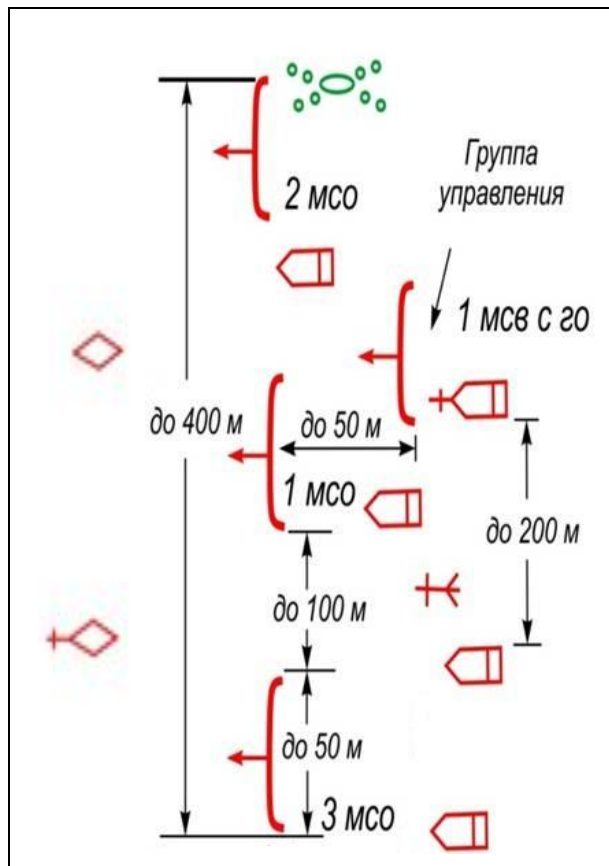


Рис.1

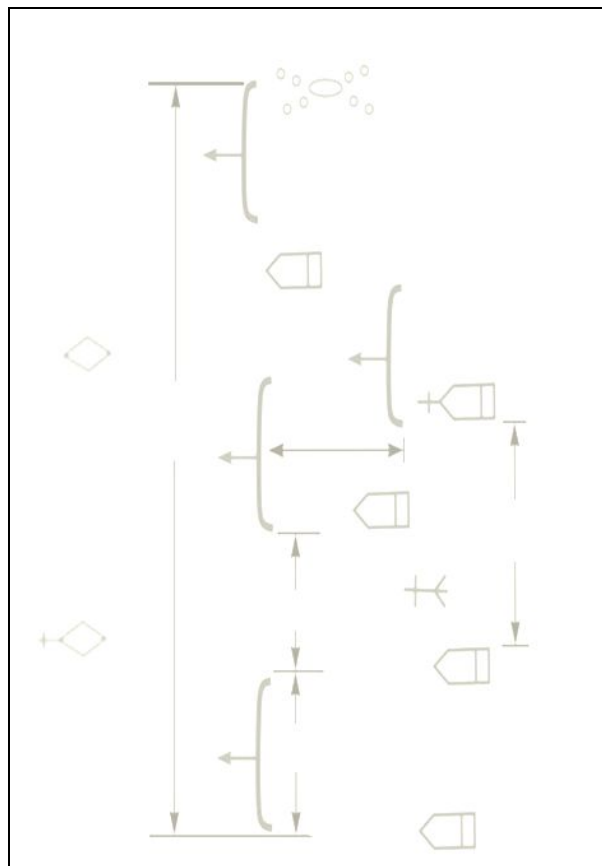


Рис.1а

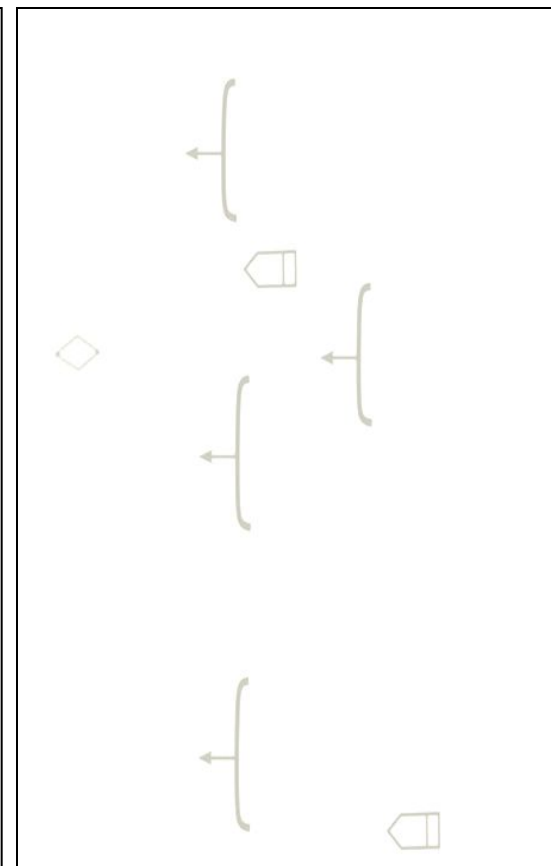


Рис.1б

Задание

1. Используя офицерскую линейку и цветные карандаши раскрыть боевой порядок *мсв* в наступлении на рис. 1а и 1б, согласно рис.1.
2. Нанести недостающие элементы боевого порядка *мсв*.
3. Указать на рис. 1а и 1б тактические нормативы боевого порядка *мсв* в наступлении.
4. Нанести основные условные обозначения и подписать их.
5. Изложить, что включает боевой порядок *мсв* в наступлении (Боевой устав ч.3, ст. 166).

Основные условные обозначения

Боевой порядок *мсв* в наступлении включает:

- 1.
- 2.
- 3.

Боевой порядок мотострелковой роты (мср) в наступлении в пешем порядке

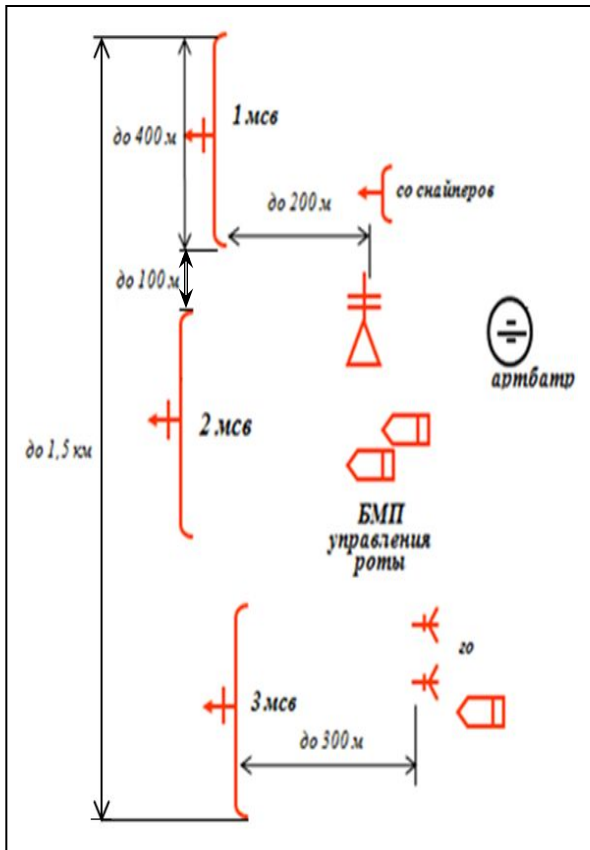


Рис.1

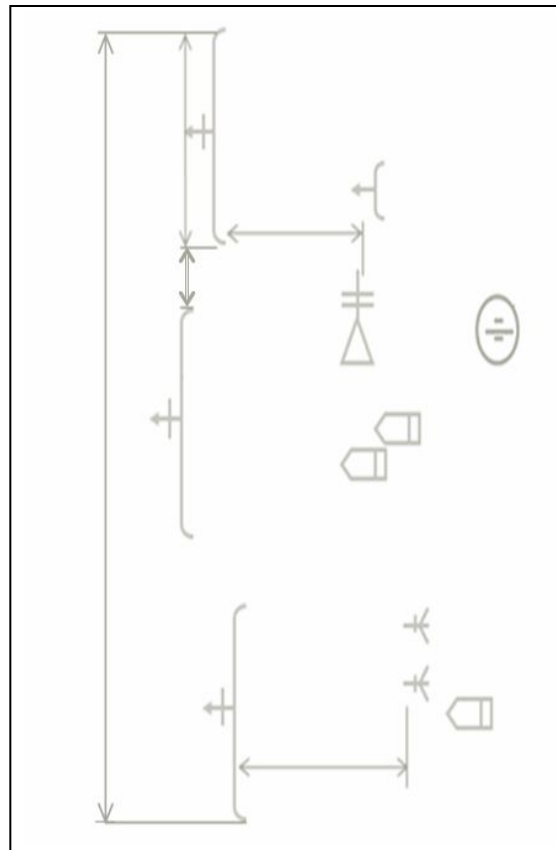


Рис.1а

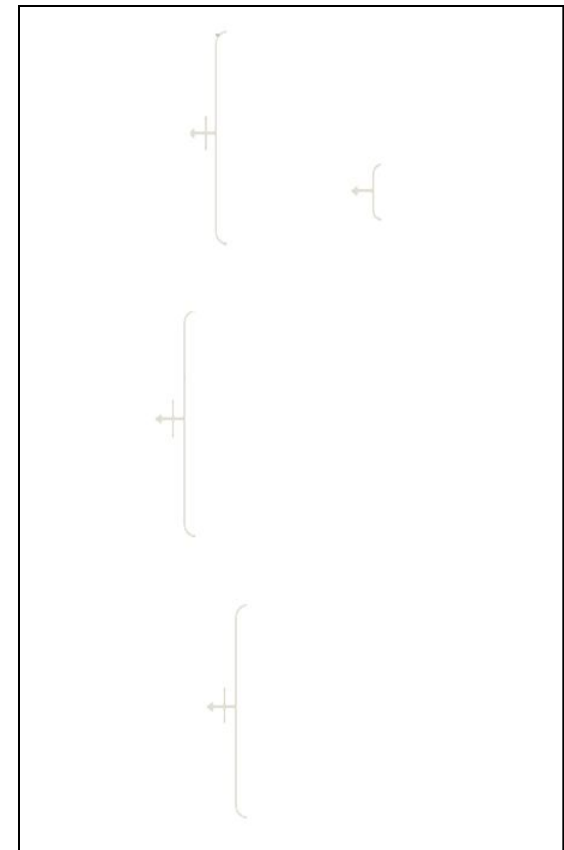


Рис.1б

Задание

1. Используя офицерскую линейку и цветные карандаши раскрыть боевой порядок *мср* в наступлении в пешем порядке на рис. 1а и 1б, согласно рис.1.
2. Нанести недостающие элементы боевого порядка *мср*.
3. Указать на рис. 1а и 1б тактические нормативы .
4. Выделить соответствующим цветом основные условные обозначения и подписать их (Боевой устав ч. 2, приложение 3).
5. Изложить, что включает боевой порядок *мср* в наступлении (Боевой устав ч. 2, ст. 159).

Основные условные обозначения



Боевой порядок роты обычно включает:

- 1.
- 2.
- 3.
- 4.

Боевой порядок мотострелковой роты (мср) на БМП в наступлении

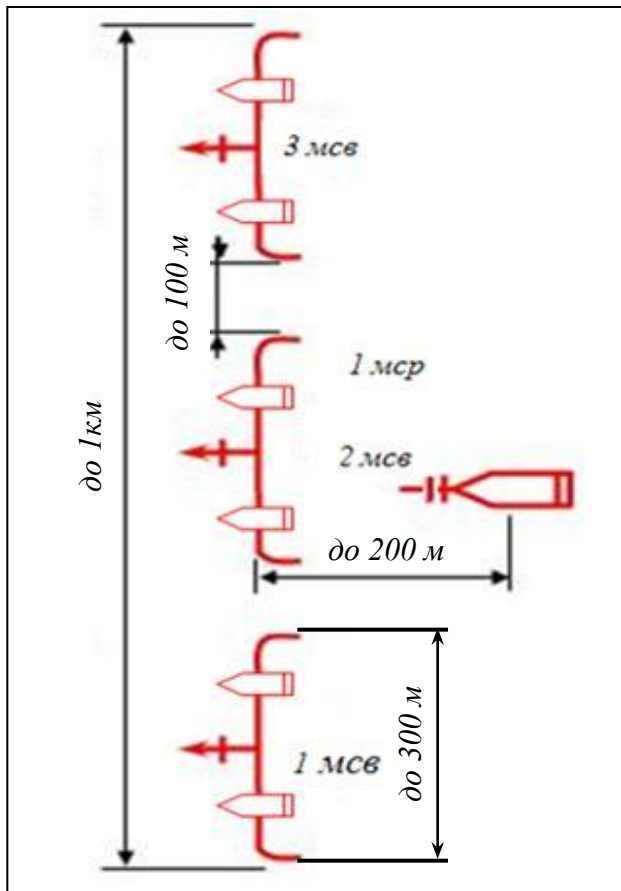


Рис.1

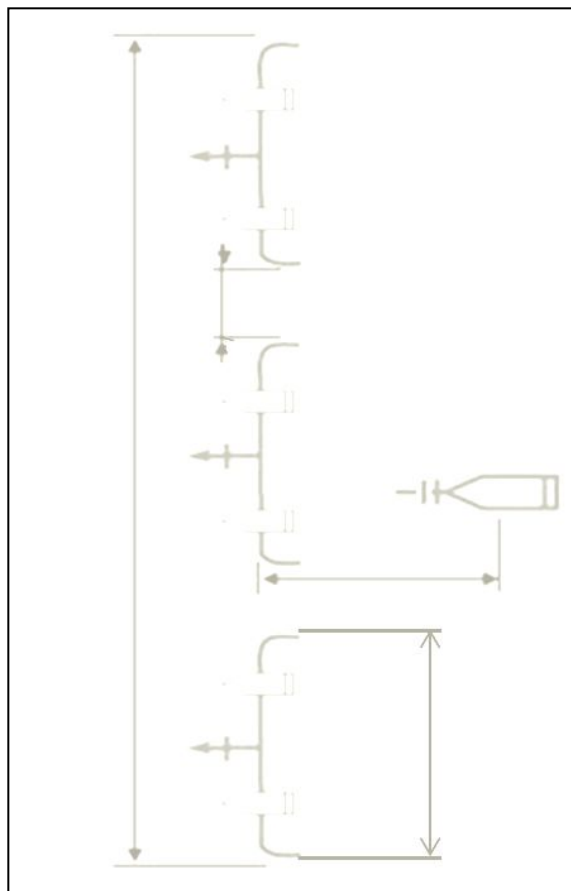


Рис.1а

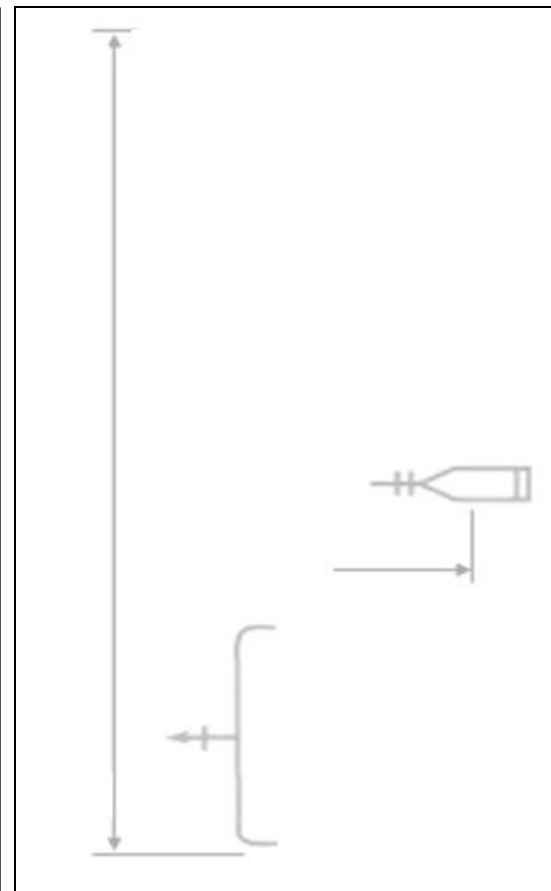


Рис.1б

Задание

1. Используя офицерскую линейку и цветные карандаши раскрыть боевой порядок мср на БМП в наступлении на рис.1а и 1б, согласно рис.1.
2. Нанести недостающие элементы боевого порядка мср в наступлении на рис.1а и 1б, согласно рис.1.
3. Нанести соответствующим цветом и подписать основные условные обозначения и сокращения (Боевой устав ч.3 приложение 3,5).
4. Изучить боевой порядок мср в наступлении и его тактические нормативы .

Основные условные обозначения

Основные сокращения

Боевой порядок мотострелкового батальона (мсб) на БМП в наступлении

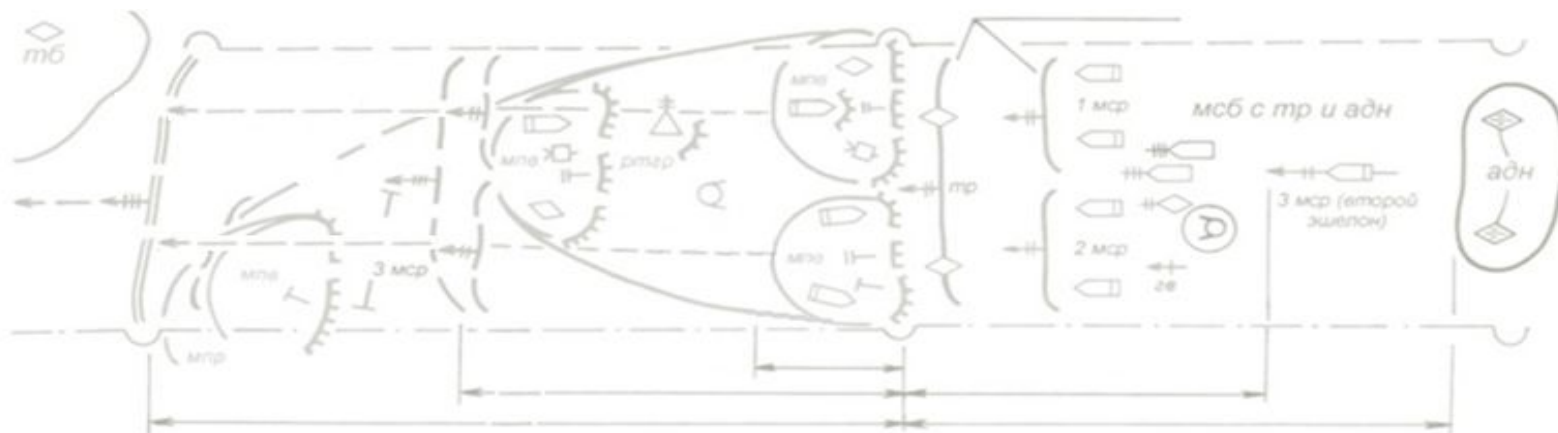


Рис.1

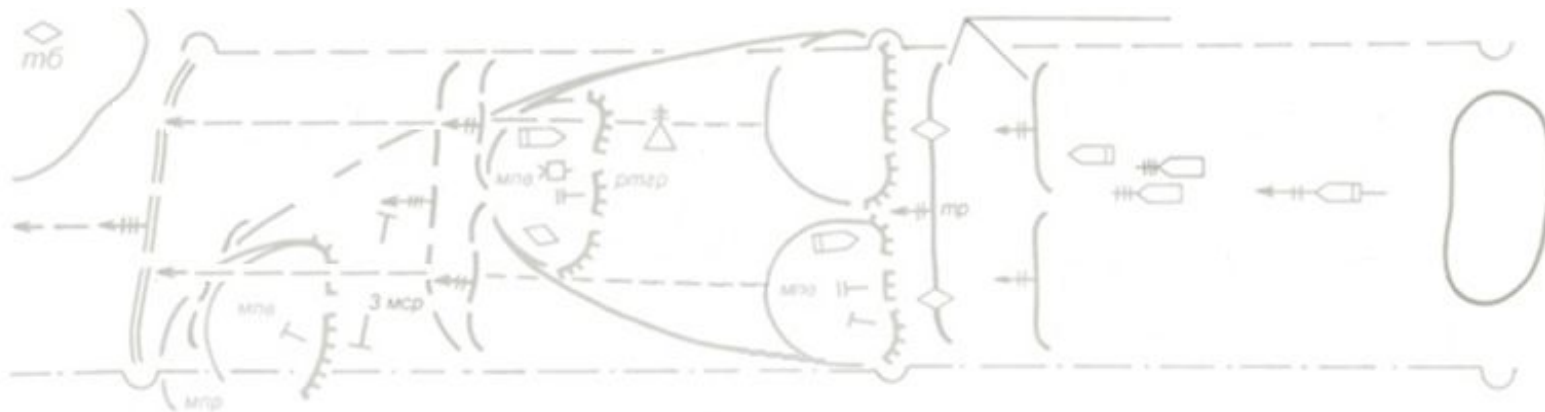


Рис.2

Задания

1. Используя офицерскую линейку и цветные карандаши раскрыть боевой порядок *мсб* в наступлении на рис.1,2 и нанести недостающие элементы, согласно учебника Тактика: батальон, рота, рис.4.4, с.159.
2. Указать тактические нормативы *мсб* в наступлении.
3. Изложить, что включает боевой порядок *мсб* в наступлении (Боевой устав ч. 2, ст.159).
4. Изучить, боевой порядок *мсб* в наступлении и его тактические нормативы.

Боевой порядок батальона обычно включает:

Боевой порядок танкового батальона (*тб*) в наступлении.

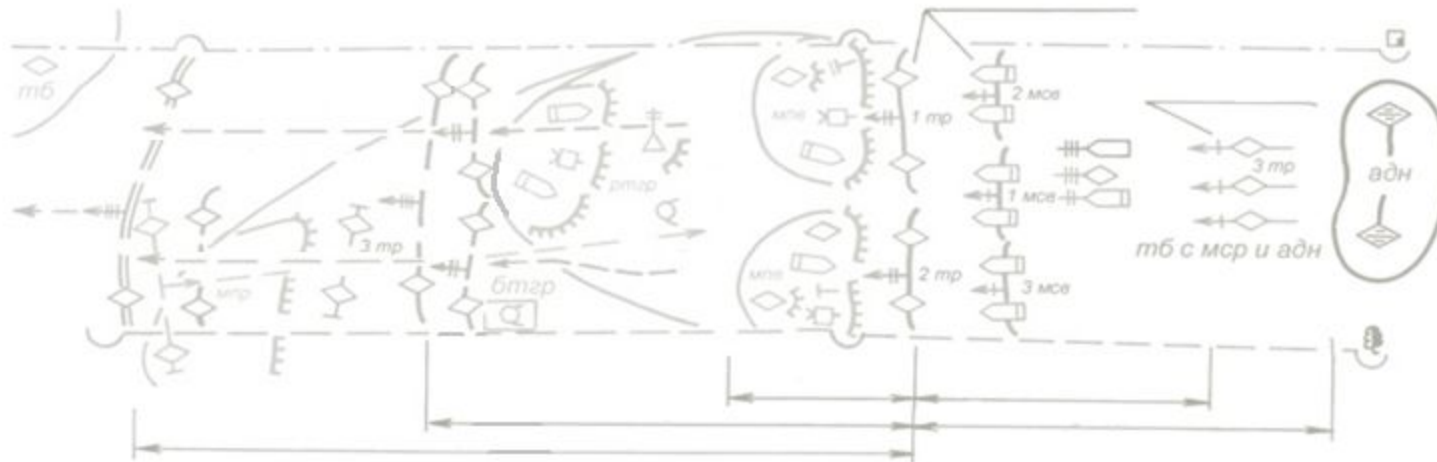


Рис.1

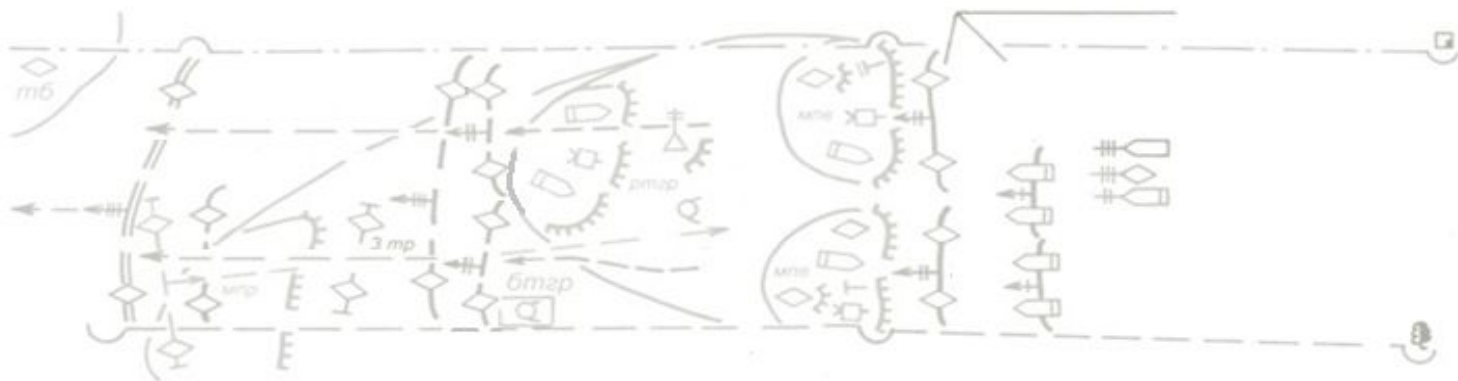


Рис.2

Задания

1. Используя офицерскую линейку и цветные карандаши раскрыть боевой порядок *тб* в наступлении на рис. 1,2 и нанести недостающие элементы, согласно учебника Тактика: батальон, рота, рис. 4.3, с.158.
2. Указать тактические нормативы *тб* в наступлении.
3. Нанести основные условные обозначения соответствующим цветом и подписать их (Боевой устав ч.2, приложение 3).
4. Изучить боевой порядок *тб* в наступлении и его тактические нормативы..

Основные условные обозначения

Рубежи развертывания и боевые задачи мотострелкового батальона (мсб) в наступлении



Рис.1

Задание

1. Используя офицерскую линейку и цветные карандаши начертить рубежи развертывания и боевые задачи мсб в наступлении на рис. 1а и 1б, согласно рис.1.
2. Нанести недостающие условные обозначения, сокращения и подписи.
3. Изложить маневренные возможности подразделений в наступлении (Учебник Тактика: батальон, рота, с.30).
4. Изучить боевые задачи мсб в наступлении (Боевой устав ч. 2, ст.158).

Маневренные возможности подразделений

Выход подразделений на рубеж перехода в атаку...-

Ведение атаки:

- в пешем порядке.....-
- на БМП, БТР, танках.....-

Развертывание из походной колонны в предбоевой порядок:

- мотострелковой (танковой) роты.....-
- мотострелкового (танкового) батальона.....-

Развертывание из колонны в боевой порядок:

- мотострелковой (танковой) роты.....-
- мотострелкового (танкового) батальона.....-

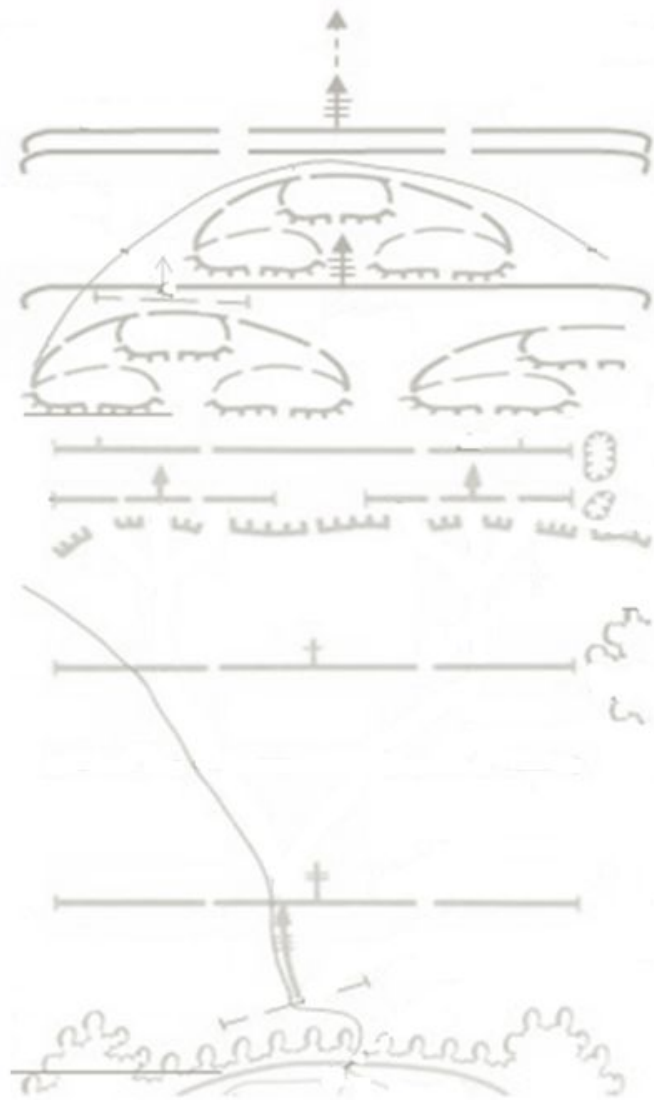


Рис.1а




Рис.1б

Расположение мотострелкового батальона (мсб) на месте

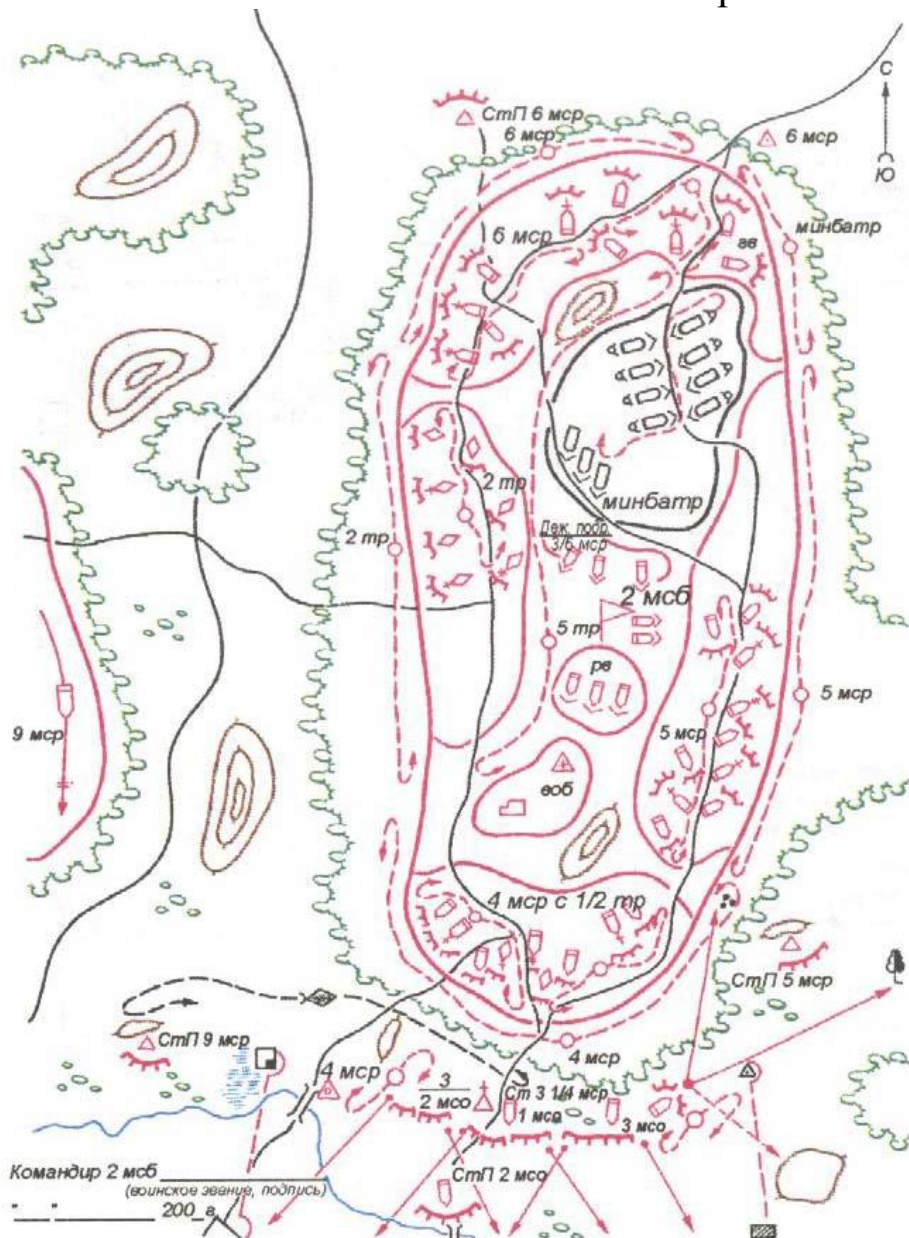


Рис.1

Задания

1. Используя офицерскую линейку и цветные карандаши начертить схему расположения мсб на месте на рис 1а, согласно рис 1.
2. Нанести основные условные обозначение и подписать их.
3. Изложить расстояния на открытой местности между военной техникой, подразделениями и указать величину района сосредоточения (Боевой устав ч.2, ст. 450).
4. Написать, что должны обеспечивать районы расположения. (Боевой устав ч.2, ст. 449).
5. Изучить определение «Расположение на месте» (Боевой устав ч.2, ст. 448).

Основные условные обозначения



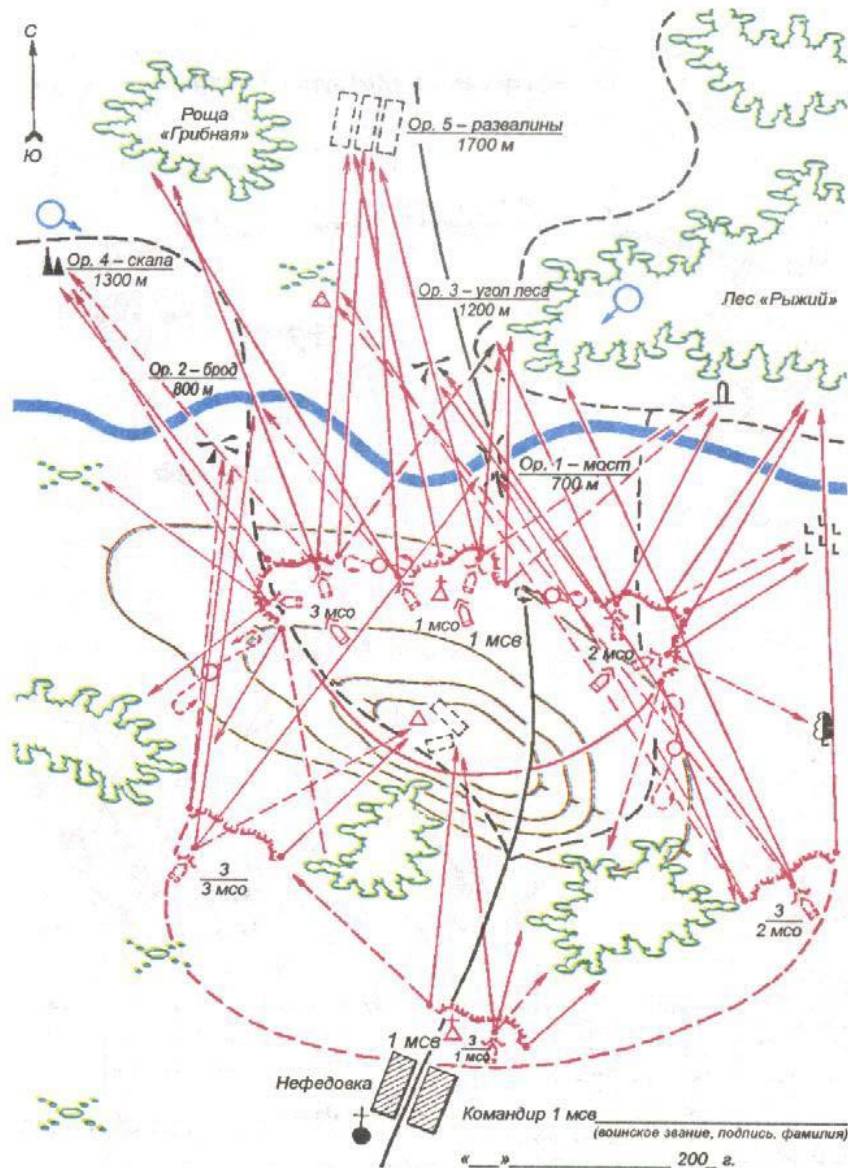
Рис.1а

Расстояния на открытой местности между:
 -танками, БМП(БТР)-
 -взводами-
 -ротами-

Величина района сосредоточения...

- Районы расположения должны обеспечивать:
- 1.
 - 2.
 - 3.
 - 4.
 - 5.

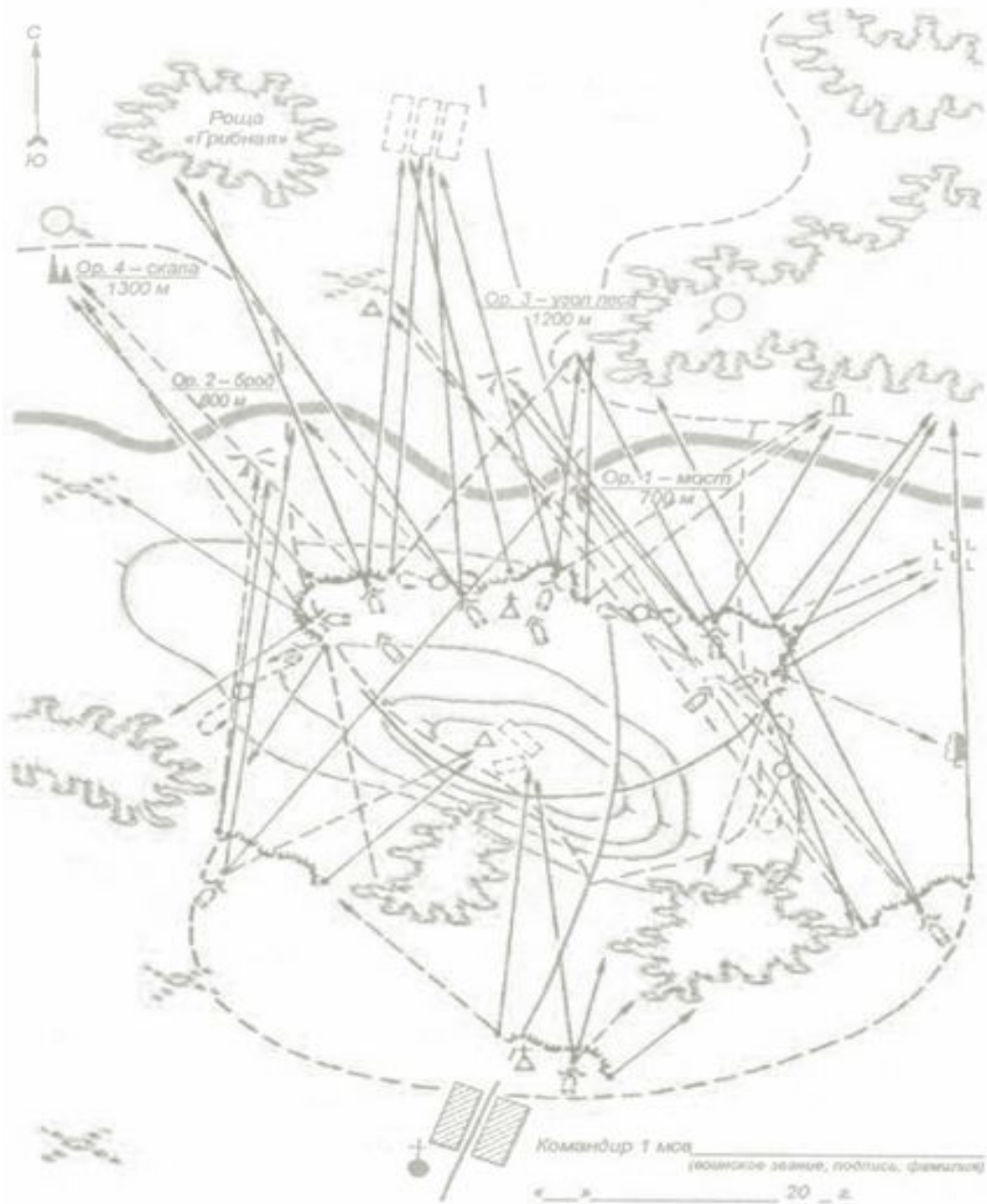
Мотострелковый взвод (мсв) в сторожевой заставе



Задания

1. Используя офицерскую линейку и цветные карандаши выделить *мсв* в сторожевой заставе на рис. 1а, согласно рис 1.
2. Нанести недостающие условные обозначения, сокращения и подписи.
3. Изложить показатели *мсв* в сторожевой заставе (Боевой устав 2005г. ч.3, ст.385).
4. Нанести основные условные обозначения и подписать их (Боевой устав ч.3, приложение 3).
5. Изучить ст.322 Боевого устава 2005г. ч.3.

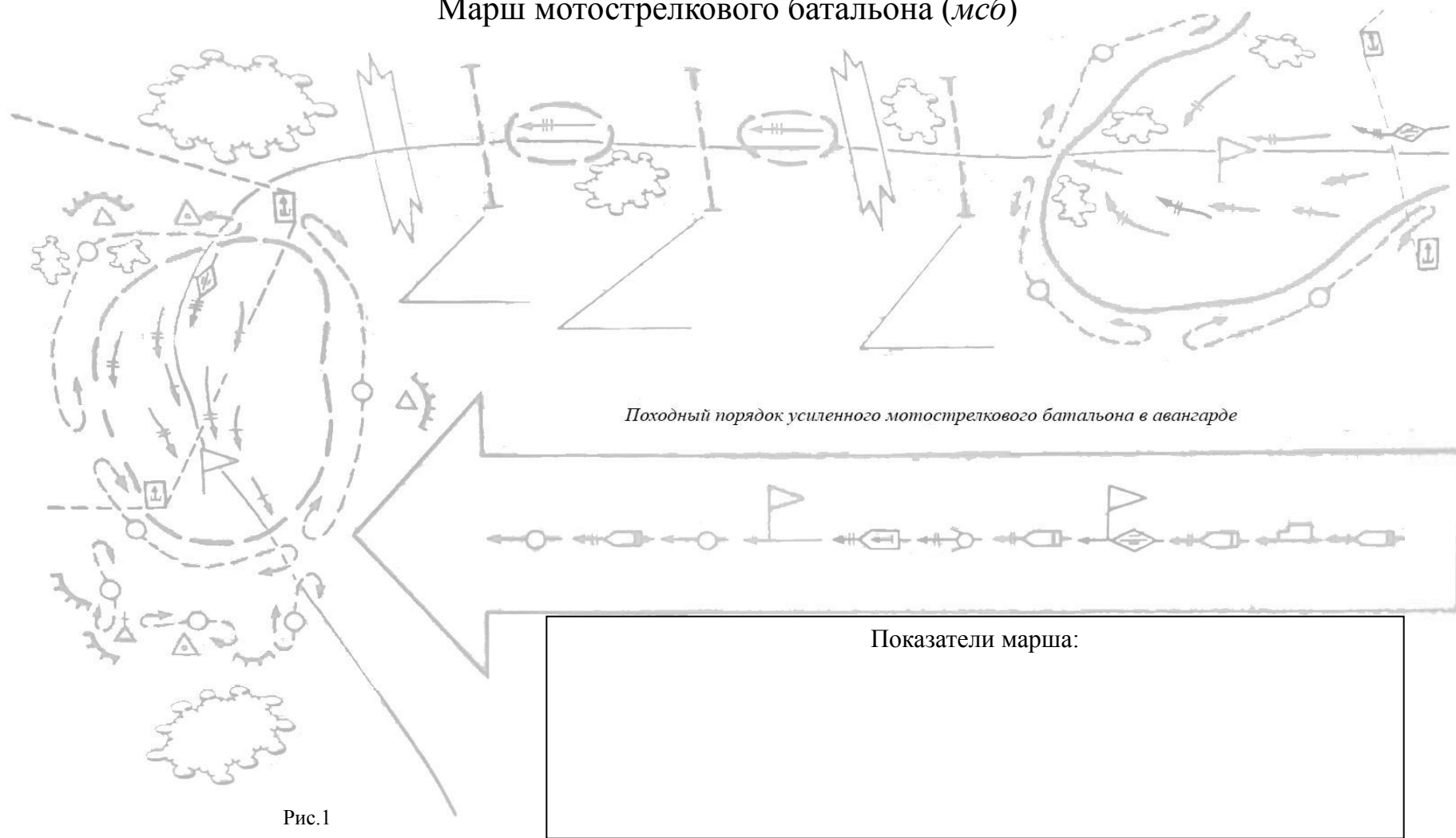
Показатели *мсв* в сторожевой заставе:



Основные условные обозначения

Рис.1а

Марш мотострелкового батальона (мсб)



Задания

1. Используя офицерскую линейку и цветные карандаши выделить марш и походный порядок мсб на рис.1 и 2 (Боевой устав 2005г. ч.2, приложение 13).
2. Нанести недостающие условные обозначения, сокращения и подписи.
3. Изложить показатели марша (Боевой устав ч.2, ст.399, 400).
4. Нанести основные условные обозначения и подписать их (Боевой устав ч.2, приложение 3).
5. Изучить определение «Марш» Боевой устав ч.2, ст.398).

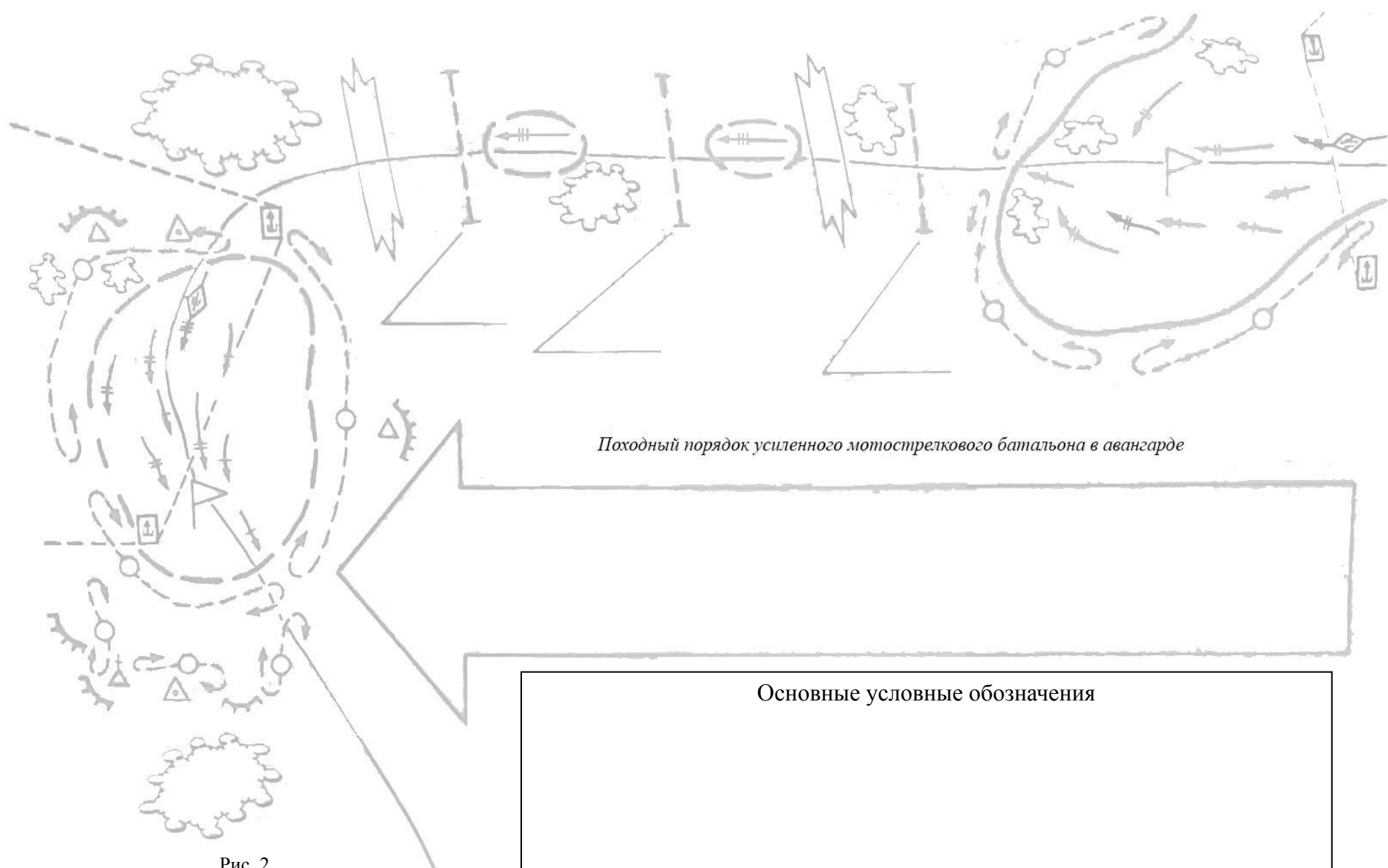


Рис. 2

Районы (места), станции, назначаемые подразделениям при перевозке железнодорожным транспортом

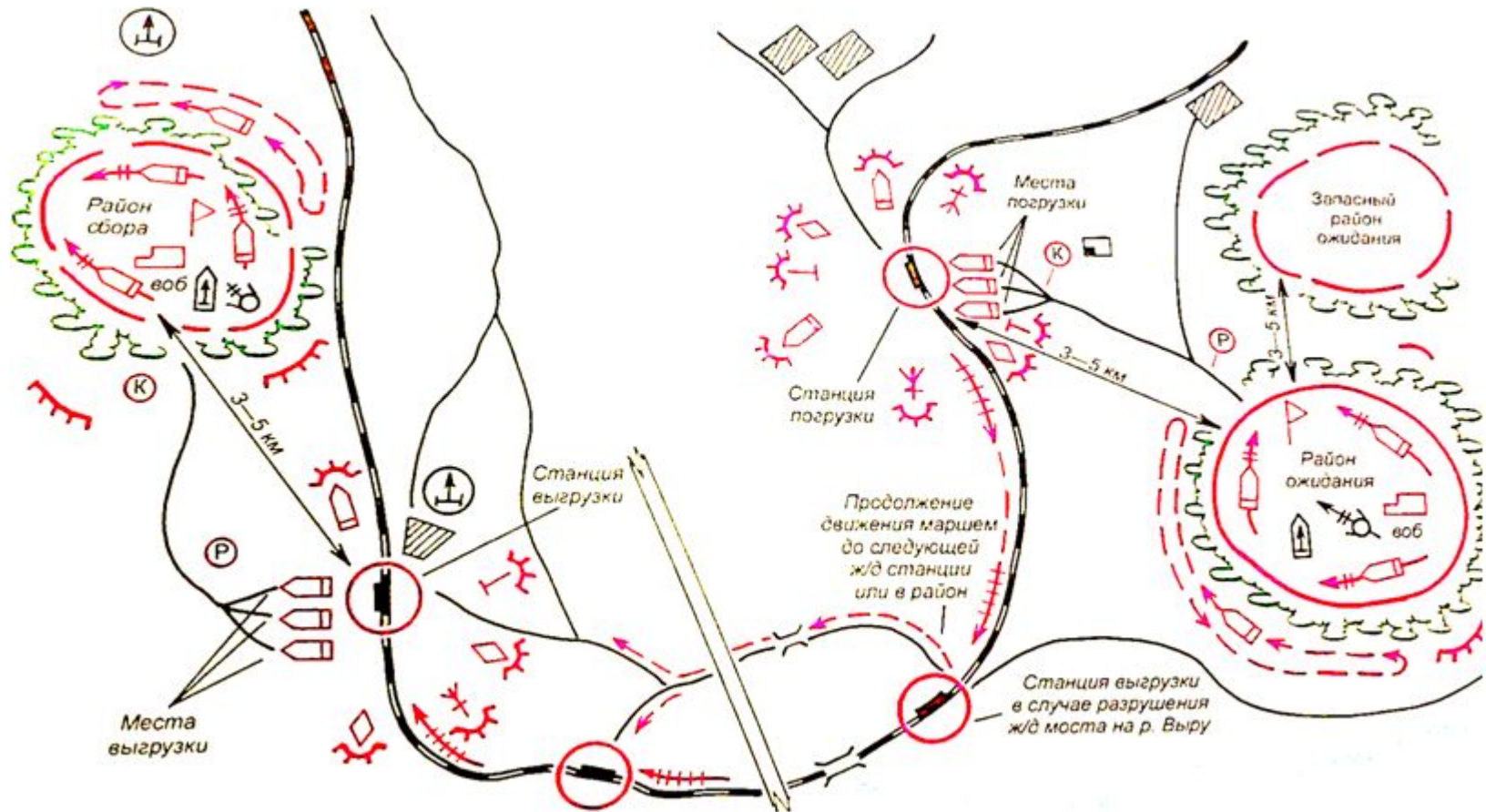


Рис.1

Задания

1. Используя офицерскую линейку и цветные карандаши раскрыть районы (места), станции, назначаемые подразделениям при перевозке железнодорожным транспортом на рис.1а, согласно рис 1.
2. Нанести недостающие условные обозначения, сокращения и подписи.
3. Используя офицерскую линейку и цветные карандаши нанести основные условные обозначения и подписать их.
4. Изучить ст.430 Боевого устава ч.2.

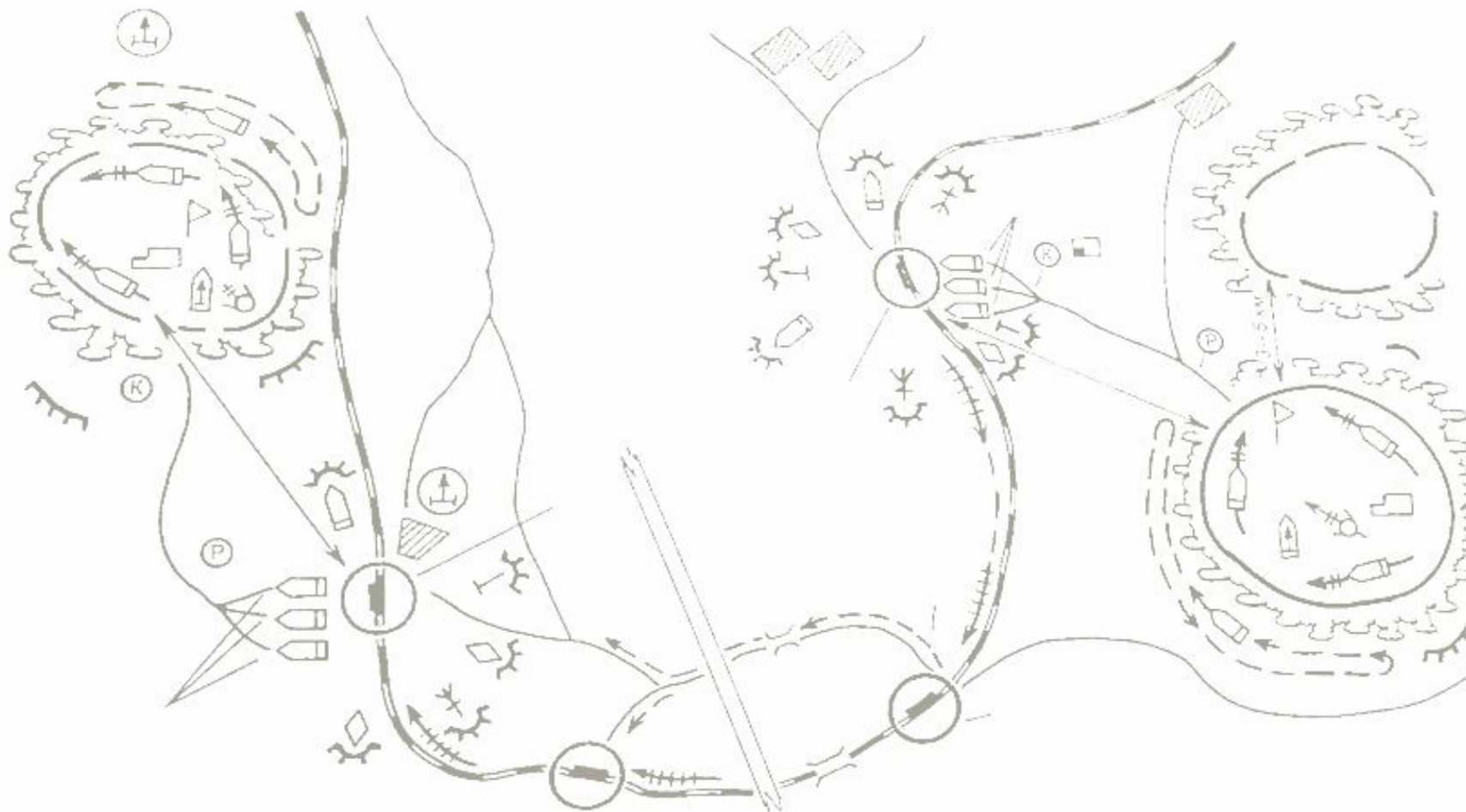


Рис. 2

Основные условные обозначения

Рекомендательный библиографический список

1. Боевой устав Сухопутных войск. М.: Военное издательство, 2013. Ч.2. 799 с.
2. Боевой устав Сухопутных войск. М.: Военное издательство, 2013. Ч.3. 505 с.
3. Вооруженные силы зарубежных государств: информационно-аналитический сборник. А.Н. Сидорин, Г.М.Мингатин, В.М.Прищепов, В.П.Акуленко. М: Военное издательство, 2009. 528 с.
4. Военная топография.
5. Общая тактика: Учеб. пособие. М.Н.Розум, С.В.Вакуленко, А.В.Зиновьев. СПб, 2010. 127 с.
6. Тактика: батальон, рота. С.А.Батюшкин. Военное издательство, 2011. 416 с.

Оглавление

Виды манёвра огнем.....	3	Боевой порядок мотострелкового отделения в обороне.....	27
Виды манёвра взводом.....	4	Карточка огня мотострелкового отделения в обороне.....	28
Виды соединений, частей и подразделений Сухопутных войск	5	Боевой порядок мотострелкового взвода в обороне.....	29
Структура Сухопутных войск Вооруженных сил РФ.....	6	Система огня мотострелкового отделения в обороне.....	30
Организация мотострелкового отделения на БМП.....	7	Система огня усиленного мотострелкового взвода в обороне.....	31
Организация мотострелкового взвода на БМП.....	8	Боевой порядок мотострелковой роты в обороне.....	32
Организация мотострелковой роты на БМП.....	9	Боевой порядок мотострелкового батальона в обороне.....	34
Организация мотострелкового батальона на БМП.....	10	Устройство фортификационных сооружений открытого типа для личного состава.....	36
Организация танкового батальона.....	11	Фортификационное оборудование опорного пункта мотострелкового взвода.....	37
Организация мотопехотного батальона армии США.....	12	Боевой порядок мотострелкового отделения на БМП в наступлении.....	38
Организация танкового батальона армии США.....	13	Боевой порядок мотострелкового взвода на БМП в наступлении.....	39
Боевой порядок ротной тактической группы армии США в обороне.....	14	Боевой порядок мотострелковой роты в наступлении в пешем порядке.....	40
Боевой порядок мотопехотного взвода армии США в обороне.....	15	Боевой порядок мотострелковой роты в наступлении на БМП	41
Боевой порядок батальонной тактической группы США в обороне.....	17	Боевой порядок мотострелкового батальона в наступлении.....	42
Боевой порядок батальонной тактической группы США в наступлении.....	19	Боевой порядок танкового батальона в наступлении.....	43
Организация мотопехотного батальона армии ФРГ.....	21	Рубежи развертывания и боевые задачи мотострелкового батальона в наступлении.....	44
Боевой порядок мотопехотного батальона ФРГ в обороне.....	22	Расположение мотострелкового батальона (<i>мсб</i>) на месте.....	46
Боевой порядок мотопехотного батальона ФРГ в наступлении.....	24	Мотострелковый взвод в сторожевой заставе.....	48
Организация танкового батальона армии ФРГ.....	26	Марш мотострелкового батальона.....	50
		Районы (места), станции, назначаемые подразделениям при перевозке железнодорожным транспортом.....	52
		Рекомендательный библиографический	54

Учебное издание

**ТОЛБАСОВ Вячеслав Валерианович
ВАКУЛЕНКО Сергей Владимирович**

ОБЩАЯ ТАКТИКА

Сборник упражнений