


Кілограм



Подивись, у цих двох мішках знаходяться картопля і цибуля. На око дуже важко визначити, який з мішків легший, а який - важчий. Тут нам допоможе спеціальний прилад для вимірювання маси – **ваги**.



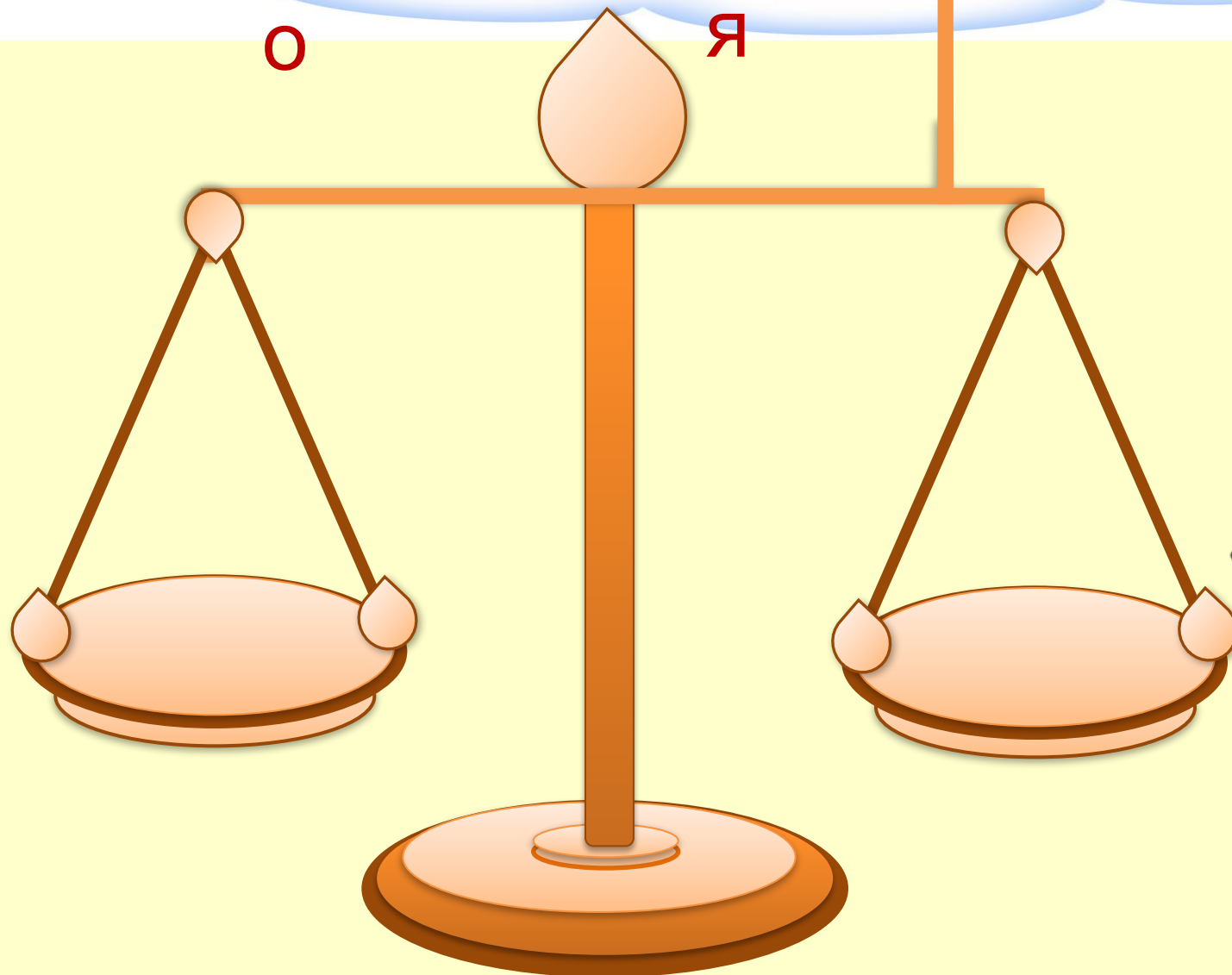
Розглянь, які бувають ваги. Подумай, якими вагами люди найчастіше користувались раніше?



Раніше частіше користувалися шальковими вагами.

Якщо шалька з предметом опускалася нижче,
значить маса предмета була більше.

Яблук > Полуниц
о я



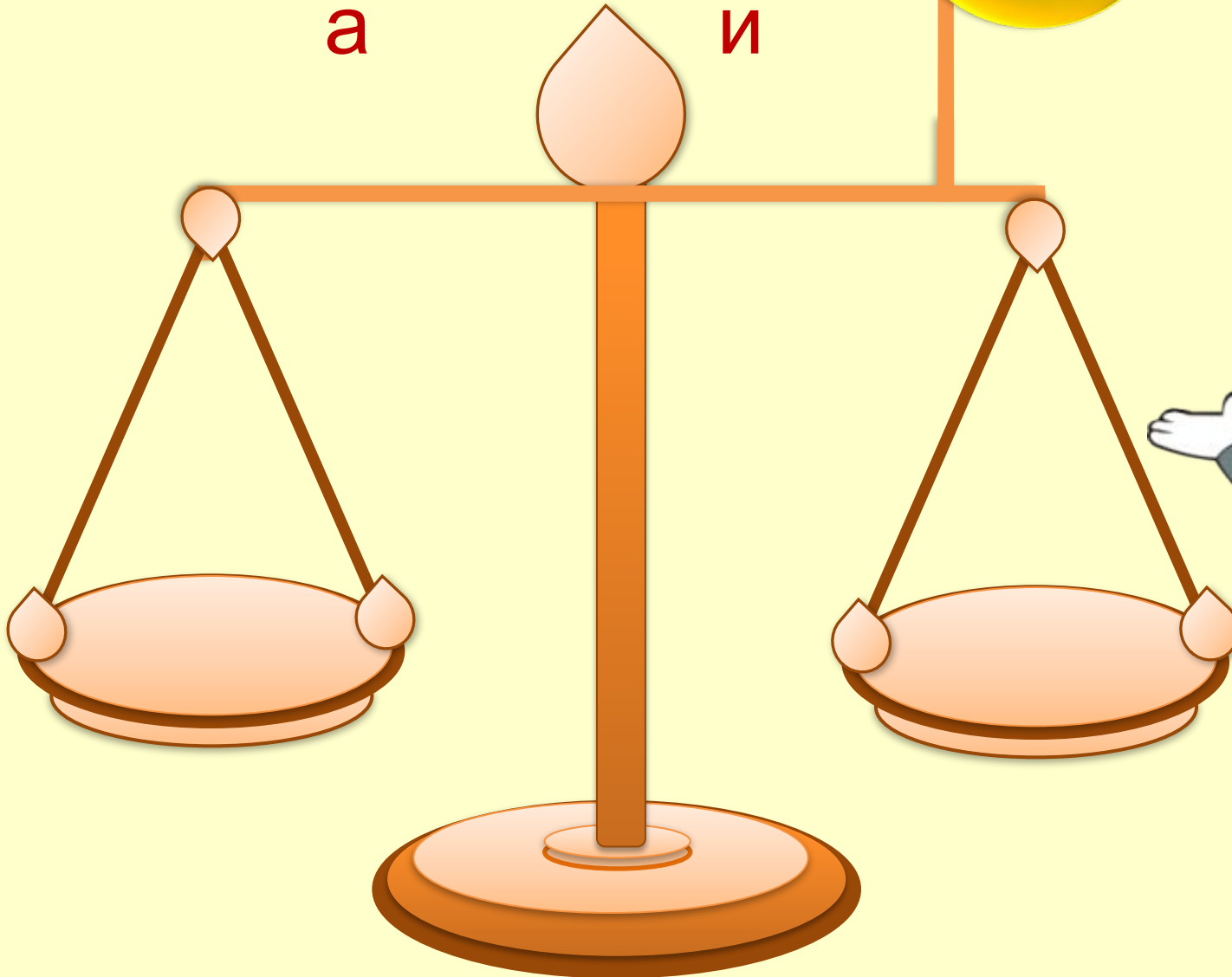



Якщо шалька з предметом піднялась вище, тоді
маса предмета менше.

Груш < Бана

а

и





Візьми гарбуз і порівняй масу цих предметів за допомогою знаків $>$, $<$ та $=$. Постави знак.



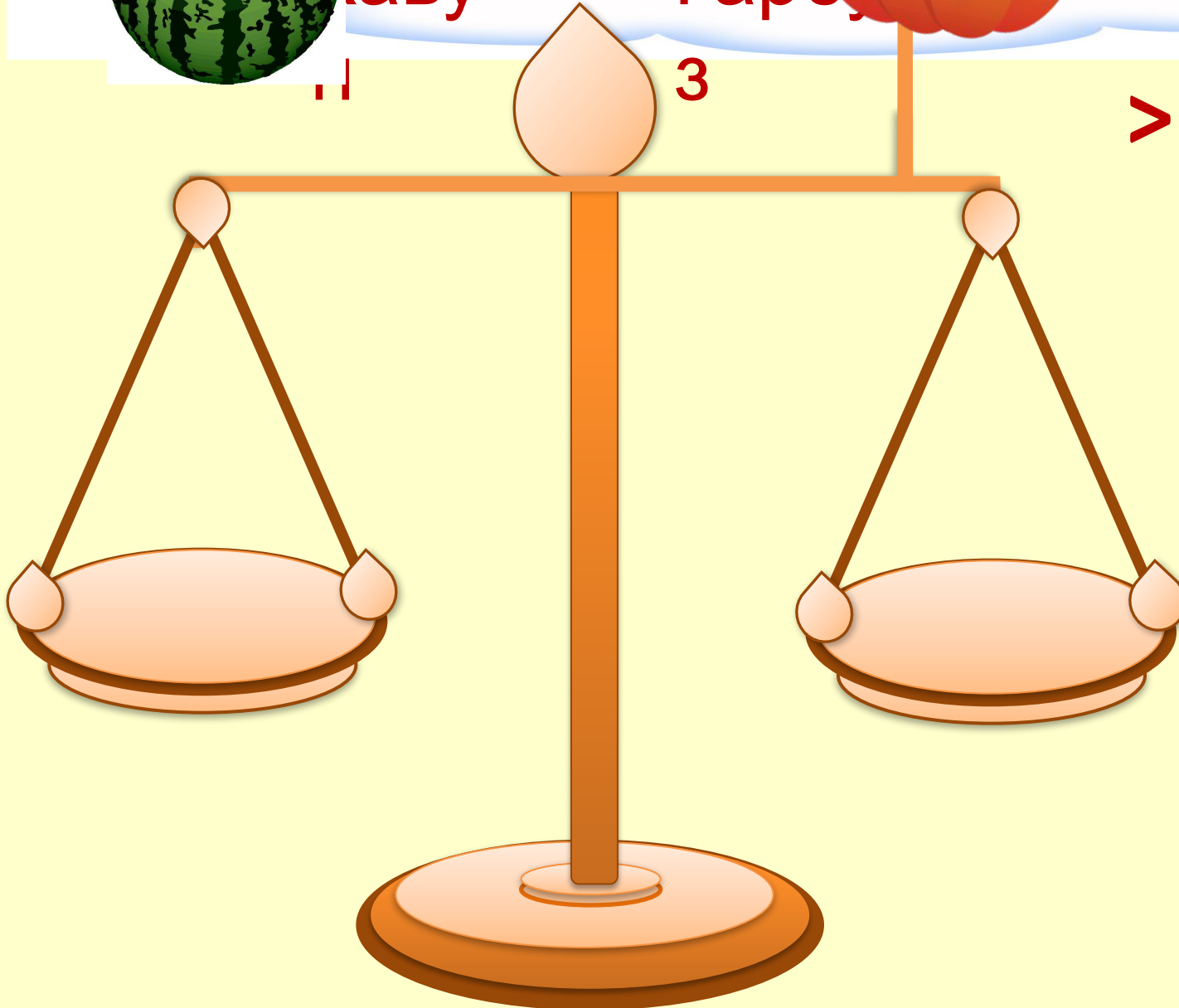
$<$

$=$

$>$

$<$

$=$





Розглянь і порівняй маси наступних предметів за допомогою знаків $>$, $<$, $=$. Тисни на знак.

Гуск Курк

а

а

$>$ $<$ $=$



Розглянь зважування і скажи, чому дорівнює

маса

= масі з

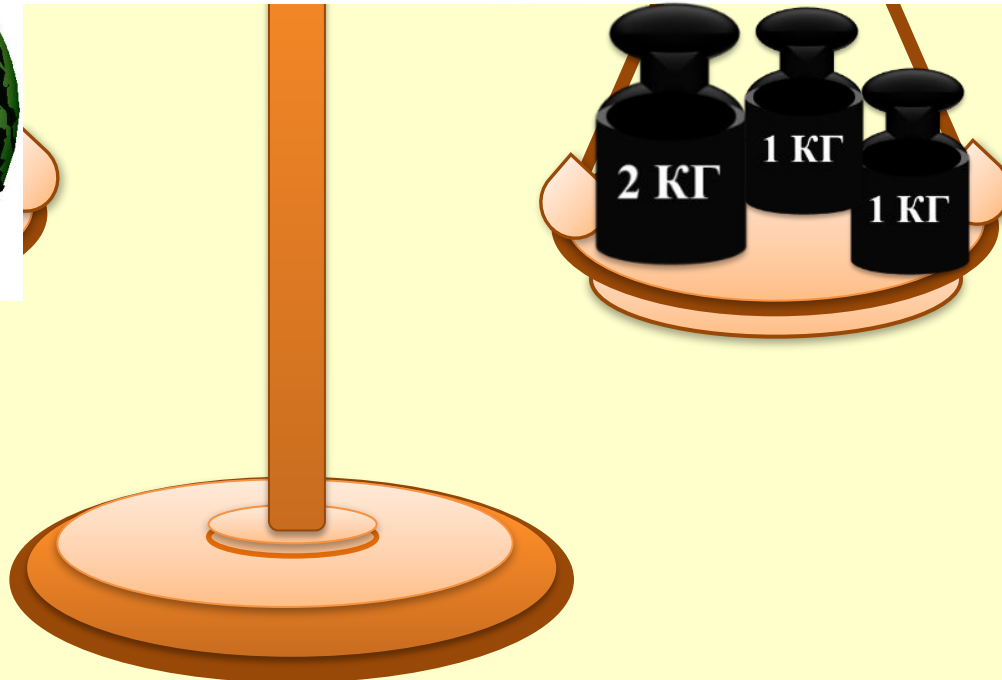

маса кавуна.

кавуна

динь




Ми виміряли маси предметів і результат записали за допомогою числа і знаків $>$, $<$, $=$. Значить, маса - це величина. Щоб вимірювання маси були точними, була обрана єдина мірка - **кілограм**. Скорочено записують - **кг**. А зараз виміряй за допомогою гир масу кавуна.



Матроскін і Шарик зібрали урожай моркви з городу.

Матроскін зібрав 3 кг, а Шарик 5 кг. На скільки кілограмів менше зібрав Матроскін, ніж Шарик?

Розв'яжемо
задачі!



Вибери
Молодець
правильне розв'язання!

на ?

менше

$$5 - 3 = 2 \text{ (кг)}$$

$$5 + 3 = 8 \text{ (кг)}$$

Підказк

а

Відповідь: на 2 кг моркви менше зібрав

Щоб дізнатися, на скільки одне число більше або менше

Розділ II

Додавання та віднімання в межах 10.
Складання таблиць додавання та
віднімання

Тема

Кілограм

**Ми дізналися на уроці, що таке «кілограм».
Кілограм допомагає, що завгодно зважить
нам.**

**Можемо ми дізнатися на скільки важче слон
крота,**

**Скільки важить кіт мятроски, я і ти, він і
вона ...**

Молодці!

