

<p>Бөөк географик ачышлар</p>	<p><u>10</u></p>	<p><u>20</u></p>	<p>30</p>	<p>40</p>	<p>50</p>
<p>Рельеф</p>	<p>10</p>	<p>20</p>	<p>30</p>	<p>40</p>	<p>50</p>
<p>Елгалар. Эчке сулар</p>	<p>10</p>	<p>20</p>	<p>30</p>	<p>40</p>	<p>50</p>
<p>Үсемлекләр</p>	<p>10</p>	<p>20</p>	<p><u>30</u></p>	<p><u>40</u></p>	<p><u>50</u></p>
<p>Хайваннар</p>	<p>10</p>	<p>20</p>	<p><u>30</u></p>	<p>40</p>	<p><u>50</u></p>
<p>Климат</p>	<p><u>10</u></p>	<p>20</p>	<p><u>30</u></p>	<p><u>40</u></p>	<p>50</p>



«Үз уеның»

Африка материгы буйлап сәяхәт

Мамадыш муниципаль районы Шәмәк төп
гомуми белем мәктәбе география һәм
биология укытучысы Шарипова Ә.Ә



Бөөк географик ачышлар

10 балл

- Материкның төньяк-көнчыгыш өлешенә, культуралы үсемлекләрне өйрәнү өчен, экспедиция оештырыла. Аны кем җитәкли?

Җавап

- Николай Иванович Вавилов




Бөөк географик ачышлар

20 балл

- Португалия сәяхәтчесе, Һиндстанга диңгез юлы ачуны тәмамлап, Көнъяк Африканы борылып үтә, материкның көнчыгыш ярлары буйлап бара, европалардан беренче булып Һинд океаны аша чыга. Бу кем?

Жавап

- Васко да Гама



Бөөк географик ачышлар

30 балл

- Күренекле инглиз тикшеренүчесе, ул Көнъяк Африканы көнбатыштан көнчыгышка таба кисеп үтә, Замбези елгасын тикшерә, анда матур шарлавык ача.

Жавап

- Давид Ливингстон



Бөек географик ачышлар

40 балл

- Африканы тикшерүгә рус галимнәре дә өлеш кертә. Шуларның иң күренеклесе Үзәк һәм Көнчыгыш Африка буйлап сәяхәт итә, материкның бу районнарындагы табигать һәм анда яшәүче халыкның тормышы турында кызыклы мәгълүматлар жыйа. Бу галимнең исеме?

- **Жавап**
- Василий Васильевич Юнкер



Бөөк географик ачышлар

50 балл

- 1487 нче елдан 1488 нче елга кадәр аның судносы Африканың көньяк ярына барып житә, ләкин аңа кире Португалиягә кайтырга туры килә. Бу кем була? Аның тарафыннан ачылган борын ничек атала?

Жавап

- Бартоломео Диаш, м. Доброй Надежды



Рельеф

10 балл

- Материкта
иң биек
вулкан?

Жавап

- Килиманджаро 5895 м.




Рельеф

20 балл

- Материк урнашкан
плита һәм
платформа ничек
атала.

Жавап

- Африка плитасы
- Африка
платформасы



Рельеф

30 балл

- Иң биек тау түбәсе.

Жавап

- Кения, 5199 м



Рельеф

40 балл

- Африка материгында нинди яшьтәге таулар урнашкан?

Жавап

- Борынгы таулар: Кап һәм Дракон таулары; яшь тау: Атлас



Рельеф

50 балл

- Плиталар нинди юнәләштә хәрәкәт итә?

Жавап

- Төньяк-көнчыгышка хәрәкәт итә



Елгалар. Эчке сулар.

10 балл

- Африканың иң озын елгасы.

Жавап

- Нил



Елгалар. Эчке сулар.

20 балл

- Африканың иң мул сулы елгасы.

Жавап

- Конго



Елгалар. Эчке сулар.

30 балл

- Африкадагы атаклы Виктория шарлавыгы урнашкан елга.

Жавап

- Замбези



Елгалар. Эчке сулар.

40 балл

- Африкадагы бу күлне Байкалның сеңлесе дип атыйлар. Аның озынлыгы Байкал күленнән дә артыграк, киңлеге дә Байкалныкы чамасында. Тирәнлеге буенча гына Байкал күленнән бер аз калыша. Бу нинди күл?

Жавап

- Танганьика



Елгалар. Эчке сулар.

50 балл

- Африканың Сахара чүлендә үзенә коючы елгалар һәм яңгырларга бәйле рәвештә үз мәйданын үзгәртүче күл бар. Аның әйданы 11000 кв. км дан алып 18000 кв. км га чаклы үзгәрә. Бу кайсы күл?

Жавап

- Чад.



Үсемлекләре

10 балл

- Үрмәләүче
Африка
үсемлеге.

Җавап

- Лиана



Үсемлекләре

20 балл

- Бу агач уттан курыкмый, озынлыгы 25 м га җитә, кәүсәсенең
- юанлыгы 45 м, җимеше кыярга охшаган. Бу нинди агач?

- **Жавап** Баобаб



Үсемлекләре

30 балл

- Үзагачы кара яисә куе яшел төстә. Бу агачны кыйммәтле мебель ясауда кулланалар.

Җавап

- Эбен агачы




Үсемлекләре

40 балл

- Бу үсемлек Намиб чүлендә үсә. Аның кәүсәсе җир өстеннән 50 см га гына күтәрелә. Кәүсәнең очыннан 3 метрга кадәр җитә торган каты кабыклы ике тыгыз яфрак үсеп чыга. Бу үсемлек 150 елдан артык яши ала. Бу үсемлек ничек атала?

Җавап

- Вельвичия



Үсемлекләре

50 балл

- Бу агач – Африка оазисларында яшәүче халыкларның төп яшәү чыганагы. Ул аларга күлгә, азык, төзелеш материалы – кыскасы, яшәү өчен барысын да бирә дияргә мөмкин. Бу агачның җимешләре сусыл һәм татлы. Җансыз чүлле өлкәләрдә ул кешегә яшәү көче бирә. Сөз бу агачны беләсезме?

Җавап

- Хөрмә пальмасы



Хайваннары

10 балл

- Африкадагы экваториаль урманнарның эре ерткыч хайваны.

Жавап

- Каплан (леопард)



Хайваннары

20 балл

Бу чебен зарарлы һәм әрсез. Ул хайваннар өчен дә, кешеләр өчен дә чын бәла. Ул тешләүдән туган йокы авыруыннан кешеләр һәм хайваннар үлә. Бу зарарлы чебенне беләсезме?

Җавап

- Цеце чебене





Хайваннары

30 балл

- Жирафлар нәселеннән, Африка материгындагына яши.

Жавап

- Окапи



Хайваннары


40 балл

- Африка саванналарында тереклек итүче бу эре хайванны иң һөжүмчән дип йөртәләр. Гадәттә ул беренче булып һөжүм итә.

Саванналарда барлык жәнлекләр дә аңа юл бирә. Нинди коточкыч хайван икән бу?

Жавап

- Мөгезборын



Хайваннары

50 балл

- Үзәк Африкада яшәүче бу хайванны да аеруча куркыныч хайваннар рәтенә кертәләр. Мускуллары ачык беленеп торган хайванның авырлыгы бер тоннага җитә. Ул кәкре мөгезле, бик әйбәт күрә, ишетә һәм исне тоя. Моңысы нинди хайван?

Жавап

- Африка буйволлары




Климат

10 балл

- Бу климат поясы 2 к.к. һәм 5 т.к. тө урнашкан

Жавап

- экваториаль
пояс




Климат

20 балл

- Ел буена
эссе һәм
коры

Жавап

- тропик



Климат

30 балл

- Ел буена жылы һәм дымлы

Жавап

- экваториаль пояс




Климат

40 балл

Жавап

- тропик

- Жәй көне эссе,
болытсыз,
күлэгәдә + 50 С.



Климат

50 балл

- “Һава түзә алмаслык бөркү, кешегә дә, хайванга да тын алу кыен. Һава җитми, әйтерсең лә ул, өскә күтәрелеп, инде офыкны бөтенләй каплап алган кызгылт-көрән караңгылык белән очып киткән. Ә ярты сәгатътән соң “утлы җил” чыга...” Төньяк Африка чүлләрендәге комлы давылны ничек атыйлар?

Җавап

- Комлы давыл – сәмум. Сәмум агулы, агуланган дигәнне аңлата

