

Мировой океан и его части

Урок географии 6 класс

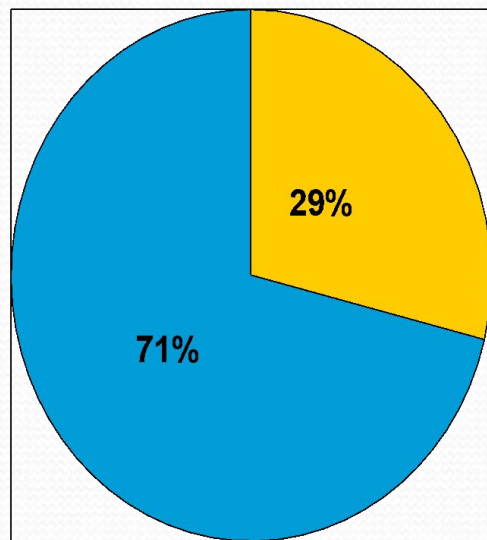
Выполнила: учитель географии
МКОУ «СОШ № 24» ИМРСК
Коршикова Наталья Григорьевна

Единство Мирового океана

Мировой океан - основная часть гидросферы. Вода Мирового океана покрывает $\frac{3}{4}$ земной поверхности.



Мировой океан един, он нигде не прерывается. Из любой его точки можно попасть в любую другую, не пересекая сушу.




Суша в океане

- **Материки** – огромные участки суши, разделяющие океаны



- **Архипелаги** – группа островов, находящиеся близко друг к другу



- **Полуострова** – части материков и островов, вдающихся в Океан (Камчатка и Аравийский п-ов)



Острова – сравнительно небольшие участки суши, окруженные водой

Острова по происхождению

вулканические



Smotret-Mir.Ru

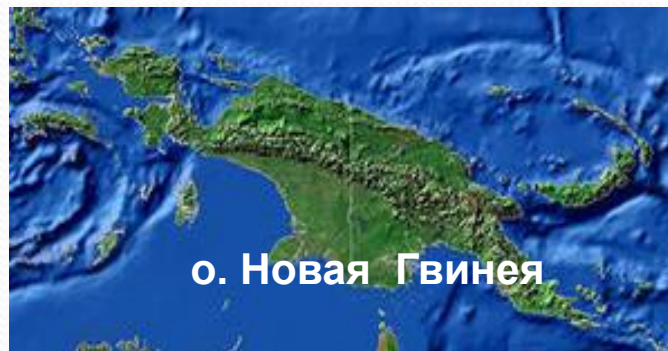


материковые

Гренландия –
самый большой
остров



коралловые



о. Новая Гвинея

Океаны

- **Тихий океан** – самый большой, занимает почти половину площади Мирового океана – 180 млн.км².
- **Атлантический океан** – в два раза меньше Тихого. С севера на юг он имеет почти то же протяжение, что и Тихий, но значительно уже.
- **Индийский океан** – меньше Атлантического. Но на его площади могут поместиться три материка: обе Америки и Африка
- **Северный Ледовитый океан** – расположен на самом севере планеты, так что берега у него все южные

ЗАДАНИЕ:

- 1. Найдите на карте полушарий все материки Земли и в порядке уменьшения их площади покажите. Нанесите их на к/к**
- 2. Найдите на карте по 2-3 примера крупных островов, полуостровов, архипелагов и нанесите их на к/к**
- 3. Найдите на карте все океаны Земли. Нанесите их на к/к**

Части Мирового океана: моря

Море – часть океана, отличающаяся от него свойствами воды, течениями и живущими в нём организмами

- **Внутренние моря** – это моря далеко вдающиеся в материк (Чёрное и Средиземное моря)



- **Окраинные моря** – это моря, расположенные по окраинам материков (Берингово и Карское моря)



ЗАДАНИЕ:

- 1. Пользуясь картами атласа, определите, внутренними или окраинными являются моря: Красное, Карское, Аравийское, Охотское.**
- 2. Частями каких океанов являются эти моря.**

Приём определения географического положения моря

| План | Состав действий |
|---|---|
| <p>1. Название</p> <p>2. Географическое положение</p> <p> а) в Мировом океане</p> <p> б) относительно других объектов</p> | <p>1. Назвать и показать море; определить, к какому океану относится, как отделено от него</p> <p>2. Определить:</p> <p> а) в какой части океана, между какими меридианами и параллелями находится, протяжённость;</p> <p> б) какой частью омывает берега каких материков, островов; какими проливами соединено с океанами и морями</p> |

Задание. Определите географическое положение Средиземного и Берингова морей, используя таблицу.

Заливы

- **Залив** – часть океана (моря), вдающаяся в сушу, но свободно сообщаемая с океаном (морем).



По свойствам воды, течениям, живущим в них организмам заливы обычно мало отличаются от океана (моря), например Мексиканский и Бенгальский заливы

Проливы

- **Пролив** – сравнительно неширокое водное пространство, ограниченное с двух сторон берегами материков или островов.



По ширине проливы очень различны. Пролив Дрейка, соединяющий Тихий и Атлантический океаны, около 1000 км шириной, Гибралтарский пролив, соединяющий Средиземное море с океаном, в самом узком месте не шире 14 км.

ЗАДАНИЕ:



По фрагменту карты назовите :
материк,
океан,
море,
остров,
полуостров,
пролив,
залив.

Домашнее задание:

1. Изучить § 26
2. Выучить определения частей океана
3. В к/к отметить по 2-3 своих примеров всех частей океанов (морей, проливов, заливов и т.д.)