

Тема: ДОРОЖНАЯ РАЗМЕТКА

1. ГОРИЗОНТАЛЬНАЯ:

- *ПРОДОЛЬНЫЕ ЛИНИИ (СПЛОШНЫЕ, ПРЕРЫВИСТЫЕ, КОМБИНИРОВАННЫЕ);*
- *ПОПЕРЕЧНЫЕ ЛИНИИ*

2. ВЕРТИКАЛЬНАЯ

3. СТРЕЛЫ И СИМВОЛЫ НА ПРОЕЗЖЕЙ ЧАСТИ

-
- ▣ ***Продольные сплошные линии
горизонтальной разметки***

РАЗМЕТКА 1.1



РАЗМЕТКА 1.1



1.2.1 — (СПЛОШНАЯ ЛИНИЯ) — ОБОЗНАЧАЕТ КРАЙ ПРОЕЗЖЕЙ ЧАСТИ



1.3 – РАЗДЕЛЯЕТ ТРАНСПОРТНЫЕ ПОТОКИ ПРОТИВОПОЛОЖНЫХ НАПРАВЛЕНИЙ



РАЗДЕЛИТЕЛЬНАЯ ПОЛОСА




***ПРОДОЛЬНЫЕ ПРЕРЫВИСТЫЕ ЛИНИИ
ГОРИЗОНТАЛЬНОЙ РАЗМЕТКИ***

РАЗМЕТКА 1.5 – РАЗДЕЛЯЕТ ТРАНСПОРТНЫЕ ПОТОКИ ПРОТИВОПОЛОЖНЫХ НАПРАВЛЕНИЙ



**РАЗМЕТКА 1.6 – ПРЕДУПРЕЖДАЕТ О
ПРИБЛИЖЕНИИ К РАЗМЕТКЕ 1.1 ИЛИ 1.11,
КОТОРАЯ РАЗДЕЛЯЕТ ТРАНСПОРТНЫЕ
ПОТОКИ ПРОТИВОПОЛОЖНЫХ ИЛИ
ПОПУТНЫХ НАПРАВЛЕНИЙ**



1.6. ЛИНИЯ ПРИБЛИЖЕНИЯ



РАЗМЕТКА 1.7 – (ПРЕРЫВИСТАЯ ЛИНИЯ С КОРОТКИМИ ШТРИХАМИ И РАВНЫМИ ИМ ПРОМЕЖУТКАМИ) – ПОЛОСЫ ДВИЖЕНИЯ В ПРЕДЕЛАХ ПЕРЕКРЕСТКА.



**РАЗМЕТКА 1.8 – (ШИРОКАЯ
ПРЕРЫВИСТАЯ ЛИНИЯ) – ОБОЗНАЧАЕТ
ГРАНИЦУ МЕЖДУ ПОЛОСОЙ РАЗГОНА
ИЛИ ТОРМОЖЕНИЯ И ОСНОВНОЙ
ПОЛОСОЙ ПРОЕЗЖЕЙ ЧАСТИ**



ЛИНИЮ 1.8 ПЕРЕСЕКАТЬ РАЗРЕШАЕТСЯ С ЛЮБОЙ СТОРОНЫ



ПРОДОЛЬНЫЕ ОДИНАРНЫЕ ПРЕРЫВИСТЫЕ ЛИНИИ БЕЛОГО ЦВЕТА

1.5 – разделяет транспортные потоки



1.6 – линия приближения



1.7 – движение в пределах перекрестка
разгона/торможения



1.8 – линия



***КОМБИНИРОВАННЫЕ ЛИНИИ
ГОРИЗОНТАЛЬНОЙ РАЗМЕТКИ***

1.11 – РАЗДЕЛЯЕТ ТРАНСПОРТНЫЕ ПОТОКИ ПРОТИВОПОЛОЖНЫХ ИЛИ ПОПУТНЫХ НАПРАВЛЕНИЙ НА УЧАСТКАХ ДОРОГ, ГДЕ ПЕРЕСТРОЕНИЕ РАЗРЕШЕНО ТОЛЬКО ИЗ ОДНОЙ ПОЛОСЫ



1.11



1.11



***СДВОЕННЫЕ ПРЕРЫВИСТЫЕ ЛИНИИ
ГОРИЗОНТАЛЬНОЙ РАЗМЕТКИ***

РАЗМЕТКА 1.9 — ОБОЗНАЧАЕТ ГРАНИЦЫ ПОЛОС ДВИЖЕНИЯ, НА КОТОРЫХ ОСУЩЕСТВЛЯЕТСЯ РЕВЕРСИВНОЕ РЕГУЛИРОВАНИЕ



1.9.



1.9.



1.9.



1.9.



1.9.



1.9.




1.9.



**ПОПЕРЕЧНЫЕ ЛИНИИ
ГОРИЗОНТАЛЬНОЙ РАЗМЕТКИ**

1.12. – СТОП-ЛИНИЯ



1.12. – СТОП-ЛИНИЯ



1.12.




1.13.




1.14.1 – «ЗЕБРА»

1.14.2




1.14.2



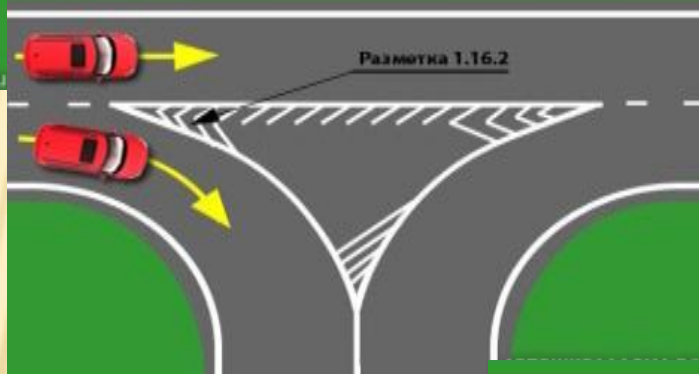
1.15 — ОБОЗНАЧАЕТ МЕСТО ПЕРЕСЕЧЕНИЯ С ВЕЛОСИПЕДНОЙ ДОРОЖКОЙ



1.25 — ОБОЗНАЧАЕТ ИСКУССТВЕННУЮ НЕРОВНОСТЬ НА ПРОЕЗЖЕЙ ЧАСТИ.



ОСТРОВКИ БЕЗОПАСНОСТИ



ОСТАНОВКА ЗАПРЕЩЕНА



РАЗМЕТКА 1.10 — ОБОЗНАЧАЕТ МЕСТА, ГДЕ ЗАПРЕЩЕНА СТОЯНКА



РАЗМЕТКА 1.17 – ОБОЗНАЧАЕТ
МЕСТА ОСТАНОВОК МАРШРУТНЫХ
ТРАНСПОРТНЫХ СРЕДСТВ
И СТОЯНКИ ТАКСИ



1.26. «ВАФЕЛЬНИЦА»



С 28 апреля 2018 года

ВРЕМЕННАЯ РАЗМЕТКА – ЭТО РАЗМЕТКА ОРАНЖЕВОГО ЦВЕТА.



ВЕРТИКАЛЬНАЯ РАЗМЕТКА

РАЗМЕТКА 2.1.1, 2.1.2, 2.1.3 – ОБОЗНАЧАЕТ ЭЛЕМЕНТЫ ДОРОЖНЫХ СООРУЖЕНИЙ



2.1.1



2.1.2



2.1.3


РАЗМЕТКА 2.2 – ОБОЗНАЧАЕТ НИЖНИЙ КРАЙ ПРОЛЕТНЫХ СТРОЕНИЙ



РАЗМЕТКА 2.3 – ПРИМЕНЯЕТСЯ ДЛЯ ОБОЗНАЧЕНИЯ КРУГЛЫХ ТУМБ



РАЗМЕТКА 2.4



РАЗМЕТКА 2.5 – ВЕРТИКАЛЬНЫЕ ЧЕРЕДУЮЩИЕСЯ ЧЕРНЫЕ И БЕЛЫЕ ПОЛОСЫ.



РАЗМЕТКА 2.6



РАЗМЕТКА 2.5 – ВЕРТИКАЛЬНЫЕ ЧЕРЕДУЮЩИЕСЯ ЧЕРНЫЕ И БЕЛЫЕ ПОЛОСЫ

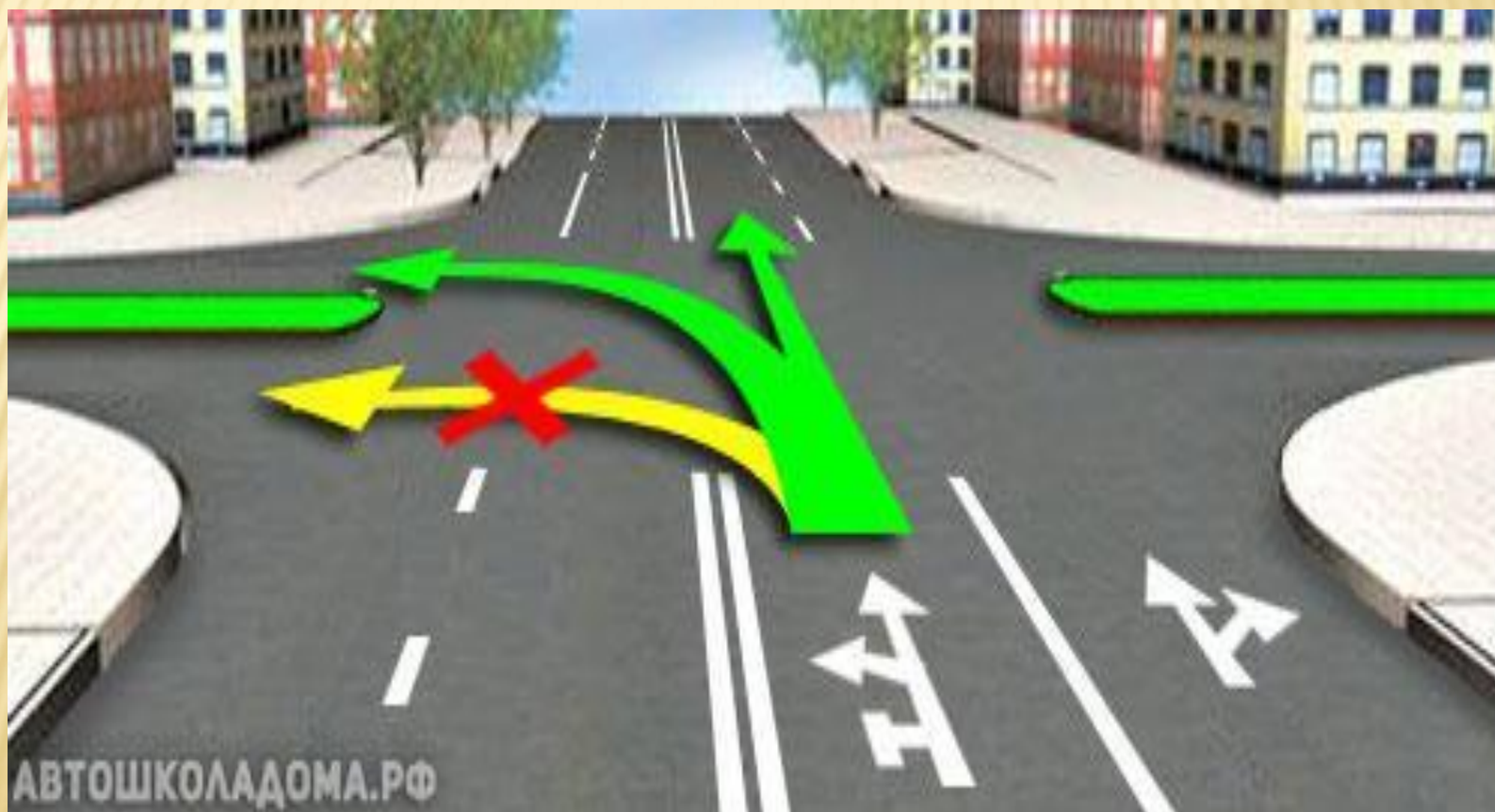


СТРЕЛЫ И СИМВОЛЫ НА ПРОЕЗЖЕЙ ЧАСТИ

СТРЕЛЫ НА ПРОЕЗЖЕЙ ЧАСТИ.



РАЗМЕТКА С ИЗОБРАЖЕНИЕМ ТУПИЧКА



РАЗМЕТКА 1.18



РАЗМЕТКА 1.19 (ПЛАВНО ИЗОГНУТЫЕ СТРЕЛЫ)



НАДПИСИ НА ПРОЕЗЖЕЙ ЧАСТИ



СИМВОЛЫ НА ПРОЕЗЖЕЙ ЧАСТИ.

- ▣ Разметки **1.24.1 – 1.24.4** – дублируют соответствующие дорожные знаки и применяются совместно с ними.



1.24.1



1.24.2




1.24.3



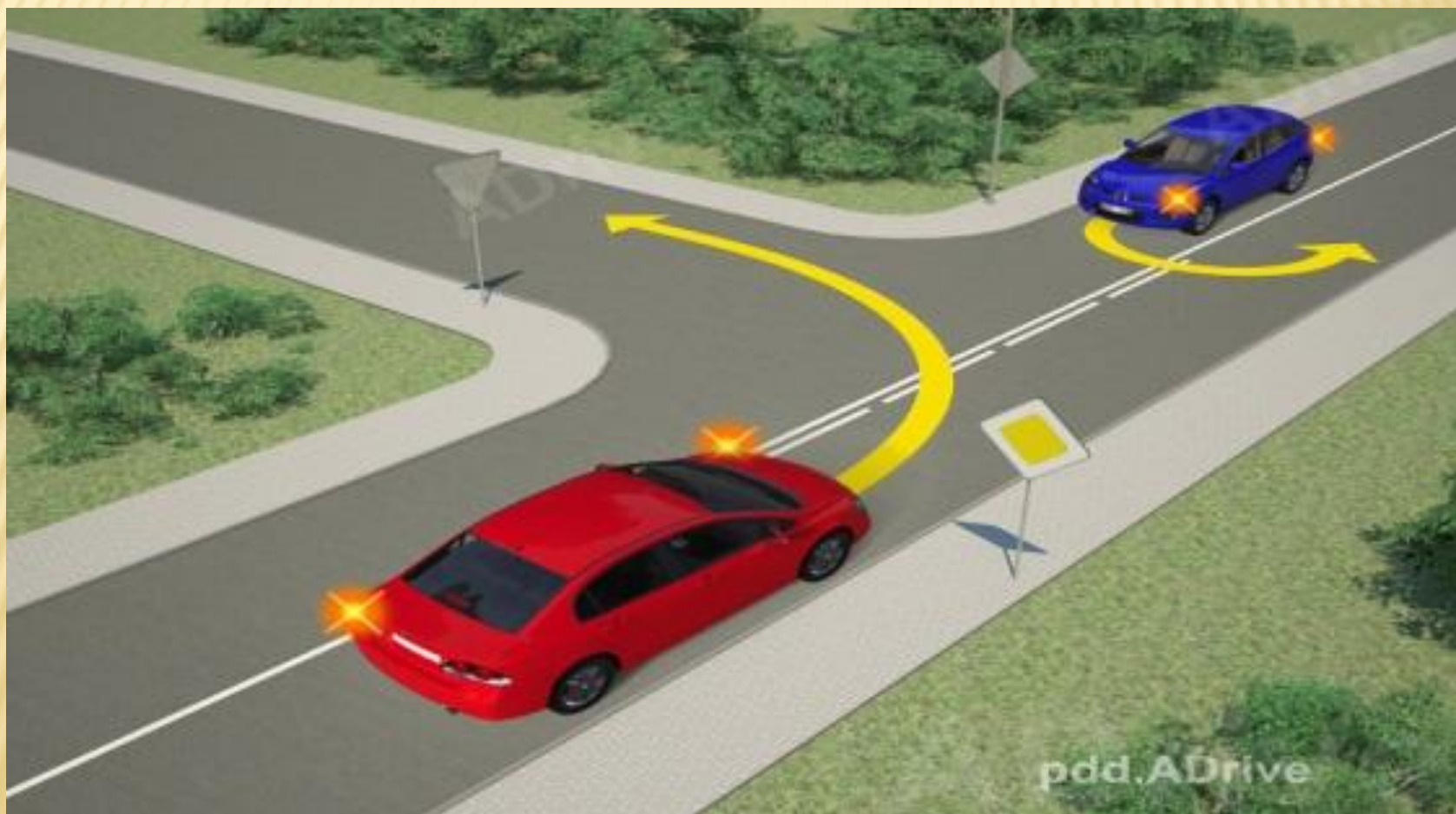
1.24.4

ПРИМЕРЫ РЕШЕНИЯ ЗАДАЧ ПО ТЕМЕ «ДОРОЖНАЯ РАЗМЕТКА».

- Водитель какого автомобиля не нарушает Правила?



КТО ИЗ ВОДИТЕЛЕЙ НАРУШАЕТ ПДД, ВЫПОЛНЯЯ МАНЕВР КАК ПОКАЗАНО НА КАРТИНКЕ?



НА КАКОМ РИСУНКЕ ВОДИТЕЛЮ РАЗРЕШЕНО СОВЕРШИТЬ ОБГОН ТРАКТОРА?



ЗАКРЕПЛЕНИЕ МАТЕРИАЛА

КАКУЮ ИНФОРМАЦИЮ СООБЩАЕТ ВОДИТЕЛЯМ ТАКАЯ РАЗМЕТКА НА БОКОВОЙ ПОВЕРХНОСТИ ДОРОЖНОГО ОГРАЖДЕНИЯ?

- **1.** Это красивый участок дороги.
- **2.** Это опасный участок дороги.



КАКУЮ ИНФОРМАЦИЮ СООБЩАЕТ ВОДИТЕЛЯМ ТАКАЯ РАЗМЕТКА НА БОКОВОЙ ПОВЕРХНОСТИ ДОРОЖНОГО ОГРАЖДЕНИЯ?

- **1.** Это опасный участок дороги.
- **2.** Нет, этот участок дороги не отличается повышенной опасностью



МОЖНО ЛИ ЗДЕСЬ ПРОЕХАТЬ ПРЯМО С КРАЙНЕЙ ЛЕВОЙ?

- Да, можно.
- Нет, нельзя.



ПРАВИЛЬНО ЛИ ВОДИТЕЛЬ БЕЛОГО АВТОМОБИЛЯ ЗАНЯЛ ПОЛОСУ ДВИЖЕНИЯ В СЛОЖИВШЕЙСЯ СИТУАЦИИ НА ПЕРЕКРЁСТКЕ ДЛЯ ДАЛЬНЕЙШЕГО ДВИЖЕНИЯ ПРЯМО?



НАРУШАЕТ ЛИ ВОДИТЕЛЬ КРАСНОГО АВТОМОБИЛЯ ПРАВИЛА, ПРИПАРКОВАВШИСЬ НА РАЗМЕТКЕ НАПРАВЛЯЮЩЕГО ОСТРОВКА?

- 1. Да, нарушает.
- 2. Нет, не нарушает.



Спасибо за внимание