

Третий этап республиканской олимпиады по учебному предмету «География»  
2019/2020 учебный год

**9 класс.**  
**Мультимедиа-тест.**  
**Вариант 1**

## **УВАЖАЕМЫЙ ОЛИМПИОНИК!**

На выполнение заданий мультимедиа-теста отводится 1 час (60 минут).

Ты имеешь право просматривать слайды в произвольном порядке и в свободном ритме.

Ответы на задания мультимедиа-теста необходимо вписать в предлагаемый бланк ответов.

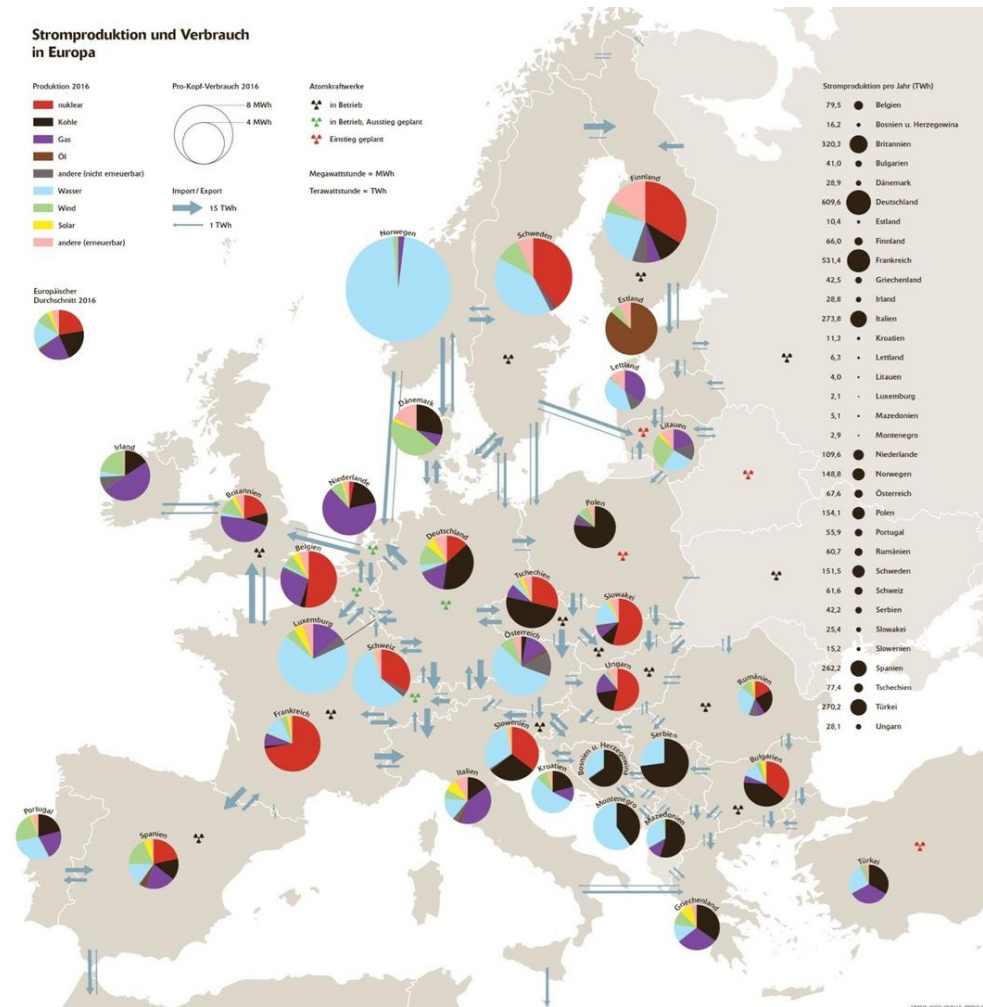
По результатам мультимедиа-теста можно получить максимум 40 баллов.

**ЖЕЛАЕМ ТЕБЕ УДАЧИ!**

**Вопрос 1:** Вашему вниманию представлена немецкая карта производства и потребления электроэнергии в зарубежной Европе (кроме стран СНГ) в 2016 г. В какой стране из представленных наибольшая доля электроэнергии производится на ГЭС?

**Варианты ответа:** А) Люксембург; Б) Швейцария; В) Норвегия; Г) Португалия

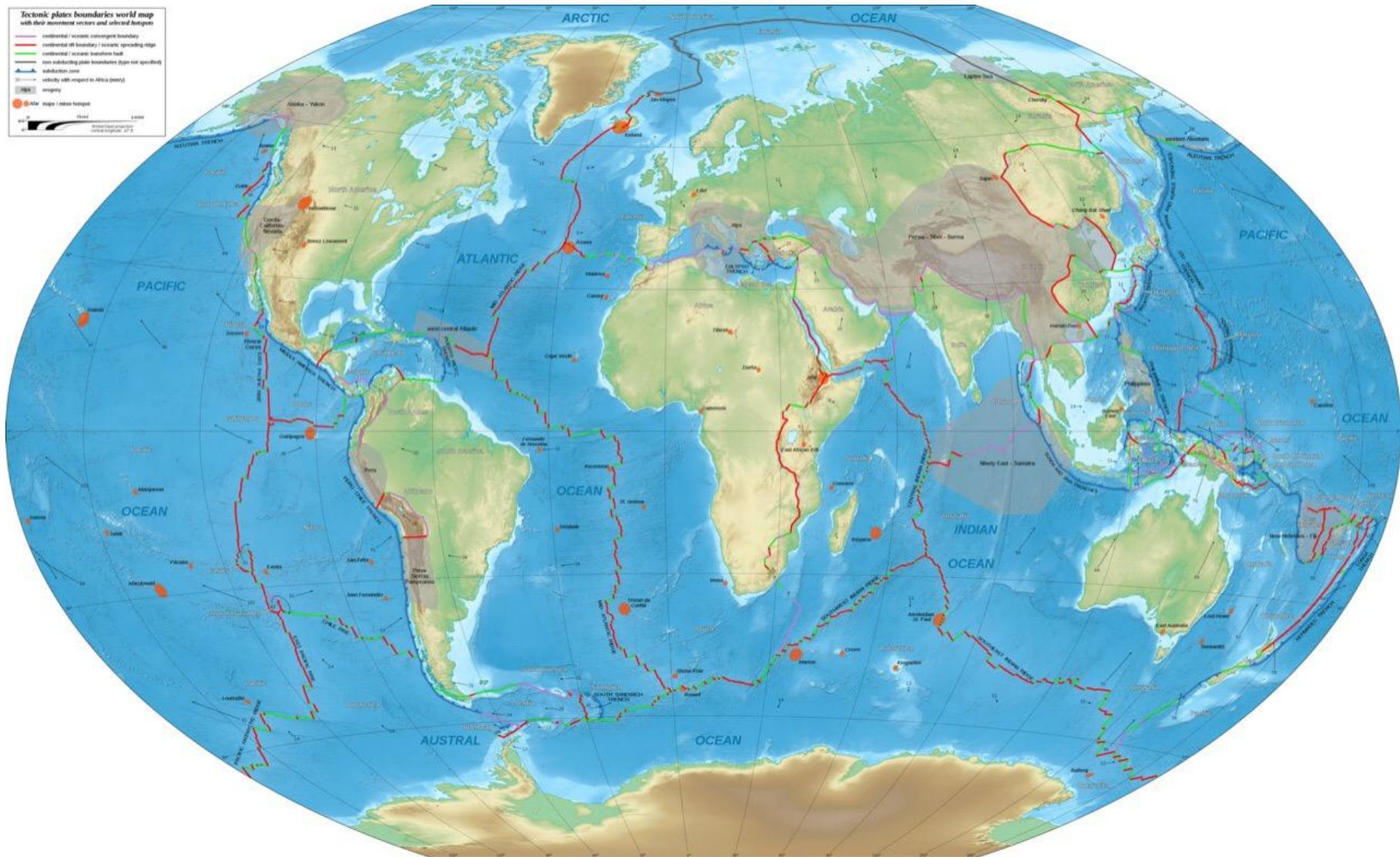
*(За правильный ответ – 1 балл)*



**Вопрос 2: Выберите вулканический остров.**

**Варианты ответа: А) Исландия; Б) Мадагаскар; В) Куба; Г) Тасмания**

*(За правильный ответ – 1 балл)*





**Вопрос 3:** К какому веку относится данная стилизованная карта?


**Варианты ответа:** А) XVIII; Б) XIX; В) XX; Г) XXI

*(За правильный ответ – 2 балла)*



**Вопрос 4:** Вашему вниманию представлена карта землепользования в зарубежной Европе (кроме стран СНГ). Под какими землями занята большая часть территории Франции?

**Варианты ответа:** А) пашня; Б) леса; В) пастбища; Г) болота  
(За правильный ответ – 1 балл)





**Вопрос 5:** Что отражает данная карта ФРГ в разрезе административных единиц первого порядка?

**Варианты ответа:** А) Доля занятого населения с уровнем ежемесячных доходов более 1000 долларов США; Б) Доминирующая религия / отношение к религии в регионах; В) Диалектологический ландшафт; Г) Наиболее распространенная марка легкового автомобиля  
(За правильный ответ – 2 балла)



**Вопрос 6:** Процесс выдувания и развеивания ветром частиц рыхлых горных пород?

**Варианты ответа:** А) выветривание; Б) дефляция; В) экзарация; Г) нивация

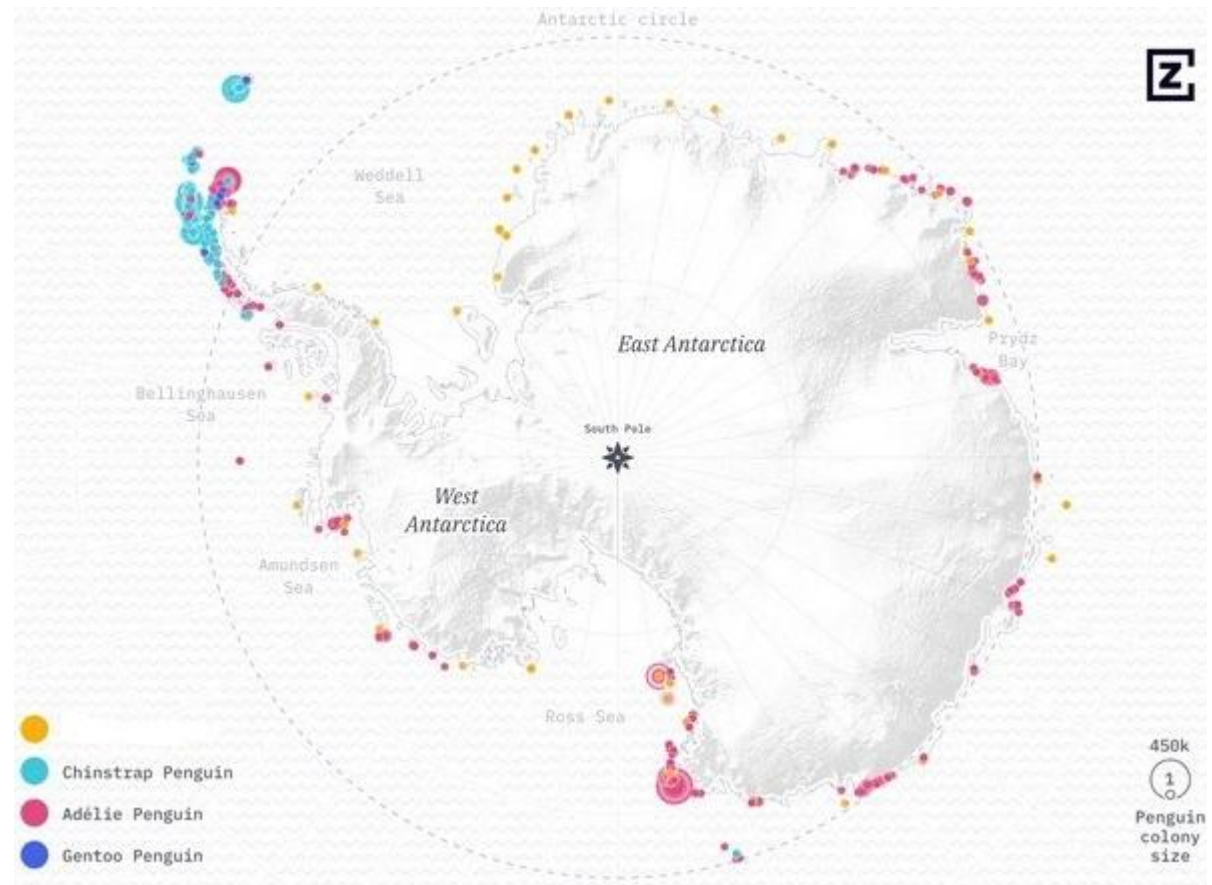
*(За правильный ответ – 1 балл)*





**Вопрос 7:** Колония каких пингвинов отображена на карте оранжевым цветом?

**Варианты ответа:** А) Галапагосских; Б) Королевских; В) Великолепных; Г) Императорских  
(За правильный ответ – 1 балл)



**Вопрос 8:** Какой вулкан представлен на рисунке?

**Варианты ответа:** А) Сент-Хеленс; Б) Чимборасо; В) Камерун; Г)

**Тейде**

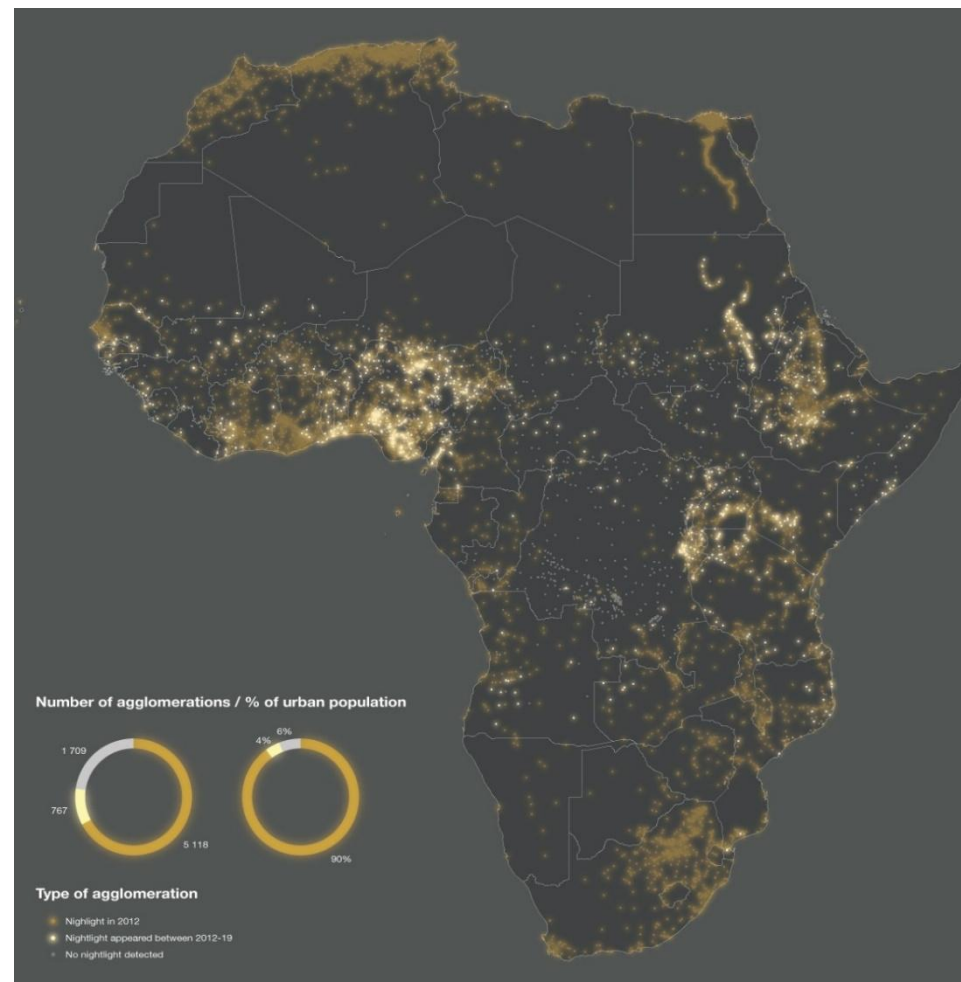
*(За правильный ответ – 1 балл)*





**Вопрос 9:** Вашему вниманию представлена карта огней ночной Африки в 2012 г. и новых огней, появившихся на континенте за период 2012-2019 гг. В каком макрорегионе Африки наиболее увеличилась доля новых огней за период с 2012 г. по 2019 г.?

**Варианты ответа:** А) Северная Африка; Б) Восточная Африка; В) Центральная Африка; Г) Южная Африка  
(За правильный ответ – 2 балла)



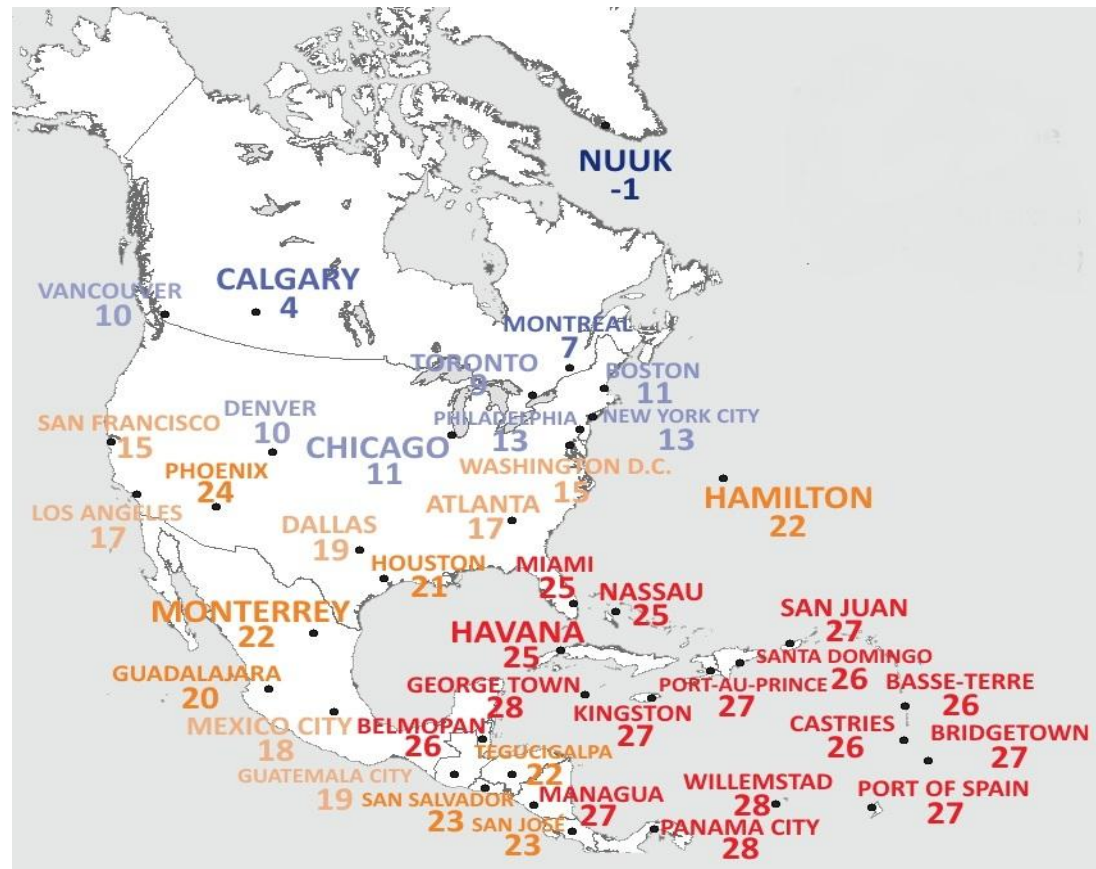




**Вопрос 11:** Что отражает данная карта?

**Варианты ответа:** А) абсолютный рост/ убыль численности населения в городах; Б) количество безветренных дней; В) среднемесячная температура января некоторых городов Северной и Центральной Америки; Г) среднегодовая температура некоторых городов Северной и Центральной Америки.

*(За правильный ответ – 2 балла)*



**Вопрос 12:** На сколько градусов Цельсия потеплело в России за период наблюдений с 1976 г. по 2014 г.?

**Варианты ответа:** А) на 0,8°C; Б) на 1,2°C; В) на 1,6°C; Г) на 2,4°C.

(За правильный ответ – 2 балла)

## Изменения климата в России



**6 ИЗ 10** последних лет попали в **десятку самых теплых** за период наблюдений с 1936 по 2014 г.

**7 ИЗ 10** **самых теплых лет** наблюдались в XXI веке

### 10 самых теплых лет в России

Ранг с 1936 г.	Год	Аномалия, °C
1	2007	2,07
2	1995	2,04
3	2008	1,85
4-5	2011, 2005	1,54
6	2013	1,52
7	1990	1,31
8-10	2014, 2003, 1989	1,28

В среднем по России –

**0,42°C / 10 лет** средняя скорость потепления за период 1976-2014 гг.

В Арктическом регионе –

**0,66°C / 10 лет** средняя скорость потепления за период 1985-2014 гг.

**67%** территории России находится в зоне многолетней мерзлоты

Распределение опасных явлений, нанесших значительный экономический ущерб

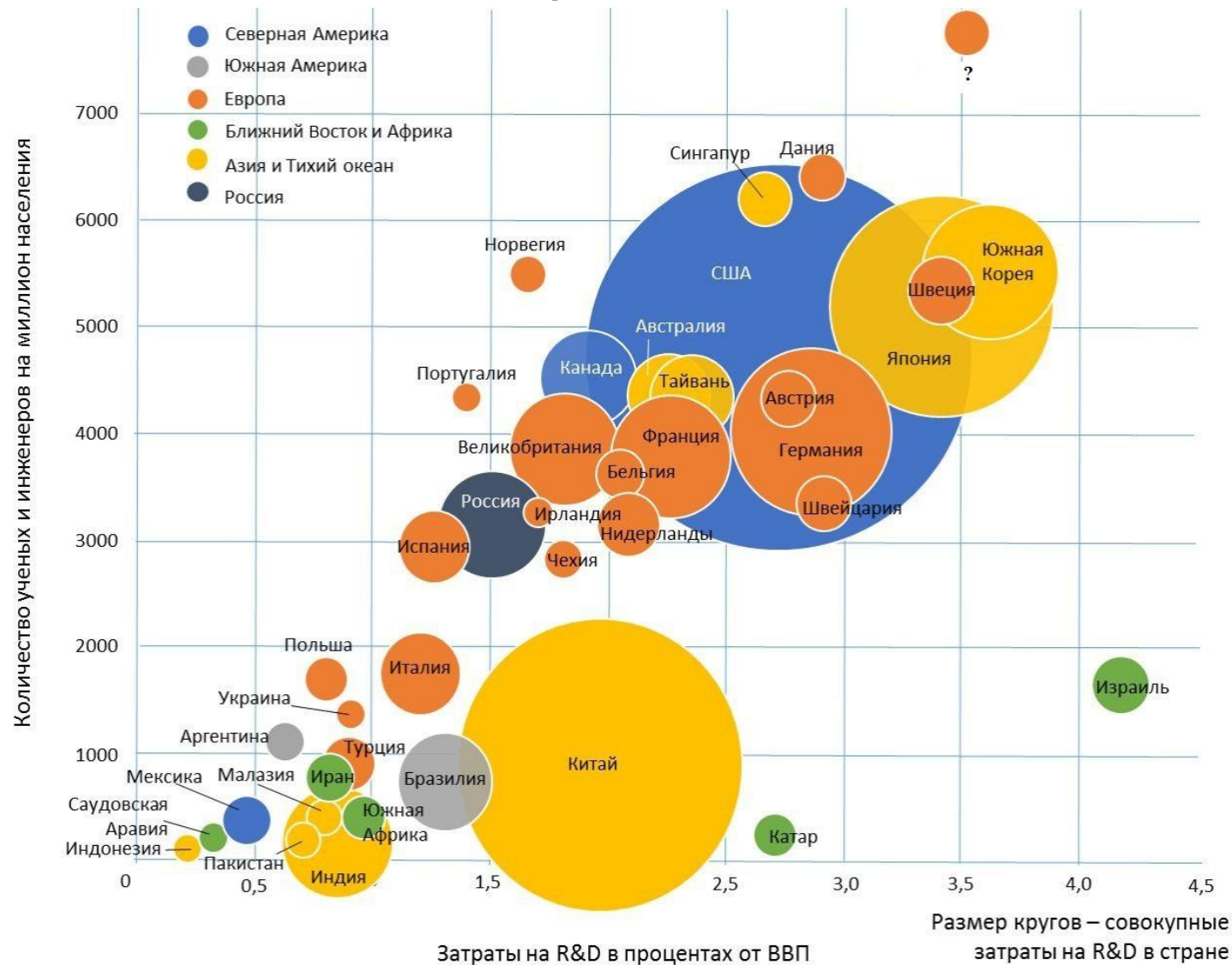




## Вопрос 13: Какая страна обозначена вопросом?

Варианты ответа: А) Беларусь; Б) Андорра; В) Хорватия; Г) Финляндия.

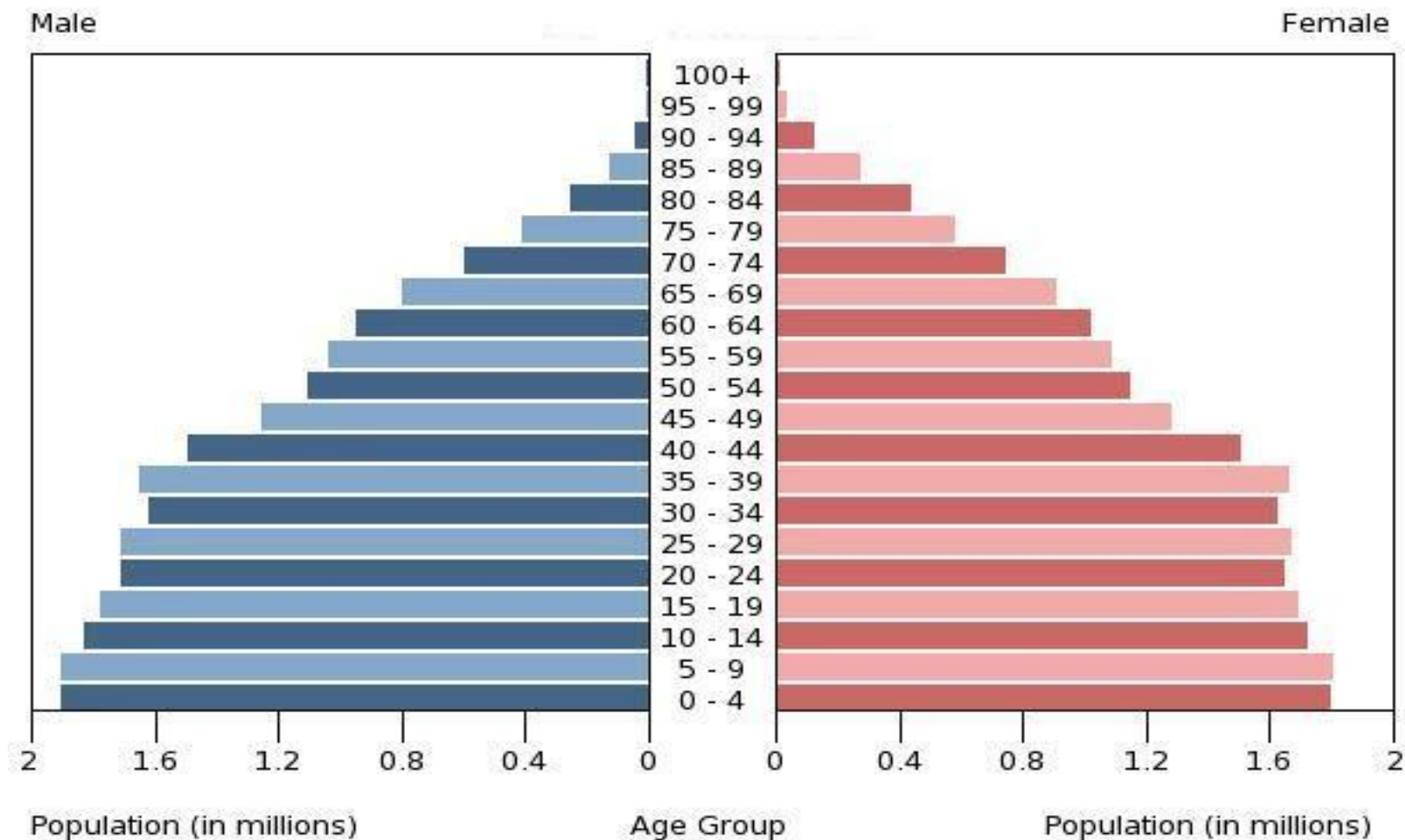
(За правильный ответ – 2 балла)




**Вопрос 14:** Какая страна представлена на половозрастной пирамиде?

**Варианты ответа:** А) Аргентина; Б) Бразилия; В) Ангола; Г) Непал

*(За правильный ответ – 1 балл)*



**Вопрос 15:** Флаг какой страны представлен на рисунке?  
**Варианты ответа:** А) Науру; Б) Бутан; В) Фиджи; Г) Бруней  
(За правильный ответ – 1 балл)





**Вопрос 16:** Какой город Испании представлен на рисунке?

**Варианты ответа:** А) Барселона; Б) Валенсия; В) Малага; Г) Севилья

*(За правильный ответ – 1 балл)*



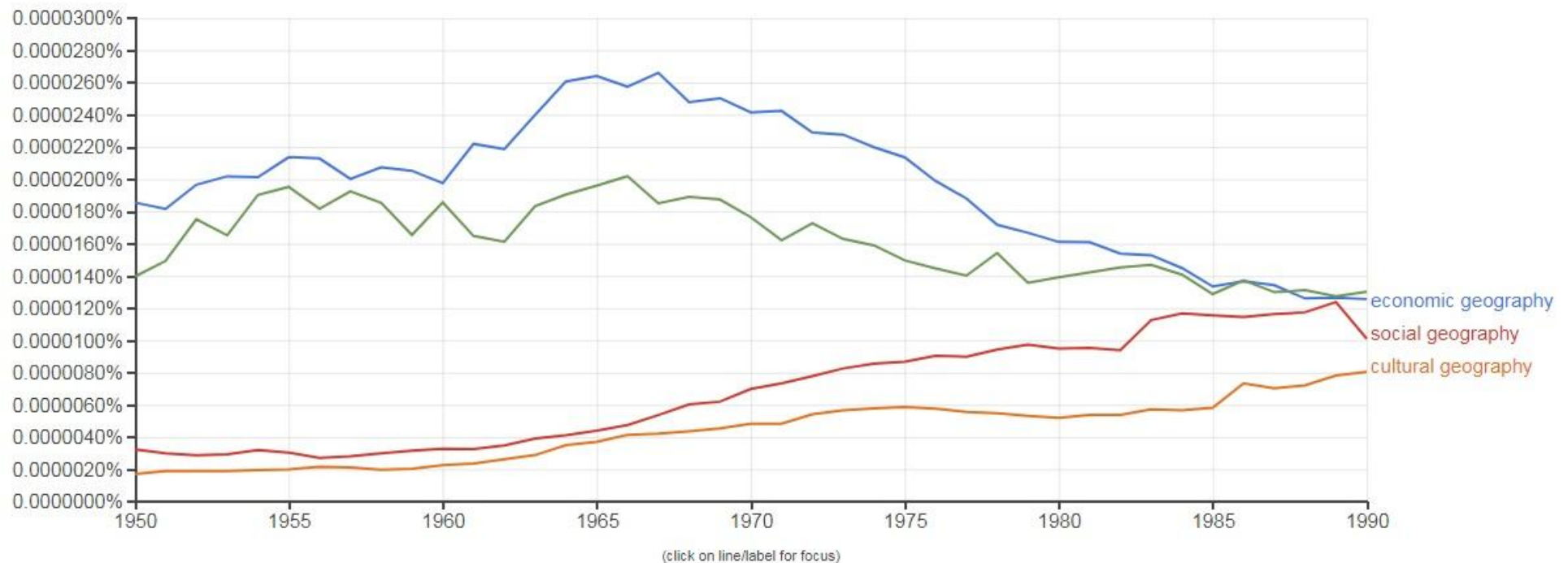


**Вопрос 17:** Какой город Беларуси представлен на рисунках?  
**Варианты ответа:** А) Мир; Б) Несвиж; В) Кричев; Г) Браслав  
(За правильный ответ – 1 балл)



**Вопрос 18:** Вашему вниманию представлен график частоты упоминания частных наук (составных частей социально-экономической географии) в англоязычной литературе за период 1950-1990 гг. на основе возможностей Google Ngram Viewer - Google Books. Какая наука представлена на рисунке зеленым цветом?

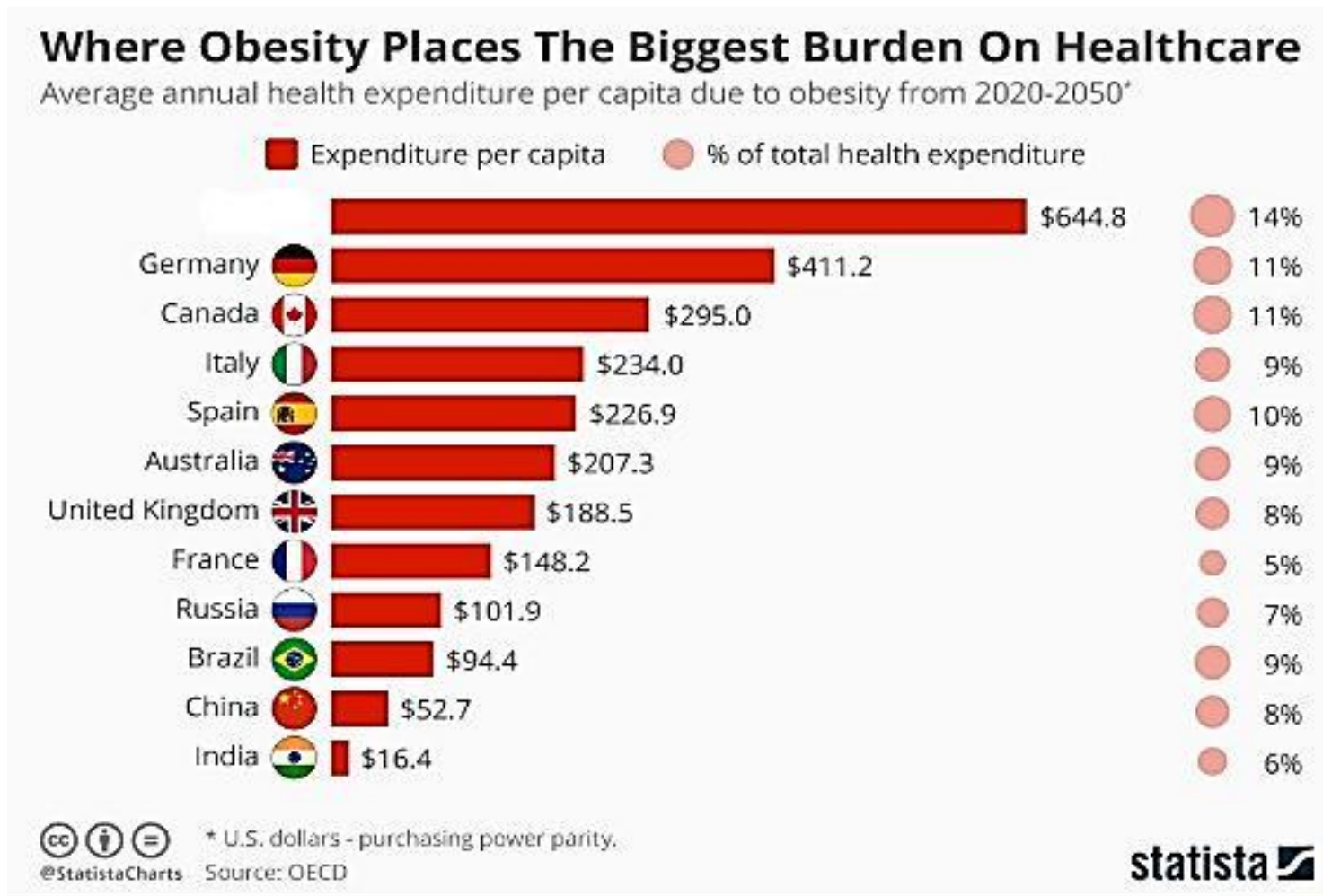
**Варианты ответа:** А) Геоурбанистика; Б) Политическая география; В) Геополитика; Г) География развития  
(За правильный ответ – 2 балла)





**Вопрос 19:** Вашему вниманию представлен рейтинг стран мира по душевым расходам здравоохранения на борьбу с проблемами ожирения людей. Какая страна занимает первое место в мире по данному показателю?

**Варианты ответа:** А) США; Б) Япония; В) Швеция; Г) Мексика  
(За правильный ответ – 1 балл)





**Вопрос 21:** Какая проекция по виду вспомогательной поверхности изображена на эмблеме ООН?

**Варианты ответа:** А) Косая; Б) Цилиндрическая; В) Коническая; Г) Азимутальная.

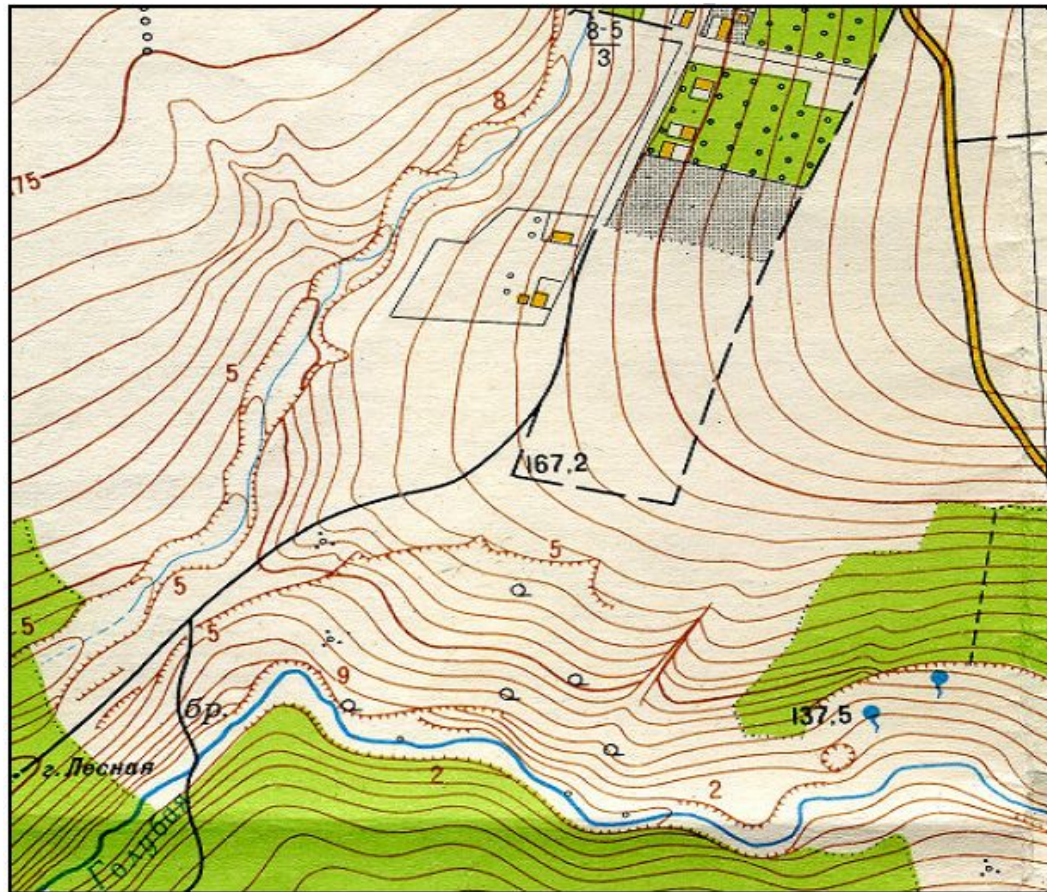
*(За правильный ответ – 1 балл)*





**Вопрос 22:** Каким цветом на топографических картах показываются формы рельефа?

**Варианты ответа:** А) Красным; Б) Чёрным; В) Голубым; Г) Коричневым.  
(За правильный ответ – 1 балл)

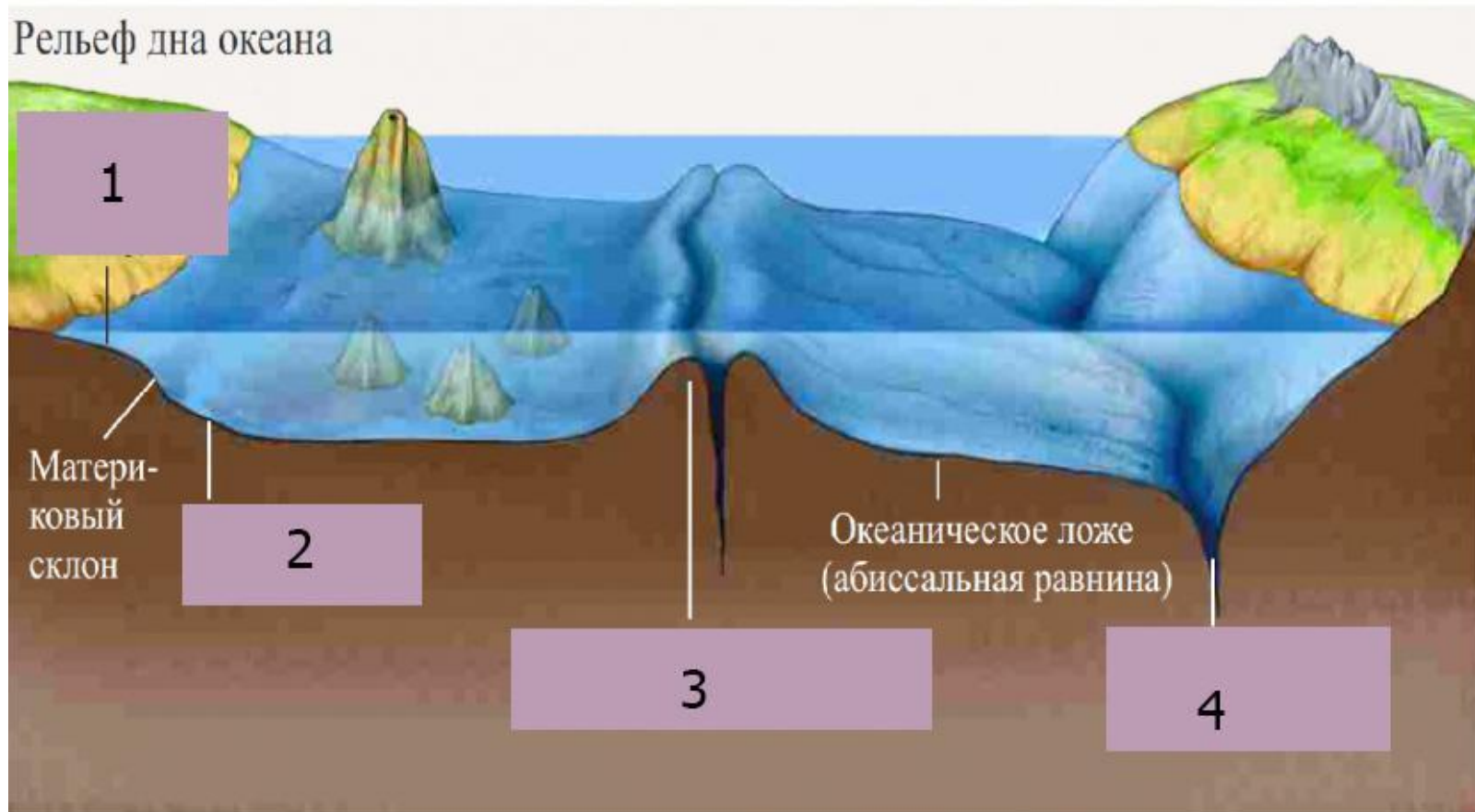




**Вопрос 23:** Какой тип планировки представлен на фотографии?  
**Варианты ответа:** А) Лучевая; Б) Радиальная; В) Прямоугольная; Г) Комбинированная.  
*(За правильный ответ – 1 балл)*



**Вопрос 24:** Какая часть дна мирового океана показана под цифрой 1?  
**Варианты ответа:** А) Шельф; Б) Подножье; В) Желоб; Г) Хребет.  
(За правильный ответ – 1 балл)

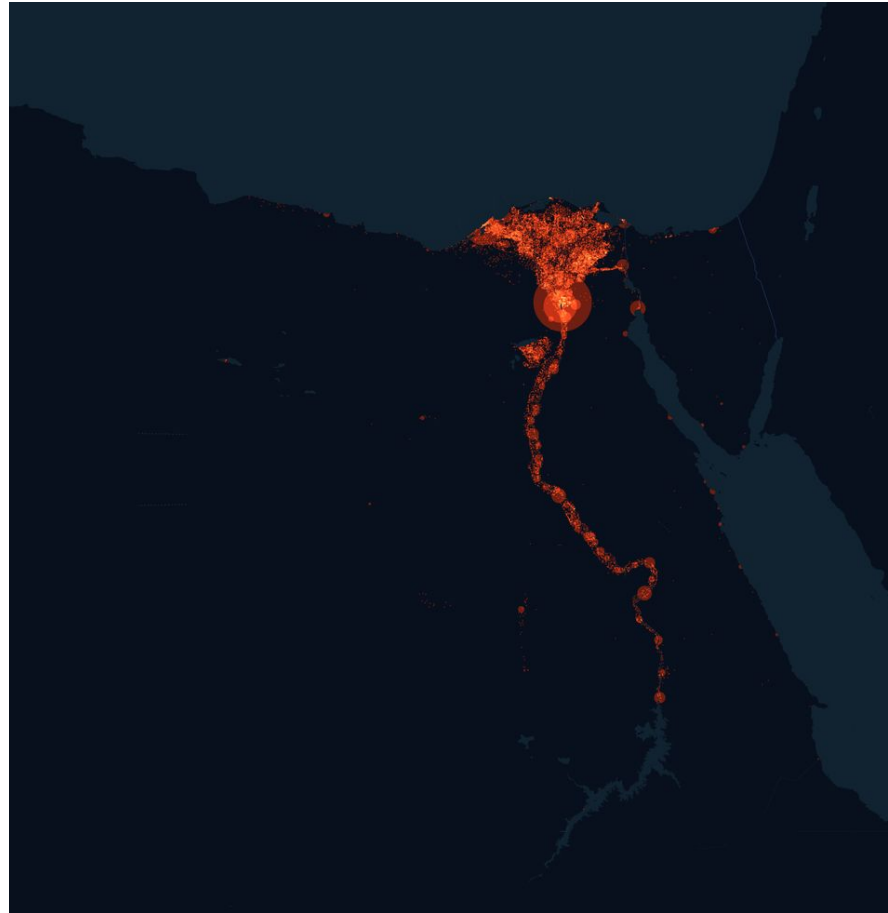




**Вопрос 25:** Какой национальный парк представлен на фотографиях?  
**Варианты ответа:** А) Гренландский национальный парк; Б) Национальный парк Грейт-Смоки-Маунтинс; В) Забайкальский национальный парк; Г) Йеллоустонский национальный парк.  
(За правильный ответ – 1 балла)



**Вопрос 26:** Население какой страны изображено на рисунке?  
**Варианты ответа:** А) Бразилия; Б) Аргентина; В) Египет; Г) Ливан.  
(За правильный ответ – 1 балл)



**Вопрос 27:** Определите страну по её очертанию:  
**Варианты ответа:** А) Боливия; Б) Судан; В) Мали; Г) Ангола.  
*(За правильный ответ – 1 балл)*

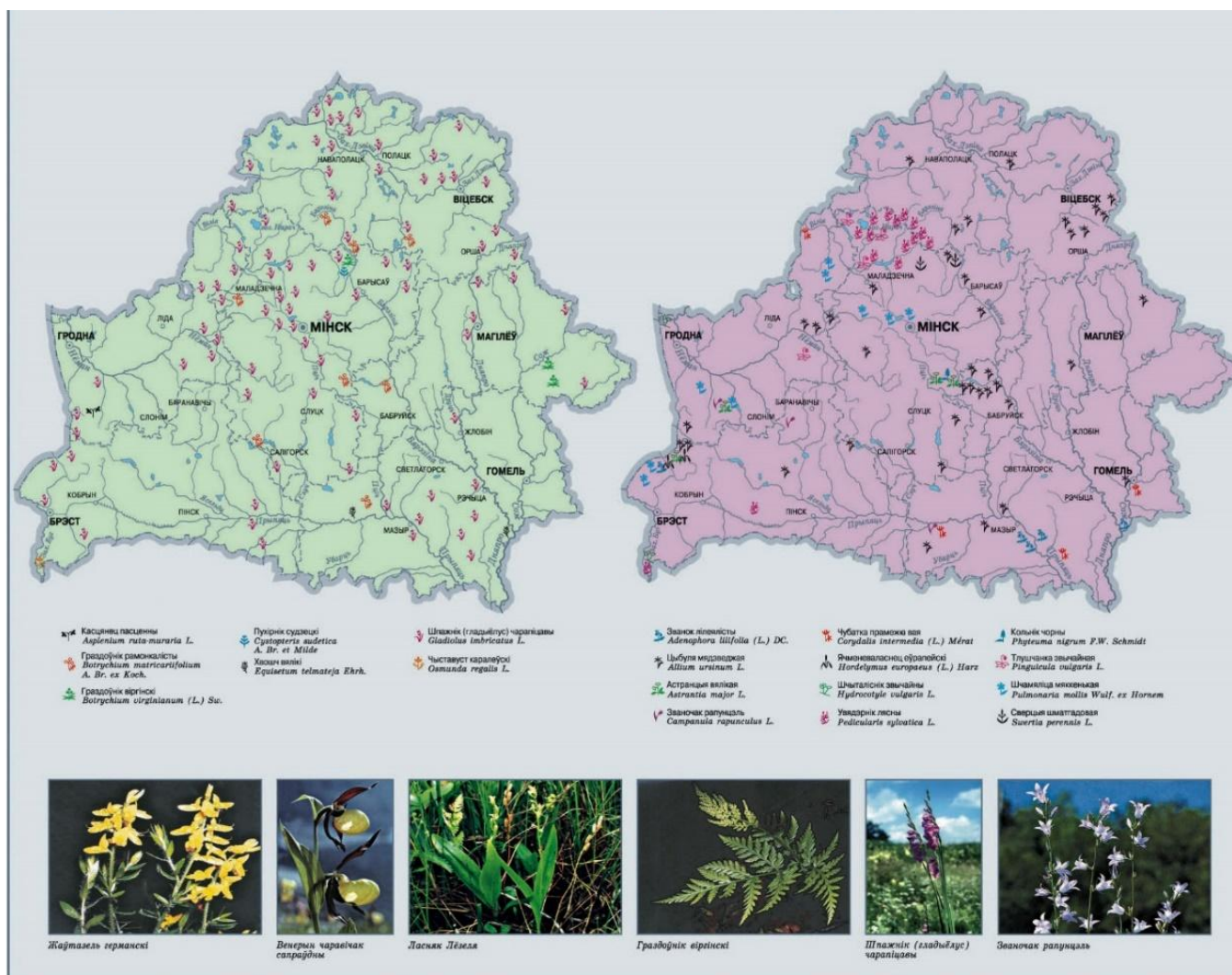




**Вопрос 28:** Какой способ картографического изображения использован на карте?

**Варианты ответа:** А) Картограммы; Б) Ареалов; В) Значковый; Г) Точечный.

(За правильный ответ – 2 балла)



**Вопрос 29:** Какая горная система изображена на снимке?  
**Варианты ответа:** А) Гималаи; Б) Анды; В) Пиренеи; Г) Урал.  
(За правильный ответ – 1 балл)



**Вопрос 30:** Соотнесите **ВСЕ** нижеперечисленные типы облаков и **ВСЕ** их буквенные изображения на рисунке: 1) Слоистые; 2) Перистые; 3) Слоисто-дождевые; 4) Слоисто-кучевые.  
(За правильный ответ – 2 балла)

