

Драйв - тест

10 клас

# Історія України (1900-1939 роки)

Тестова композиція

**20** завдань

кількість балів – 12

1-16 по 0,5 бала; 17-20 по 1 балу

## Завдання № 1

- Який історичний період характеризує цей плакат?
  - А) Російсько-японська війна
  - Б) Перша світова війна
  - В) Чортківська офензива
  - Г) Перший зимовий похід армії УНР





## Завдання № 2

Який з цих плакатів був створений в 1920 р.?

А)




Б)



В)



Г)





## Завдання № 3

Яка ілюстрація правильно вказує на антибільшовицький плакат?

А)



Б)



В)



Г)






## Завдання № 4

- Який з цих плакатів можна охарактеризувати як "антиімперський"?

■ А)




Б)



В)



Г)



## Завдання № 5

### ■ Визначте тематику плакату:

- А) Побут
- Б) Політика
- В) Спорт
- Г) Історія
- Д) Релігія





# Завдання № 6

- Який з цих плакатів із доби "воєнного комунізму?"

А)




Б)



В)



Г)





## Завдання № 7

- Який з цих плакатів характеризує 30-ті роки як "період тотальної зневіри та підозрілості?"

А)




Б)



В)



Г)



## Завдання № 8

### ■ Цей плакат став символом епохи...

- А) нової економічної політики
- Б) колективізації
- В) індустріалізації
- Г) воєнного комунізму
- Д) великого терору
- Е) громадянської війни





## Завдання № 9

■ Цей плакат закликає до...

- А) підвищення продуктивності праці в сільському господарстві
- Б) широкого застосування технічних засобів у виробництві
- В) посилення боротьби з опозицією існуючому політичному режиму
- Г) суспільної злагоди і політичної толерантності




# Завдання № 10

Який з цих плакатів **НЕ** спрямований на формування "культу вождя"?


а)



б)



в)



г)



д)



е)



ж)





# Завдання № 11

Який з цих плакатів можна характеризувати як "пропаганда радянського мистецтва"?

а)




б)



в)




г)



д)



е)



## Завдання № 12

В якому році був створений цей плакат?

- А) 1935
- Б) 1939
- В) 1936
- Г) 1937






# Завдання № 13

Який з цих плакатів пропагандує "соціалістичне змагання"?

а)




б)



в)



г)



д)



е)





## Завдання № 14

- В якому році був створений цей плакат?

- А) 1919
- Б) 1918
- В) 1920
- Г) 1921





# Завдання № 15

Який плакат із епохи "радянського войовничого атеїзму"?


а)



б)



в)



г)



д)



е)





# Завдання № 16

Який із запропонованих плакатів **НЕ** відображає загальну тенденцію?

А)



Б)



В)



Г)



Д)



е)





# Завдання № 17

Увага! Відповідь у вигляді трьохзначного числа.

- Із загального ряду виберіть ті плакати, що відображають події першої та другої "п'ятирічок".

1



2



3




4



5



6






## Визначте плакати, що відображують події 20-х років.

1



2




3



4



5



6







# Завдання № 19

- Встановіть хронологічну послідовність створення плакатів.

А)



Б)



В)



Г)





# Завдання № 20

- Встановіть хронологічну послідовність...

А)




Б)



В)



Г)





# Увага! Правильні відповіді!

- 1) Б
- 2) В
- 3) Г
- 4) В
- 5) А
- 6) В
- 7) Б
- 8) А
- 9) В
- 10) Е
- 11) А
- 12) Г
- 13) Г
- 14) А
- 15) Б
- 16) Г
- 17) 1,4,5
- 18) 1,2,4,6
- 19) Г,Б,В,А
- 20) В,Г,А,Б