

Задания дистанционной  
олимпиады «Созвездие  
талантов» по географии  
7 – 9 класс  
2016 – 2017 учебный год

## Вопрос 1.1.

Назовите город в Италии, где находится штаб-квартира Alfa Romeo Automobiles S.p.A.:  
А) Милан; Б) Сант-Агата-Болоньезе; В) Маранелло; Г) Модена; Д) Турин.



**ALFA ROMEO**

## Вопрос 1.2.

Назовите город в Италии, где находится штаб-квартира Iveco:

А) Милан; Б) Сант-Агата-Болоньезе; В) Маранелло; Г) Модена; Д) Турин.





**Вопрос 1.3.** Назовите город в Италии, где находится штаб-квартира Lamborghini S.p.A.:

А) Милан; Б) Сант-Агата-Болоньезе; В) Маранелло; Г) Модена; Д) Турин.





#### Вопрос 1.4.

Назовите город в Италии, где находится штаб-квартира Lancia Automobiles S.p.A.:  
А) Милан; Б) Сант-Агата-Болоньезе; В) Маранелло; Г) Модена; Д) Турин.



## Вопрос 1.5.

Назовите город в Италии, где находится штаб-квартира Maserati S.p.A.:  
А) Милан; Б) Сант-Агата-Болоньезе; В) Маранелло; Г) Модена; Д) Турин.





## Вопрос 1.6.

Назовите город в Италии, где находится штаб-квартира Ferrari S.p.A.:

А) Милан; Б) Сант-Агата-Болоньезе; В) Маранелло; Г) Модена; Д) Турин.



## Вопрос 1.7.

Назовите город в Италии, где находится штаб-квартира Fiat S.p.A.:

А) Милан; Б) Сант-Агата-Болоньезе; В) Маранелло; Г) Модена; Д) Турин.





## Вопрос 2.1.

Эту продукцию производят в:

А) Борисове; Б) Минске; В) Витебске; Г) Жодино.



## Вопрос 2.2.

Эту продукцию производят в:

А) Гомеле; Б) Бресте; В) Пинске; Г) Мозыре.





### Вопрос 2.3.

Эту продукцию производят в:

А) Бобруйске; Б) Орше; В) Минске; Г) Могилеве.



### Вопрос 3.1.

Соотнесите вулканы со странами:

А) Аргентина; Б) Гватемала; В) Индонезия; Г) Италия; Д) Новая Зеландия; Е) Россия.



1. Ключевская  
Сопка



2.  
Кракатау



3.  
Этна



4.  
Льюльяльяко



5.  
Тахумулько



6.  
Руапеху



## Вопрос 3.2.

Соотнесите вулканы со странами:

А) Индонезия; Б) Италия; В) Мексика; Г) Россия; Д) Танзания; Е) Эквадор.




1.  
Котопахи




2.  
Орисаба



3.  
Везувий



4.  
Килиманджаро



5.  
Тятя



6.  
Семеру

### Вопрос 3.3.

Соотнесите вулканы со странами:

А) Иран; Б) Камерун; В) Колумбия; Г) Россия; Д) Филиппины; Е) Чили.



1. Охос-дель-Саладо



2. Камерун



3. Руис



4. Апо



5. Кроноцкая Сопка



6. Демавенд



### Вопрос 3.4.

Соотнесите вулканы со странами:

А) Исландия; Б) Италия; В) Мексика; Г) Россия; Д) США; Е) Япония.



1.  
Фудзияма



2.  
Катмай



3.  
Гекла



4.  
Попокатепетль



5.  
Шивелуч



6.  
Стромболи



**Вопрос 4.1.** На данном слайде изображен каньон образованный рекой:  
А) Лена; Б) Иордан; В) Колорадо; Г) Замбези.





## Вопрос 4.2.

Назовите главную причину формирования пустыни на берегу океана:

- А) деятельность человека; Б) глобальное потепление; В) химическое загрязнение;  
Г) воздействие холодного течения.



### Вопрос 4.3.

На данном слайде показаны последствия:

А) оползня; Б) землетрясения; В) наводнения; Г) селевого потока.





#### **Вопрос 4.4.**

На слайде показана форма рельефа, которая образована в результате деятельности:

А) воды; Б) ледника; В) живых организмов; Г) ветра.





**Вопрос 5.1.** Соотнесите национальное жилище и народ:  
А) индейцы; Б) украинцы; В) японцы; Г) эскимосы.

1



2



3



4





**Вопрос 5.2.** Соотнесите национальное жилище и народ:

А) турки; Б) грузины; В) китайцы; Г) немцы.

1



2



3



4



**Вопрос 5.3.** Соотнесите национальное жилище и народ:

А) чукчи; Б) тайцы ; В) русские; Г) монголы.

1



2



3



4





## Вопрос 6.1.

Соотнесите изобретения со странами: А) Франция; Б) Индия; В) Великобритания; Г) Россия.

1




2



3



4



## Вопрос 6.2.

Соотнесите изобретения со странами: А) Китай; Б) США; В) Франция; Г) Египет.

1



2



3



4





### Вопрос 6.3.

Соотнесите изобретения со странами:

А) США; Б) Германия; В) Франция; Г) Великобритания.

1



2



3



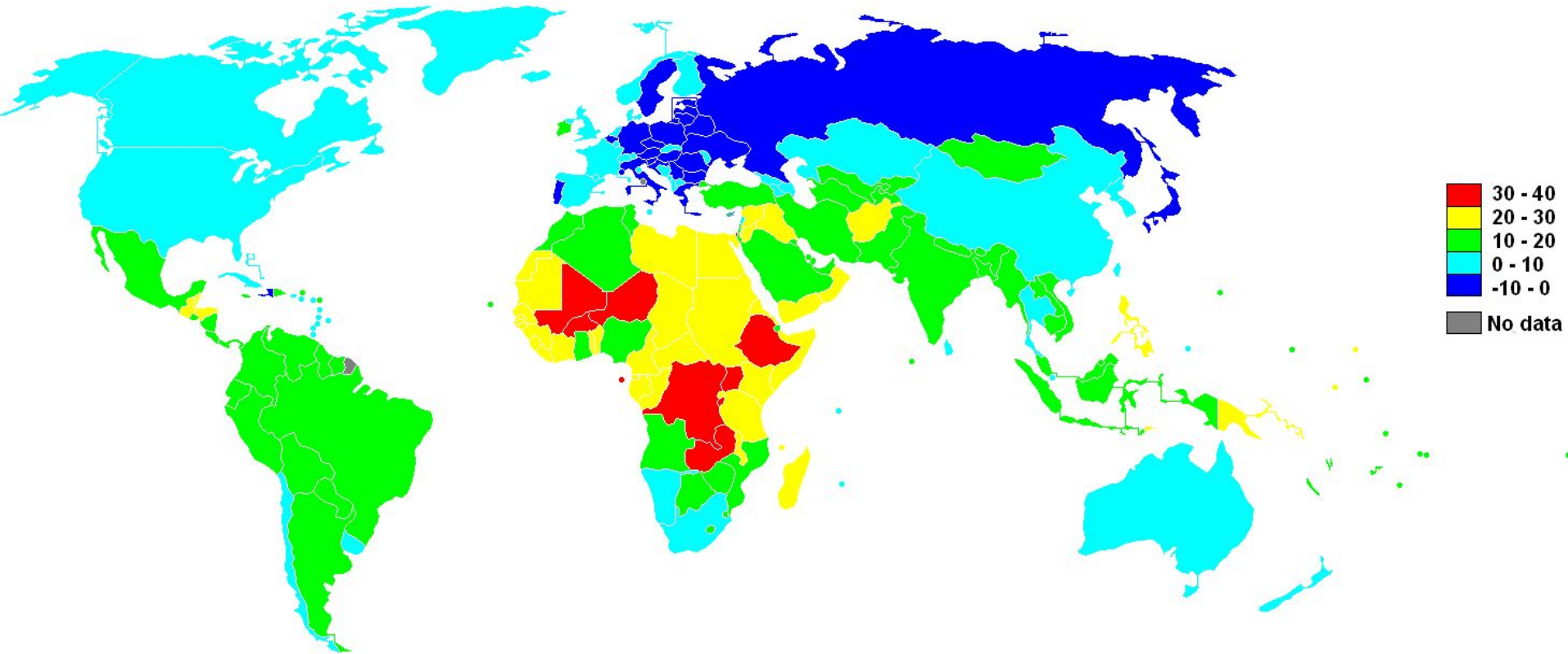
4



### Вопрос 7-8.1.

Установите какую информацию несет данная карта:

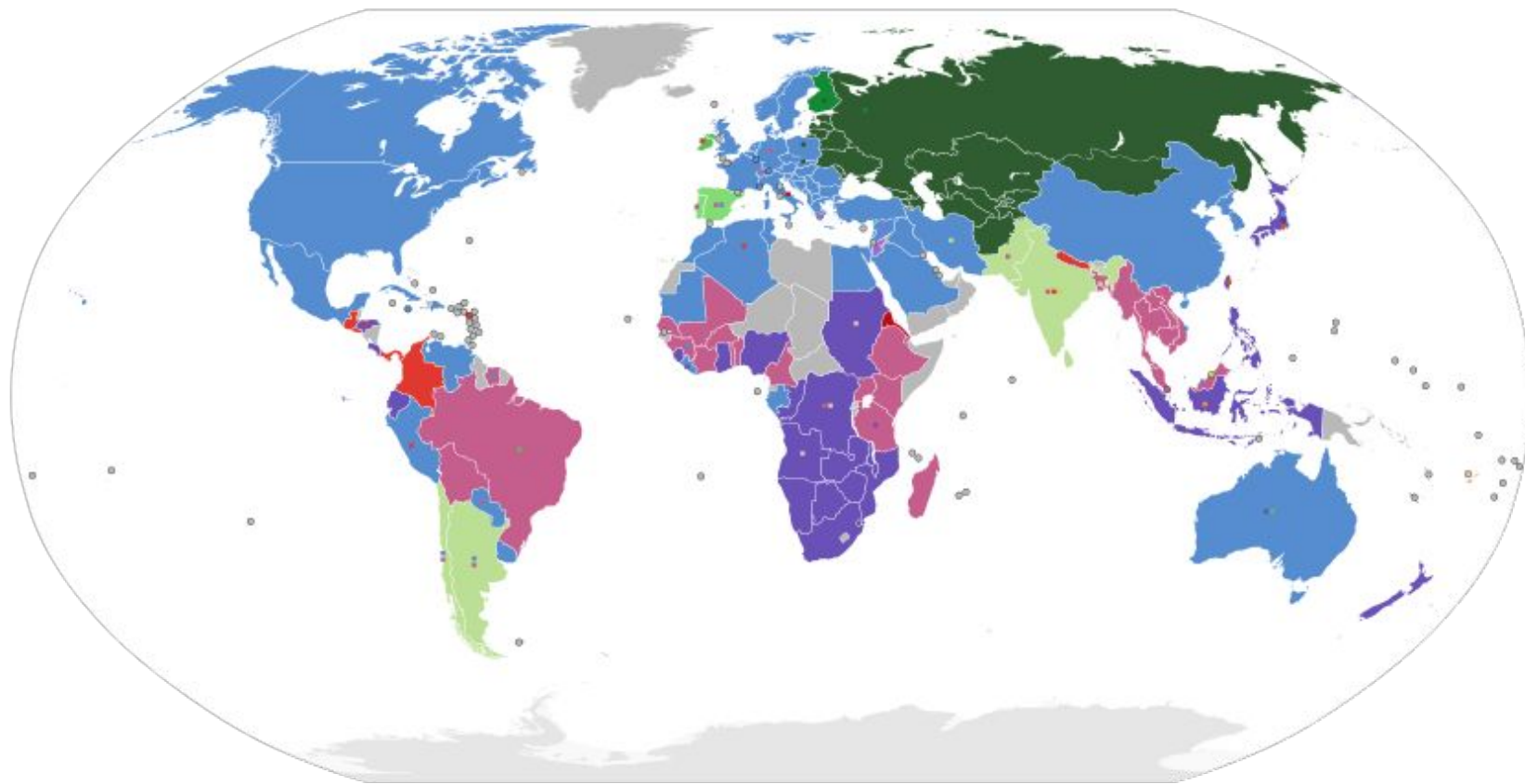
- А) показывает естественный прирост населения по странам мира;
- Б) показывает плотность населения по странам мира;
- В) показывает численность населения по странам мира;
- Г) показывает уровень смертности населения по странам мира;
- Д) показывает уровень рождаемости населения по странам мира;
- Е) показывает среднюю продолжительность жизни населения по странам мира.





**Вопрос 7-8.2.** Установите какую информацию несет данная карта:

- А) показывает страны, относящиеся к различным типам по форме правления;
- Б) показывает страны с различными уровнями социально-экономического развития;
- В) показывает страны, отличающиеся по индексу ИРЧП;
- Г) показывает страны, имеющие различную ширину железнодорожной колеи;
- Д) показывает уровень рождаемости населения по странам;
- Е) показывает среднюю продолжительность жизни населения по странам.

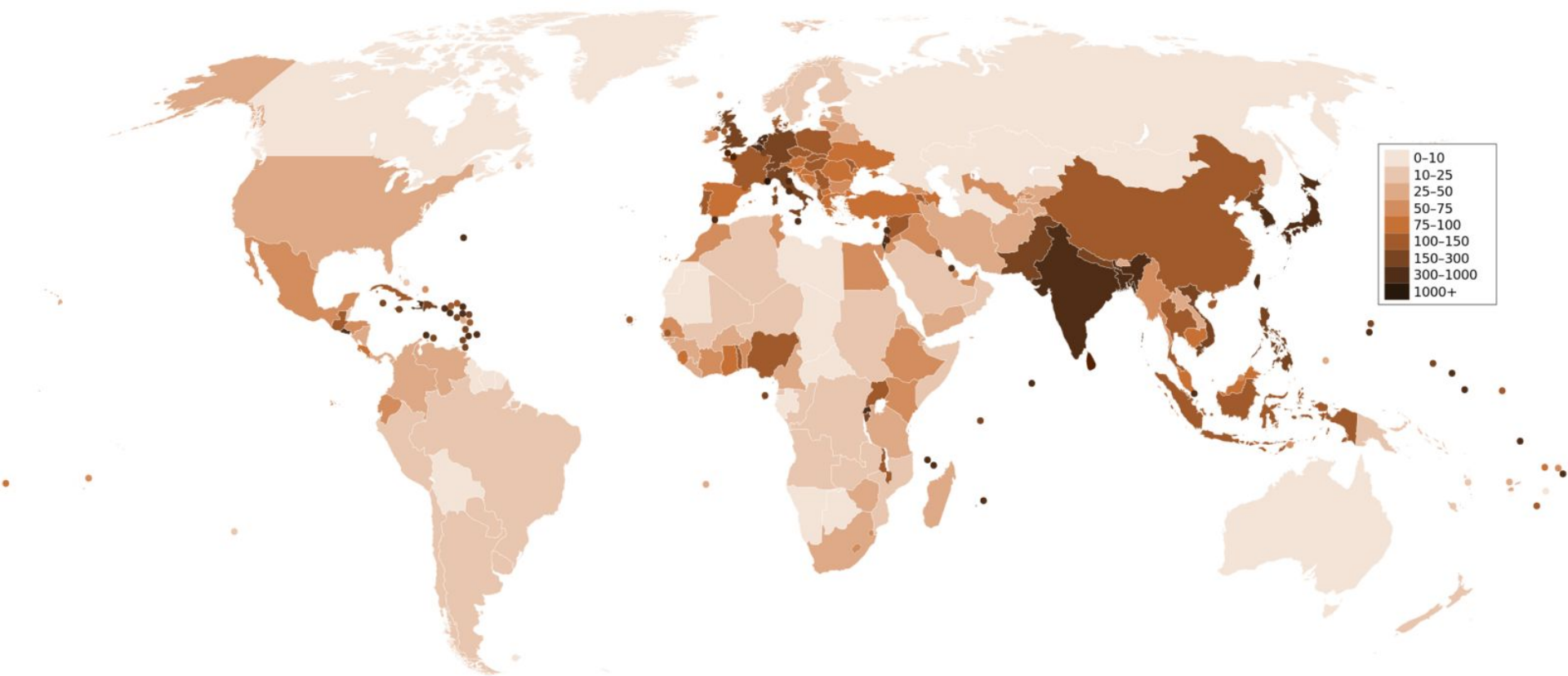


mm	1676	1668	1600	1524	1520	1435	1372	1067	1050	1000	950	914	762	750	610	600
ft in	5'6"	5'5.67"	5'3"	5'	4'11.8"	4'8.5"	4'6"	3'6"	3'5.3"	3'3.4"	3'1.4"	3'	2'6"	2'5.5"	2'	1'11.6"

### Вопрос 7-8.3.

Установите какую информацию несет данная карта:

- А) показывает естественный прирост населения по странам мира;
- Б) показывает плотность населения по странам мира;
- В) показывает численность населения по странам мира;
- Г) показывает уровень смертности населения по странам мира;
- Д) показывает уровень рождаемости населения по странам мира;
- Е) показывает среднюю продолжительность жизни населения по странам мира.

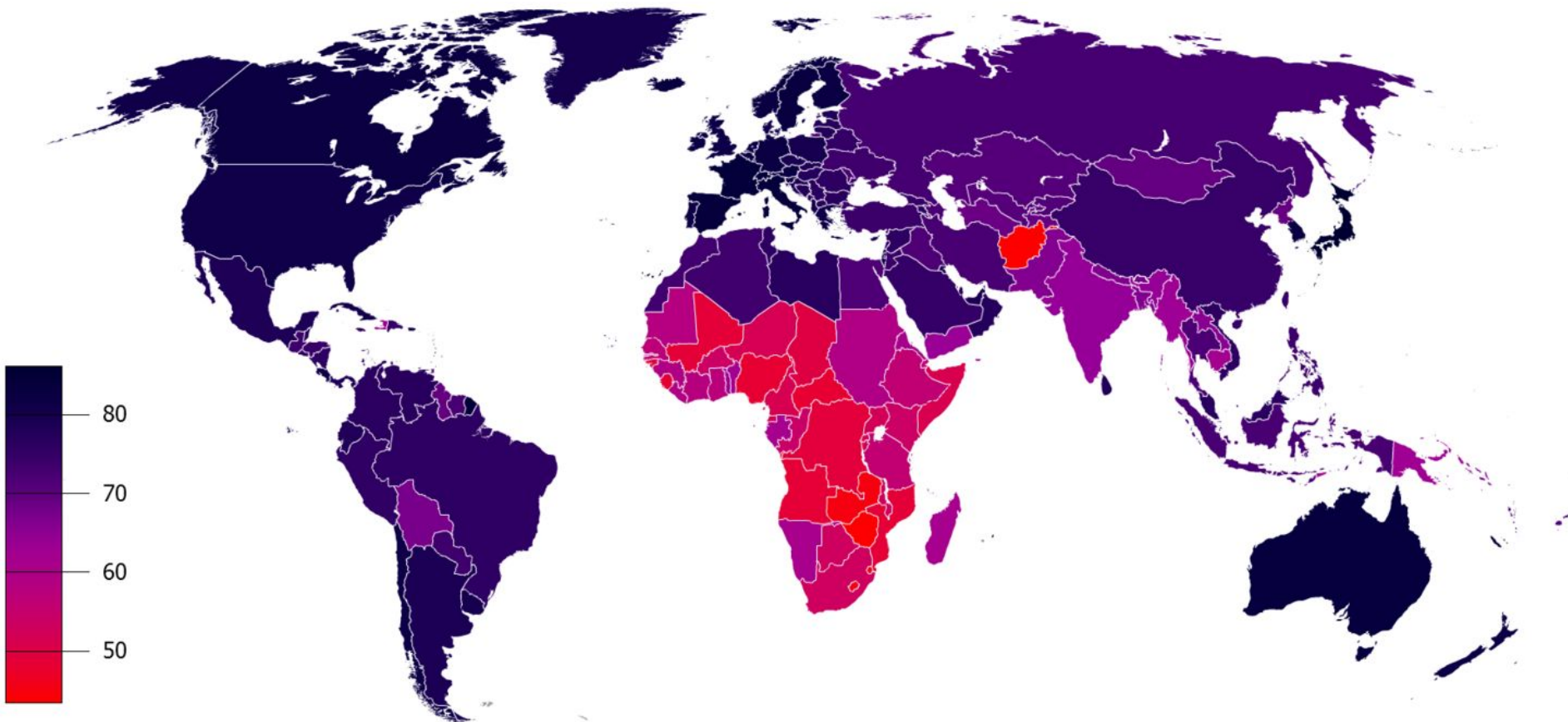




### Вопрос 7-8.4.

Установите какую информацию несет данная карта:

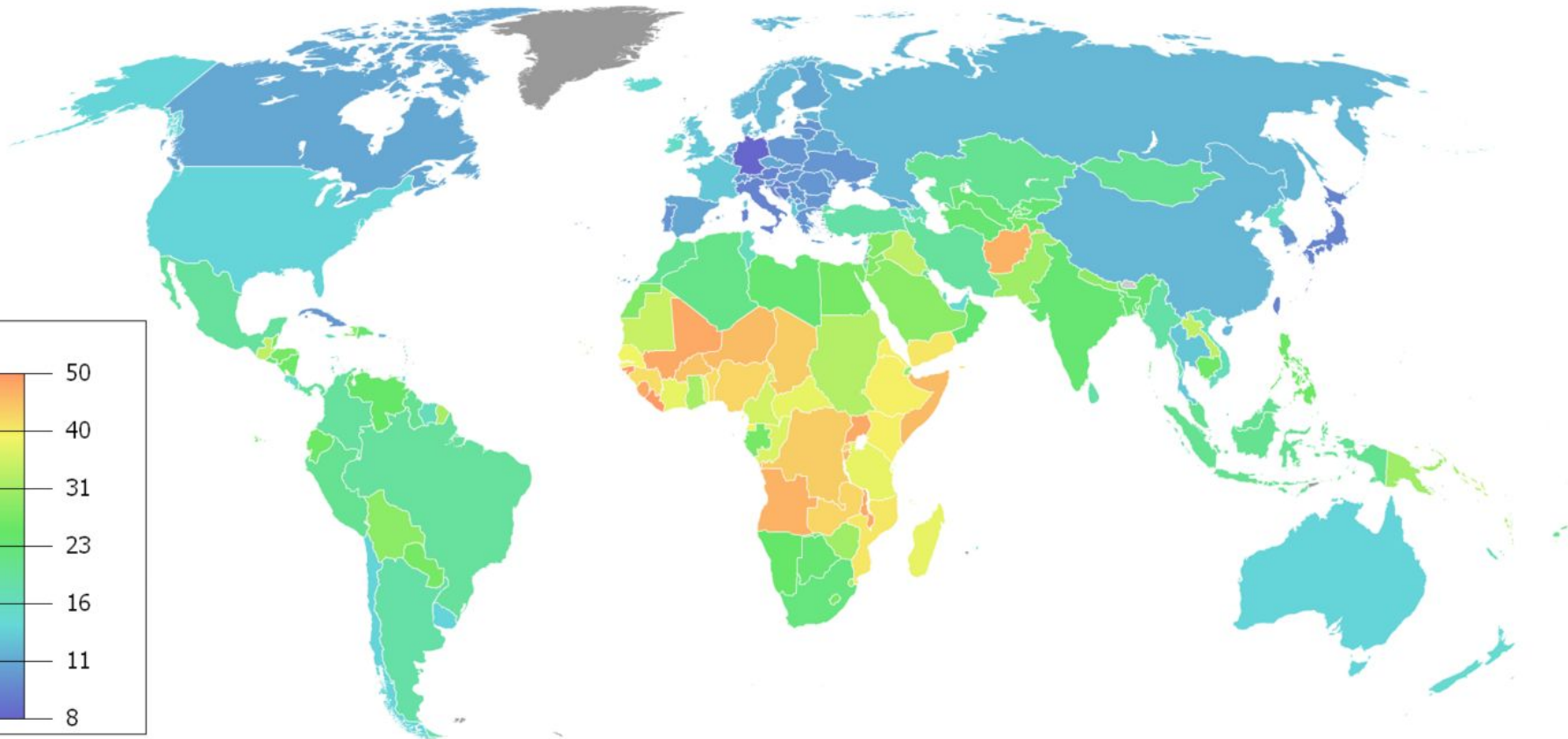
- А) показывает естественный прирост населения по странам мира;
- Б) показывает плотность населения по странам мира;
- В) показывает численность населения по странам мира;
- Г) показывает уровень смертности населения по странам мира;
- Д) показывает уровень рождаемости населения по странам мира;
- Е) показывает среднюю продолжительность жизни населения по странам мира.



### Вопрос 7-8.5.

Установите какую информацию несет данная карта:

- А) показывает естественный прирост населения по странам мира;
- Б) показывает плотность населения по странам мира;
- В) показывает численность населения по странам мира;
- Г) показывает уровень смертности населения по странам мира;
- Д) показывает уровень рождаемости населения по странам мира;
- Е) показывает среднюю продолжительность жизни населения по странам мира.

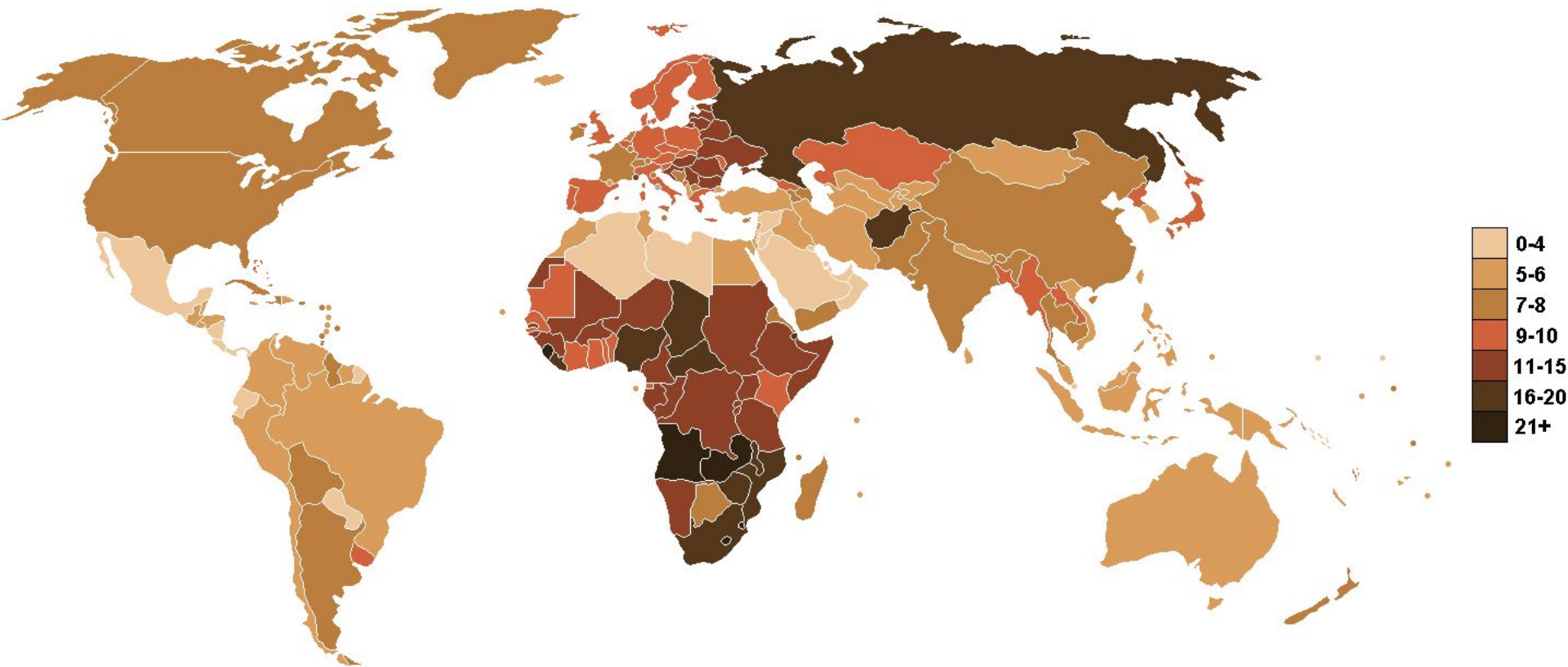




## Вопрос 7-8.6.

Установите какую информацию несет данная карта:

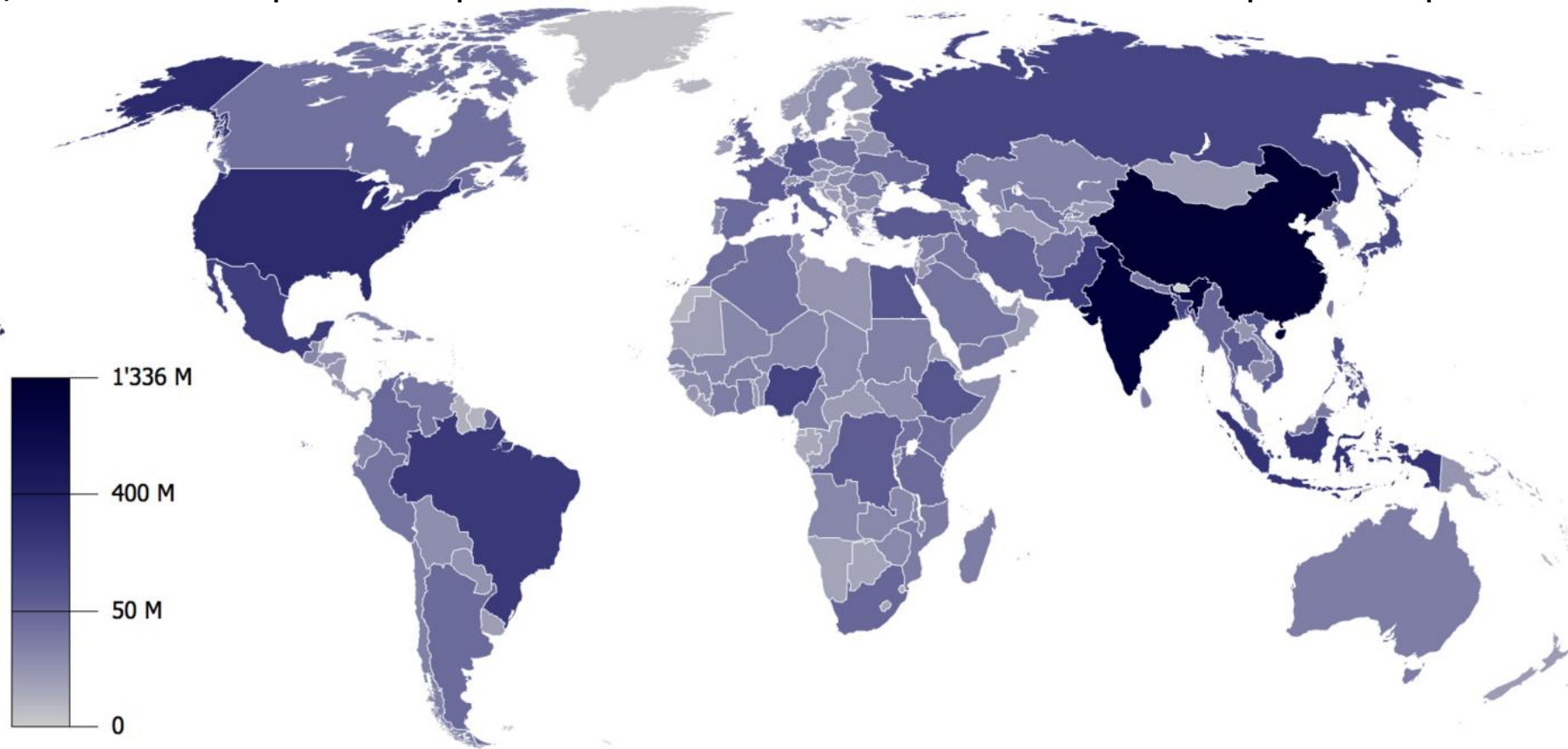
- А) показывает естественный прирост населения по странам мира;
- Б) показывает плотность населения по странам мира;
- В) показывает численность населения по странам мира;
- Г) показывает уровень смертности населения по странам мира;
- Д) показывает уровень рождаемости населения по странам мира;
- Е) показывает среднюю продолжительность жизни населения по странам мира.



## Вопрос 7-8.7.

Установите какую информацию несет данная карта:

- А) показывает естественный прирост населения по странам мира;
- Б) показывает плотность населения по странам мира;
- В) показывает численность населения по странам мира;
- Г) показывает уровень смертности населения по странам мира;
- Д) показывает уровень рождаемости населения по странам мира;
- Е) показывает среднюю продолжительность жизни населения по странам мира.





### Вопрос 9.1.

Перед вами картосхемы крупнейших по площади озёр мира. Установите соответствия: картосхема озера – его название.

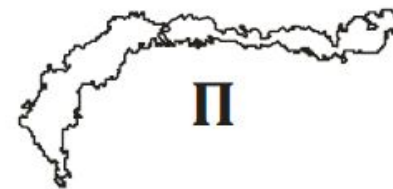
Список озёр: 1) Аральское море; 2) Байкал; 3) Большое медвежье; 4) Ньяса; 5) Танганьика.



## Вопрос 9.2.

Перед вами картосхемы крупнейших по площади озёр мира. Установите соответствия: картосхема озера – его название.

Список озёр: 1) Балхаш; 2) Большое Невольничье; 3) Виннипег; 4) Чад; 5) Эри.





### Вопрос 9.3.

Перед вами картосхемы крупнейших по площади озёр мира. Установите соответствия: картосхема озера – его название.

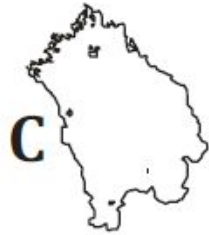
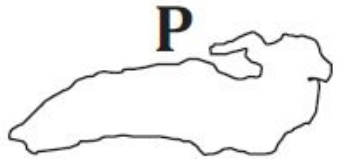
Список озёр: 1) Верхнее; 2) Виктория; 3) Гурон; 4) Каспийское море; 5) Мичиган.



### Вопрос 9.4.

Перед вами картосхемы крупнейших по площади озёр мира. Установите соответствия: картосхема озера – его название.

Список озёр: 1) Бангвеулу; 2) Ладожское; 3) Маракайбо; 4) Онтарио; 5) Эйр.





**Вопрос 10.1. Назовите столицу страны, о которой идёт речь.**

Эта страна до 1919 г. была крупной метрополией, колониями которой были такие современные государства как Танзания (Танганьика), Намибия, Камерун, Того, а также северная часть Папуа-Новой Гвинеи.





**Вопрос 10.2.** Назовите злаковую культуру, о которой идёт речь.

Эту культуру в России называли сорочинским пшеном, а с XIX в. употребляется её современное название. Она является одной из древнейших продовольственных сельскохозяйственных культур. Её одомашнивание произошло около 9 тысяч лет назад. Из её зерна производят крупу, крахмал, алкогольные напитки, сладости. На основе соломы производят бумагу, картон, плетёные изделия. Выращивая на одном поле разные сорта этой культуры, посаженные по определенной схеме, фермеры создают полноценные картины на своих полях.





### **Вопрос 10.3.** Назовите остров, о котором идёт речь.

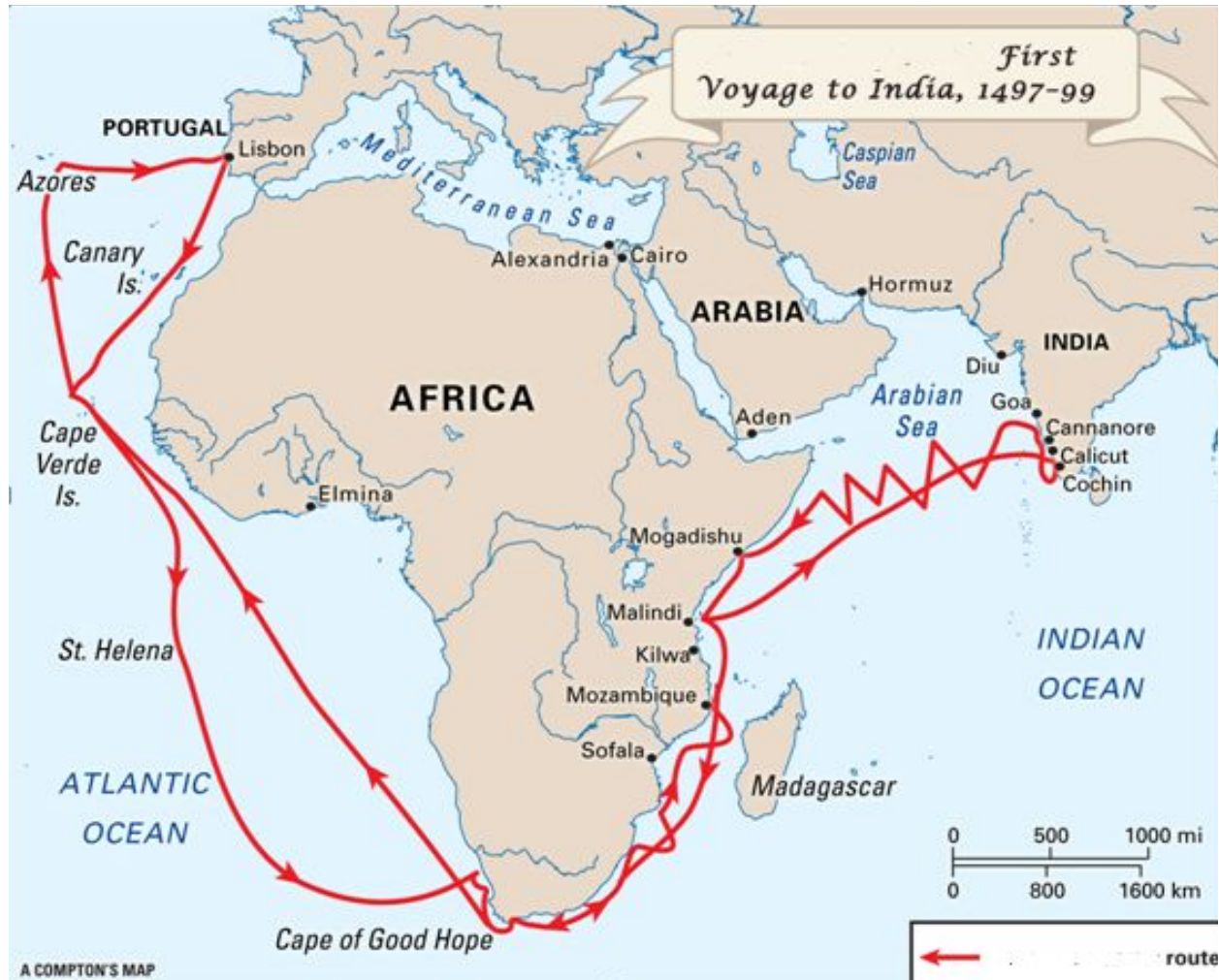
Этот остров в Тихом океане был открыт в 1606 г. испанской экспедицией под руководством П.Ф. Де Кироса и получил название Сагитарио. В 1767 г. англичанин С. Уоллис дал острову имя в честь короля Георга III. В 1768 г. француз Л.А. Де Бугенвиль хотел назвать остров Утопией, но дал имя Н. Кифера. В 1820 г. Ф.Ф. Беллинсгаузен назвал его в честь М.Б. Барклай-де-Толли. Однако ни одно из европейских названий не прижилось, и с XIX в. укоренилось местное название.



## Вопрос 11.1.

На слайде показан маршрут путешествия:

А) Х. Колумба; Б) В. да Гамы; В) Ф. Мегеллана; Г) Х. Элькано; Д) Б. Диаша.





**Вопрос 11.2.**

На слайде показаны маршруты путешествий:

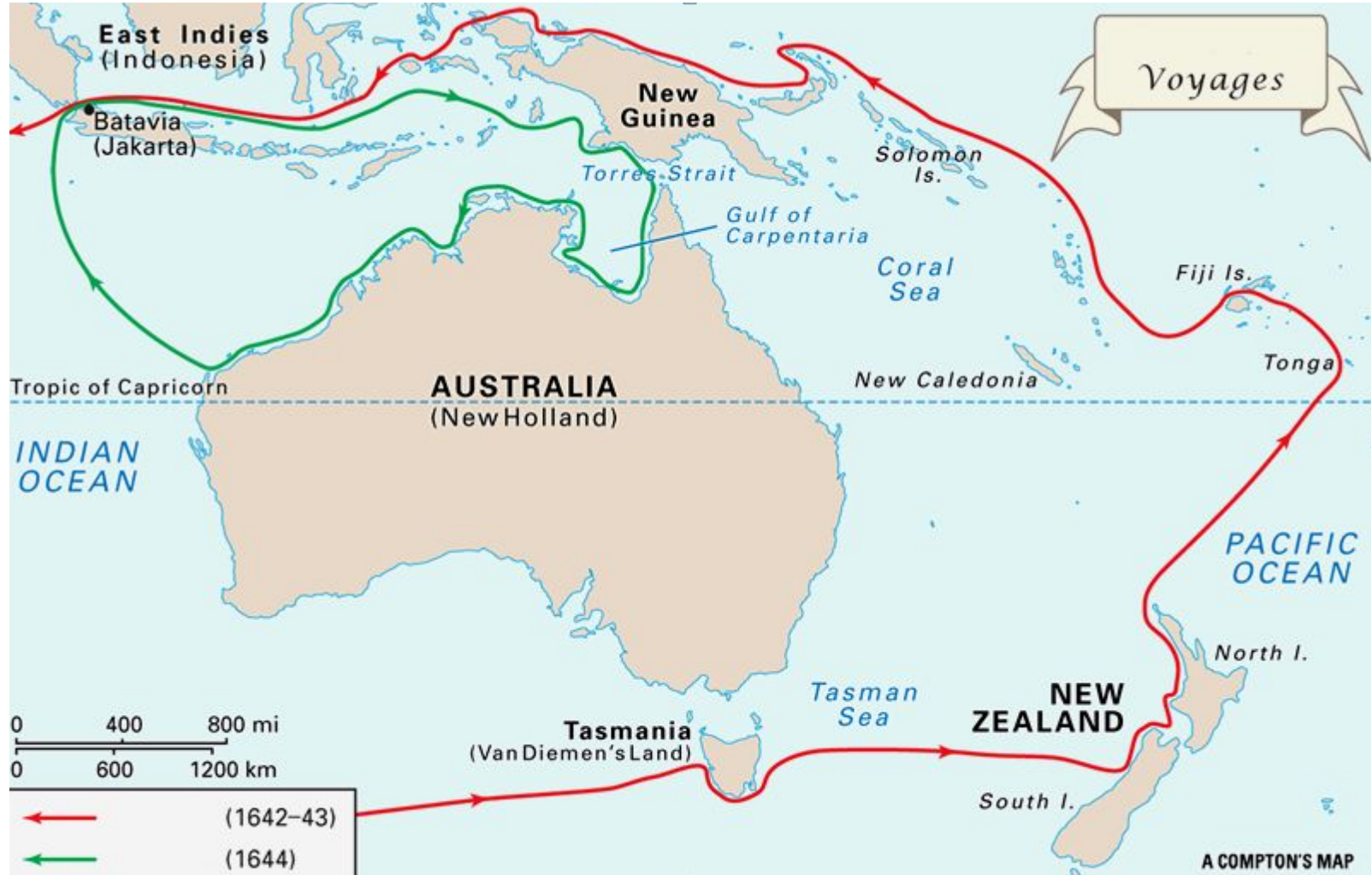
А) Д. Кука; Б) Ф. Магеллана; В) Ф. Дрейка; Г) Лаперуза; Д) И. Крузенштерна.



**Вопрос 11.3.**

На слайде показаны маршруты путешествий:

А) Д. Кука; Б) В. Янсзона; В) Н. Миклухо-Маклая; Г) Д. Эйра; Д) А. Тасмана.





**Вопрос 12.1.** Соотнесите музыкальный инструмент и страну:  
А) Италия; Б) Германия; В) Россия; Г) США.

1



2



3



4



**Вопрос 12.2.** Соотнесите музыкальный инструмент и страну:  
А) Великобритания; Б) Бельгия; В) Германия; Г) Украина.

1



2



3



4





**Вопрос 12.3.** Соотнесите музыкальный инструмент и страну:  
А) Испания; Б) Греция; В) Россия; Г) Италия.

1



2



3



4



**Вопрос 13.1.** Определите народы Южной Европы:  
А) испанцы; Б) итальянцы; В) португальцы; Г) греки.

1



2



3



4





**Вопрос 13.2.** Определите народы Восточной Азии:  
А) корейцы; Б) китайцы; В) японцы; Г) мяо.

1



2



3



4



**Вопрос 13.3.** Определите народы Северной Европы:  
А) датчане; Б) норвежцы; В) шведы; Г) финны.

1



2



3



4





**Вопрос 14.1.** Соотнесите национальные блюда со странами:

А) Япония; Б) Испания; В) Сербия; Г) Турция.



1. Кебаб



2. Плескавица



3. Суши



4. Хамон

**Вопрос 14.2.** Соотнесите национальные блюда со странами:

А) Великобритания; Б) Аргентина; В) Италия; Г) Хорватия .



1. Пажский сыр



2. Пудинг



3. Асадо



4. Паста



**Вопрос 14.3.** Соотнесите национальные блюда со странами:

А) Канада; Б) Италия; В) Сирия; Г) Польша.



1. Путьн



2. Кeббe



3. Бигус



4. Пицца



**Вопрос 15-16.1.** Соотнесите национальные парки и страны:

А) Австралия; Б) Болгария; В) Бразилия; Г) США; Д) Танзания; Е) Шри-Ланка.



1.  
Амазония



2. Рудалл-  
Ривер



3.  
Витоша



4. Нгоронгоро



5.  
Эверглейдс



6.  
Вилпатту



**Вопрос 15-16.2.** Соотнесите национальные парки и страны:


А) Австралия; Б) Италия; В) Намибия; Г) Перу; Д) США; Е) Япония.



1. Большой Барьерный  
Риф



2.  
Йосемитский



3.  
Олема



4.  
Абруццо



5.  
Ману



6. Асо-  
Кудзю



**Вопрос 15-16.3.** Соотнесите национальные парки и страны:

А) Аргентина; Б) Венесуэла; В) Канада; Г) США; Д) Танзания; Е) Франция.



1.  
Канайма



2.  
Серенгети



3. Большой  
Каньон



4.  
Экрен



5.  
Игуасу



6.  
Банф



**Вопрос 15-16.4.** Соотнесите национальные парки и страны:  
А) ДРК; Б) Индия; В) Непал; Г) США; Д) ЮАР; Е) Япония.



1.  
Крюгера



2.  
Акан



3.  
Йеллоустонский



4.  
Сагарматха



5. Гирский  
лес



6.  
Вирунга



**Вопрос 15-16.5.** Соотнесите национальные парки и страны:

А) Австралия; Б) Аргентина; В) Намибия; Г) Новая Зеландия; Д) Норвегия; Е) США.



1.  
Редвуд



2.  
Какаду



3.  
Фьордленд



4.  
Бёргефьель



5. Лос-  
Гласьярес



6. Берег  
Скелетов



**Вопрос 15-16.6.** Соотнесите национальные парки и страны:

А) Австралия; Б) Испания; В) Канада; Г) Саудовская Аравия; Д) Уганда; Е) Эквадор.



1.  
Рувензори



2. Вуд-  
Баффало



3.  
Галапагос



4.  
Асир



5.  
Доньяна




6.  
Костюшко




## Вопрос 17.1.

Найдите соответствия: известный мореплаватель – открытые им острова (архипелаги).

Острова: А) Кадьяк; Б) Элсмир; В) Новая Зеландия; Г) Фолклендские острова; Д) Багамские острова; Е) Огненная Земля.




1. Христофор Колумб



4. Абель Тасман



2. Григорий Шелихов



5. Фернан Магеллан



3. Уильям Баффин



6. Джон Дейвис




## Вопрос 17.2.

Найдите соответствия: известный мореплаватель – открытые им острова (архипелаги).

Острова: А) Галапагосские острова; Б) Новая Британия; В) Амстердам; Г) Амирантские острова; Д) Маркизские острова; Е) Новые Гебриды.




1. Уильям Дампир




2. Хуан Себастьян Элькано




3. Педро Фернандес Кирос



4. Альваро Менданья



5. Томас де Берланга



6. Васко да Гама

**Вопрос 18.1.** Определите полуострова по космическим снимкам:  
А) Скандинавский; Б) Кольский; В) Аравийский; Г) Корнуолл; Д) Апеннинский.

1



2



3



4



5





**Вопрос 18.2.** Определите полуострова по космическим снимкам:  
А) Апшеронский; Б) Аляска; В) Индостан; Г) Камчатка; Д) Кейп-Йорк.

1



2



3



4



5





**Вопрос 18.3.** Определите полуострова по космическим снимкам:

А) Синайский; Б) Сомали; В) Крымский; Г) Пелопонес; Д) Корейский.

1



2



3



4



5





**Вопрос 18.4.** Определите полуострова по космическим снимкам:

А) Пиренейский; Б) Индокитай; В) Малая Азия; Г) Флорида; Д) Юкатан.

1



2



3



4



5





# Вопрос 19.1.

Распределите основные религии Индии: А) сикхизм; Б) индуизм; В) буддизм; Г) джайнизм





**Вопрос 19.2.** Распределите основные религии Китая:  
А) даосизм; Б) конфуцианство; В) буддизм; Г) ислам.





**Вопрос 19.3.** Распределите основные религии Японии:  
А) православие; Б) синтоизм; В) буддизм; Г) католицизм.





## Вопрос 20.1.

Родиной этой сельскохозяйственной культуры является:

А) Америка, Б) Африка; В) Азия; Г) Европа.



## Вопрос 20.2.

Родиной этой сельскохозяйственной культуры является:

А) Америка, Б) Африка; В) Азия; Г) Европа.





### Вопрос 20.3.

Родиной этой сельскохозяйственной культуры является:

А) Америка, Б) Африка; В) Азия; Г) Европа.



**Вопрос 21-22.1.** На слайде показан самый крупный на планете объект, имеющий органическое происхождение. Он расположен у берегов материка:  
А) Южная Америка; Б) Северная Америка; В) Африка; Г) Австралия.





**Вопрос 21-22.2.** Выберите государство, располагающееся на острове материкового происхождения, входящее в состав Содружества наций и специализирующееся на добыче медной руды, нефти, золота, серебра, обработке древесины, копры и производстве пальмового масла.

Варианты ответа: А) Экваториальная Гвинея; Б) Папуа – Новая Гвинея; В) Ямайка; Г) Барбадос; Д) Мадагаскар.





### Вопрос 21-22.3.

Выберите географический объект, встречающийся в пустынях:

А) талик; Б) тальвег; В) тарын; Г) такыр; Д) торос.





**Вопрос 21-22.4.** Какой прибор средневековые арабы называли «дом иглы»?

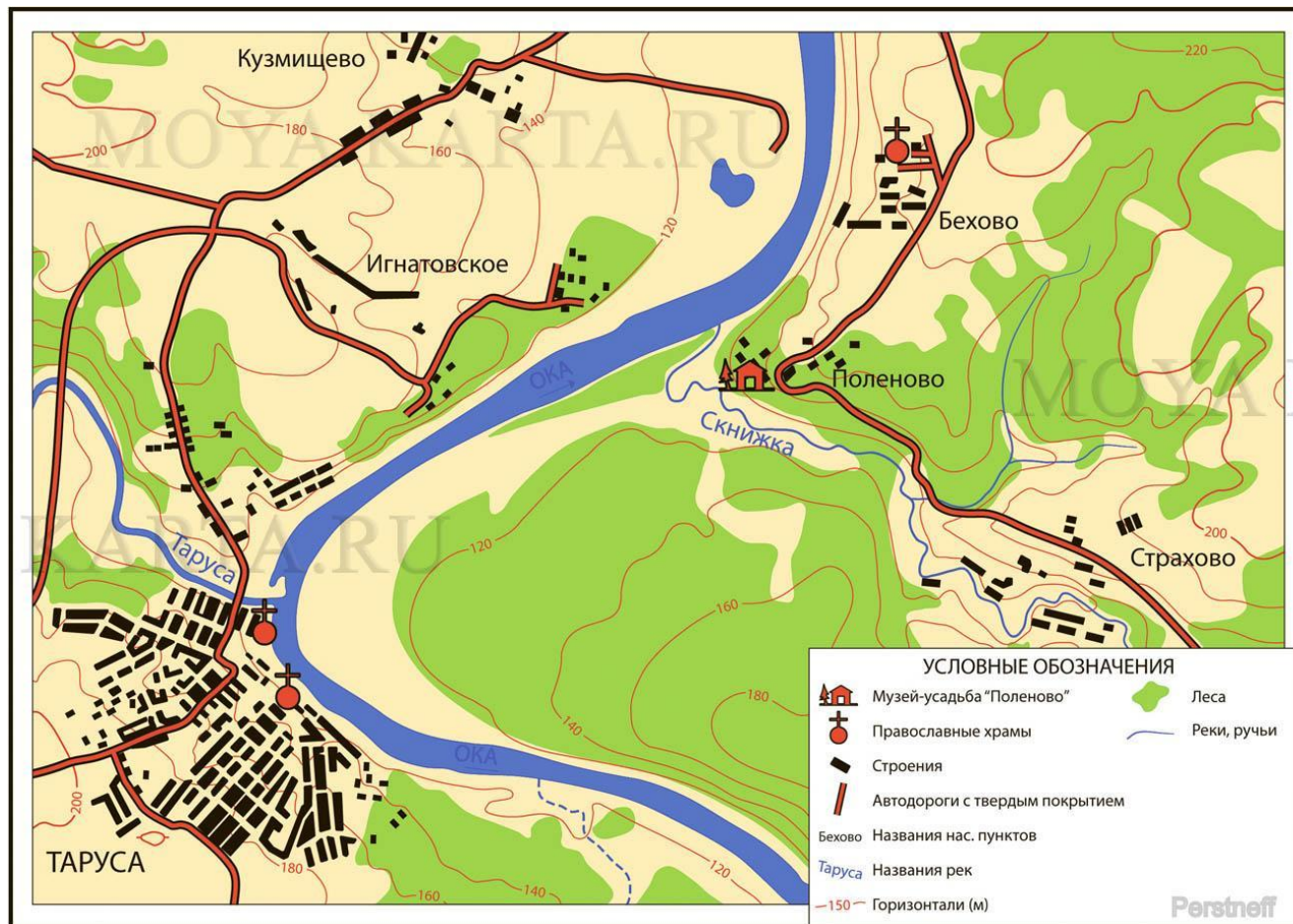
А) анемометр; Б) барометр; В) компас; Г) курвиметр; Д) термометр; Е) гномон.



## Вопрос 21-22.5.

С помощью какого прибора измеряют по топокарте длины извилистых линий?

А) эклиметр; Б) планиметр; В) курвиметр; Г) люксметр.





**Вопрос 21-22.6.** Среди перечисленных стран выберите ту, которая имеет высокие доходы национального бюджета, связанного с экспортом нефти:  
А) Перу; Б) Экваториальная Гвинея; В) Белиз; Г) Малави; Д) Новая Зеландия; Е) Беларусь.






**Вопрос 23-25.1.** Определите страну по рисункам на слайде.






**Вопрос 23-25.2.** Определите страну по рисункам на слайде.





**Вопрос 23-25.3.** Определите страну по рисункам на слайде.





**Вопрос 23-25.4.** Определите страну по рисункам на слайде.





**Вопрос 23-25.5.** Определите страну по рисункам на слайде.






**Вопрос 23-25.6.** Определите страну по рисункам на слайде.



**Вопрос 23-25.7.** Определите страну по рисункам на слайде.





**Вопрос 23-25.8.** Определите страну по рисункам на слайде.





**Вопрос 23-25.9.** Определите страну по рисункам на слайде.





**Вопрос 26-27.1.** Назовите пропущенную страну в списке стран по длине автодорог.

№	Страна	Все дороги (км)	Автомагистрали (км)	Год
—	Мир	64 285 000		2013
1	 США	6 586 610	77 017	2013
2	 Индия	4 865 000	1324	2014
3		4 356 200	111 950	2014
4	 Бразилия	1 751 868	11 000	2013
5	 Россия	1 396 000	929	2014
6	 Япония	1 215 000	8050	2012
7	 Канада	1 042 300	6350	2013
8	 Франция	1 028 446	11 882	2013
9	 Австралия	823 217	3132	2011
10	 Испания	681 298	16 583	2013

## Вопрос 26-27.2.

Назовите пропущенную страну в списке стран по производству автомобилей за 2014 год.

место	страна/ регион	2014
—	 мир	89 747
—	 Евросоюз	16 977
01	 Китай	23 723
02	 США	11 661
03	 Япония	9 775
04	 Германия	5 908
05		4 525
06	 Индия	3 840
07	 Мексика	3 365
08	 Бразилия	3 146
09	 Испания	2 403
10	 Канада	2 394



### Вопрос 26-27.3.

Назовите пропущенную страну в списке стран по производству какао-бобов.

Страна	1985	1995	2005	2009
 Кот-д'Ивуар	555	1120	1360	1222
	34	278	643	800
 Гана	197	404	740	662
 Нигерия	160	203	441	370
 Камерун	118	134	178	226
 Бразилия	431	297	209	218
 Эквадор	131	85	94	120
 Того	14	6	53	105
 Папуа — Новая Гвинея	35	29	48	51
 Доминиканская Республика	34	65	31	50

**Вопрос 26-27.4.** Назовите пропущенную страну в списке стран по производству кукурузы.

Страна	1985	1995	2005	2009	2014
 США	225453	187969	282261	333011	361091
	64102	112361	139498	164107	215500
 Бразилия	22018	36267	35113	51232	75000
 Мексика	14103	18352	19338	20142	24000
 Индонезия	4329	8245	12523	17629	9400
 Индия	6643	9534	14709	16680	22500
 Франция	12409	12739	13687	15288	н/д
 Аргентина	11900	11404	20482	13121	24000
 ЮАР	8444	4866	11715	н/д	11300
 Россия	н/д	н/д	н/д	н/д	11325



## Вопрос 26-27.5.

Назовите пропущенную страну в списке стран по производству молока за 2011 год.

Номер	Страна	Производство молока, т
1	 США	84 189 067
2		42 890 000
3	 КНР	35 574 326
4	 Россия	31 915 000
5	 Германия	28 402 772
6	 Бразилия	26 944 064
7	 Франция	24 373 700
8	 Новая Зеландия	15 618 288
9	 Великобритания	14 023 000
10	 Польша	12 096 005

## Вопрос 26-27.6.

Назовите пропущенную страну в списке стран по производству риса за 2009 год.

№	Страна	Производство в 2009 г. (тонн)
1	 КНР	196 681 170
2		133 700 000
3	 Индонезия	64 398 900
4	 Бангладеш	47 724 000
5	 Вьетнам	38 895 500
6	 Мьянма	32 682 000
7	 Таиланд	31 462 900
8	 Филиппины	16 266 400
9	 Бразилия	12 651 800
10	 Япония	10 592 500



**Вопрос 28.1.** Соотнесите холодное оружие и страну:  
А) Япония; Б) Малайзия; В) Филиппины; Г) Йемен.



1. Айкути



2. Джамбия



3. Паранг



4. Балисонг

**Вопрос 28.2.** Соотнесите холодное оружие и страну:  
А) Япония; Б) Индия; В) Китай; Г) Шотландия.



1. Кайкэн



2. Цзянь



3. Скин ду



4. Катар



**Вопрос 28.3.** Соотнесите холодное оружие и страну:  
А) Япония; Б) Египет; В) Хорватия; Г) Индия.



1. Кама



2. Тальвар



3. Сербосек



4. Хопеш

**Вопрос 28.4.** Соотнесите холодное оружие и страну:

А) Япония; Б) Филиппины; В) Турция; Г) Финляндия.



1. Сай



2. Ятаган



3. Пуукко



4. Баронг



**Вопрос 29-30.1.**

Определите страну Азии, в которой расположен данный объект всемирного наследия ЮНЕСКО:

А) Япония; Б) Шри-Ланка; В) Китай; Г) Азербайджан; Д) Камбоджа; Е) Израиль.





## Вопрос 29-30.2.

Определите страну Азии, в которой расположен данный объект всемирного наследия ЮНЕСКО:

А) Япония; Б) Шри-Ланка; В) Китай; Г) Азербайджан; Д) Камбоджа; Е) Израиль.





**Вопрос 29-30.3.**

Определите страну Азии, в которой расположен данный объект всемирного наследия ЮНЕСКО:

А) Япония; Б) Шри-Ланка; В) Китай; Г) Азербайджан; Д) Камбоджа; Е) Израиль.



**Вопрос 29-30.4.**

Определите страну Азии, в которой расположен данный объект всемирного наследия ЮНЕСКО:

А) Япония; Б) Шри-Ланка; В) Китай; Г) Азербайджан; Д) Камбоджа; Е) Израиль.





**Вопрос 29-30.5.**

Определите страну Азии, в которой расположен данный объект всемирного наследия ЮНЕСКО:

А) Япония; Б) Шри-Ланка; В) Китай; Г) Азербайджан; Д) Камбоджа; Е) Израиль.





**Вопрос 29-30.6.**

Определите страну Азии, в которой расположен данный объект всемирного наследия ЮНЕСКО:

А) Япония; Б) Шри-Ланка; В) Китай; Г) Азербайджан; Д) Камбоджа; Е) Израиль.





**Спасибо за внимание!**