

# Вычитание из числа 10



*Школа России*  
*Математика 1 класс*






Устный счёт

## Запиши только ответы:

1. Уменьшаемое **8**, вычитаемое **3**. Найди разность.
2. Запиши число, которое на **3** меньше, чем **10**
3. Найди разность чисел **9** и **3**.
4. Первое слагаемое **5**. Второе слагаемое **4**.  
Найди сумму чисел.
5. Уменьшаемое **10**. Вычитаемое **6**.  
Чему равна разность?
6. Найди разность **9** и **7**.
7. Найди сумму чисел **3** и **3**.

5 7 6 9 4 2 6

# Новый материал



Собери примеры с ответом 10

$7 + 3$

$6 + 3$

$4 + 3$

$1 + 8$

$9 + 1$

$3 + 9$

$4 + 6$

$8 + 2$

$5 + 3$



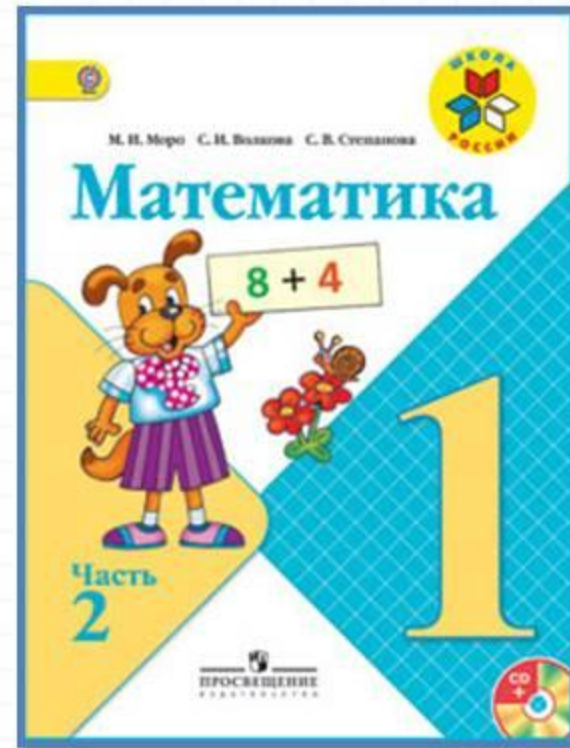
Чему будем сегодня учиться на уроке?



Вспомни состав числа 10.

10	1	2	3	4	5	6	7	8
	9	8	7	6	5	4	3	2

# Работа по учебнику



стр. 34-35

$10 - \square$

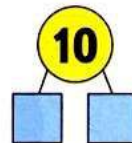


?

Будем учиться вычитать различные числа из числа 10.



$$\begin{array}{r} 10 - 8 \\ 10 = 8 + 2 \\ 10 - 8 = 2 \end{array}$$



$$\begin{array}{r} 10 - 7 \\ 10 = 7 + \square \end{array}$$

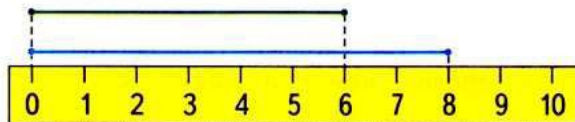
$$\begin{array}{r} 10 - 6 \\ 10 = 6 + \square \end{array}$$

$$\begin{array}{r} 10 - 5 \\ 10 = 5 + \square \end{array}$$

$$\begin{array}{llll} 1. & 9 - 6 & 10 - 9 & 10 - 7 & 3 + 6 - 7 \\ & 8 - 6 & 10 - 3 & 10 - 4 & 8 - 5 + 4 \end{array}$$

2. В нашем доме 5 этажей, а в соседнем — на 3 этажа больше. Узнай, сколько этажей в соседнем доме.

3. Рассмотрите рисунок и определите, на сколько сантиметров длина синего отрезка больше длины зелёного.



На сколько сантиметров длина зелёного отрезка меньше длины синего?

4. В деревне на одной улице деревянные и каменные дома, всего 10 домов. Каменных домов 3. Сколько деревянных домов на этой улице?

5. Из 7 счётных палочек составь 3 треугольника.

$10 - 5 + 4$

$2 + 8 - 6$

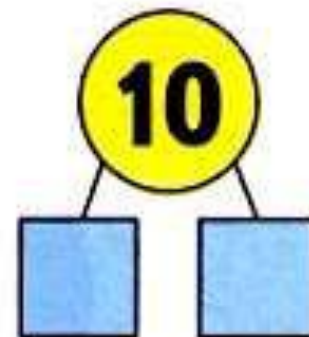
$3 + 7 - 8$



Будем учиться вычитать различные числа из числа 10.



$$\begin{array}{r} 10 - 8 \\ \hline 10 = 8 + 2 \\ 10 - 8 = 2 \end{array}$$



$$\begin{array}{r} 10 - 7 \\ \hline 10 = 7 + \square \end{array}$$

$$\begin{array}{r} 10 - 6 \\ \hline 10 = 6 + \square \end{array}$$

$$\begin{array}{r} 10 - 5 \\ \hline 10 = 5 + \square \end{array}$$

Чему будем сегодня учиться на уроке?

Вышли мышки

**Вышли мышки как-то раз**

*(«Ходьба», сидя за партой (держать осанку).)*

**Посмотреть, который час.**

*(Наклон головы назад, выпрямиться, руки на пояс)*

**Раз-два, три-четыре,**

*(Два хлопка справа, два хлопка слева)*


**Мыши дернули за гири.**

*(Руки вверх-вниз)*

**Вдруг раздался страшный звон,**

*(Четыре хлопка над головой)*

**Убежали мышки вон.**




1.  $9 - 6$        $10 - 9$        $10 - 7$        $3 + 6 - 7$   
 $8 - 6$        $10 - 3$        $10 - 4$        $8 - 5 + 4$

2. В нашем доме 5 этажей, а в соседнем — на 3 этажа больше.  
Узнай, сколько этажей в соседнем доме.

# Работа в тетради

стр. 20





$10 - \square$

1 Саше 10 лет, а Вадиму 6. На сколько ... ?

Ответ:

2	5	= 9	7	= 10	4	= 6
+	6	= 10	10	= 4	2	= 8

3

10

5 1 3 1 5

2 3 1 3 1

# Рефлексия

**Сегодня на уроке я:**

- научился...
- было интересно...
- было трудно...
- мои ощущения...
- этот урок дал мне для жизни...
- больше всего понравились задания...



