

I. Введение.
Урок № 1.
*Что изучает география
материков и океанов.*

УМК по курсу «География материков и океанов»- 7 класс.

Выполнила: Будылина И.П.



Что изучает география материков и океанов.



Вспомните:

- Что такое география?
- Для чего нужно знать этот предмет?
- Кто такой Эратосфен?
- Что вы изучали в 6 классе, как эта география называется?
- География материков и океанов- что эта за наука, как вы думаете, что мы будем в ней рассматривать?

Материки и острова.



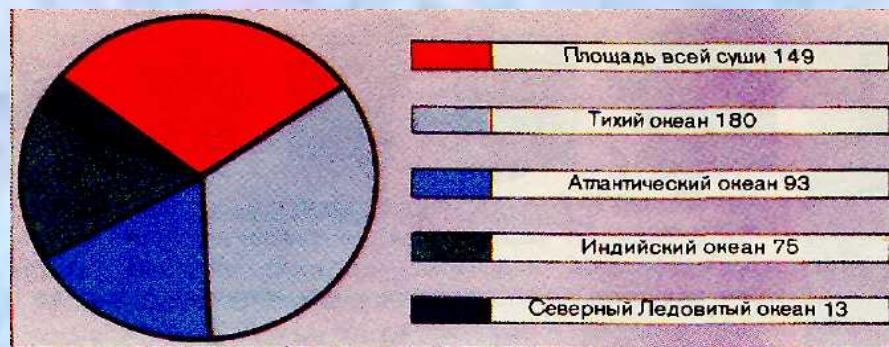
С помощью текста учебника заполните пропуски в предложениях.

- Поверхность всего земного шара составляет ... млн. км.
- Она разделена на и.....
- Большая часть поверхности Земли занята, которые соединены между собой и все вместе образуют единый ... океан.
- На долю суши- материков и островов – приходится около ... млн. км, или 29 % всей поверхности Земли.

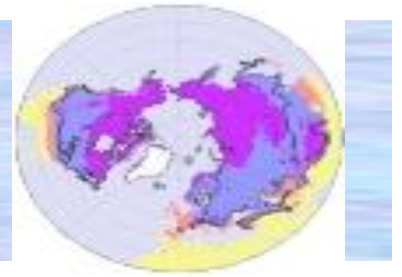
С помощью диаграммы установите соотношение площади суши и океанов Земли. Заполните пропуски.

- 1) Общая площадь суши значительно ... площади Тихого океана.
- 2) Общая площадь Атлантического и ... океанов больше площади... на 19, 3 млн. км

- Рис.1 Площадь материков и океанов (в млн. км)

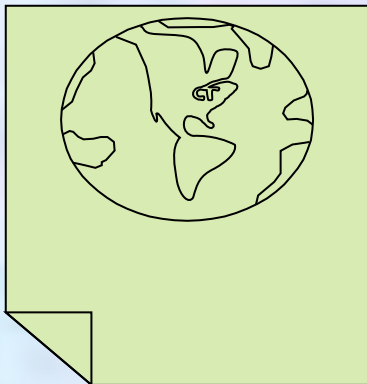


Работа с картой полушарий.



? Вспомните, на какие части делится земной шар:

- экватором _____ ;
- Гринвичским меридианом _____ .



**С помощью карты заполните таблицу №1
«Расположение материков по полушариям».**

Материки	Расположение по полушариям
Евразия	В Северном, Западном и Восточном.
Африка	В Северном, Западном, Южном, Восточном.
Северная Америка	В Северном и Западном.
Южная Америка	В Северном, Южном. Западном.
Австралия	В Южном и Восточном.
Антарктида	В Южном. Западном, Восточном.

Части света.


- Сколько частей света?
- Покажите их на карте.
- Определите, какие части света соответствуют материкам, какие – нет.

Запомните!

Части света, кроме территории материков, включают также относящиеся к ним острова.

В копилку знаний.

- Самый большой материк Земли – ..., его площадь 50, 6 млн. км².
- Самый маленький материк – ..., его площадь 7, 6 млн. км².
- Самый большой остров- Его площадь 2176 тыс. км².
- Крупнейший полуостров – ..., площадь 2 730 тыс. км².



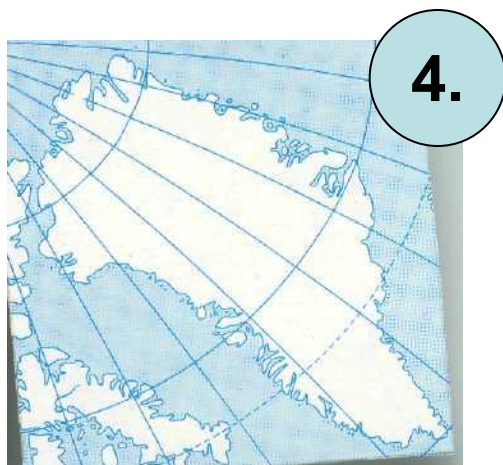
Закрепление.

- Найдите соответствие.

- 1) По карте определите какой остров пересекают параллель 8 с. ш. и меридиан 80 в. д.?
- 2) Часть света, состоящая из двух материков.
- 3) Океан, омывающий с востока самый большой материк.
- 4) Часть света, наименьшая по площади.
- 5) Океан, омывающий 4 материка.
- 6) Часть света, расположенная в Северном и Южном полушарии.
- 7) Самый большой остров на земном шаре.

А) Гренландия	Б) Америка	В) Австралия	Г) Тихий
Д) Индийский	Е) Шри-Ланка	Ж) Африка	З) Гаити

Перед вами контуры островов.
К каким частям света они
относятся?



Какой из этих островов пересекает координаты 53 с. ш. 0 д.?

1.



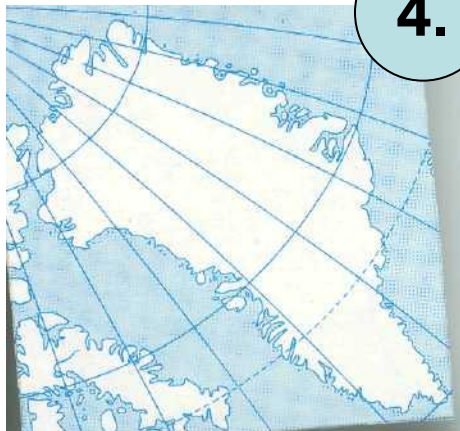
2.



3.



4.



5.



Домашнее задание.

1) Прочитать с. 3- 5 учебника.

2) Дополнительно подготовить выступления по следующим темам:

- География в античном мире.
- География в раннем средневековье (V- XIV вв).
- Эпоха Великих географических открытий (XV- XVII вв).
- Этапы первых научных экспедиций (XVII- XVIII вв)
- Время научных экспедиций XIX в.
- Современная эпоха развития знаний о Земле.