



5



7

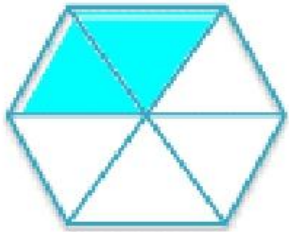
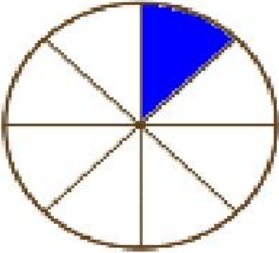
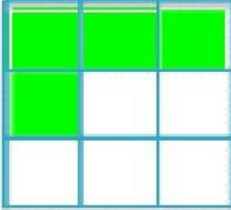
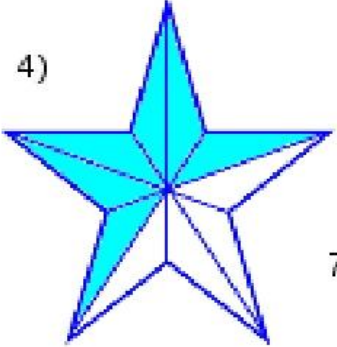


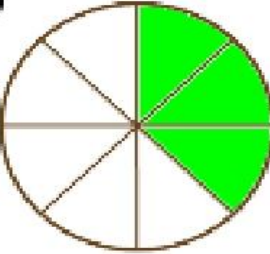
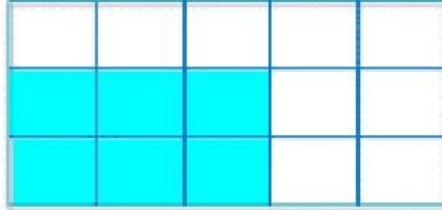


3



Повторение по теме «Дробь»

Запиши и, какая часть фигуры закрашена

- 1) 
- 2) 
- 3) 
- 4) 
- 5) 
- 6) 
- 7) 
- 8) 



**Запиши, какая часть
фигуры закрашена**

5



7



3



Проверка: какая часть фигуры закрашена

$\frac{2}{6}$	$\frac{1}{8}$	$\frac{4}{9}$	$\frac{6}{10}$	$\frac{6}{12}$	$\frac{3}{4}$	$\frac{3}{8}$	$\frac{6}{15}$
---------------	---------------	---------------	----------------	----------------	---------------	---------------	----------------

*Выполни сравнение
дробей.*



5



7



3



Практическая работа

- Начерти три отрезка 6 см, закрась:
- В первом $1/2$
- Во втором $4/6$
- В третьем $2/3$



5



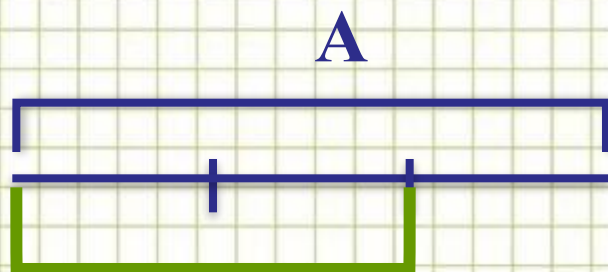
7



3



Найди часть числа



$$\underline{A : n * m}$$

$m/n - ?$

Найди **часть числа**, если

$2/9$ от 36

$7/12$ от 600



5



7



3





5



7



3



Найди число по части

?



$$b : m * n$$

$$m/n - b$$


Найди **целое число**, если

39/100 равны 156

7/9 равны 560

Решаем задачи с дробями.

- В детский сад привезли 180 кг овощей. $\frac{7}{36}$ от всех овощей составляет картофель.
- Сколько кг других овощей привезли?



5



7



3



Решаем задачи с дробями.


1) $180 : 36 * 7 = 35$ (кг.) – от всех овощей составляет картофель.

2) $180 - 35 = 145$ (кг.) – составляют другие овощи.

Ответ: 145 кг.



5



7



3



Самостоятельная работа.



5



7



3

