

II этап Республиканской олимпиады по учебному предмету «География»

Мультимедийный тур

X класс

Минск

2017

Уважаемый участник олимпиады!

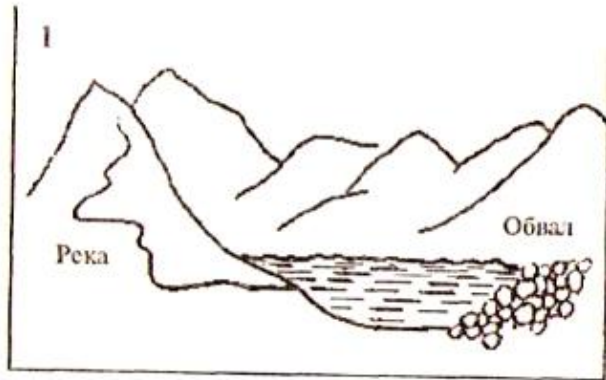
На выполнение заданий мультимедийного теста олимпиадной работы отводится 1 час (60 минут).

Ответы на задания мультимедийного теста необходимо вписать в предлагаемый бланк ответов.

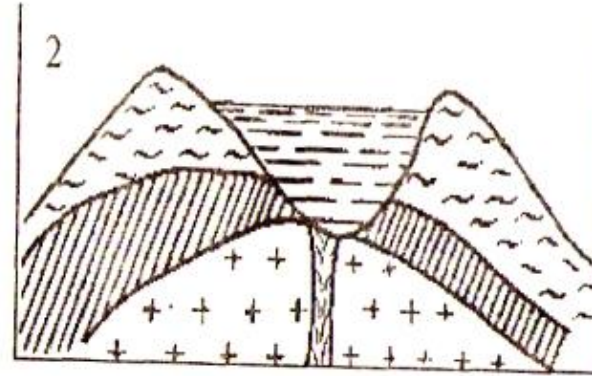
По результатам мультимедийного тестирования Вы можете получить максимум 30 баллов.

ЖЕЛАЕМ ВАМ УДАЧИ!

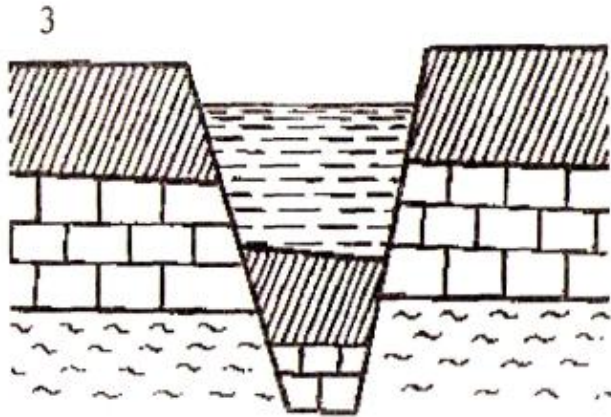
Вопрос 1. Назовите пропущенный тип озерной котловины. (1 балл)



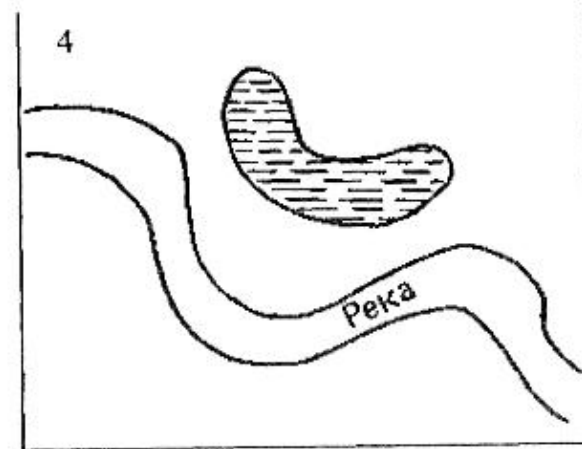
?



Вулканическое



Тектоническое



Старица

Вопрос 2. Самая большая по площади бассейна и многоводная река Средней Азии.

(1балл)

- A) Карадарья
- B) Нарын
- C) Зарафшан
- D) Амударья



Вопрос 3: Выберите страну, в которой произошла «Тюльпанная революция»

1) Грузия, 2) Кыргызстан, 3) Чехословакия, 4) Украина

Ответ запиши в виде сочетания цифры и буквы (1 балл)

А)



Б)



В)



Г)



Вопрос 4: Выберите страну, в которой произошла «Бархатная революция»

1) Грузия, 2) Кыргызстан, 3) Чехословакия, 4) Украина
Ответ запиши в виде сочетания цифры и буквы (1 балл)

А)



Б)



В)



Г)



Вопрос 5. Выберите столицы стран, расположенных на этом острове

1) Джакарта, 2) Куала-Лумпур, 3) Бандар-Сери-Бегаван, 4) Сингапур

(1 балл)



Вопрос 6. Найдите соответствие государства и флага

1) Франция, 2) Россия, 3) Чехия, 4) Люксембург

Ответ запиши в виде сочетания цифры и буквы (1 балл)

А)



Б)



В)



Г)



Вопрос 7. Назовите древнейшее из ныне существующих государств Европы

1) Ватикан, 2) Россия, 3) Сан-Марино, 4) Великобритания

(1 балл)

А)



Б)



В)



Г)



Вопрос 8. В каких полушариях расположен о . Врангеля?

**А) северном и южном, Б) западном и восточном, В) во всех полушариях,
Г) западном, восточном, северном** *(1 балл)*



Вопрос 9. Какую страну А. Солженицын назвал «пистолетом, наставленным прямо в американский живот»? *(1 балл)*



Вопрос 10. Монарх какой страны считается самым богатым в мире? (1 балл)



Вопрос 11. Определите страну по слайдам.

(1 балл)



Вопрос 12. Назовите крупнейший в мире город, расположенный за Северным полярным кругом.

(1 балл)



Вопрос 13. На карте указан масштаб 1:10000. Сколько метров в 1 см карты?

- 1) 100 м
 - 2) 1000 м
 - 3) 10000 м
 - 4) 100000 м
- (1 балл)

МАСШТАБ

именованный
в 1 см – 30 км

линейный

численный
1 : 3000

М 1:10000

470

a b c d e f g h l

100 0 100 200 300 400 500 600 700 м

Вопрос 14. Кто из этих минералов самый твердый?

(1 балл)

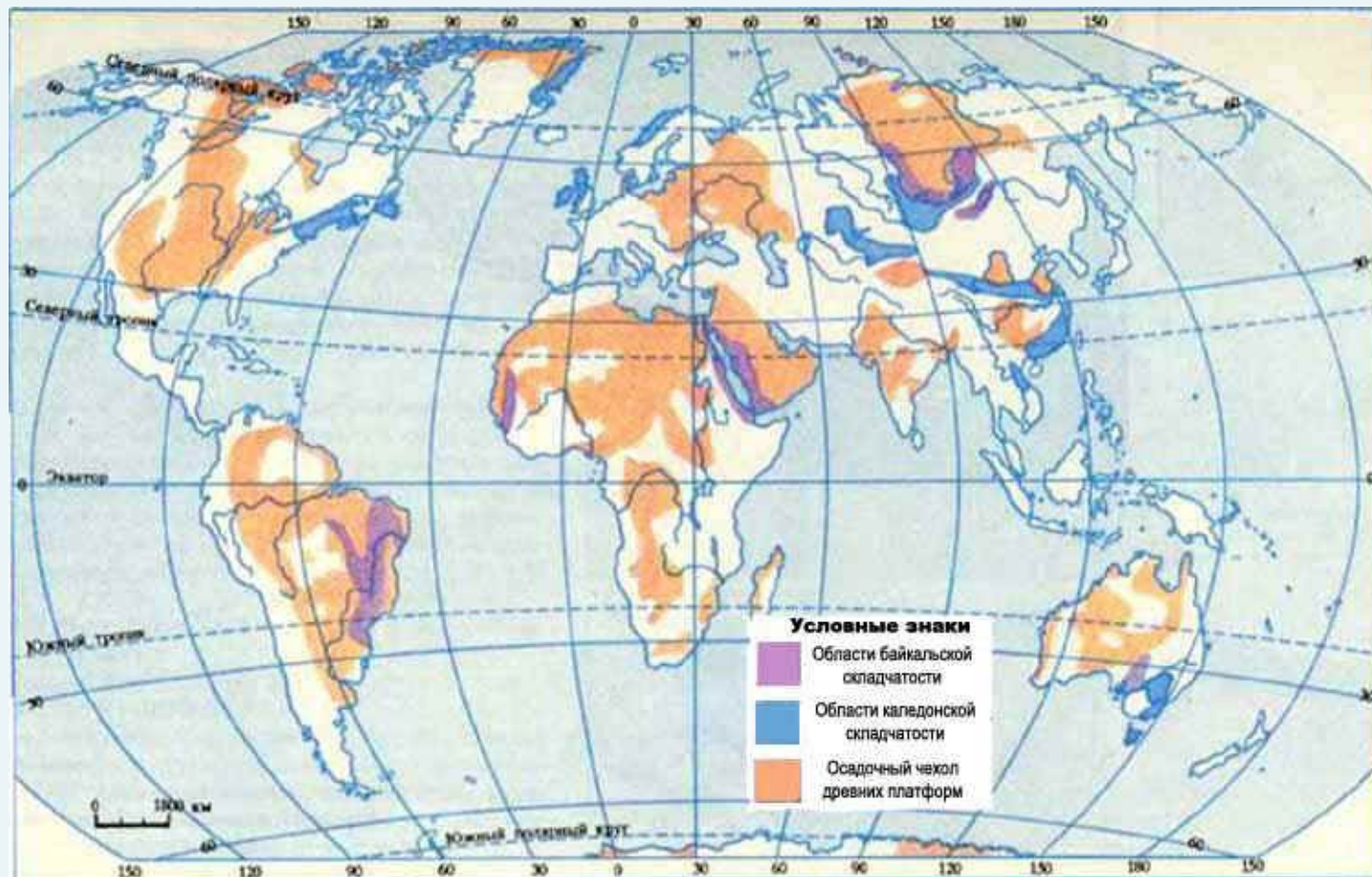
- 1) гипс
- 2) кальцит
- 3) тальк
- 4) сера



Вопрос 15. Байкальская складчатость - это горообразование...

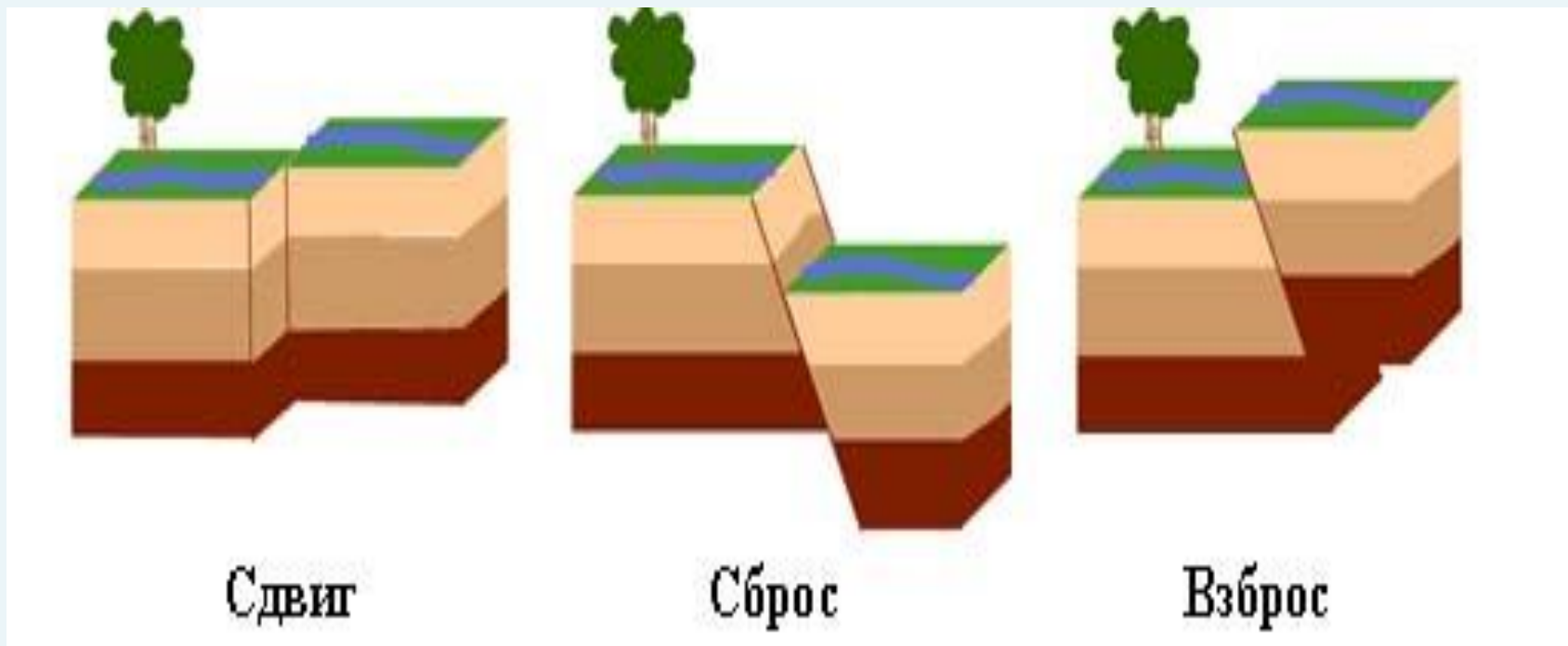
- 1) в конце докембрия
- 2) с конце кембрия до конца силура
- 3) в среднем карбоне - перми
- 4) этот процесс идет сейчас

(1 балл)



Вопрос 16. Как называется такое разрывное нарушение, когда поверхность разрыва наклонена в сторону опущенного блока пород? (1 балл)

- 1) взброс
- 2) раздви́г
- 3) сдвиг
- 4) сброс



Вопрос 17. Как называется процесс разрушения берега атмосферными осадками?

(1 балл)

- 1) эрозия
- 2) корразия
- 3) абразия
- 4) дефляция



Вопрос 18. Какими породами сложены

траппы?

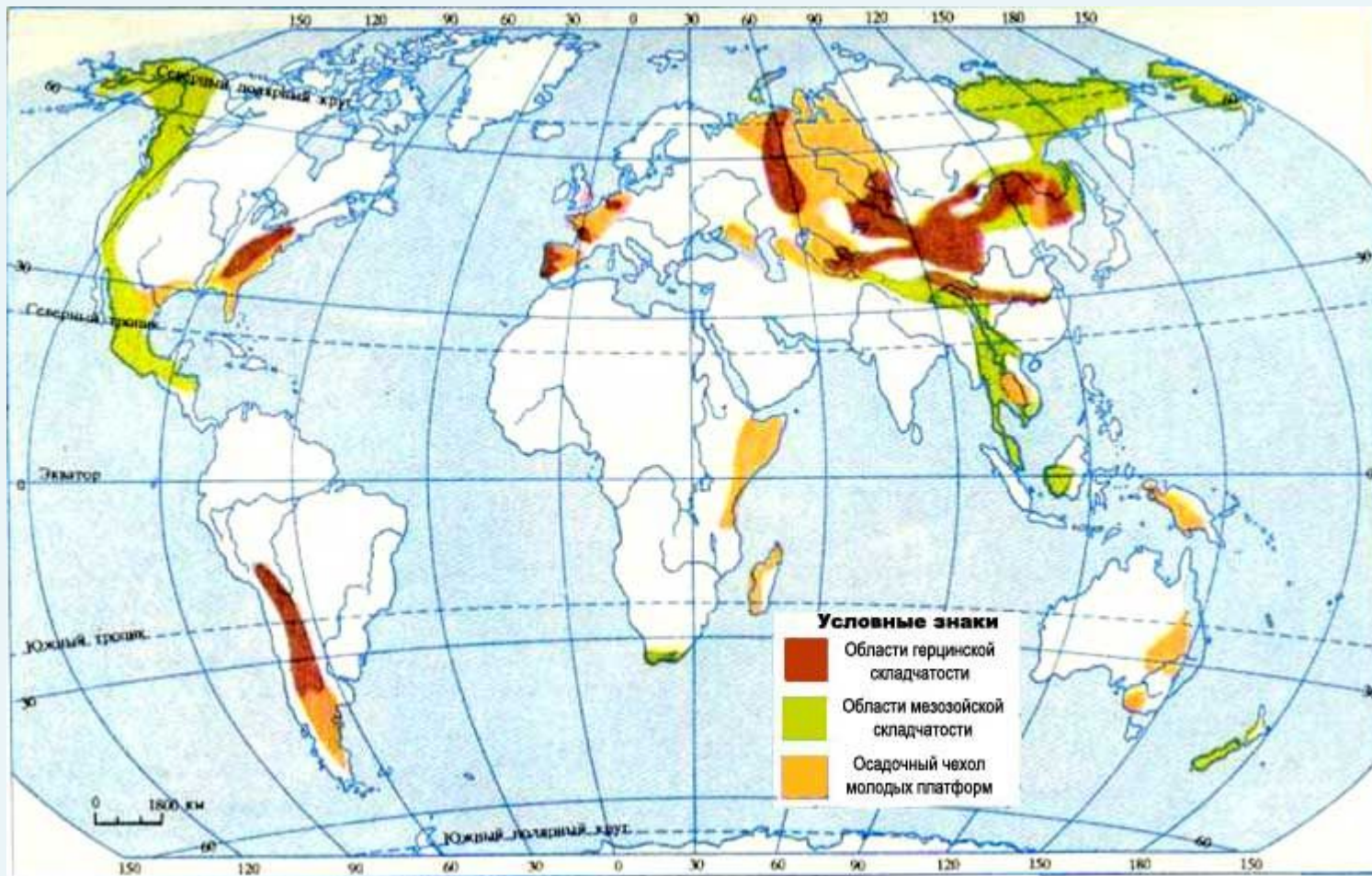
- 1) базальты
 - 2) граниты
 - 3) туфы
 - 4) эклогиты
- (1 балл)



Вопрос 19. Герцинская складчатость - это горообразование процесс...

- 1) в конце докембрия
- 2) с конце кембрия до конца силура
- 3) в среднем карбоне - перми
- 4) этот процесс идет сейчас

(1 балл)



Вопрос 20. Размыв берега морем - это...

- 1) эрозия
- 2) корразия
- 3) абразия
- 4) дефляция

(1 балл)

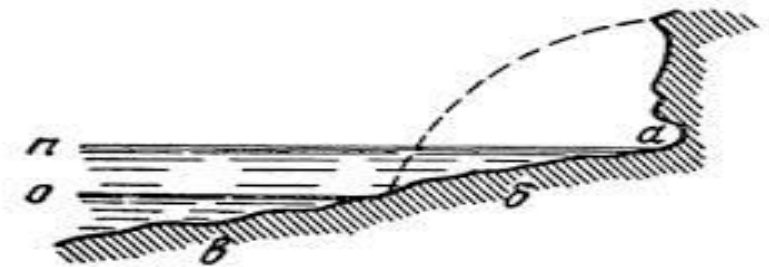


Рис. 29. Размыв крутого берега.
а — прибойное горло; б — волноприбойная терраса на уровне прилива п; в — то же на уровне отлива о.

**Вопрос 21. Кимберлитовые трубки
считаются разновидностью интрузии...**

- 1) лополита
 - 2) лакколита
 - 3) некка
 - 4) гарполита
- (1 балл)*



Вопрос 22. Какой период находится между пермским и юрским?

- 1) девон
- 2) неоген
- 3) мел
- 4) триас


(1 балл)



Вопрос 23. Белемнитов было много в

- 1) юре и мелу
- 2) силуре и девоне
- 3) четвертичном периоде
- 4) в докембрии

(1 балл)



Вопрос 24. Определите облака, находящиеся в самой верхней части тропосферы.

(1 балл)


- А) перистые
- В) кучевые
- С) перистые слоистые
- Д) слоистые



Вопрос 25. Какой ученый жил и творил в области накопления географического в конце VIII - начале IX века?

(1 балл)

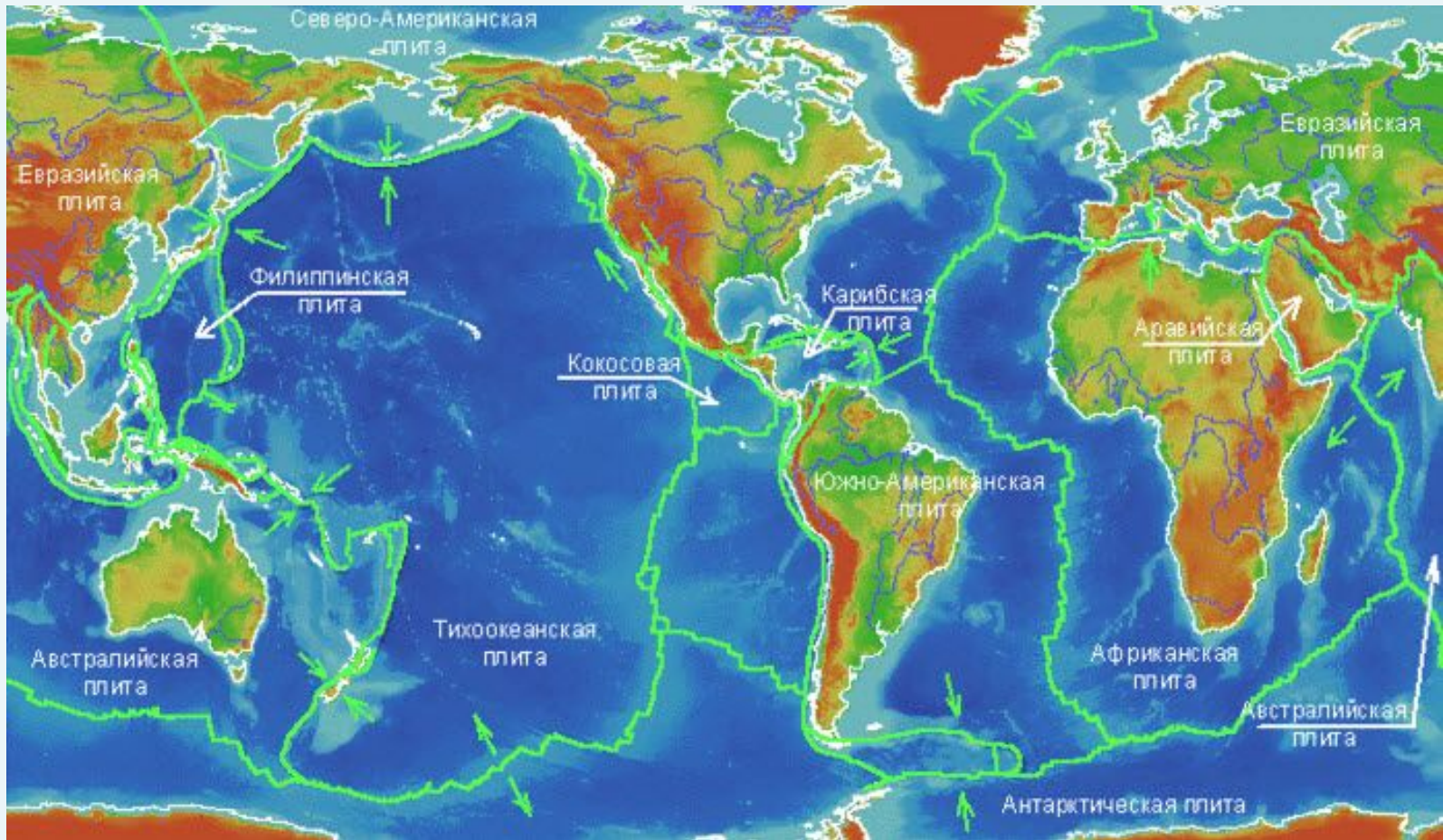
- A) Эратосфен
- B) Птолемей
- C) Абу Райхон Беруни
- D) Мухаммад ал-Хорезми



Вопрос 26. Что располагается в местах столкновения литосферных плит?

(1 балл)

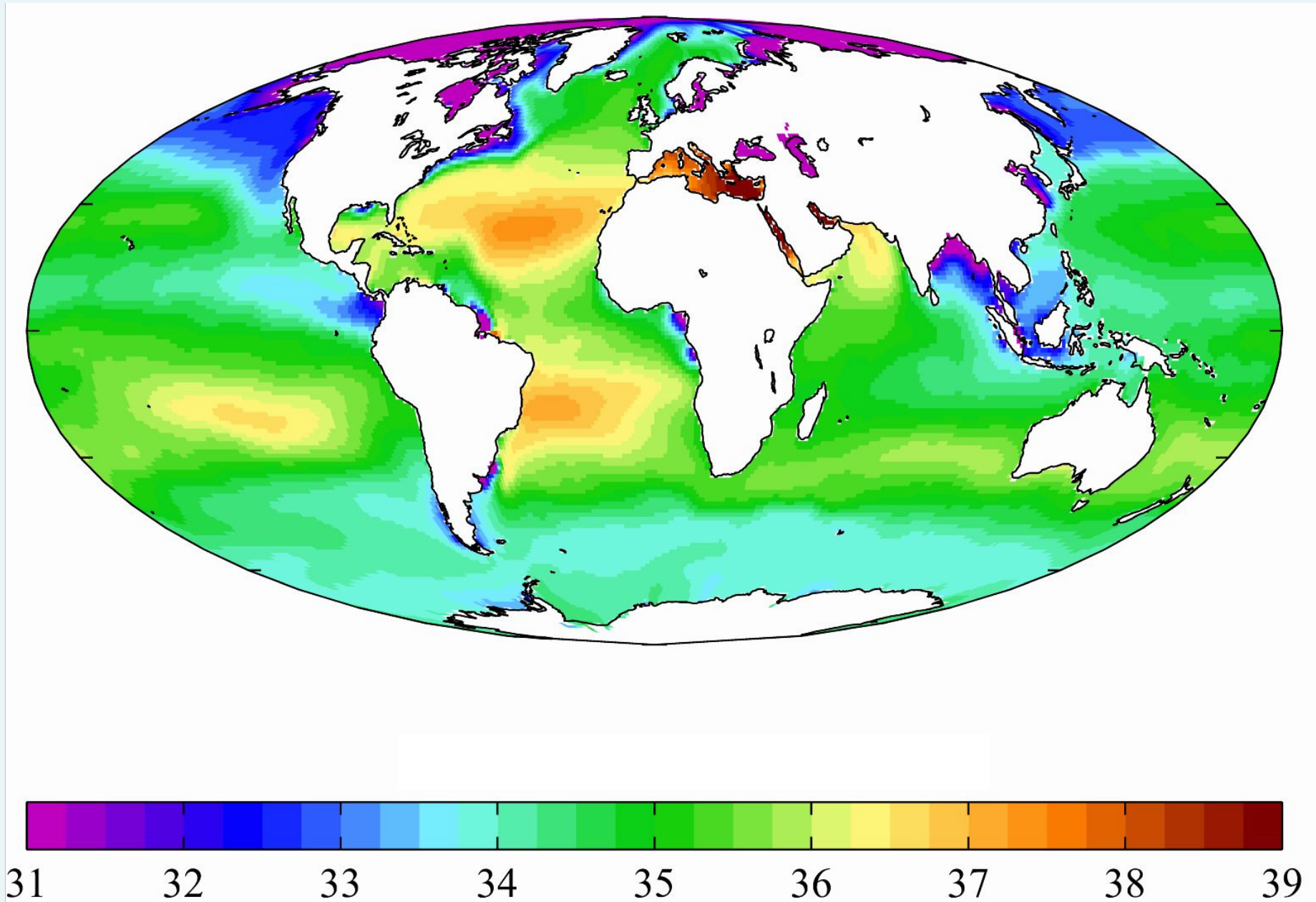
- A) молодые горы и большие равнины
- B) молодые горы и действующие вулканы
- C) действующие вулканы
- D) молодые горы



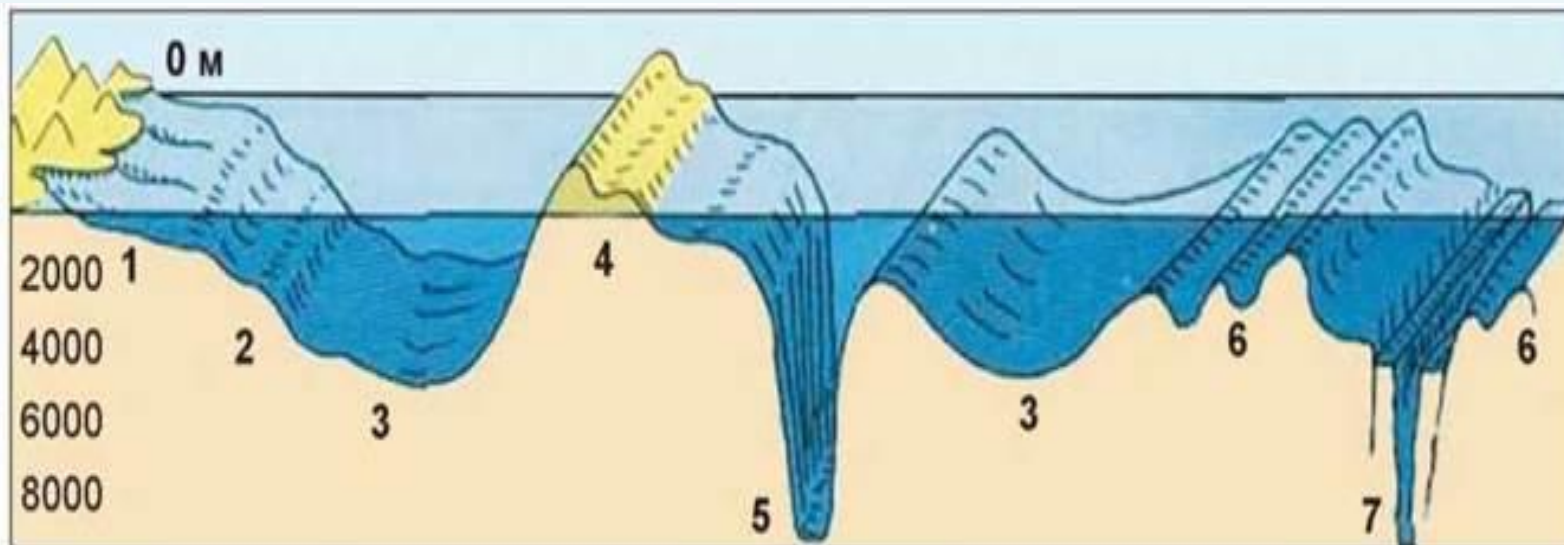
Вопрос 27. Назовите город и страну, в которой он расположен. (1 балл).



Вопрос 28. Какой показатель представлен на слайде? Назовите единицу измерения данного показателя. (1 балл).



Вопрос 29. Какой элемент строения дна Мирового океана обозначен цифрой 4?
(1 балл).



30. Укажите центры автомобилестроения ФРГ.

- А) Нюрнберг, Киль
 - В) Гамбург, Кёльн
 - С) Штутгарт, Вольсбург
 - Д) Бремен, Эрфурт
- (1 балл)*



Il'ya Varlamov | zyalilivejournal.com | 28-300.ru Photo Agency