



Наборы монет по 5 рублей



Вагон
№2



Вагон
№3



Вагон
№5

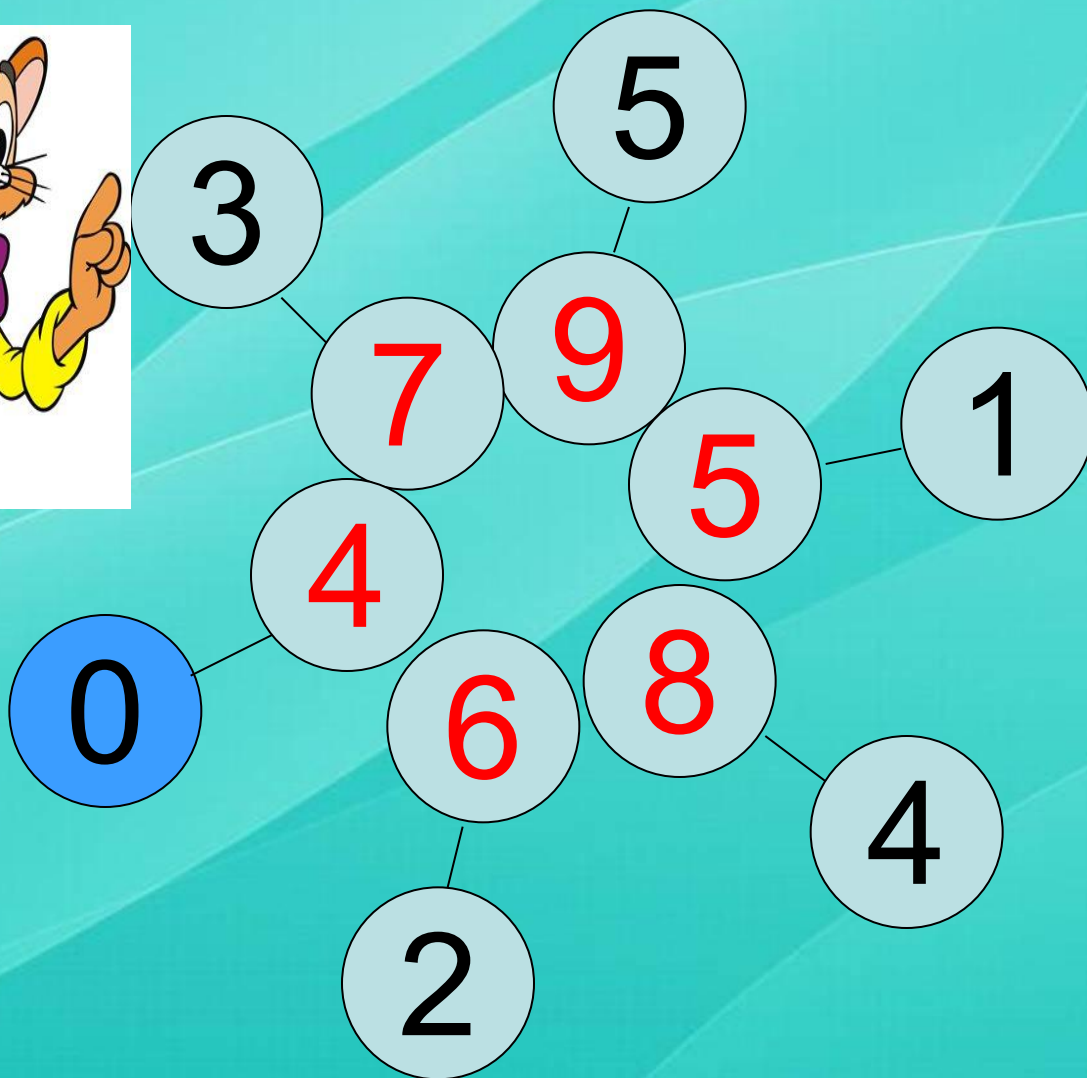
Вставь пропущенное число

2, , 6, , 10

, 3, 5, , 9




Увеличь каждое из чисел на 4



Уменьши каждое из чисел на

2



Реши задачи:

Пять ежей – с лукошками,
Три ежа – с гармошками.
Сколько среди сосен
Ежей гуляет?

$$5 + 3 = 8$$



По дорожке мышка шла,
Четыре яблока несла,
Два – зайцу отдала,
Остальные в кладовку убрала.

$$4 - 2 = 2$$



Идут гулять козлята,
Четыре дружных брата.
А рядом **три** сестрицы –
Три козочки идут.
И братья, и сестрицы
Отправились гулять.
Попробуй-ка, сумей-ка
Их всех пересчитать.

$$4 + 3 = 7$$



физминутка

Вот поезд идёт наш,
Колёса стучат,
А в поезде нашем
Ребята сидят.



Чу-чу-чу, чу-чу-чу!
Бежит паровоз,
Ребят он повёз.

Исправь ошибки:

$9 - 3 = 6$

$8 - 4 = 5$

$6 - 2 = 4$

$7 + 2 = 10$

$9 + 1 = 10$

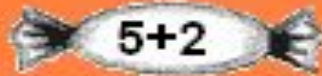
$7 + 3 = 9$

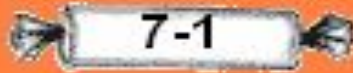
4

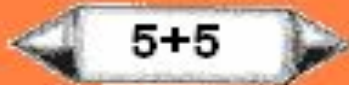
9

1
0

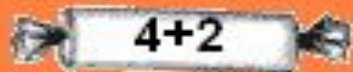


 $5+2$

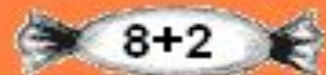
 $7-1$

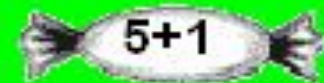
 $5+5$

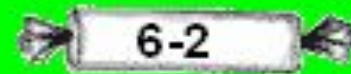
 $6-3$

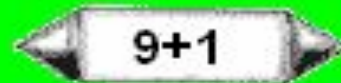
 $4+2$

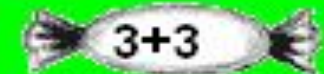
 $10-1$


 $8+2$

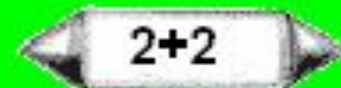
 $5+1$


 $6-2$

 $9+1$

 $3+3$

 $4-1$

 $2+2$

 $8-1$

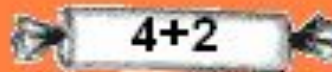
Проверь себя:

 $5+2=7$

 $7-1=6$

 $5+5=10$

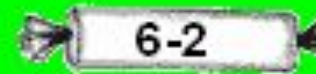
 $6-3=3$

 $4+2=6$

 $10-1=9$


 $8+2=10$

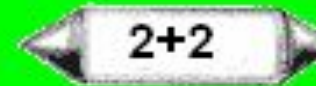
 $5+1=6$

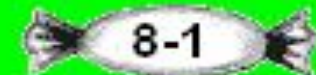
 $6-2=4$

 $9+1=10$

 $3+3=6$

 $4-1=3$

 $2+2=4$

 $8-1=7$



СПАСИБО ЗА УРОК!