



Тема. Таблица сложения.

11	12	13	14	15	16	17	18	19	20
----	----	----	----	----	----	----	----	----	----

21	22	23	24	25	26	27	28	29	30
----	----	----	----	----	----	----	----	----	----

31	32	33	34	35	36	37	38	39	40
----	----	----	----	----	----	----	----	----	----

41	42	43	44	45	46	47	48	49	50
----	----	----	----	----	----	----	----	----	----

51	52	53	54	55	56	57	58	59	60
----	----	----	----	----	----	----	----	----	----

61	62	63	64	65	66	67	68	69	70
----	----	----	----	----	----	----	----	----	----

71	72	73	74	75	76	77	78	79	80
----	----	----	----	----	----	----	----	----	----

81	82	83	84	85	86	87	88	89	90
----	----	----	----	----	----	----	----	----	----

91	92	93	94	95	96	97	98	99	100
----	----	----	----	----	----	----	----	----	-----

Найдите значение выражений:

$$6 + 6 =$$

$$9 + 7 =$$

$$6 + 8 =$$

$$9 + 9 =$$



Игра «День - ночь»

$$75 - 4 + 13 - 60 + 5 - 6 + 2 - 10 - 6 = 9$$



Решите круговые примеры

$5 + 6 =$



$11 + 34 =$



$45 - 30 =$

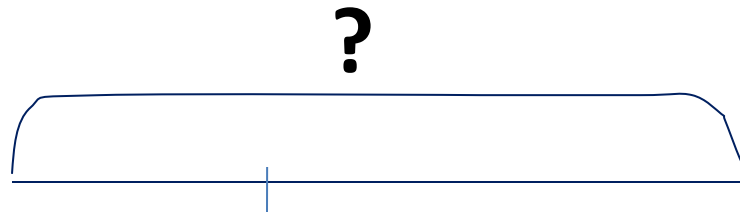


$15 - 8 =$

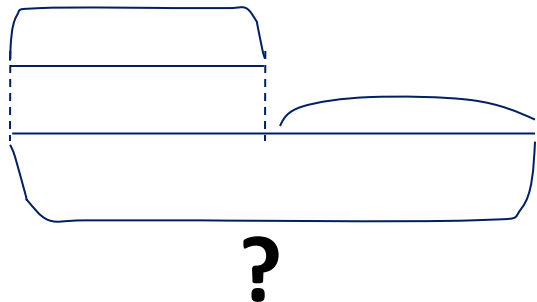
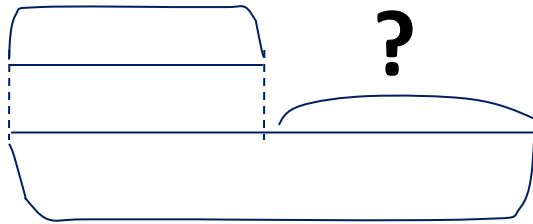
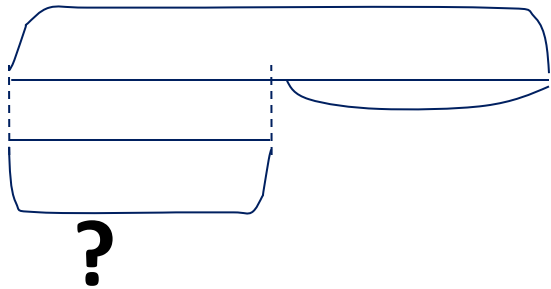


Реши задачу:

В одной банке 7 л молока, а во второй – 6 л. Сколько литров молока в двух банках?



Подберите схему к задаче



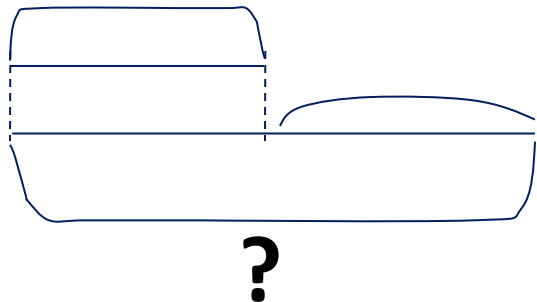
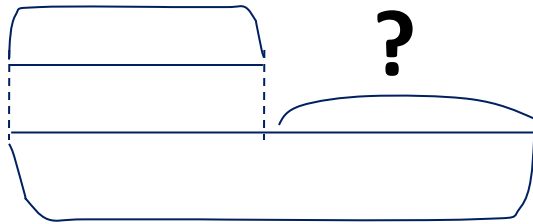
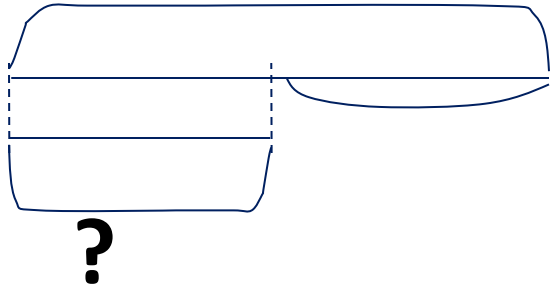
За день в буфете
продали 8 кг яблок, это
на 2 кг больше, чем
осталось в буфете.
Сколько килограммов
яблок осталось в
буфете?



$$8 - 2 = 6 \text{ (кг)}$$

Подберите схему к задаче

Маша нарисовала отрезок длиной 5 см, а Миша – 6 см. На сколько сантиметров короче отрезок Миши, чем отрезок Миши?



$$6 - 5 = \text{на } 1 \text{ (см)}$$