

Тренажёр

*Табличное умножение и деление
Сложение и вычитание*

*Поиграем,
посчитаем*

3 класс



1 уровень

Выбери

2 уровень

3 уровень



**Молодец!
Ты справился
со всеми заданиями!**

$$63 : 9 \cdot 8$$

56

64

48



$$8 \cdot 3 : 4$$

8

6

7



$$56 : 8 \cdot 4$$

28

32

24



$$5 \cdot 8 - 15$$

15

35

25




$$4 + 4 \cdot 3$$

20

16

24



$$21 : 3 \cdot 6$$

48

36

42



$$10 - 2 \cdot 3$$

4

3

24



$$72 : 9 + 8$$

17

16

15



$$49 : 7 \cdot 5$$

35

30

40



$$14 - 4 \cdot 2$$

7

6

20




$$6 + 2 \cdot 5 + 4$$

20

17

44




$$4 \cdot 3 - 2 \cdot 0$$


0

10

12




$$3 \cdot 4 : 6 - 1$$



2

1

3





$$4 - 2 + 2 \cdot 8$$

0

32

18





$$72 : 8 + 2 \cdot 2$$

13

22

12





$$2 + 9 \cdot 2 - 10$$

26

11

10




$$30 - 4 \cdot 5 - 5$$

5

15

30





$$64 : 8 + 6 : 6$$

8

9

34





$$4 \cdot 8 + 7 - 2$$

36

38

37




$$2 + 56 : 7 - 6$$

4

58

2



Сумму чисел 4 и 8 раздели на 2



6

30

34



К произведению 5 и 3 прибавь 10



5

25

18



Уменьши 42 в 7 раз и прибавь 5



40



54



11



К 6 прибавь произведение 2 и 5



13

16

15




Частное чисел 30 и 5 уменьши на
4



2

29

31



Уменьши 12 на 6 и прибавь 8



10

14

15



Сумму чисел 4 и 3 умножь на 6



48

6

42



Из числа 32 вычти частное 6 и 3



30

28

29



Увеличь 3 в 6 раз и прибавь 2



21

20

11



Частное 81 и 9 уменьши на 4



13

20

5



Слайды оформлены с помощью программы
Фотошоп и картинок:

- <http://i021.radikal.ru/0912/13/06da31774a46t.jpg>
слонёнок
- <http://babydreams.by.ru/B2/02/data1-1.files/009.jpg>
слонёнок и мышонок
- <http://babydreams.by.ru/B2/02/data1-1.files/008a.jpg>
мышонок
- http://forum.materinstvo.ru/uploads/1227979381/post-55307-1228080149_thumb.png
слонёнок



