




Математика

28 апреля

Сегодня работаем в рабочей тетради.



1 класс
второе
полугодие




УМК «Начальная школа XXI века»

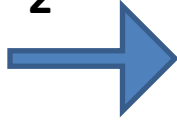
Уменьшение числа на несколько единиц



1 класс
второе
полугодие



...-
2



...-
3



...+
6



...-
4



...-
5



...+
7



...-
6



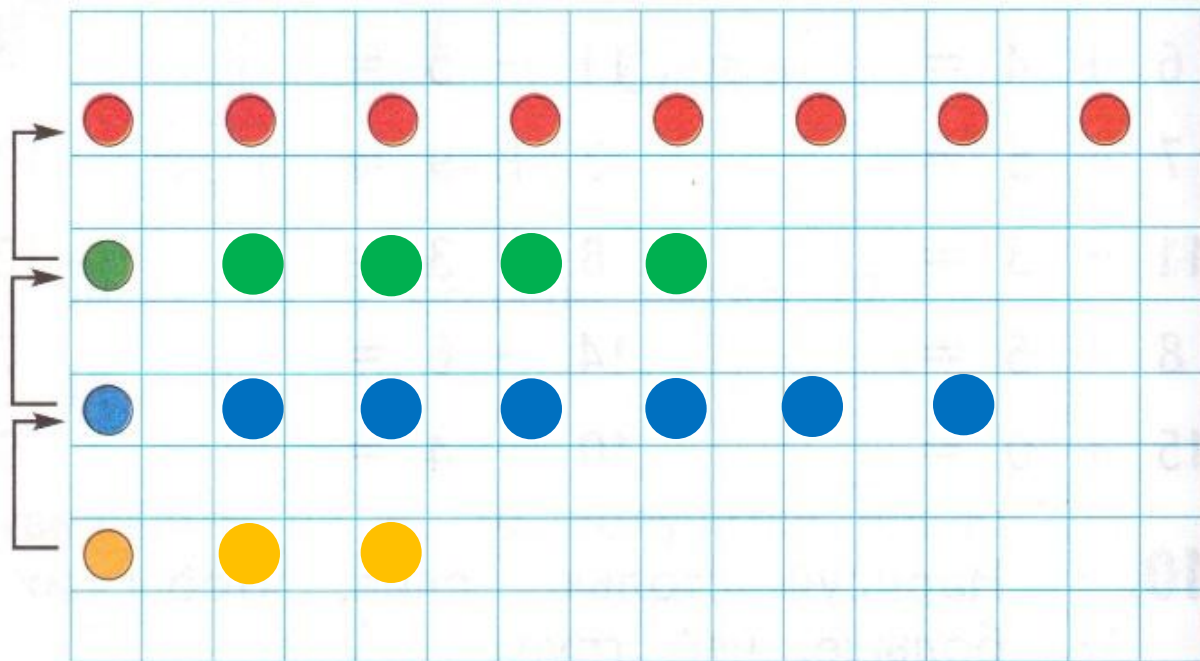
...+
7



Работа в тетради стр. 70

1.

Нарисуй зелёные, синие и жёлтые фишки.



На 3 меньше

На 2 больше

На 4 меньше

Работа в тетради стр. 70

2.

Для большого скворечника Пете понадобилось 15 гвоздей, а для маленького — на 6 гвоздей меньше. Придумай вопрос и реши задачу.



Решение:

$$15 - 6 = 9 \text{ (гв.)}$$

Ответ: 9 гвоздей.

Работа в тетради стр. 70

3. Уменьши на 5 каждое число и запиши результаты.

12	10	5	13	9	11	14
7	5	0	8	4	6	9

4. Если 15 уменьшить на 6, получится число ...

6 7 8 9

Работа в тетради стр. 71

ВСПОМИНАЕМ ПРОЙДЕННОЕ

5.

Запиши ответы.

$6 + 6 = 12$

$13 - 6 = 7$

$14 - 5 = 9$

$5 + 8 = 13$

$7 + 4 = 11$

$12 - 3 = 9$

$9 + 2 = 11$

$4 + 9 = 11$

6.



Выполни умножение.

$3 \cdot 4 = 12$

$2 \cdot 8 = 16$

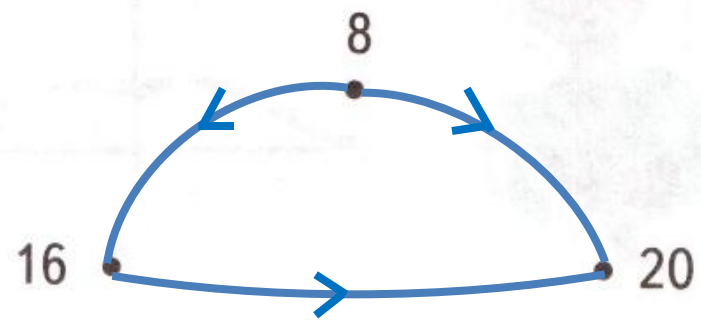
$6 \cdot 2 = 12$

$4 \cdot 5 = 20$

7.



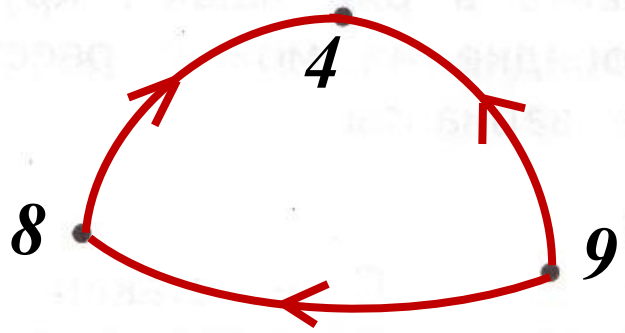
Сравни числа попарно и проведи синие стрелки.



8.



Напиши рядом с точками числа 8, 4, 9. Сравни числа попарно и проведи красные стрелки.





9.

Под каждым числом запиши число, которое на 6 больше.


0	3	5	7	9	10
6	9	11	13	15	16

Работа в тетради стр. 72

10.  Красная стрелка заменяет слово «толще». Проведи красные стрелки.



11. Соедини стрелками предметы с их названиями.



Работа в тетради стр. 72

12.

Надо поставить в ряд чашку, кружку и стакан.
В каком порядке их можно расставить?
Запиши все варианты.



С — стакан
К — кружка
Ч — чашка

СКЧ

ЧКС

КЧС

КСЧ

ЧСК

СЧК

Рефлексия урока



1

У меня всё
получилось!



2

Не всё получилось,
но я старался.



Не старался, **3**
Много не получилось