

Решение задач в два действия 1 класс



Части задачи:

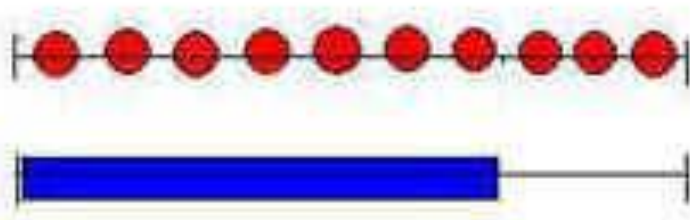
- 1. Условие**
- 2. Вопрос**
- 3. Решение**
- 4. Ответ**

**1. На горке играли 4
девочки и 5 мальчиков. В
обед 6 детей ушли домой.
Сколько всего детей играло
в песочнице до обеда?**

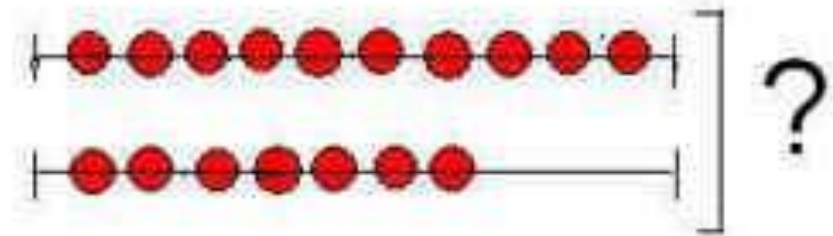
1) На первой проволоке 10 шариков, а на второй на 3 шара меньше. Сколько шариков на двух проволоках?

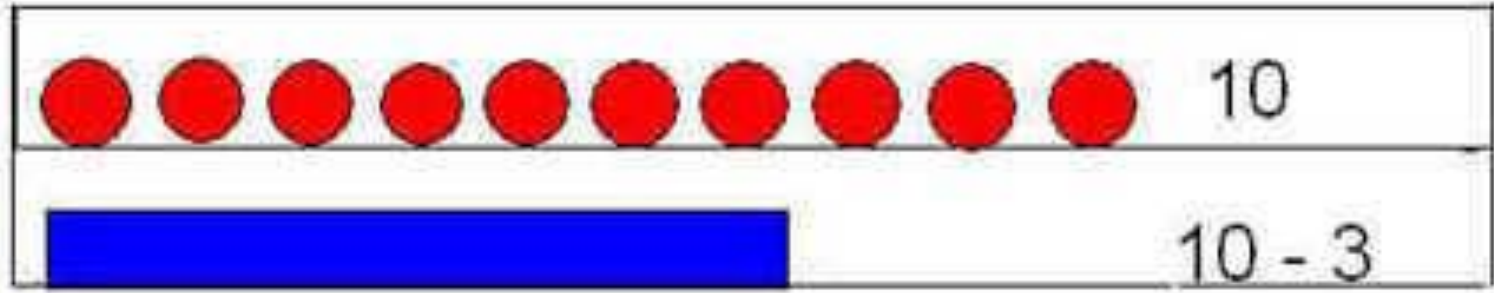
Составим план решения.

1. Нам нужно узнать сколько шариков на 2 проволоке.
2. Теперь найдем вместе.



? , на 3 меньше





?

РАБОТА ПО КНИГЕ.

ОТКРОЙТЕ КНИГУ СТР.63. РАССУЖДАЯ ТАК ЖЕ РЕШИМ ЗАДАЧУ
№2

- СКОЛЬКО У НАС БЫЛО КОРОБОК ?
- СКОЛЬКО В ПЕРВОЙ ?
- А ЧТО СКАЗАНО О ВТОРОЙ ?
- КАКОЙ ГЛАВНЫЙ ВОПРОС ЗАДАЧИ ?

СОСТАВИМ КРАТКУЮ ЗАПИСЬ , РЕШИМ ЗАДАЧУ.

РЕШИ ПРИМЕРЫ № 3 , №4.