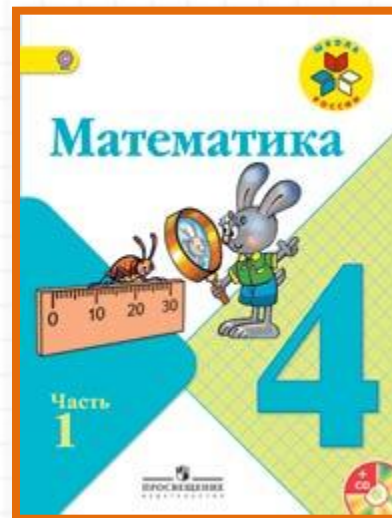


Школа России 4 класс


стр. 75



Устный счёт к уроку № 120

Закрепление изученного

Устный счёт



Продолжите последовательность.

345 800, 345 799, 345 798, ...

500 400, 499 401, 498 402, ...



300 690, 300 695, 300 700, ...

Ракета за **4 с** пролетела **28 км**. Затем её скорость увеличилась на **3 км/с**.
Найдите скорость ракеты в конце пятой секунды.



10 км/с

В **9** клетках **20** серых и **25** белых кроликов. Сколько всего кроликов в клетках




405

Индюшат, их **240**,
Водит Катя на пригорок.
А на речке уток **200**.
Ну и чайк **205**
Как закрякают все вместе!
Хороши все птицы эти!
Сколько их? Считайте, дети!



645 ПТИЦ

Галера первую часть пути шла **4 ч** со скоростью **10 км/ч**, а вторую часть пути она шла **2 ч** со скоростью **12 км/ч**. Какое расстояние проплыла галера?



64 км

Конец

Сайт Елены Берюховой «Школа АБВ»
<http://shkola-abv.ru>

