


# УСТНО

- $10^2$ ,
- $10^2-10$ ,
- $2^2-4$ ,
- $5^2-5$

Найдите числа, которые являются квадратами чисел, поставьте им в соответствие букву

9	12	34	25	6 7	100	49	80	54	36	10	48	64	77	90	16	45
п	м	к	л	н	о	щ	ю	в	а	ы	р	д	и	ж	ь	е

Посмотрите внимательно на  
рисунок? Что вы видите?



# АРЕАЛ

..... обитания зверя  
это слово происходит от  
латинского слова « .....», но  
употребляется не в геометрии, а  
чаще всего в биологии




# АГОРА

Торговая .....и место народных собраний в древнегреческих городах



# КРАСНАЯ

главная ..... Москвы,  
сложившаяся в XV в. после  
грандиозного пожара



# ПАЛЕТКА

пластинка для вычисления..... на  
картах

пластинка для измерения .....







# Тема: Площадь прямоугольника



Если длину прямоугольника обозначить  
буквой **a**,  
ширину прямоугольника буквой **b** ,  
площадь буквой **S**, то можно записать  
**формулу площади прямоугольника**

$$S=ab$$

# План



- Площадь прямоугольника надо узнать?  
\_\_\_\_\_на\_\_\_\_\_

поспеши\_\_\_\_\_

# Домашнее задание

- п.18 Выполнить необходимые измерения и вычислить площадь своей комнаты. Оформить задачей. (Каким инструментом будем измерять?) №737  
Д/ задание (дополнительное) Оформите участок д. Федора красочно в соответствии с полученными данными

- *сегодня я узнал...*
- *было интересно...*
- *было трудно...*
- *я выполнял задания...*
- *я понял, что...*
- *теперь я могу...*
- *я почувствовал, что...*
- *я приобрел...*
- *я научился...*
- *у меня получилось ...*
- *я смог...*
- *я попробую...*
- *меня удивило...*
- *урок дал мне для жизни...*
- *мне захотелось...*