




«ЗАГАДОЧНЫЕ ЧИСЛА».



ЦЕЛЬ ИГРЫ — активизация познавательной деятельности учащихся на уроках математики.

ЗАДАЧИ

- 
- закреплять имеющиеся математические знания в выполнении арифметических действий, решении простых задач;
 - развивать внимание, память, речь, логическое мышление;
 - воспитывать интерес к предмету, чувства коллективизма.



1 тур - Сказочные числа

1. Вспомните популярную детскую сказку про репку, которую, хотя и с большим трудом, но вытянули.
Сколько пар глаз увидели этот овощ?

6

2. Отец с сыновьями катались на двух- и трехколесных велосипедах.
Всего у велосипедов было восемь колес.
Сколько сыновей у отца?

2

3. Яйцо вкрутую варится четыре минуты.
Я бросила в кипящую воду пять яиц в 9 часов.
Когда я смогу выключить газовую плиту?

9ч.4мин.



4. Сколько всего лет жил старик со старухой у самого синего моря?

33г



5. Количество разбойников у Али-Бабы?

40



7. Несмотря на то, что Баба Яга, как любая женщина, скрывает сколько ей лет, стало известно, что её возраст выражается наименьшим трехзначным числом, которое записывается различными цифрами. Сколько лет Бабе Яге?

7



102г.




2 тур - Игры царя Гороха


Во времена царя Гороха
Под смех и шутки скомороха

Царь на нос нацепив очки,
Играл с царицею в стручки.

Ты знаешь, как они играли?
Я сообщаю все детали...

Необходимо переложить в примере
только один стручок, чтобы восстановилось равенство


$$||| + | = |$$


$$|| - || = |||$$

3 тур - Логические КОНЦОВКИ

- Если стол выше стула, то стул...
- Если река глубже ручейка, то ручеек...
- Если $42 > 41$, то $41 \dots$
- Если сестра старше брата, то брат...
- Если правая рука справа, то левая..
- Если Саша вышел из дома раньше Сережи, то.....
- Если тигр сильнее волка, то волк...
- Если 1 отрезок короче 2, то 2 ...



4 тур - Числовые пирамидки

Образование третьего числа из первых двух

Продолжи запись ещё таким же количеством примеров.

Ответ: 199

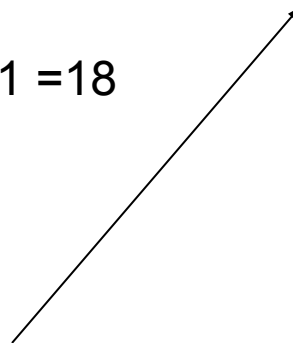
.....

$$11+18 = 29$$

$$7+11 = 18$$

$$4+7 = 11$$

$$3+4 = 7$$



5 тур - Занимательная математика

1. На груше созрело 16 груш, а на иве 3.
Сколько груш созрело на иве?
2. Если в 11 ч. ночи идет дождь,
то возможна ли через 24 часа солнечная погода?
3. Четверо играли в домино 20 минут.
По сколько минут играл каждый?
4. У палки 2 конца. Если один отпилить,
то, сколько концов останется у палки?
5. Что легче 1 кг железа или 1 кг ваты?
6. У девочки 5 яблок. Она съела все, кроме 3.
Сколько яблок у неё осталось?
7. В комнате 4 угла. В каждом углу сидит кошка.
Напротив каждой кошки сидит по 3 кошки.
Сколько всего кошек в комнате?
8. Шесть штук картофеля сварилось в кастрюле
за 30 минут. За сколько минут сварилась одна штука?





МОЛОДЦЫ!!!

Спасибо за участие!