





Тема:

Вычитание вида $12 - \square$


Математика - 1








Под кустами грибы сохли,
Ну, а в дождь, конечно, мокли.
10 желтеньких опят,
Да 2 рыжие лисички-
Очень милые сестрички.
2 груздя и боровик.
Вы, ребята, не молчите.
Сколько всех грибов? Скажите.



$$10+2+2+1=15$$





Сидят рыбаки, стерегут
поплавки.

Рыбак Корней поймал 5 окуней.

Рыбак Евсей - 5 карасей.

А рыбак Михаил 2 сомов
уловил.

Сколько рыб из реки натаскали
рыбаки?

$$5+5+2=12$$





Чтобы меньше мать устала,
Вера мыть тарелки стала.

3 тарелочки она утром вымыла одна.

Пообедавши, опять вымыла их ровно 5

Вечерком же все, что было,

Наша Верочка помыла,

Скажем прямо, 8 штук

Не минуло ее рук.

«Вот бы больше таких Верочек» - мама
дочке говорила.

Сколько же всего тарелочек Вера за день
перемыла?


$$3+5+8=16$$




15

12

16



Задай пример соседу



• 1 вариант

• $3+9$

• $4+8$

• $5+7$

• $6+6$

• 2 вариант


• $6+6$

• $7+5$


• $8+4$

• $9+3$







Задание 1.



12	3	4	5	0
	0	8	7	6



Задание 2.



• $3 = 2 + 1$

• $4 = 2 + 2$

• $5 = 2 + 3$

• $6 = 2 + 4$

• $9 = 2 + 7$

• $8 = 2 + 6$

• $7 = 2 + 5$



Отгадайте примеры:



$$\square + \square = 12$$

$$5+7=12$$

$$3+9=12$$

$$7+5=12$$

$$9+3=12$$

$$4+8=12$$

$$6+6=12$$

$$8+4=12$$



Солнце глянуло в
кроватьку...

1, 2, 3, 4, 5.

Все мы делаем зарядку,
Надо нам присесть и
встать.

Руки вытянуть пошире,
1, 2, 3, 4, 5.

Наклониться - 3, 4,
И на месте поскакать.

На носок, потом на пятку.
Все мы делаем зарядку.

