

Закрепление изученного



УРОК №124

УСТНЫЙ СЧЁТ



$$12 : 2 =$$

$$3 \cdot 3 =$$

$$36 - 26 =$$

$$18 : 2 =$$

$$12 : 4 =$$

$$24 - 16 =$$

$$77 - 70 =$$

Найди уравнения с неизвестным делителем.

Найди



его значение.

$$x - 8 = 26$$

$$24 : a = 4$$

$$x : 5 = 3$$

$$6 \cdot a = 12$$

$$23 - x = 7$$

$$x : 10 = 2$$

$$a + 7 = 16$$

$$b - 37 = 34$$



Вырази в новых единицах
длины.



$$4 \text{ м} = \underline{\quad} \text{ дм}$$

$$2 \text{ дм} = \underline{\quad} \text{ см}$$

$$1 \text{ дм } 5 \text{ см} = \underline{\quad} \text{ см}$$

$$4 \text{ м } 7 \text{ дм} = \underline{\quad} \text{ дм}$$


$$3 \text{ см } 5 \text{ мм} = \underline{\quad} \text{ мм}$$

$$87 \text{ см} = \underline{\quad} \text{ дм } \underline{\quad} \text{ см}$$



Вспомни какие ты знаешь виды углов? Назови углы

у данной фигуры.



За 6 дней дятел выдолбил 2 дупла. Сколько дней ушло на строительство 1 дупла?


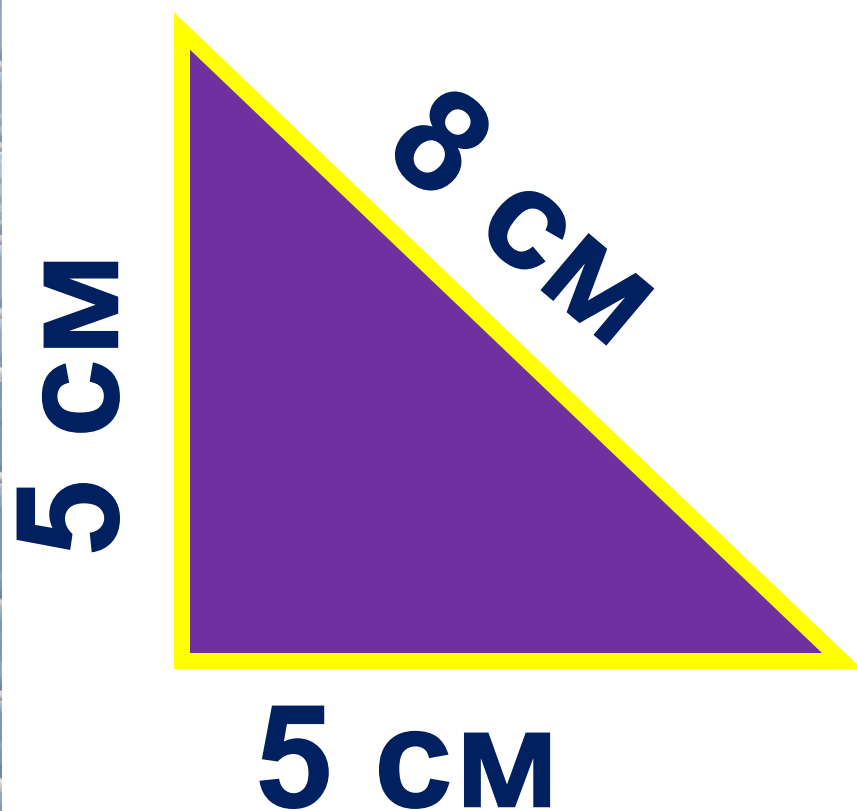
3

ДНЯ

$$6 : 2 = 3 \text{ (д.)}$$



Найди периметры
фигур.




ЗАДАНИЯ НА СМЕКАЛКУ






Эстони


я





пистолет



ЛИСТОК



простор



расстояние

конец

