



# МАТЕМАТИКА


1 класс

«Вычитание вида

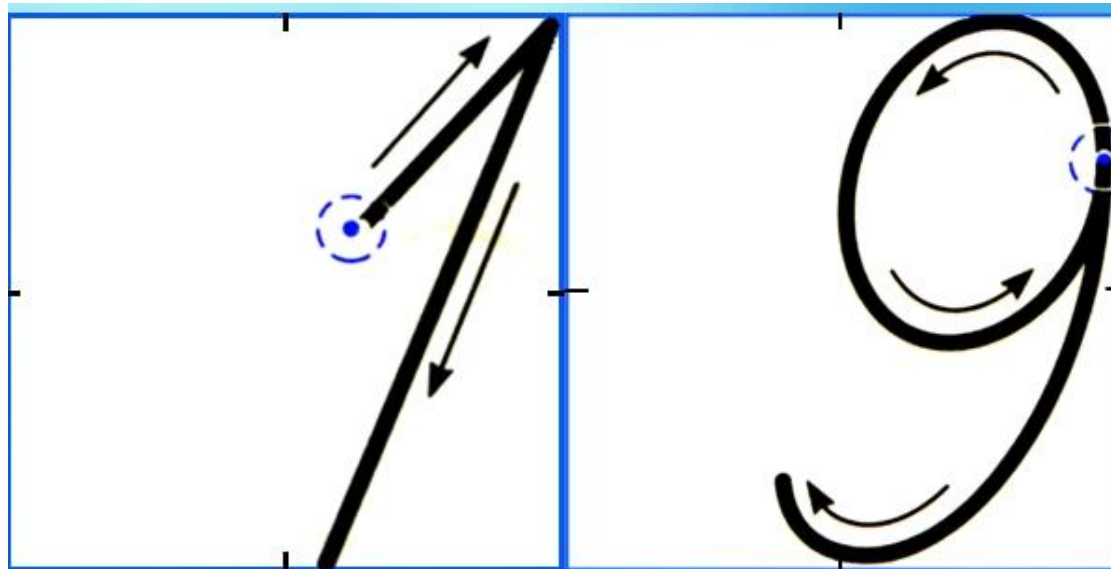
11 - ..., 12 - ... »



*30 апреля.  
Классная работа.*

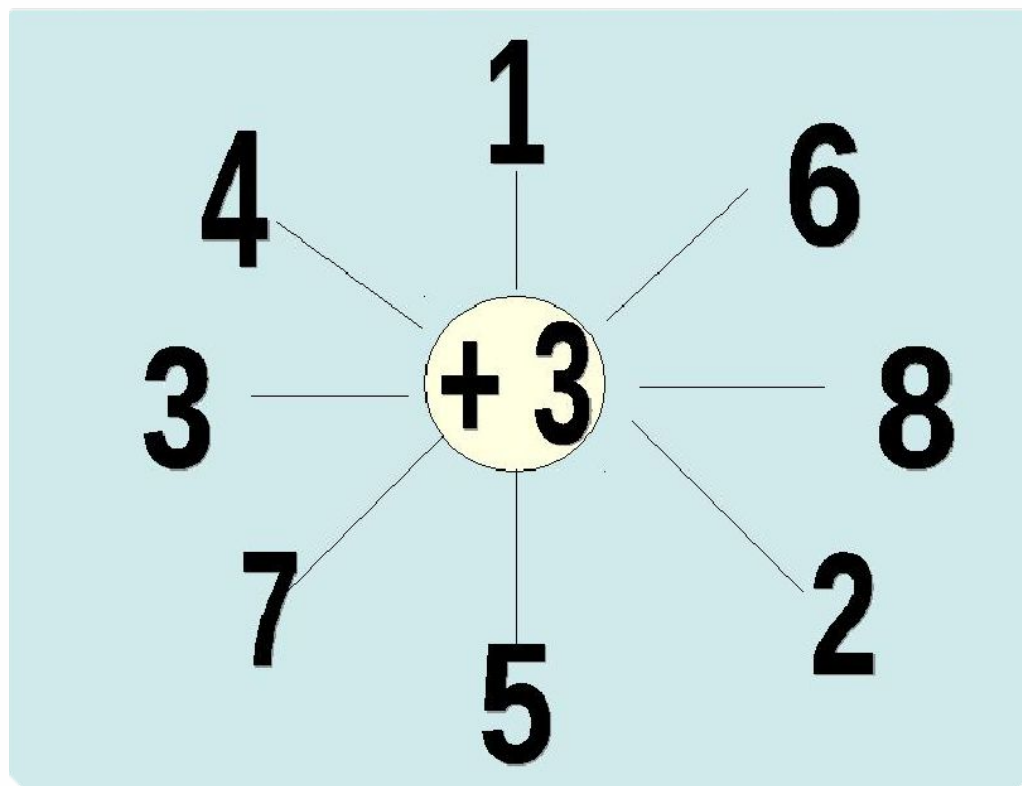


# *Минутка чистописания*





# Устный счет



11

2

3

4

5

# Работа с учебником. стр. 82

Объясни, как из числа 11 вычесть 4.



$$\begin{array}{r} 11 - 4 \\ \hline 11 - 1 - 3 \end{array}$$

**Вычисли и запомни!**

$11 - 2$

$11 - 3$

$11 - 4$

$11 - 5$

$11 - 9$

$11 - 8$

$11 - 7$

$11 - 6$

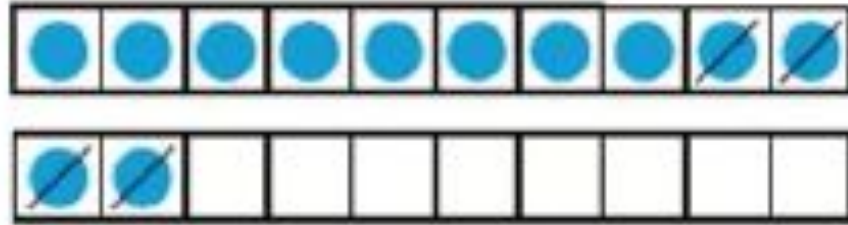
**Стр. 82, задание 1.**

Объясни разные способы решения.

Проверь себя, посмотрев **Видео 1.**

# Работа с учебником. стр. 83

12	
3	
4	
5	
6	



$$\begin{array}{r} 12 - 4 \\ \hline 12 - 2 - 2 \end{array}$$

Вычисли и запомни.

$12 - 3$	$12 - 4$	$12 - 5$	$12 - 6$
$12 - 9$	$12 - 8$	$12 - 7$	

**Стр. 83, задание 2.**

**Объясни разные способы решения.**

**Проверь себя, посмотрев Видео 2.**



# Закрепление материала.

Итак, рассуждая так же, вычисли:

$$\underline{12 - 4 =}$$

$$12 - 2 - 2 =$$

$$\underline{12 - 6 =}$$

$$12 - 2 - \square =$$

$$\underline{13 - 5 =}$$

$$13 - \square - \square =$$

$$\underline{13 - 9 =}$$

$$13 - \square - \square$$

$$\underline{14 - 7 =}$$

$$14 - \square - \square =$$

$$\underline{14 - 5 =}$$

$$14 - \square - \square =$$

Запиши вычисления в тетрадь.



# Работа с учебником. стр. 82

**Стр. 82, задание 3 (2).**

**Саша принес 6 морковок, а Оля -4.**

**Они отдали кроликам 8 морковок.**

**Сколько морковок осталось?**

*Дополни краткую запись, запиши решение, ответ:*

*С. – 6 м.*

*О. – 4 м.*

*Отдали –  м.*

*Осталось –  м.*

*1)*

*2)*

*Ответ: осталось  морковок.*





# Работа с учебником. стр. 83 (домашняя работа)

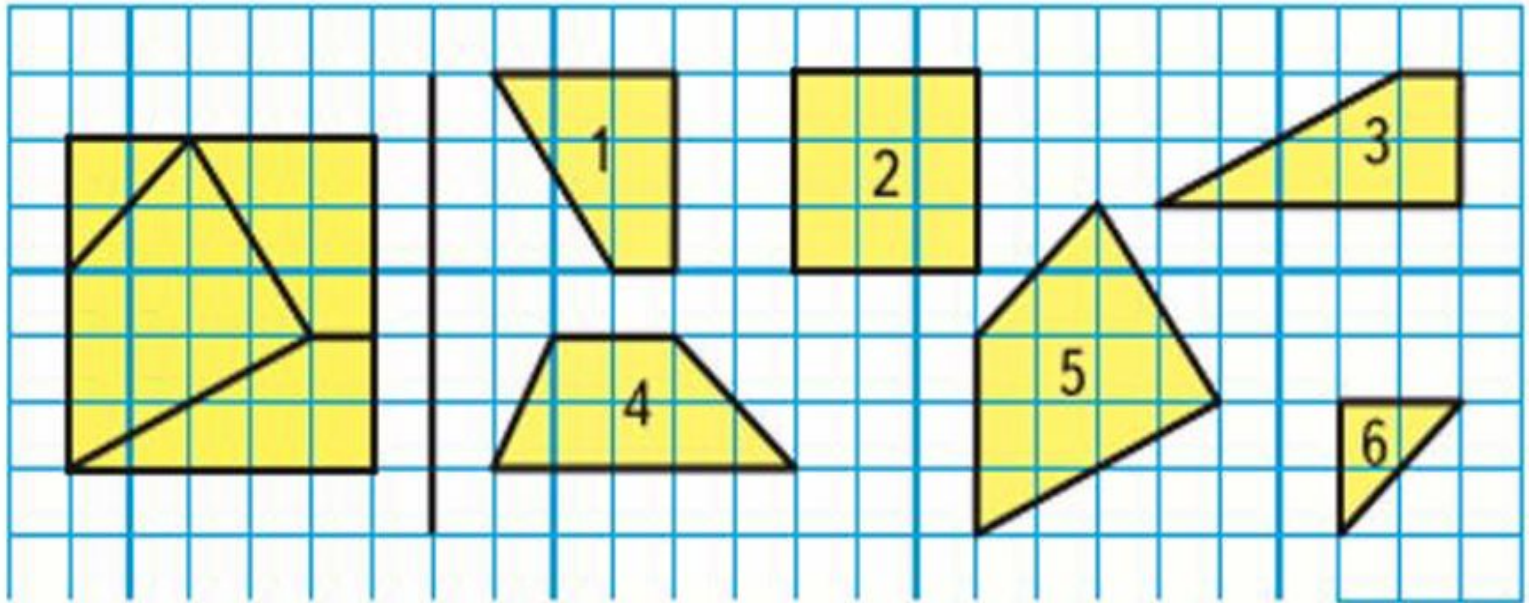
3.  $12 - 2 - 3$        $13 - 3 - 5$        $8 + 7 - 10$   
 $12 - 2 - 7$        $13 - 3 - 6$        $6 + 8 - 10$

4. Володе подарили два диска с играми. На одном диске 4 игры, а на другом — на 2 игры больше. Сколько всего игр на этих дисках?



# Подумай!

**15.** Назови номера фигур, из которых составлен этот квадрат.



Молодцы!

