

Позначення чисел другого десятка цифрами. Вимірювання довжини

10 17 відрізків 12

13 18 19

14 11 15 16



The image features two cartoon girls standing with their hands held up in front of their chests. The girl on the left has brown hair in pigtails with pink and yellow bows, wearing a pink and yellow striped dress and yellow shoes. The girl on the right has brown hair with a large blue bow, wearing a blue dress with white flowers and pink shoes. The numbers 10 through 19 are scattered around them in various colors: 10 (green), 11 (pink), 12 (purple), 13 (red), 14 (blue), 15 (green), 16 (purple), 17 (pink), 18 (blue), and 19 (olive green). The text '17 відрізків' is written in blue between the girls.

Гра «Закінчи речення»

«11 — це 10 і...».

«13 — це 10 і...».

«15 — це 10 і...».

«17 — це 10 і...».

«18 — це 10 і...».



Гра «Впізнай число»

Яке число складається з:

◆ 1 десятка 2 одиниць;

◆ 1 десятка 4 одиниць;

◆ 1 десятка 6 одиниць;

◆ 1 десятка 9 одиниць;

◆ з 2 десятків?



Знайди помилку

- $2+3=6$
- $5+1=7$
- $4+4=8$
- $9-1=7$
- $10-3=6$
- $3+5=8$
- $10-5=4$
- $6-3=2$




Розв'язування задач


Мама купила 1 десяток яблук і

ще 5. Скільки всього яблук

купила мама?



**На столі лежить 1 десяток зошитів
у клітинку, а в лінію – на 2 зошита
менше. Скільки зошитів у лінію
лежить на столі?**

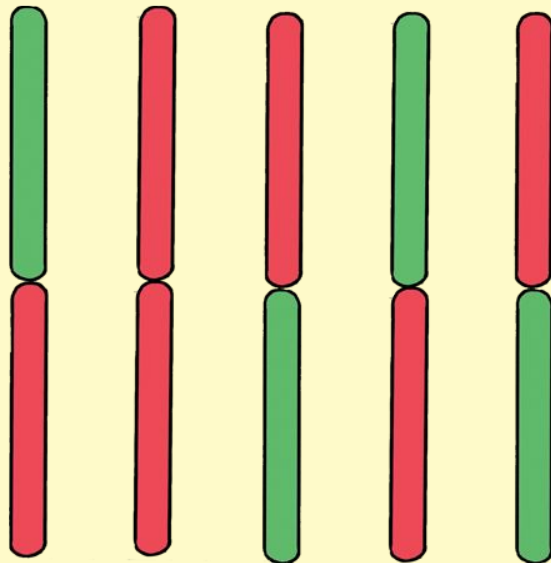


Каліграфічна хвилинка

- Яка цифра схожа
- на лебедя ?
- Що ви можете
- сказати про це
- число?
- Напишіть рядок
- цифри 2.



Візьмемо 10 паличок і зв'яжемо їх у пучок.



Скільки паличок у пучку?

До 10 паличок додамо 1 паличку.



Скільки стало паличок?

До 10 паличок додамо 3 палички.



Скільки стало паличок?


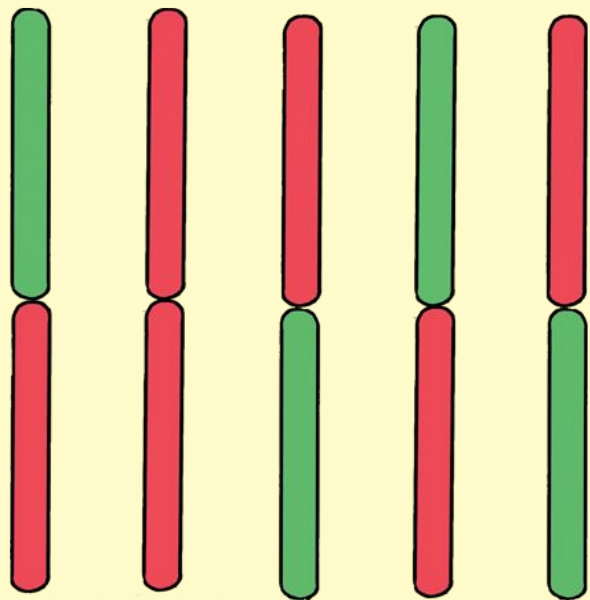
Візьмемо 2

пучки по 10

паличок.

Скільки всього

паличок?



Число 20 записуємо цифрами 2 і 0, де 2 – це десятки, а одиниць немає, тому на їх місці ставимо 0.

Визнач число десятків і одиниць

- 11-це 1 десяток і 1 одиниця
- 12-це...
- 14-це...
- 18-це...
- 15-це...
- 19-це...
- 20-це...
- 13-це...



Фізкульхвилинка

Задивились котики

На вербові котики.

Раз, два, три, чотири, п'ять!

Час прийшов їм спочивать.

Відпочине і наш клас.

Всі піднесли руки – раз!

Два! – присіли, руки вниз,



На сусіда подивись.

Раз! – і вгору,

Два! – і вниз.

На сусіда не дивись.


Ще присіли, піднялись,

Головою похитали

Й працювати знов почали.



Робота з підручником



**Ми писали, ми писали,
Пальчикова гімнастика**

Наші пальчики втомилися.

Ви скачіть, пальчики,

Як сонячні зайчики.

Стриб-скок, стриб-скок,

Прискакали на лужок.

Вітер травицю качає,

Вліво, вправо нахиляє.

Ви не бійтеся вітру, зайчики,

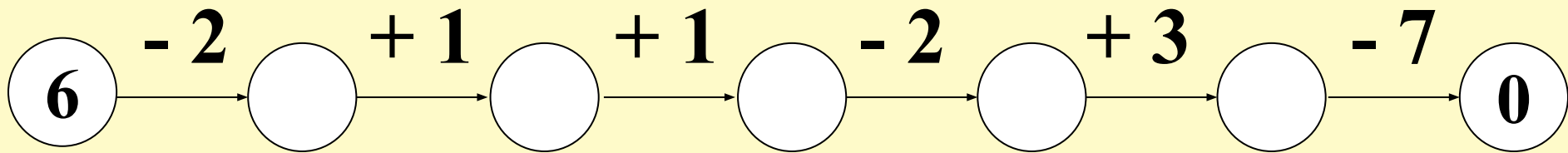
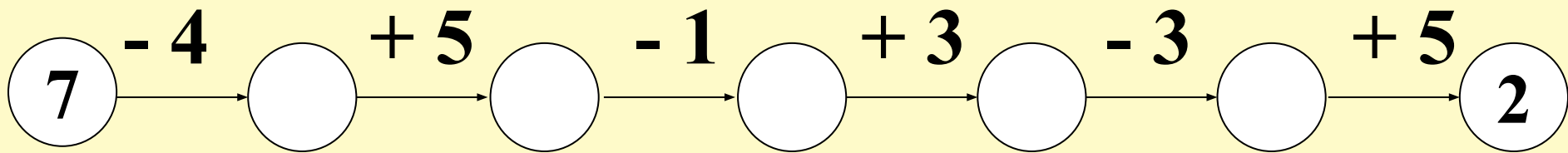


Логічна задача

На дереві сиділо 5 горобців і 3 синиці. 4
птахи полетіло. Чи був серед них хоч
один горобець?



Гра «Хто швидше?»



Підсумок уроку

Як називається число, записане цифрами

1 і 8; 1 і 5; 2 і 0?

Молодці, ви добре попрацювали на уроці!

Оцініть свою роботу смайликом.

