

СЬОГДН
20.05.2020

Урок
№ 128

Всім.ррtх
Нова українська школа




**Розв'язуємо складені
задачі на кратне**

порівняння

Сьогодні
20.05.2020

Усні обчислення (математичний потяг)



Увага! Увага! З першої платформи вирушає математичний потяг! Прокладіть йому колію. Обчисліть «ланцюжок» у квадратиках.

15

:3

·3

·2

-30

+9


+4

·4



Сьогодні
20.05.2020

Усні обчислення (математичний потяг)



Яке число отримали?
Запишіть його
каліграфічно!



15

:3

·3

·2

-30

+9

·4

+4

Класна
травня
робота



40 40 40 40 40 40 40 40 40

Сьогодні
20.05.2020

Зістав вирази в кожному стовпчику. Перевір обчисленням істинність припущень.

$6 < 42$ у 7 разів

$28 > 4$ у 7 разів



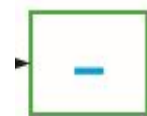
Сьогодні
20.05.2020

Зістав задачі. У чому їх відмінність? Як ця відмінність вплине на розв'язання?

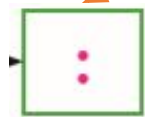
1) У Миколки 4 купюри по 10 грн, а в Іринки 4 купюри по 2 грн. **На скільки менше** грошей в Іринки, ніж у Миколки?

Складена задача на
різницеве порівняння

Миколка - ? грн, 4 куп. по 10 грн
Іринка - ? грн, 4 куп. по 2 грн.



на ? грн м.



у ? р. м.

2) У Миколки 4 купюри по 10 грн, а в Іринки 4 купюри по 2 грн. **У скільки разів менше** грошей в Іринки, ніж у Миколки?

Складена задача
на **кратне порівняння**

1) $10 + 10 + 10 + 10 = 10 \cdot 4 = 40$ (грн) – у Миколки.

2) $2 + 2 + 2 + 2 = 2 \cdot 4 = 8$ (грн) – у Іринки

3) $40 - 8 = 32$ (грн) – на ? менше

4) $40 : 8 = 5$ (р.) – у ? менше

Відповідь: на 32 грн менше у Іринки, ніж у Миколки, у 5 разів менше грошей у Іринки, ніж у Миколки.

**Підручник
С. 133**

- **№4 (I стовпчик – усно;
II стовпчик – письмово)**
- **№5 - (I стовпчик – усно;
II стовпчик – письмово)**

**Друкований
зошит
С. 54**

- **№208 (за варіантами на
вибір)**
- **№209 – 210 - письмово**