

II этап республиканской олимпиады  
по учебному предмету «География»  
2018 год

## **МУЛЬТИМЕДИЙНЫЙ ТЕСТ**

10 КЛАСС

# Уважаемый олимпиадник!

На выполнение заданий мультимедийного теста олимпиадной работы отводится 1 час (60 минут).

Вы имеете право воспользоваться интерактивными возможностями пакета PowerPoint (уменьшать и увеличивать рисунки и фотографии; просматривать слайды в произвольном порядке и в свободном ритме и т.п.).

Ответы на задания мультимедийного теста необходимо вписать в предлагаемый бланк ответов.

По результатам мультимедийного тестирования Вы можете получить максимум 50 баллов.

**ЖЕЛАЕМ ВАМ УДАЧИ!**

**Вопрос 1:** Назовите самое глубокое озеро Беларуси?  
(За правильный ответ – 2 балла)



**Вопрос 2:** Назовите самый южный район Беларуси?

**Варианты ответа:** А) Верхнедвинский; Б) Малоритский; В) Брагинский;  
Г) Лоевский.

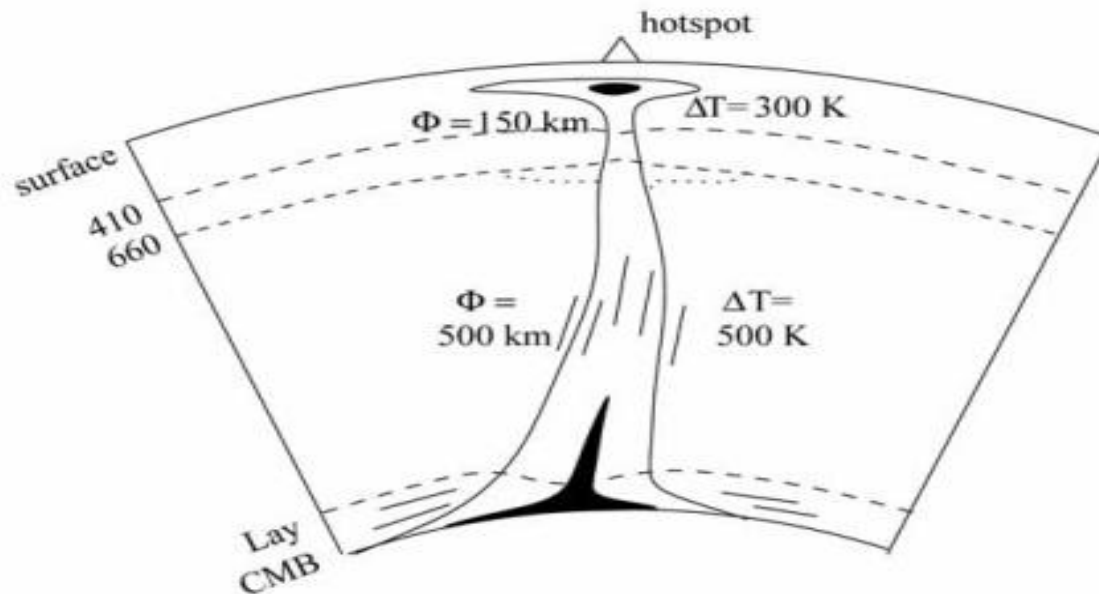
*(За правильный ответ – 1 балл)*



**Вопрос 3:** Какая гипотеза утверждает, что почти все химические явления, геологические процессы (особенно вулканизм) связаны с внутренними течениями планеты, которые идут от ядра Земли?

**Варианты ответа:** А) гипотеза «плюмов»; Б) концепция центробежных мельниц; В) гипотеза дрейфа континентов; Г) гипотеза «фиксистов»

*(За правильный ответ – 1 балл)*



**Вопрос 4:** В каком агрегатном состоянии находится вещество в астеносфере?

**Варианты ответа:** А) в вязкопластичном; Б) в жидком; В) в твердом; Г) в газообразном.

*(За правильный ответ – 1 балл)*



**Вопрос 5:** Для растительности какого континента характерны эвкалипты:  
**Варианты ответа:** А) Австралии; Б) Северной Америки; В) Африки;  
Г) Южной Америки.

*(За правильный ответ – 1 балл )*



**Вопрос 6:** Какие почвы формируются в природной зоне степей?

**Варианты ответа:** А) серые лесные; Б) дерново-подзолистые; В) подзолистые; Г) черноземные.

*(За правильный ответ – 1 балл)*





**Вопрос 7:** Какая пустыня является африканским аналогом южноамериканской пустыни Атакама с точки зрения происхождения?

**Варианты ответа:** А) Сахара; Б) Намиб; В) Калахари; Г) Мохаве.

*(За правильный ответ – 2 балла)*

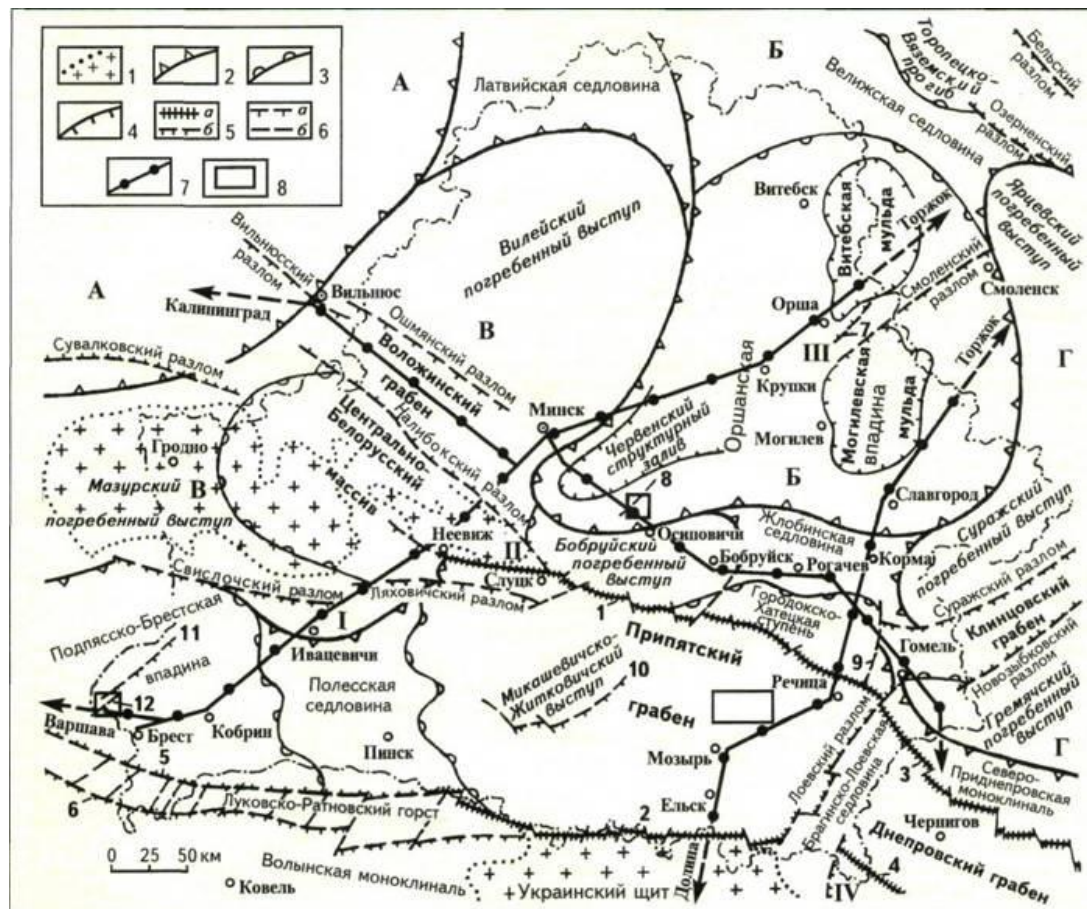


**Вопрос 8:** Какие геологические структуры соединяет Жлобинская седловина?

**Варианты ответа:**

- А) Воронежскую и Белорусскую антекклизу;**
- Б) Белорусскую антекклизу и Балтийский щит;**
- В) Припятский прогиб и Белорусскую антекклизу;**
- Г) Припятский прогиб и Днепровско-Донецкий прогиб.**


*(За правильный ответ – 1 балл)*



**Вопрос 9:** На каком озере находится «Рвотный остров»?

**Варианты ответа:** А) Ньяса; Б) Эйр; В) Балатон; Г) Виктория.

*(За правильный ответ – 1 балл)*



**Вопрос 10:** Определите, географический объект по фотографии:  
**Варианты ответа:** А) Плотина Гувера; Б) ГЭС Санья; В) ГЭС Итайпу;  
Г) Плотина Гранд-Кули.  
(За правильный ответ – 1 балл)

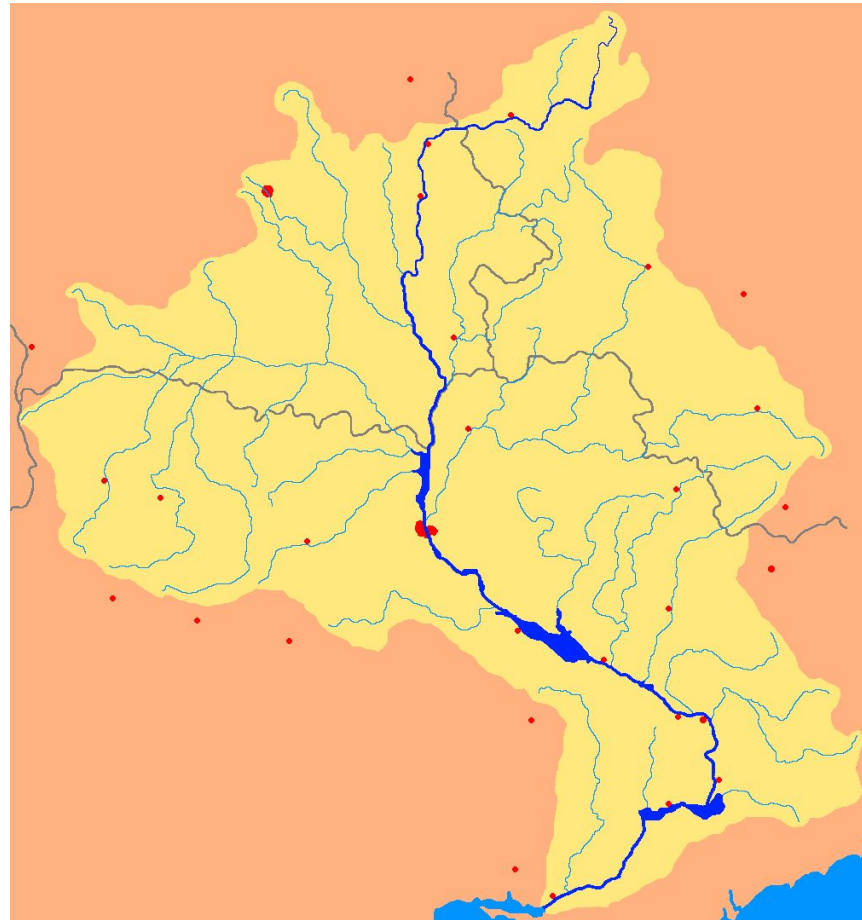


**Вопрос 11:** Укажите страну, не имеющую общей границы с Бразилией?  
**Варианты ответа:** А) Перу; Б) Аргентина; В) Суринам; Г) Эквадор.  
(За правильный ответ – 2 балла)



**Вопрос 12:** Выберите из списка две реки, которые расположены в бассейне Днепра:

**Варианты ответа:** А) Лесная; Б) Миния; В) Ингулец; Г) Дрисса, Д) Ирпень.  
(За правильный ответ – 2 балла)



**Вопрос 13:** В каком городе расположен самый длинный пешеходный подвесной мост в Беларуси?

**Варианты ответа:** А) в Мостах; Б) в Слониме; В) в Хойниках; Г) в Копыле.

*(За правильный ответ – 1 балл)*



**Вопрос 14:** В каком государстве расположено самое высокое здание на Земле?

**Варианты ответа:** А) Китай; Б) ОАЭ; В) Саудовская Аравия; Г) Австралия.  
(За правильный ответ – 1 балл)





**Вопрос 15:** Назовите коренной народ Новой Зеландии:

**Варианты ответа:** А) Ненцы; Б) Майры; В) Маори; Г) Нганасаны.

*(За правильный ответ – 2 балла)*



**Вопрос 16:** Определите, какому городу принадлежит достопримечательность Вышгород, где расположен Домский собор.  
(За правильный ответ – 2 балла)



**Вопрос 17:** Поставьте в соответствие культурные растения и центры их происхождения:

**Центры происхождения:** А) Индостан, Б) Центральная Америка, В) Филиппины, Г) Малая Азия  
(За правильный ответ – 4 балла)

1



*Молодица. РФ*

BIGSTOCK

2




3



4



**Вопрос 18:** Герб какого города изображен на рисунке?  
(За правильный ответ – 2 балла)



**Вопрос 19:** В каком городе Беларуси выпускается продукция данного бренда?

*(За правильный ответ – 2 балла)*



**Вопрос 20:** Определите природную зону по изображениям?  
(За правильный ответ – 2 балла)



**Вопрос 21:** К какому городу Беларуси относится футбольная команда «Шахтер»?

*(За правильный ответ – 2 балла)*



**Вопрос 22:** Вспомните известного ученого, который ввел в научный оборот термин «биогeoценоз».

*(За правильный ответ – 1 балл)*





**Вопрос 23:** Поставьте в соответствие виды медведей и ареалы их обитания?

**Ареалы обитания:** 1) Пустыня Гоби, Монголия, 2) Аляска, 3) Кордильеры, 4) Гималаи (За правильный ответ – 4 балла)



А) Барibal



Б)  
Мазаалай



В) Кадьяк



Г) Белогрудый  
медведь

**Вопрос 24:** Назовите самый северный административный район Беларуси?

**Варианты ответа:**

**А) Верхнедвинский**

**В) Городокский**

**Б) Россонский**

**Г) Полоцкий**

*(За правильный ответ – 1 балл)*



**Вопрос 25:** Назовите второй по величине остров в Беларуси? На данном острове есть внутреннее небольшое озеро.


*(За правильный ответ – 2 балла)*



**Вопрос 26: Самый высокий водопад в мире?**  
(За правильный ответ – 1 балл)



**Вопрос 27:** Определите по рисункам на слайде африканскую страну.  
(За правильный ответ – 1 балл)



**Вопрос 28:** Назовите крайнюю западную точку Евразии? В каком государстве она находится?  
(За правильный ответ – 2 балла)



**Вопрос 29:** Премьер-министром какой страны является Маттео Ренци?  
**Назовите столицу этого государства?**  
*(За правильный ответ – 2 балла)*



**Вопрос 30:** Какой геологический период изображен на слайде?  
(За правильный ответ – 2 балла)

