

# Урок географии в 5 классе

*На карте – огромная планета Земля:*

*Реки и горы, равнины, моря.*

*Точка на карте зовется «объект»*

*- Такое понятие ввёл человек.*

*- Сегодня мы с вами узнаем о том,*

*Что каждая точка имеет свой дом,*

*Чтобы её отыскать в целом мире,*

*Ей указали этаж и квартиру.*

*Сложно найти этот адрес ребятам,*

*Если не следовать координатам.*

*Этаж называется широтой,*

*Номер квартиры – её длиной.*

*Как отыскать в дом заветный  
ключик?*

*Карта и глобус нас этому учат.*

*Нам остается припомнить немного,*

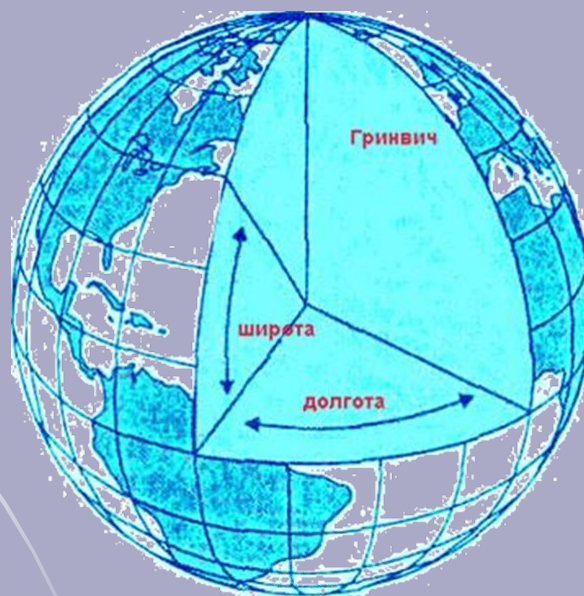
*Какие ведут к каждой точке дороги.*

*Как только дороги пересекутся,*

*Искомые точки сразу найдутся.*



# Тема урока «Градусная сеть. Географические координаты»





Цель урока:  
Познакомиться с новыми понятиями:  
географическая широта и долгота,  
научиться определять  
географические координаты.



**экватор**

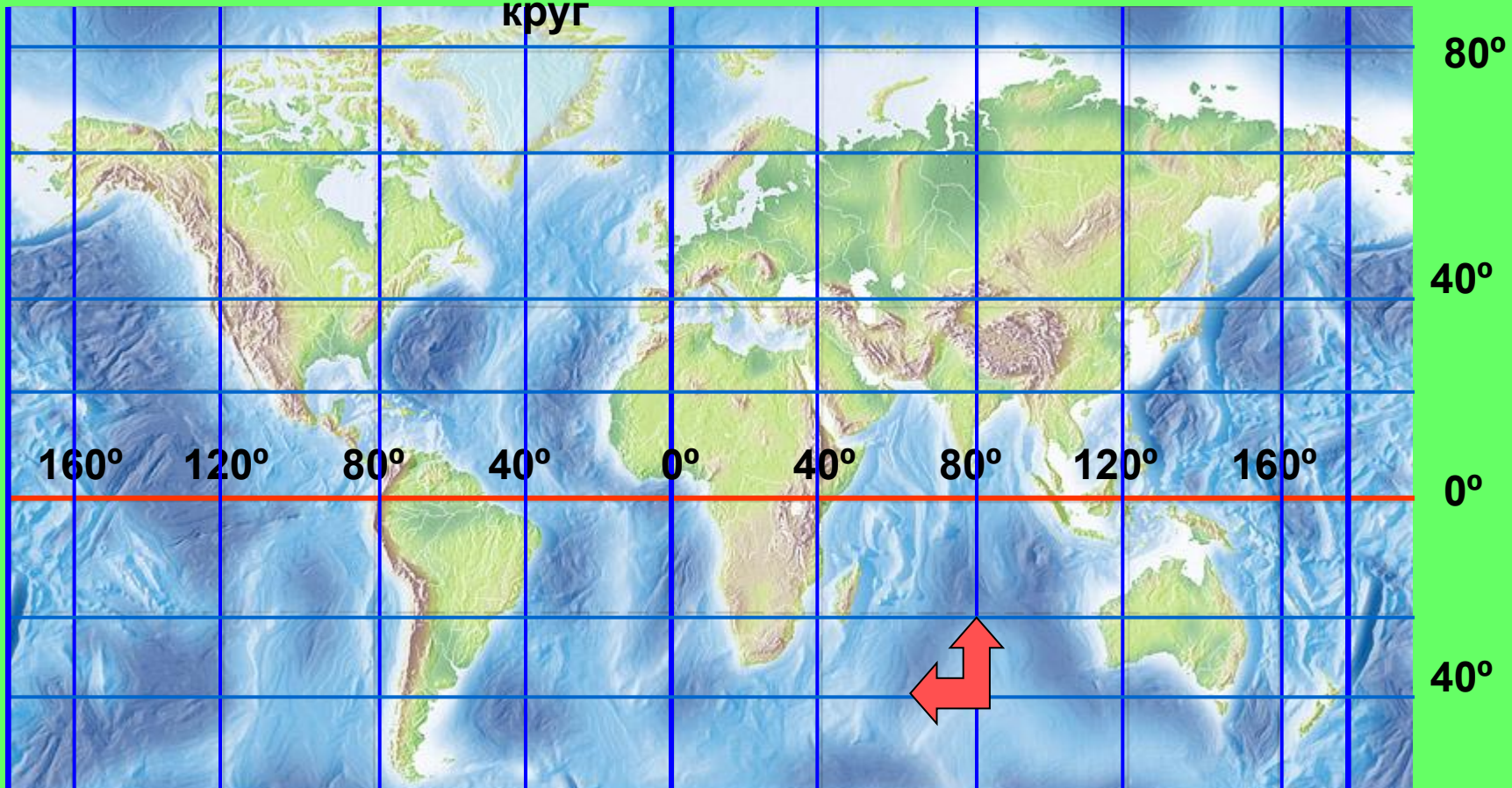
**начальный меридиан** **сев. полярный**

**круг**

**меридиан**

**180°**

**сев. тропик юж. тропик**

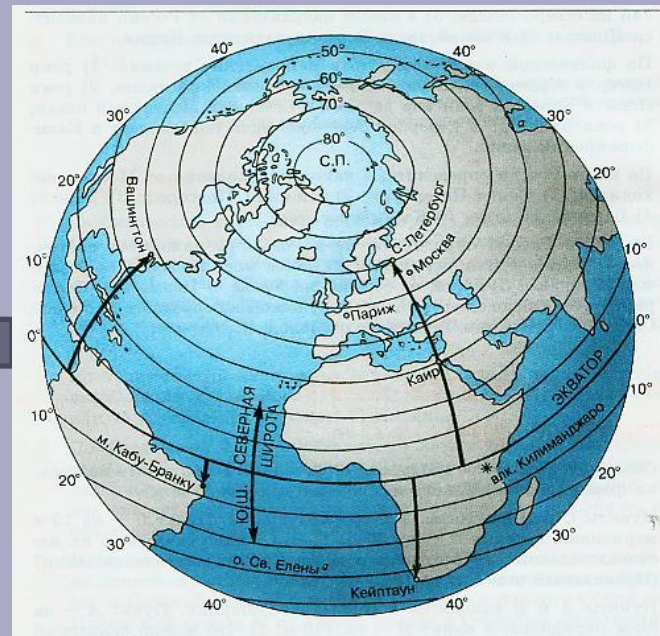


# ГЕОГРАФИЧЕСКАЯ ШИРОТА

северная широта  
С.Ш.

экватор

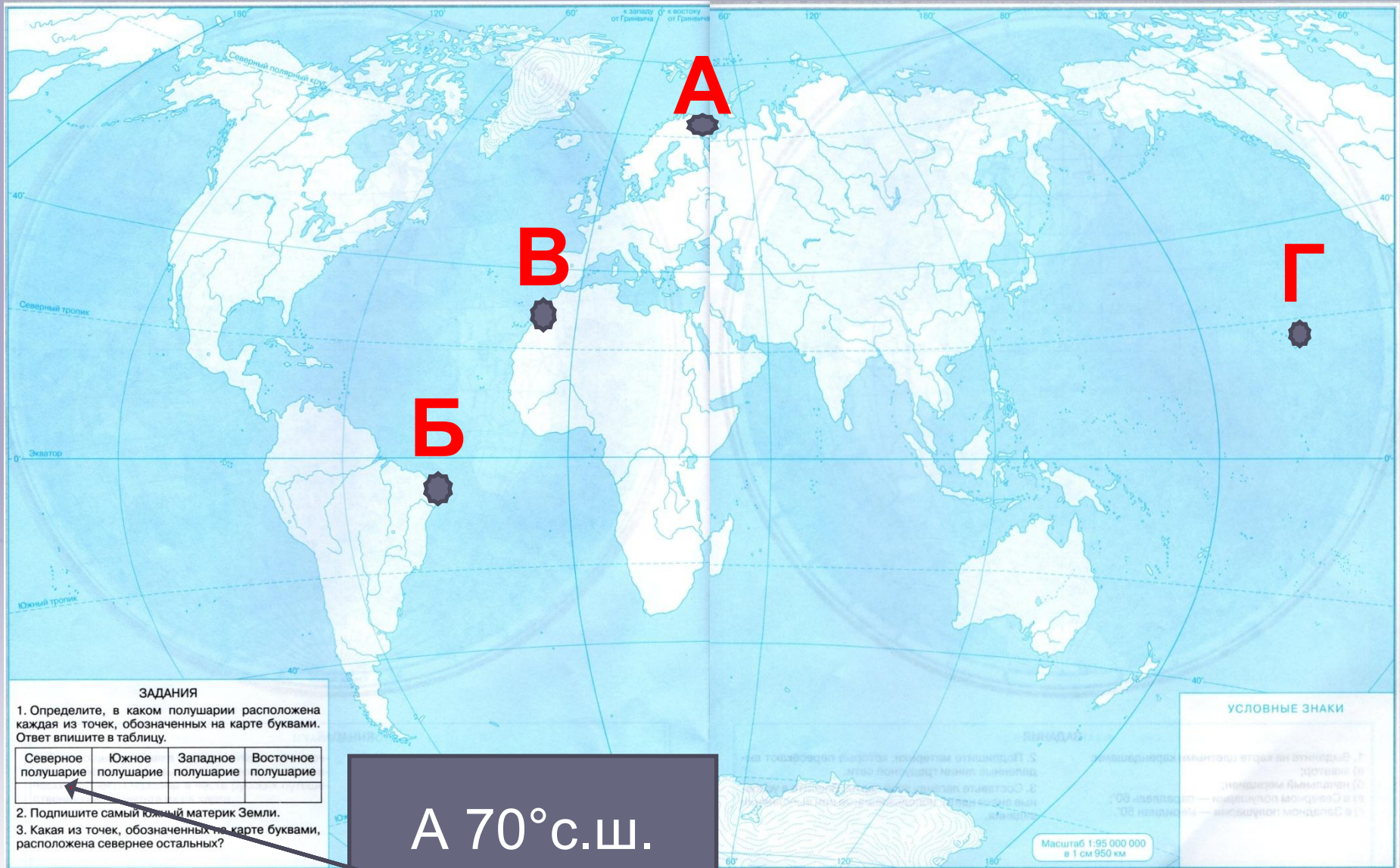
южная широта  
Ю.Ш.



Географическая широта

Показывает расстояние от экватора до заданного объекта, выраженное в градусах от  $0^{\circ}$  до  $90^{\circ}$ .

# ГЕОГРАФИЧЕСКАЯ ШИРОТА



## ЗАДАНИЯ

1. Определите, в каком полушарии расположена каждая из точек, обозначенных на карте буквами. Ответ впишите в таблицу.

Северное полушарие	Южное полушарие	Западное полушарие	Восточное полушарие

2. Подпишите самый южный материк Земли.

3. Какая из точек, обозначенных на карте буквами, расположена севернее остальных?

А 70° с.ш.



# Физкультминутка.

