

# МИКЕНЫ И ТРОЯ



## Задание № 1.

Какими морями омывается Греция?

- А. Средиземным и Красным;
- Б. Ионическим и Эгейским;
- В. Чёрным и Средиземным.



## Задание 2.

Назовите самый большой остров,  
бывший частью Греции.

- А. Кипр;
- Б. Крит;
- В. Фера.



## Задание 3

Как имя героя, который победил  
Минотавра?

А. Персей;

Б. Тесей;

В. Минос.



## Задание № 4.

Как звали девушку, которая помогла  
выйти из лабиринта?

А. Артемида;

Б. Ариадна;

В. Андромеда.



## Задание № 5.

Кто создал лабиринт для  
Минотавра?

- А. Дедал;
- Б. Персей;
- В. Икар.





## Задание № 6.

На каком острове в 15 веке до н.э. произошло землетрясение, которое привело к гибели Критское царство?

А. Фера;

Б. Кипр;

В. Родос.



# ОТВЕТЫ.

1. Б.

2. Б.

3. В.

4. Б.

5. А.

6. А.





# Как вы понимаете «нить Ариадны»?



**Нить Ариадны —**  
означает выход из какой  
либо трудной, запутанной  
ситуации.



# Почему погиб Икар?





Икар настолько увлекся полётом, что забыл наставление отца и поднялся очень высоко, приблизившись слишком близко к Солнцу. Лучи Солнца растопили воск, в результате Икар упал и утонул недалеко от острова Самос в море, которое и получило в этой части название Икарийского. Его тело, прибитое волнами к берегу, было похоронено Гераклом на маленьком островке Долиха, названном по его имени Икария.



# Микены и Троя










# Город Микены.

Расположен в Южной Греции  
на скалистом холме.

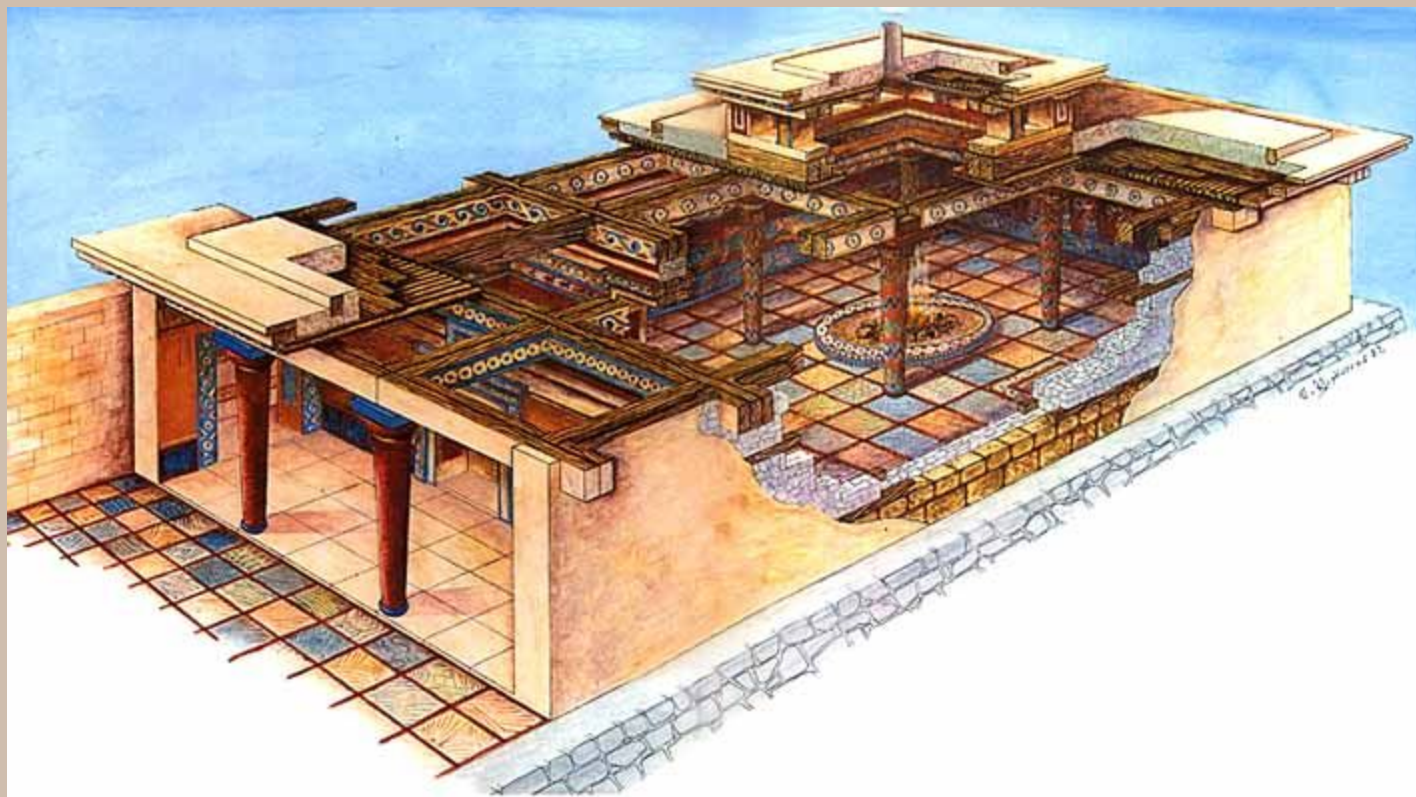


Вход в крепость,  
сложенную из каменных  
глыб , проходил через  
Львиные ворота.






## Реконструкция царского дворца в Микенах.



Внутри крепости находился царский дворец, рядом с ним - дома знати.

# Гробница Агамемнона.







*Гробница царя Агамемнона*







По  
сохранившимся  
золотым маскам  
можно  
представить  
облик микенских  
владык.

*Маска царя Агамемнона*





*Кинжал из царской гробницы*



*Глиняные таблички*





Сокровища микенских  
царей.





При раскопках дворца  
найлены глиняные таблички  
с надписями.

Эти надписи прочитаны. Во  
многих надписях речь идет о  
сборах на войну. Микенские  
цари предпринимали  
далекие походы за добычей.



При раскопках Микен археологи обнаружили акрополь, на котором находился царский дворец, дома знати, некоторые гробницы с золотыми масками погребенных, а также сотни глиняных табличек с надписями – списками рабынь, ремесленников-плотников, кожевников, горшечников, золотых дел мастеров. Кроме того, были найдены панцири и шлемы с рогами.

***- Какие выводы о жизни жителей древних Микен можно сделать из этих данных?***



## **Исторический документ.**

*Надписи из архива Пилосского дворца*

а) Списки рабынь и их детей.

Молольщиц (женщин) 7, девочек 10, мальчиков 5.

Чинильщиц (женщин) 12, девочек 16, мальчиков 8.

Прядильщиц (женщин) 37, девочек 26, мальчиков 4

Банщиц (женщин) 38, девочек...

Подсобных работниц (женщин) 4...

Служанок (женщин) 32, девочек 26...

Швей (женщин) 38, девочек 20...

б) Списки сыновей работниц.

В Левитре (название местности).

Сыновей чистильщиц (мужчин) 2, мальчиков 1.

В Пилосе

Сыновей швей (мужчин) 2.

Сыновей банщиц (мужчин) 22, мальчиков 11.

В Евдевере (название местности)

Сыновей белошвеек (мужчин) 4.



-Почему в списках указаны только женщины - рабыни и их дети?


-О чем свидетельствует отдельный список сыновей работниц?















***Афина***



***Гера***



***Афродита***





*Суд Париса*



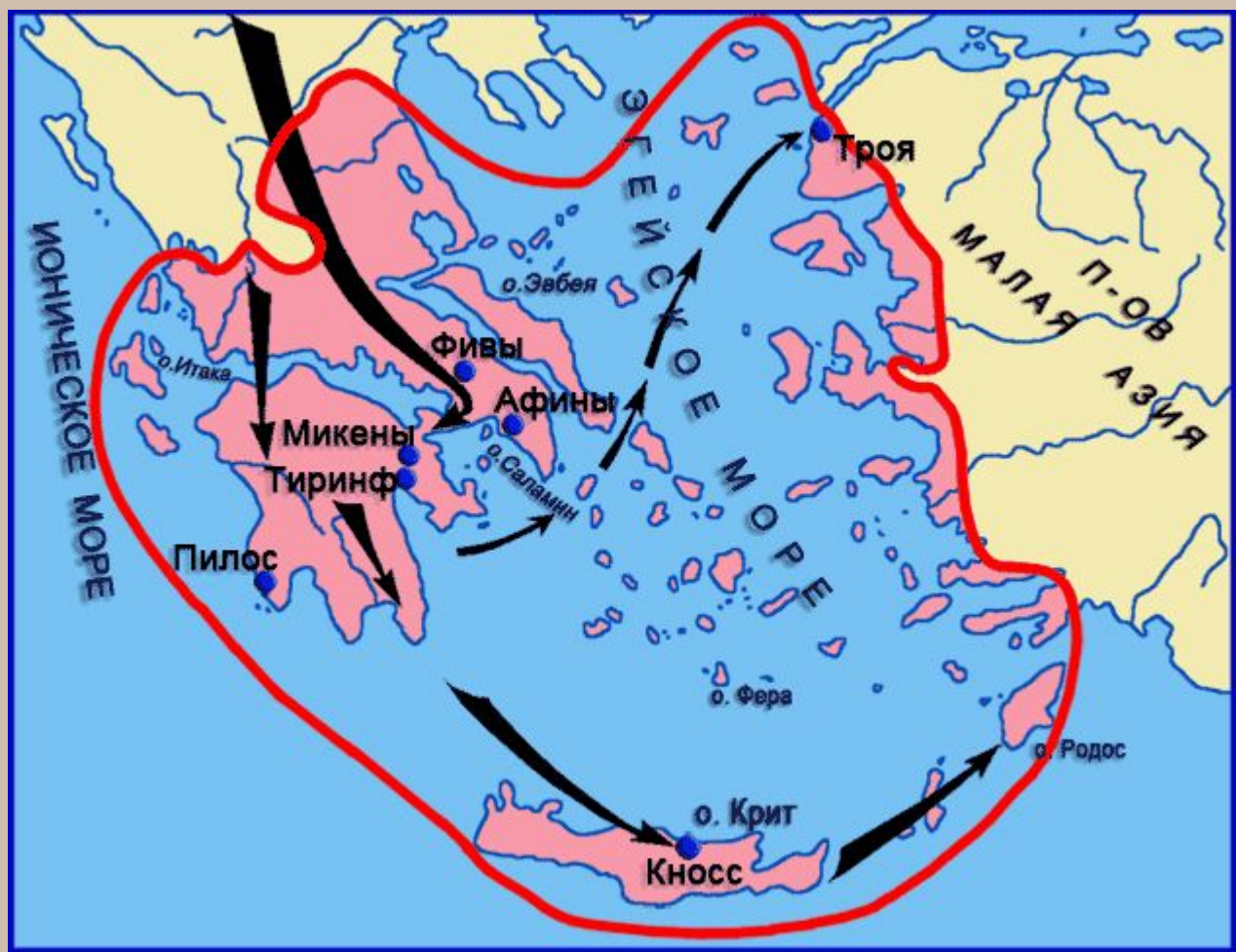




*Выступление войска из древних Микен*

Около 1200 г. до н.э.- Троянская война.





# Троянская война.



Причины войны:  
- стремление греков утвердиться на восточном побережье Эгейского моря.

Около 1200 г. до н.э.- Троянская война.



# Домашнее задание

§ 25

