

Задачи на разностное сравнение стр.10



*Школа России
Математика 1 класс*





Устный счёт

Сосчитай примеры.




$$10 - 4 + 2 = 8$$

$$5 + 3 - 4 + 0 = 4$$

$$9 - 4 + 3 + 2 = 10$$

$$2 + 4 + 4 - 1 = 9$$

Девочек **4**, а мальчиков на **3 больше**. Сколько мальчиков?



$$4 + 3 = 7$$

Книжек **4**, а шариков на **1** меньше. Сколько шариков?



$$4 - 1 = 3$$

Найди верные неравенства.

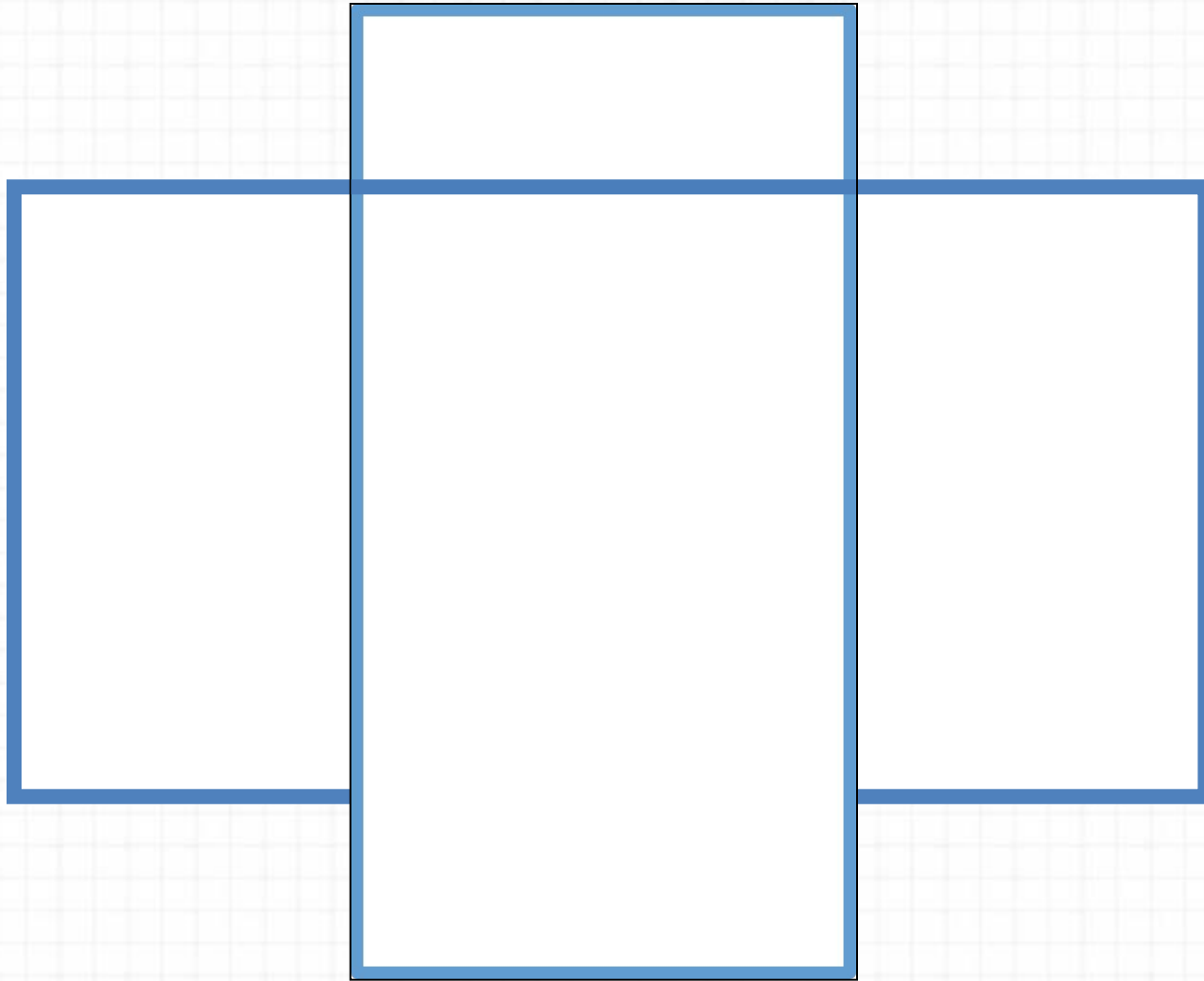


$$10 - 4 < 5$$

$$4 + 4 > 7$$

$$3 + 4 < 9$$


$$9 - 4 > 3$$



5

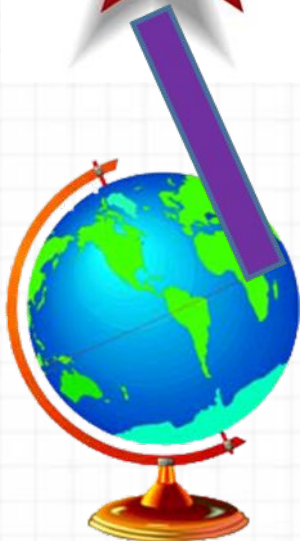
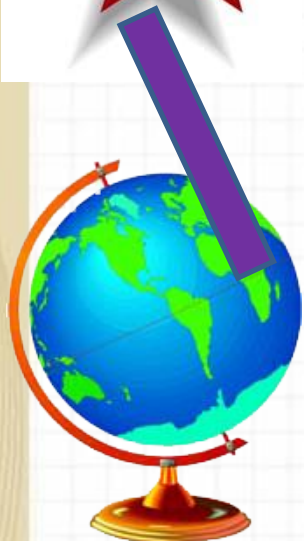
Сколько прямоугольников на чертеже?

Новый материал





5



на


$$5 - 2 = 3$$

Чего больше и на сколько?

Чему будем учиться на уроке?



**Чтобы узнать на
сколько
одно число больше или
меньше другого –
надо из большего**




$$5 - 2 = 3$$

На сколько тетрадок больше, чем ручек?



7

5




$$7 - 5 = 2$$




На сколько карандашей больше,
чем колокольчиков?

$$5 - 4 = 1$$

5



4



Физкультминутка

**По дорожке, по дорожке
Скачем мы на правой ножке.
И по этой же дорожке
Скачем мы на левой ножке.
Доскакали до лужайки
И попрыгали как зайки.
Мы все дружно отдохнём
И опять считать пойдём!**



На сколько больше? На сколько меньше?



Будем учиться решать задачи с вопросами «На сколько больше?», «На сколько меньше?».



Рассмотри рисунок. Сколько собачек? Сколько ...? На сколько собачек меньше, чем тумбочек? На сколько ... больше, чем ...?

1. Возьми 5 квадратов и 3 круга. На сколько квадратов больше, чем кругов? Убери столько квадратов, сколько кругов. Объясни, почему для решения нужно из 5 вычесть 3. Реши задачу.
2. Купили 6 билетов в цирк и 4 билета в театр. Каких билетов было больше и на сколько? Рассмотри схему и реши задачу.



На сколько ... ?

3. $6 \bigcirc 2 = 8$ $9 \bigcirc 4 = 5$ $8 \bigcirc 3 = 5$
 $4 \bigcirc 3 = 7$ $7 \bigcirc 3 = 4$ $6 \bigcirc 4 = 10$

?

На сколько сантиметров длина одного отрезка больше длины другого?



На сколько больше? На сколько меньше?

Будем учиться решать задачи с вопросами «На сколько больше?», «На сколько меньше?».




Рассмотри рисунок. Сколько собачек? Сколько ...? На сколько собачек меньше, чем тумбочек? На сколько ... больше, чем ...?

1. Возьми 5 квадратов и 3 круга. На сколько квадратов больше, чем кругов? Убери столько квадратов, сколько кругов.

Объясни, почему для решения нужно из 5 вычесть 3. Реши задачу.

2. Купили 6 билетов в цирк и 4 билета в театр. Каких билетов было больше и на сколько?

Рассмотри схему и реши задачу.



На сколько ... ?

3. $6 \bigcirc 2 = 8$

$9 \bigcirc 4 = 5$

$8 \bigcirc 3 = 5$

$4 \bigcirc 3 = 7$

$7 \bigcirc 3 = 4$


$6 \bigcirc 4 = 10$

▶ На сколько сантиметров длина одного отрезка больше длины другого?



Физкультминутка

Неуклюжий шел пингвин
Посреди холодных льдин.
И по ледяной дорожке
Прыгал он на правой ножке.
А теперь подскок на левой –
И присел, согнув колени.
Встал, присел –
И пять прыжков:
Очень климат уж суров!




Задания на смекалку



Отгадайте ребусы.



трибун



Твор

Закрепление изученного



Сосчитай пример.

$$4 + 4 =$$

Подумай
!



3

4

5

6

8

Сосчитай пример.



$$1 + 4 =$$

Подумай
!



3

5

8

9

6

Сосчитай пример.



$$8 - 4 =$$

Подумай
!



1

3

5

2

4

Сосчитай пример.



$$2 + 4 =$$

Подумай
!



6

5

8

9

6

Сосчитай пример.



$$9 - 4 =$$

Подумай
!



8

3

5

2

4

Сосчитай пример.



$$3 + 4 =$$

Подумай!
!



3

4

5

7

6

Сосчитай пример.



$$6 - 4 =$$

Подумай!
!



1

4

2

3

5

Сосчитай пример.



$$7 - 4 =$$

Подумай

!



1

4

5

2

3

Сосчитай пример.



$$4 - 4 =$$

Подумай!
!



1

4

5

2

0

Рефлексия

Если вам урок понравился, вам было интересно, то нарисуйте на смайлике улыбку.

если были затруднения на уроке, вы активно не участвовали, нарисуйте грустное лицо.





Интернет урок:

<http://interneturok.ru/ru/school/matematika/1-klass/undefined-0/zadachi-na-raznostnoe-sravnenie>