

Занимательная




математика



**Окружают нас тайны,  
их трудно понять,  
и ответ нам непросто  
дается.**

**Рассуждать,  
подмечать,  
и задачки решать.  
Вот что делать  
сегодня придется!**

Найди цифры от 1 до 10. Кто быстрее?



**Постарайтесь  
быстро и правильно  
ответить «да» или «нет»  
на следующие вопросы:**



**У двух машин 4 колеса?**

**У четырех воробьев 8 лапок?**

**У двух собак 3 хвоста?**

**У трех коров 6 рогов?**

**У трех мышей 5 ушей?**

**У двух человек 8 ног?**




**У трех ослов нет хвостов?**

# Реши задачу.

Папа купил 3 мяча зелёного и жёлтого цвета.

Зелёных мячей было больше, чем жёлтых.

Сколько мячей каждого цвета купил папа?



# *Разгадай ребусы.*

**100** ЯНКА

**Это трудное задание –  
Проявите-ка старанье.**

**Числа здесь вы  
поищите,**

**Ни одно не  
пропустите.**

**У нас семья  
большая.**

**Сколько нас?**

**7**

**Смотри, на ветке  
снегири.**

**СКОЛЬКО ИХ?**

**3**



**С задачей  
справился  
едва.**

**Что получил  
за это?**

**2**

**Опять звенит уже  
звонок,  
опаздываешь  
на урок!**

**На сколько  
минут?**

**5**

**Здорово семья за  
грибами ходила в  
эту осень...**

**Сколько собрали  
грибов вас спроси**

**8**

# Реши лесные

## примеры.

Найди, какому числу

соответствует каждый рисунок.



$$\text{leaf} + \text{leaf} = 4$$

$$\text{flower} + \text{leaf} = \text{mushroom}$$

$$\text{flower} + \text{flower} = \text{leaf}$$

$$\text{flower} + \text{flower} + \text{flower} = \text{mushroom}$$

$$\text{flower} = 1$$

$$\text{leaf} = 2$$

$$\text{mushroom} = 3$$

**Оля**



**Артём**  
**М**

**Рая**



**Никита**

**На день рождения к Вере  
пришли друзья.**

**Артём пришёл раньше Оли,  
но не был первым.**

**А Рая пришла последней.**

**Кто пришёл в гости  
первым?**



**Вера**

**Никита**



**Артём**




**Оля**




**Рая**

**Воображени  
е  
Включи,  
Попробуй,  
Отгадай:  
Какие  
цифры  
Видишь  
здесь?  
Их сколько?  
Сосчитай!**



# Занимательный квадрат

Расставь числа 2, 2, 3, 3, 3 так, чтобы при сложении чисел по строчкам, по столбикам и с угла на угол всегда получалось число 6



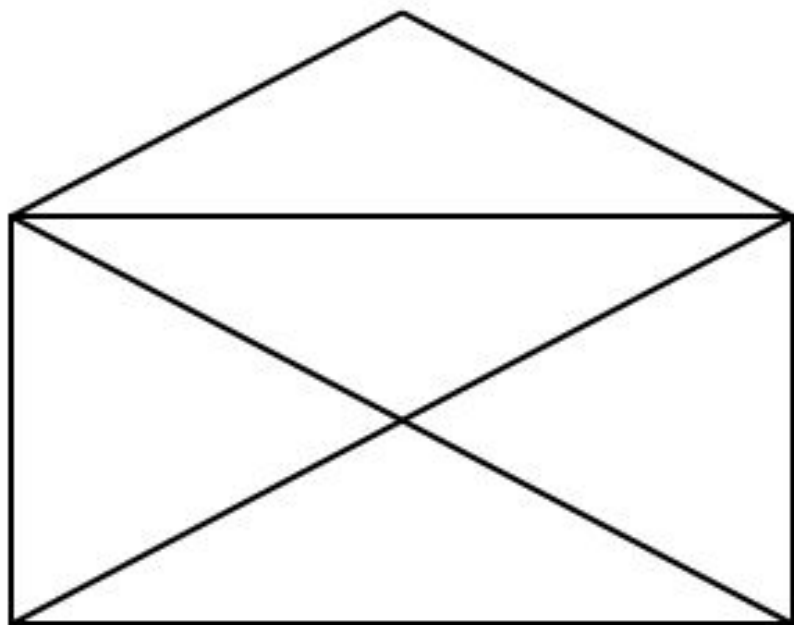
	1	
1	2	
		1

3	1	2
1	2	3
2	3	1



# *Внимание! Внимание!*


## *Ещё одно задание!*



**СКОЛЬКО**  
**?**



**СКОЛЬКО**  
**?**




**Ответ**

**:**



**- 9**



**- 4**



***Вы справились с  
заданьями,  
Прошли все испытания.  
Всё сумели! Всё смогли!***

***Вы молодцы!***