



$9 \times 7 = 63$ **СТЬ** $64 : 8 = 8$


$7 \times 5 = 35$ $56 : 8 = 7$


$8 \times 8 = 64$ $35 : 7 = 5$

$7 \times 4 = 28$ $45 : 5 = 9$

$3 \times 6 = 18$ $18 : 9 = 2$

$5 \times 10 = 50$ $90 : 90 = 1$





ЛЬНО



СТЬ

$$23 \times 4 = 92$$

$$11 \times 7 = 77$$

$$32 \times 3 = 96$$

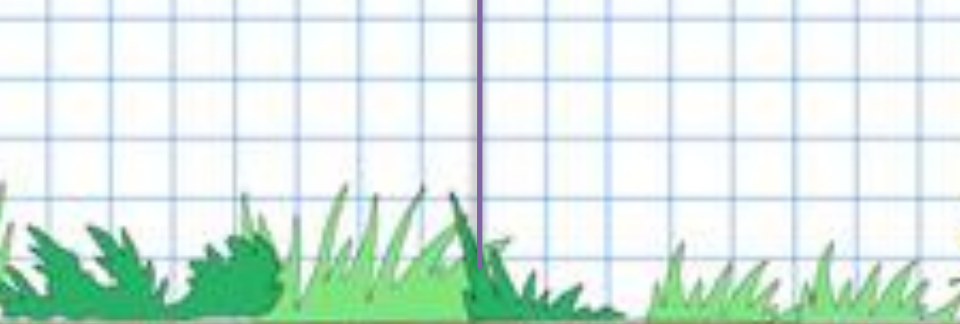
$$12 \times 5 = 60$$


$$18 \times 5 = 90$$

$$41 \times 2 = 82$$

$$24 \times 2 = 48$$

$$22 \times 3 = 66$$





ЗНАТЕЛЬНО СТЬ



**В вазе лежали 10 конфет, а
печенья в 2 раза больше.
Сколько всего конфет и
печенья лежали в вазе?**

30



Мелла урока

**Странички для
любопытельны**

X

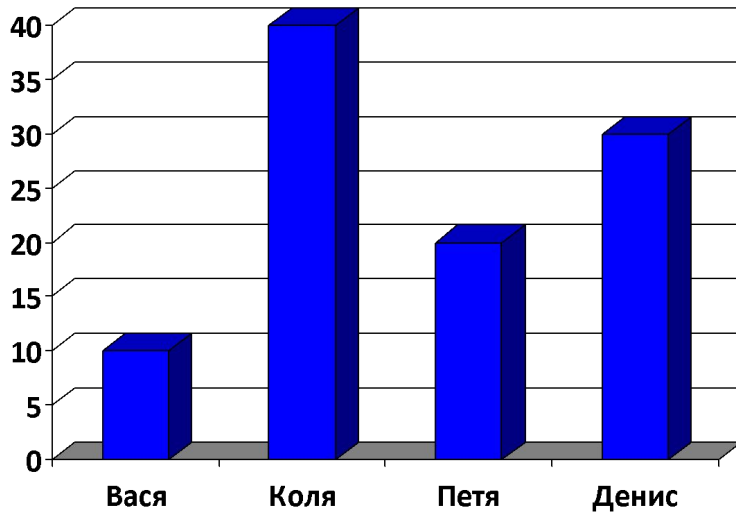


Запиши число в таблицу

- 1 сот 5 дес
- 3 сот 4 ед
- 35дес
- 3 ед III разряда 6 ед II разряда 1 ед I разряда
- 4 сот

Сот.	Дес.	Ед.

Заполните таблицу, используя данные диаграммы, узнайте, сколько марок собрал каждый мальчик?



Вася	Коля	Петя	Денис

Во сколько раз больше марок собрал Коля, чем Петя?

Продолжите числовую последовательность 3 числами

- 324, 424, 524,...
- 435, 430, 425,...
- 248, 258, 268,...



К Вере в гости пришли в гости 5 человек. Каждому Вера дала по 2 яблока и по 3 мандарина. Сколько фруктов Вера раздала друзьям?





На день рождения медвежонка
пришли 4 белочки и 7
зайчиков. Каждому медвежонок
дал по 7 орешков. Сколько
всего орешков раздал
медвежонок гостям?





Начерти квадрат со стороной 5 см. Найди его периметр и площадь.





Длина прямоугольника 7 дм ,
ширина 11 дм. Найди
периметр и площадь этого
прямоугольника.

