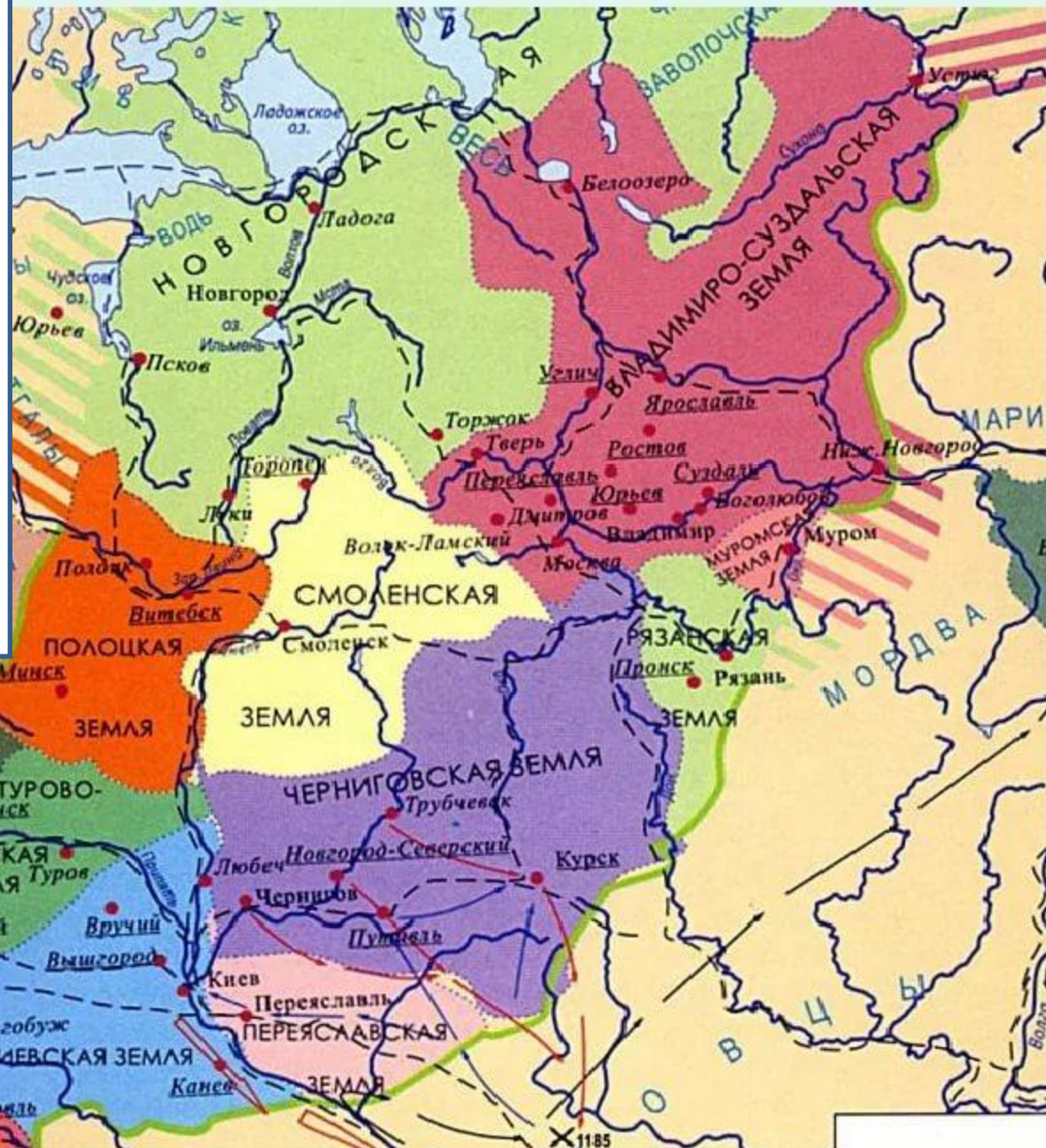


ная раздробленность русских княжеств



княжества (земли), по которым вы заполняли таблицы. Какое из них мы называем Северо-Восточной Русью? Какие два княжества (земли) показаны на месте Галицко-Волынского княжества (позднее они объединятся в одно)?

Стр. 105

Тема в тетради

НОВГОРОДСКАЯ ЗЕМЛЯ, или ГОСПОДИН ВЕЛИКИЙ НОВГОРОД



Княжеств о/земля	Располо- жение	Природны е условия	Народы, города	Занятия населения
Владими́ро-Сузда́льское княжество	Северо-Восточная Русь, междуречье Волги и Оки	Леса Земли, пригодные для земледелия - ополья	Финно-угорские, балттийские, славянские. Ростов, Суздаль, Владимир, Галич, Ярославль и др	Земледелие, скотоводство, ремесло, и др.
Новгород-ская земля				
<div style="border: 1px solid black; padding: 10px; text-align: center;"> <p>С помощью карты и учебника (пункты 1 и 2 пар. 14) заполните таблицу про Новгородскую землю</p> </div>				



Найдите ошибки!

Земля	Расположение	Природные условия	Народы, города	Занятия населения
Новгородская земля	Северо-Западная Русь, перекресток торговых путей	Плодородные почвы, леса, реки	Славяне, чудь, половцы Новгород, Псков, Ладога, Белоозеро	Ремесло, торговля, земледелие

Политическое развитие княжеств

Роль князя	Роль бояр	Роль веча	Особенности политического устройства	Известные князья

Найдите в пункте 4 пар.14 главную политическую особенность Новгородской земли, выпишите ее в 4-ый столбик. Выпишите в этот же столбик **Важнейшие должностные лица** (их три) и кратко – их обязанности.

В этом же пункте найдите и выпишите роль веча и роль князя.

Политическое развитие

КНЯЖЕСТВ

Роль князя	Роль бояр	Роль веча	Особенность и политическое устройство	Известные князья

Какую роль играло боярство? Поищите по тексту 4 пункта.
Затем проверьте себя: см. следующий слайд

Политическое развитие

княжеств

Роль князя	Роль бояр	Роль веча	Особенности и политическое устройство	Известные князья
	<p>Из них выбирался тысяцкий. Руководили вечем. Собирали налоги.</p>			

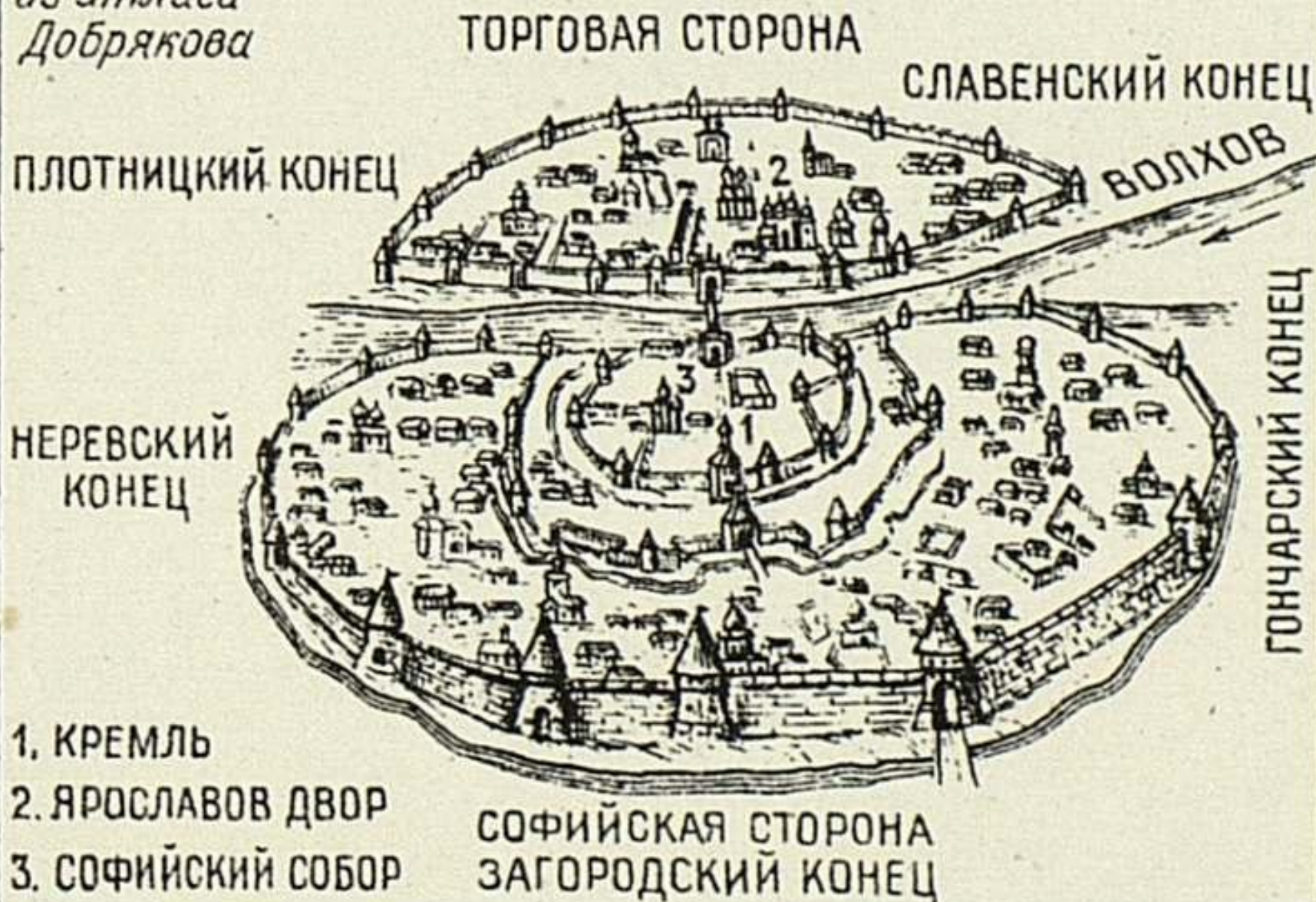
Допишем во второй столбик про бояр: **Богатые и могущественные.**

Как вы думаете, почему последний столбик остался у нас

- На основе археологических раскопок ученые восстановили план старинного Новгорода. Рассмотрите его на следующем слайде. Город делился на «стороны» и «концы». Сколько сторон было в Новгороде? Что такое «концы» (см. стр. 118)? От чего (кого) чаще всего получали названия улицы и концы в Новгороде? Какие подтверждения мы можем найти на плане города?
- Найдите на плане кремль (крепость), «Ярославов двор» – место, где селили князя с его людьми, а также главный собор Новгорода.

ДРЕВНИЙ НОВГОРОД

из атласа
Добрякова



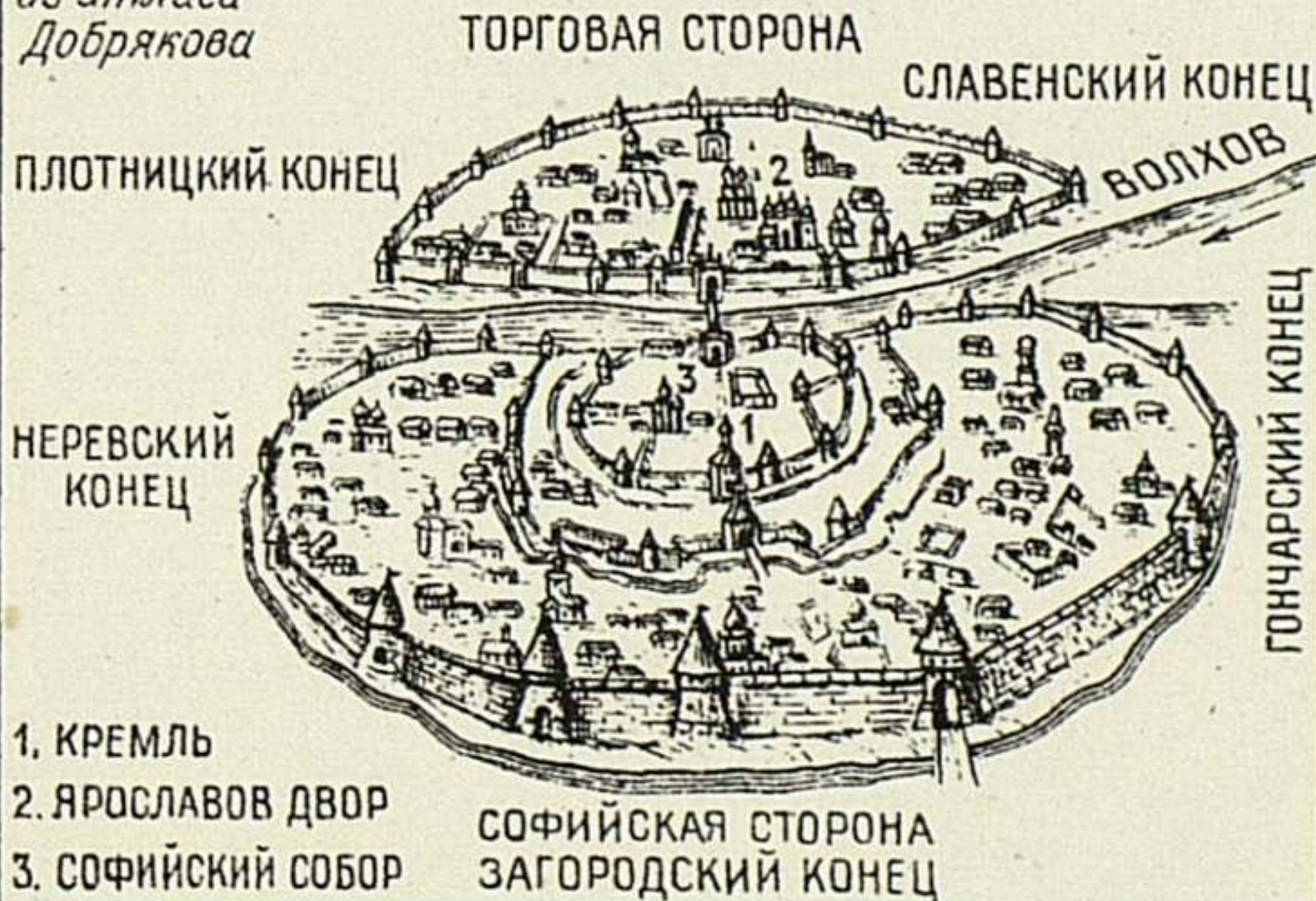
Подумайте, о каком месте в городе пойдет речь.

Это место играло важную роль в общественной жизни. Здесь нередко происходили кулачные бои между различными враждующими группировками. Отсюда по приговору городских властей сбрасывали осужденных на смерть преступников.

Найдите его на плане Новгорода.

ДРЕВНИЙ НОВГОРОД

из атласа
Добрякова



1. КРЕМЛЬ


2. ЯРОСЛАВОВ ДВОР

3. СОФИЙСКИЙ СОБОР

СОФИЙСКАЯ СТОРОНА
ЗАГОРОДСКИЙ КОНЕЦ


- Проверьте себя по следующей иллюстрации!

Мост через реку
Волхов,
соединявший
Софийскую и
Торговую
стороны,
часто
становился
местом
борьбы.



Посмотрите
внимательно на
иллюстрацию. Как
вы думаете, что за
храм виднеется
на заднем фоне?

Проверьте себя по
стр.90 (там он
изображён с
другого ракурса,
но вы его
узнаете). Какой
князь возвёл его в
Новгороде?





Найдите на рисунке Святую Софию, кремль, мост через Волхов. Какая сторона Новгорода изображена на первом плане?



Домашнее задание

- Параграф 14, вопросы к тексту устно.
- Выписать и выучить понятия:
республика, посадник, тысяцкий,
владыка.
- Заполнить обе таблицы по
Новгородской земле + еще одно
княжество со стр.123-126.
- Уметь показывать все изученные земли
на карте (с.105).