

Задание ОГЭ

Вероятность

Учитель математики: Горбачева О.Л.



Томск 2015

Типы задач на вероятность

- Определение вероятности
- Вероятностные события



Определение вероятности

Вероятностью случайного события A называется отношение числа n несовместимых равновероятных элементарных событий, составляющих событие A , к числу всех возможных элементарных событий N :

$$p = \frac{n}{N}$$



1 В сборнике билетов по истории всего 50 билетов, в 13 из них встречается вопрос про Александра Второго. Найдите вероятность того, что в случайно выбранном на экзамене билете школьнику не достанется вопрос про Александра Второго.

2 В сборнике билетов по математике всего 20 билетов, в 16 из них встречается вопрос по логарифмам. Найдите вероятность того, что в случайно выбранном на экзамене билете школьнику достанется вопрос по логарифмам.

3 В среднем из 900 садовых насосов, поступивших в продажу, 27 подтекают. Найдите вероятность того, что один случайно выбранный для контроля насос не подтекает.

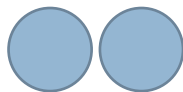
4 Фабрика выпускает сумки. В среднем 19 сумок из 160 имеют скрытые дефекты. Найдите вероятность того, что купленная сумка окажется без дефектов. Результат округлите до сотых.



Орел или
решка?

5

В случайном эксперименте симметричную монету бросают дважды. Найдите вероятность того, что орёл не выпадет ни разу.



6

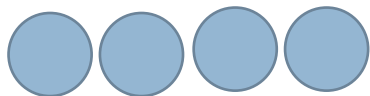
В случайном эксперименте симметричную монету бросают трижды. Найдите вероятность того, что решка выпадет ровно один раз.



A	B	C	неA	A и C	A или B
0	0	0			
0	0	1			
0	1	0			
0	1	1			
1	0	0			
1	0	1			
1	1	0			
1	1	1			

7

В случайном эксперименте симметричную монету бросают четырежды. Найдите вероятность того, что орёл выпадет ровно два раза.



8

В чемпионате по гимнастике участвуют 70 спортсменок: 25 из США, 17 из Мексики, остальные из Канады. Порядок, в котором выступают гимнастки, определяется жребием. Найдите вероятность того, что спортсменка, выступающая первой, окажется из Канады.

9

На чемпионате по прыжкам в воду выступают 25 спортсменов, среди них 4 прыгуна из Италии и 6 прыгунов из Мексики. Порядок выступлений определяется жеребьёвкой. Найдите вероятность того, что двадцать четвёртым будет выступать прыгун из Мексики.

10

На олимпиаде по русскому языку 350 участников разместили в трёх аудиториях. В первых двух удалось разместить по 140 человек, оставшихся перевели в запасную аудиторию в другом корпусе. Найдите вероятность того, что случайно выбранный участник писал олимпиаду в запасной аудитории.

11

На олимпиаде по химии 400 участников разместили в трёх аудиториях. В первых двух удалось разместить по 150 человек, оставшихся перевели в запасную аудиторию в другом корпусе. Найдите вероятность того, что случайно выбранный участник писал олимпиаду в запасной аудитории.

12

Конкурс исполнителей проводится в 5 дней. Всего заявлено 80 выступлений — по одному от каждой страны, участвующей в конкурсе. Исполнитель из России участвует в конкурсе. В первый день запланировано 8 выступлений, остальные распределены поровну между оставшимися днями. Порядок выступлений определяется жеребьёвкой. Какова вероятность, что выступление исполнителя из России состоится в третий день конкурса?

13

В чемпионате мира участвуют 16 команд. С помощью жребия их нужно разделить на четыре группы по четыре команды в каждой. В ящике вперемешку лежат карточки с номерами групп: 1, 1, 1, 1, 2, 2, 2, 2, 3, 3, 3, 3, 4, 4, 4, 4. Капитаны команд тянут по одной карточке. Какова вероятность того, что команда России окажется во второй группе?

14

Перед началом первого тура чемпионата по теннису участников разбивают на игровые пары случайным образом с помощью жребия. Всего в чемпионате участвует 76 теннисистов, среди которых 7 спортсменов из России, в том числе Анатолий Москвин. Найдите вероятность того, что в первом туре Анатолий Москвин будет играть с каким-либо теннисистом из России.

15

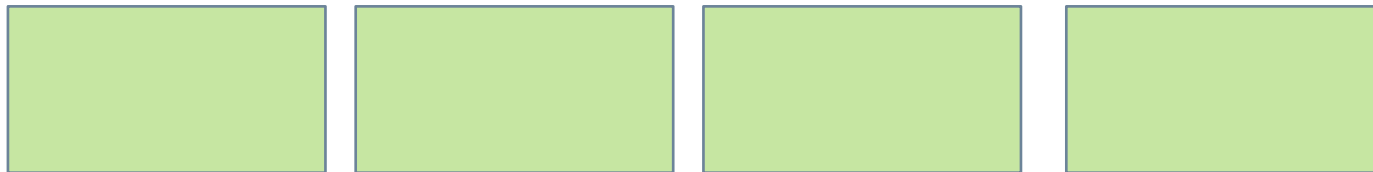
Перед началом первого тура чемпионата по бадминтону участников разбивают на игровые пары случайным образом с помощью жребия. Всего в чемпионате участвует 76 бадминтонистов, среди которых 22 спортсмена из России, в том числе Игорь Чаев. Найдите вероятность того, что в первом туре Игорь Чаев будет играть с каким-либо бадминтонистом из России.

16

Перед началом первого тура чемпионата по шахматам участников разбивают на игровые пары случайным образом с помощью жребия. Всего в чемпионате участвует 46 шахматистов, среди которых 10 спортсменов из России, в том числе Дмитрий Тоснин. Найдите вероятность того, что в первом туре Дмитрий Тоснин будет играть с каким-либо шахматистом из России.

17

В классе 16 учащихся, среди них два друга — Вадим и Сергей. Учащихся случайным образом разбивают на 4 равные группы. Найдите вероятность того, что Вадим и Сергей окажутся в одной группе.



18

В классе учится 21 человек. Среди них две подруги: Аня и Нина. Класс случайным образом делят на 7 групп, по 3 человека в каждой. Найти вероятность того, что Аня и Нина окажутся в одной группе.

19

В классе 26 учащихся, среди них два друга —Сергей и Андрей. Учащихся случайным образом разбивают на 2 равные группы. Найдите вероятность того, что Сергей и Андрей окажутся в одной группе.

20

В группе туристов 5 человек. С помощью жребия они выбирают двух человек, которые должны идти в село за продуктами. Турист А. хотел бы сходить в магазин, но он подчиняется жребию. Какова вероятность того, что А. пойдёт в магазин?

Частота и вероятность



$$p = \frac{n}{N}$$

$$v = \frac{n}{m}$$

21

Вероятность того, что новый DVD-проигрыватель в течение года поступит в гарантийный ремонт, равна $0,045$. В некотором городе из **1000** проданных DVD-проигрывателей в течение года в гарантийную мастерскую поступила **51** штука. На сколько отличается частота события «гарантийный ремонт» от его вероятности в этом городе?

22

В городе **N** вероятность рождения мальчика равна $0,52$. В **2013** году из **1000** новорождённых детей **510** девочек. Насколько отличается в этом городе вероятность рождения мальчиков от его частоты?

23

Вероятность того, что на тестировании по математике учащийся А. верно решит больше 9 задач, равна 0,63. Вероятность того, что А. верно решит больше 8 задач, равна 0,75. Найдите вероятность того, что А. верно решит ровно 9 задач.

24

Вероятность того, что на тестировании по математике учащийся А. верно решит больше 11 задач, равна 0,66. Вероятность того, что А. верно решит больше 10 задач, равна 0,76. Найдите вероятность того, что А. верно решит ровно 11 задач.

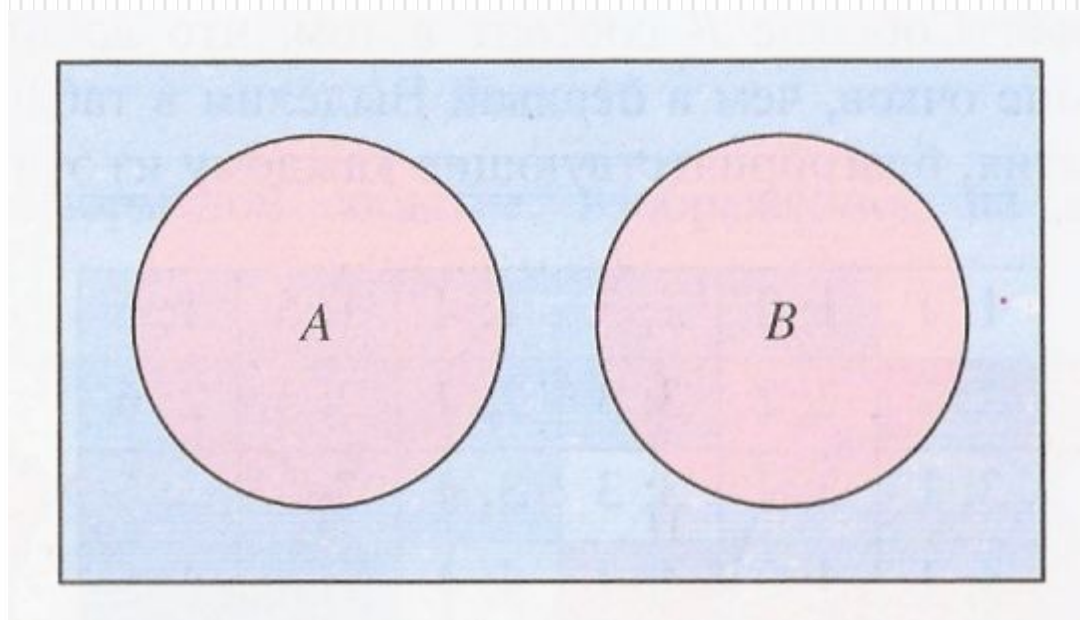
25

Вероятность того, что в случайный момент времени температура тела здорового человека окажется ниже $36,8^{\circ}\text{C}$, равна $0,94$. Найдите вероятность того, что в случайный момент времени у здорового человека температура тела окажется $36,8^{\circ}\text{C}$ или выше.

26

При изготовлении подшипников диаметром 67 мм вероятность того, что диаметр будет отличаться от заданного не больше, чем на $0,01$ мм, равна $0,965$. Найдите вероятность того, что случайный подшипник будет иметь диаметр меньше чем $66,99$ мм или больше чем $67,01$ мм.

Вероятностные события



Вероятностные события

27

Биатлонист пять раз стреляет по мишеням. Вероятность попадания в мишень при одном выстреле равна $0,8$. Найдите вероятность того, что биатлонист первые три раза попал в мишени, а последние два промахнулся. Результат округлите до сотых.

По отзывам покупателей Иван Иванович оценил надёжность двух интернет-магазинов. Вероятность того, что нужный товар доставят из магазина А, равна 0,8. Вероятность того, что этот товар доставят из магазина Б, равна 0,9. Иван Иванович заказал товар сразу в обоих магазинах. Считая, что интернет-магазины работают независимо друг от друга, найдите вероятность того, что ни один магазин не доставит товар.

На экзамене по геометрии школьнику достаётся один вопрос из списка экзаменационных вопросов. Вероятность того, что это вопрос на тему «Вписанная окружность», равна $0,2$. Вероятность того, что это вопрос на тему «Параллелограмм», равна $0,15$. Вопросов, которые одновременно относятся к этим двум темам, нет. Найдите вероятность того, что на экзамене школьнику достанется вопрос по одной из этих двух тем.

30

Вероятность того, что батарейка бракованная, равна 0,06. Покупатель в магазине выбирает случайную упаковку, в которой две таких батарейки. Найдите вероятность того, что обе батарейки окажутся исправными.

Полезные ссылки

- <http://alleng.ru>
- <http://fipi.ru>
- <http://sdamgia.ru>

До свідання!