

**Конкурс юных инспекторов движения
«БЕЗОПАСНОЕ КОЛЕСО»**

**Приветствуем участников
Станции № 1**

**«ЗНАТОКИ ПРАВИЛ ДОРОЖНОГО
ДВИЖЕНИЯ»**

Вариант № 1

2017

г.

В помощь участнику конкурса:

На экране высвечиваются поочерёдно 14 вопросов.

На решение с **1 по 5** вопросы и с **11 по 14** вопросы даётся не более 30 секунд, при этом нужно выбрать только 1 вариант ответа, на остальные вопросы не более 1 минуты, при этом необходимо выбрать 3 варианта ответа.

Выбранный тобой ответ отмечай в специальном бланке галочкой.

Знаки правил дорожного движения

Номер участника _____

Район, город _____

1	А	✓	Б		В							
2	А		Б	✓	В							
6	А		Б		В	✓	Г	✓	Д	✓	Е	

ПРИМЕР:

Желаем удачи! Старт!


Вопрос № 1.

Велосипедист проедет последним потому, что:

А) ему горит красный сигнал светофора

Б) потому что первым проедет автомобиль с включенным проблесковым маячком и звуковым сигналом

В) оба варианта верны



Вопрос № 2.

Кому разрешено проехать перекресток?

- А) участникам №№ 1,2
- Б) участникам №№ 2,3
- В) участникам №№ 1,3

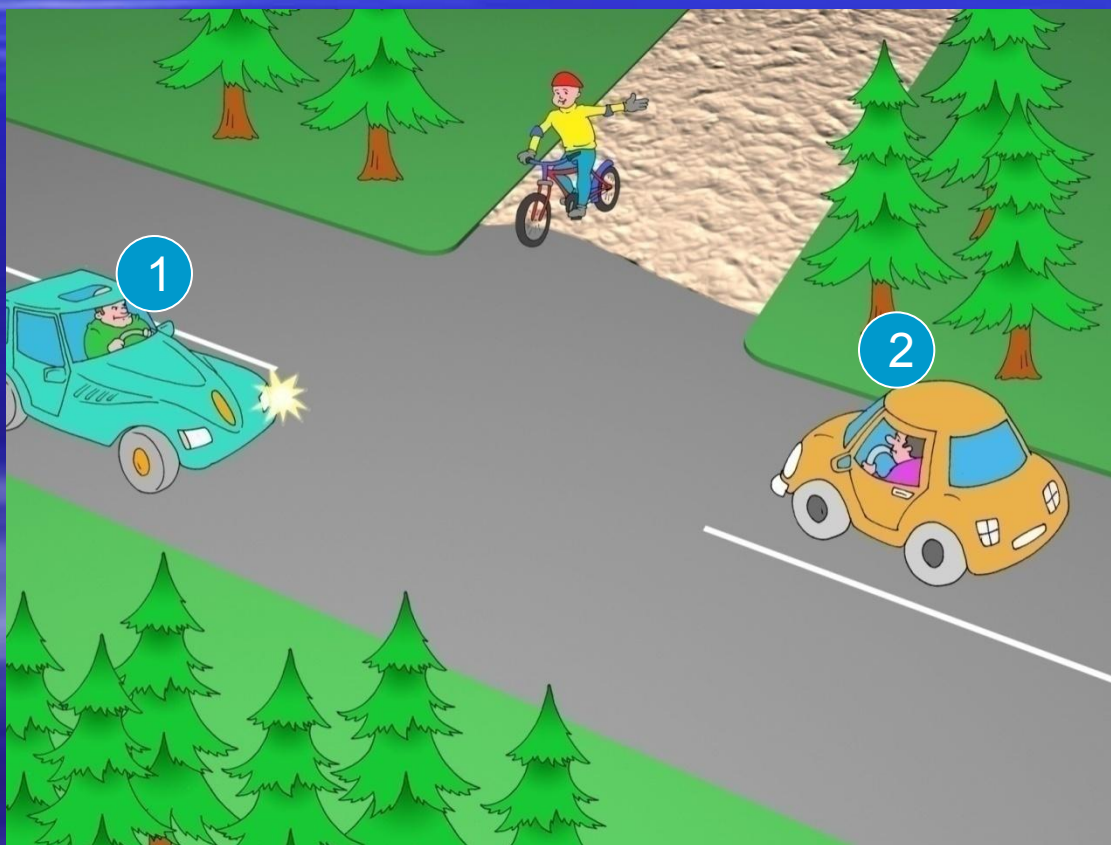


Вопрос № 3.

Вопрос № 3

Кому должен уступить велосипедист?

- А) участнику № 1
- Б) участнику № 2
- В) участникам №№ 1,2



Вопрос № 4.

Вопрос № 4

Велосипедист должен уступить дорогу автомобилистам, потому что:


- А)** он движется по второстепенной дороге
- Б)** у него помеха справа
- В)** он не может двигаться по проезжей части

б
л
е

Вопрос № 5.

Вопрос № 5

36 Велосипедист уступит дорогу автомобилисту, потому что: **А)** он является помехой справа для автомобиля
Б) для него действует знак «Уступи дорогу»
В) автомобиль главнее на дороге

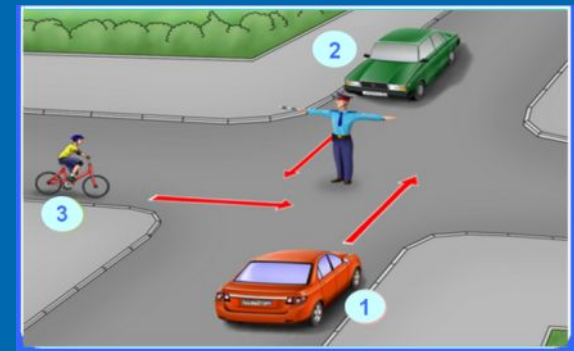


Вопрос № 6.

Вопрос № 6

На каких картинках велосипедисты соблюдают правила дорожного движения? Велосипедистам 6 лет.


3 варианта ответа.

А**Б****В****Г****Д****Е**

Вопрос № 7.



На каких картинках велосипедисты нарушают правила дорожного движения? Велосипедистам 8 лет.
3 варианта ответа.

А**Б****В****Г****Д****Е**

Вопрос № 8.



Вопрос № 8

На каких картинках велосипедисты соблюдают правила дорожного движения? Велосипедистам 15 лет.

3 варианта ответа.

**А****Б****В****Г****Д****Е**

Вопрос № 9.



Вопрос № 9

60

На каких картинках пешеходы соблюдают
правила дорожного движения?

3 варианта ответа.

А




Б




В




Г



Д



Е



Вопрос № 10.



Вопрос № 10

Выберите картинки, на которых пассажиры соблюдают правила дорожного движения?

3 варианта ответа.



А



Б




В



Г



Д



Е



Вопрос № 11.



Вопрос № 11

Выберите велосипедиста, который находится
в слепой зоне для водителя грузовика



Вопрос № 12.




Вопрос № 12

30

Какие дорожные знаки запрещают велосипедисту поворот налево? (велосипедисту 17 лет)

- А)** знаки № 1, 2, 3, 4
- Б)** знаки № 1, 2, 3
- В)** знаки № 1, 3, 4



Вопрос № 13.



Вопрос № 13

30

Какой дорожный знак разрешает движение пешеходам?

- А) дорожные знаки № 1, 3
- Б) дорожные знаки № 2, 3
- В) дорожные знаки №№ 1,2



1



2



3


Вопрос № 14.



Вопрос № 14

Какой дорожный знак устанавливается в начале дороги с односторонним движением?

- А) дорожный знак № 3
- Б) дорожный знак № 4
- В) дорожный знак № 2



**СПАСИБО
ЗА ВНИМАНИЕ**

