



Приёмы устных вычислений вида

$260+310$ $670-140$

СТР. 69



К уроку № 108

«Школа России» 3 класс

Устный счёт



Соберите мячи в ответах которых 5
десятков.

$23+27$

$89-49$

$150:3$

$69-18$

$450-400$

$500:10$

$25 \bullet 2$

$150-100$

Сосчитайте примеры, запишите ответы.



$$450 + 80 =$$

$$200 - 80 =$$

$$380 - 90 =$$

$$7 \bullet 100 =$$

$$250 - 70 =$$

$$690 : 10 =$$

$$600 : 100 =$$

$$20 \bullet 10 =$$

$$8 \bullet 100 =$$

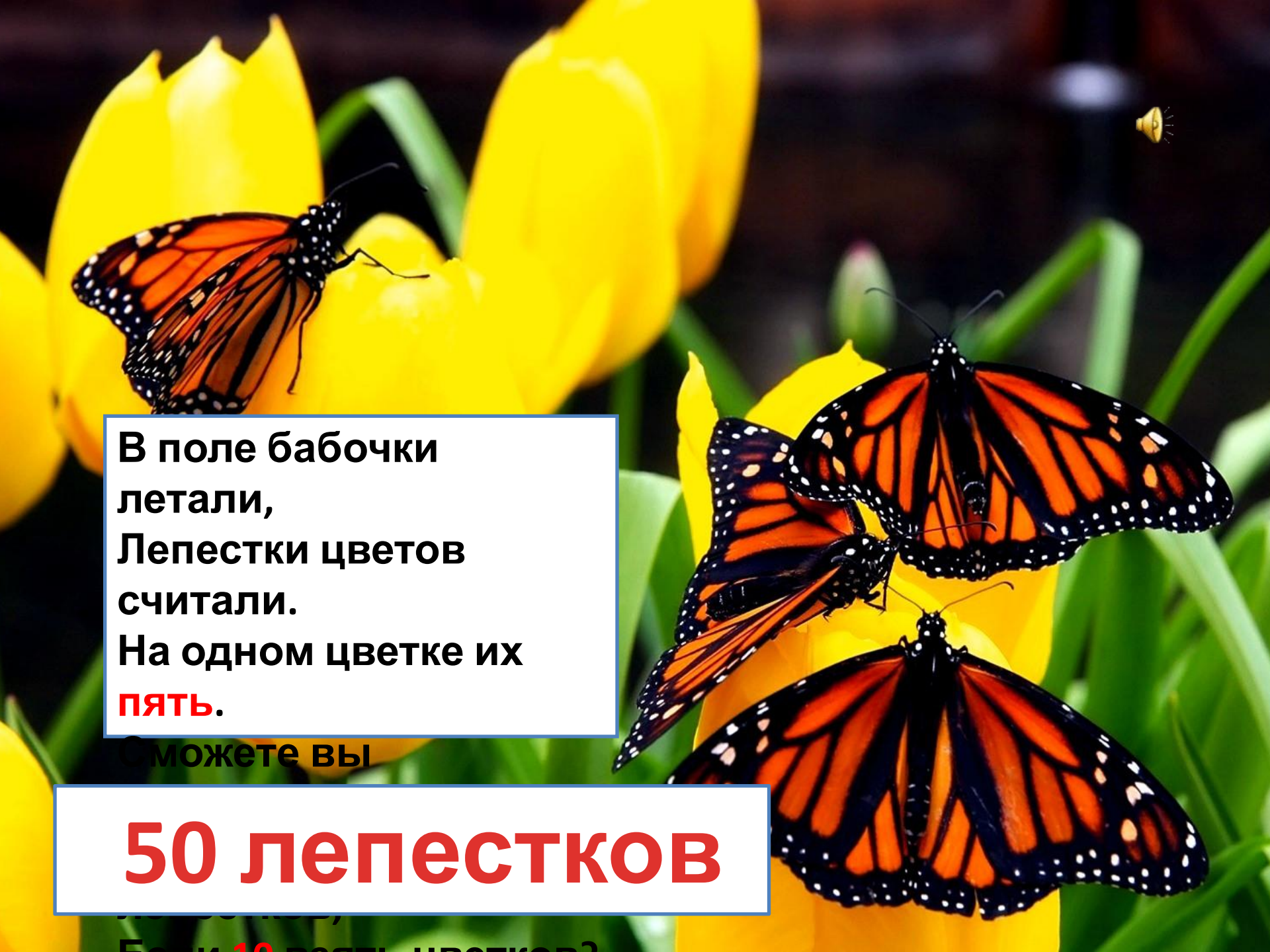
$$740 - 80 =$$

$$430 - 90 =$$

$$250 + 60 =$$

$$350 - 90 =$$

$$120 - 60 =$$

A vibrant scene featuring several monarch butterflies with their characteristic orange and black wings, perched on bright yellow flowers. The background is a soft-focus green, suggesting a garden or field setting. The butterflies are in various positions, some facing forward and others in profile, creating a sense of movement and activity.

В поле бабочки
летали,
Лепестки цветов
считали.
На одном цветке их
пять.

Сможете вы

50 лепестков

Если 10 раз лепестков?

В первый день привезли **40** парт, а во второй на **20** парт больше. Все парты расставили по **20** штук в класс. Сколько




Кл

$$(40 + 40 + 20) : 20 = 5 \text{ (кл.)}$$



5

классов

Брат и сестра сорвали **32** сливы. **8** слив они отдали маме,
а остальные поделили поровну. По сколько слив 
получили

$$(32-8) : 2 = 12 \text{ СЛИВ}$$



по 12

СЛИВ



80		
	200	120
		320

Заполните магический квадрат.




80	360	160
280	200	120
240	40	320

Проверьте ответы.

Задания на смекалку



Сколько книг ?

В библиотеке на **двух** полках было **19** книг.
Купили новые книги и на каждую полку поставили
еще столько книг, сколько было на ней.
Сколько теперь книг стоит на двух полках ? 



38 КНИГ

конец