

Урок математики

1 класс

Тема:
Килограмм

**Вставь пропущенные числа
запиши получившийся числовой ряд
в тетрадь**

1 2 . 3 . 4 5 . 6 . 7 8 . 9 . 10



$$2 + 4 = 6$$

Реши, исправь и
запиши правильные
примеры в тетрадь

$$3 + 4 = 8$$

$$8 - 3 = 6$$

$$9 - 6 = 4$$

$$7 - 4 = 3$$

Весы электронные



Весы механические



Уравновесь математические весы



$$\textcircled{1} \textcircled{2} \textcircled{3} = \textcircled{1} \textcircled{3} \textcircled{2}$$

$$\textcircled{2} \textcircled{2} \textcircled{2} = \textcircled{1} \textcircled{1} \textcircled{4}$$


$$\textcircled{4} \textcircled{6} = \textcircled{2} \textcircled{8}$$

ЯБЛОКО

—

5

ЯГОД
КЛУБНИКИ




ЯБЛОКО



—

2

ШОКОЛАДКИ



Древние единицы массы



Карат- 0,2 г

Талант

Гривна (409,5 г)- фунт

Пуд – 16,38 кг

Золотник – 12, 8 г

Единицы массы

Грамм
Килограмм
Центнер
Тонна

1 килограмм

→ 1 кг



Что можно взвесить при помощи новой величины?





ПОДУМАЙ: СТОЛЬКО ЖЕ 10 КГ, ТАК КАК ЕГО ВЕС НЕ ИЗМЕНИТСЯ

- Индюк весит 10 кг. Сколько он будет весить, если встанет на одну ногу?



ПОДУМАЙ:ОДИНАКОВО ТАК, КАК 8КГ=8КГ

- В большом ящике лежало 8 кг муки, а в маленьком пакете 8 кг гвоздей. Какой ящик тяжелее?



- Работа по учебнику С.37(у.)(задача под красной чертой). Запиши решение задачи в тетрадь;
- С.37(у.) №5-н черти таблицу в тетрадь и заполни
-

**Прислать работу в тетради
выполненную по ходу
презентации**