

# Решаем задание №10 по обществознанию

практика

Подготовка к ЕГЭ

Занятие ведет Локоткова Людмила Витальевна,  
репетитор по обществознанию

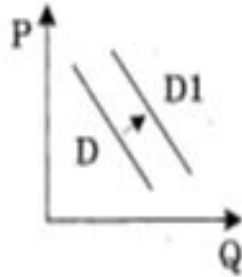
# Тренировка

А теперь приступим к отработке полученных умений. Вам предлагается 10 заданий. Внимательно прочитайте задание, выберете верный, с вашей точки зрения, ответ и нажмите на него. Если услышите звон аплодисментов, то вы правильно ответили, если же зазвучат колокольчики, то ответ не верный, попробуйте еще раз решить тест. Не забывайте, что в подобных заданиях 2016г. необходимо выбрать несколько цифр.

### Пример № 1

На рисунке отражена ситуация на рынке строительных услуг: линия спроса  $D$  переместилась в новое положение  $D1$ . ( $P$  – цена товара,  $Q$  – объем спроса товара.) Это перемещение может быть связано:

- 1) с ожиданиями экономического подъема
- 2) с ростом инфляции
- 3) с увеличением доходов потребителей
- 4) с ростом числа строительных фирм
- 5) доступностью услуг

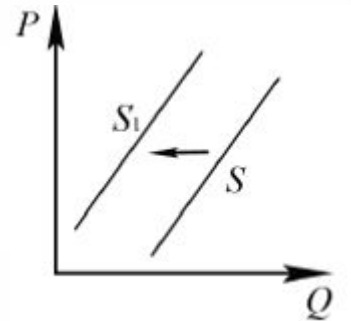


Ответ: 35

### Пример № 2

На рисунке отражено изменение предложения бананов на соответствующем рынке страны, не выращивающей бананы (линия предложения  $S$  переместилась в новое положение  $S1$ ) ( $P$  - цена товара.  $Q$  - количество товара). Чем можно объяснить это перемещение? Запишите цифры, под которыми указаны соответствующие факторы.

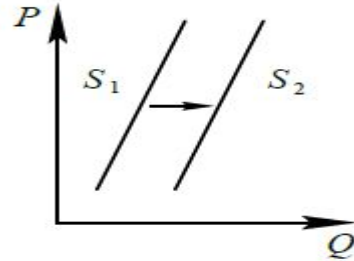
- 1) увеличение таможенных пошлин на импорт бананов
- 2) увеличение доходов потребителей
- 3) уменьшение цен на энергоносители
- 4) предоставление льготных кредитов продавцам бананов
- 5) низкий урожай бананов



Ответ: 15

### Пример № 3

На графике отражены изменения, произошедшие с предложением свежесвыловленной рыбы: линия предложения  $S$  переместилась в новое положение  $S_1$  ( $P$  — цена товара,  $Q$  — величина предложения товара).



Это изменение может быть связано прежде всего

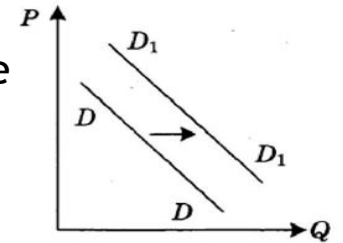
- 1) с совершенствованием технологии разведения рыбы
- 2) с приближением сезона отпусков работников рыбных хозяйств
- 3) с популяризацией в СМИ блюд из рыбы и изданием книг о здоровой пище
- 4) с повышением цен на другие продукты, содержащие белок
- 5) Снижением таможенных пошлин на ввозимую импортную рыбу

Ответ: 15

### Пример № 4

На графике отражена ситуация на рынке изделий из текстиля (постельного белья, махровых полотенец и др.): линия спроса  $D$  переместилась в новое положение  $D_1$  ( $P$  — цена товара,  $Q$  — объем спроса товара).

Это изменение может быть связано прежде всего



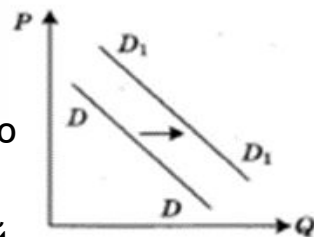
- 1) Расширение гостиничного бизнеса
- 2) Появлением новых видов искусственных тканей
- 3) Увеличением числа производителей домашнего текстиля
- 4) Увеличение числа покупателей домашнего текстиля
- 5) Ростом налогов с производителей текстильной продукции

Ответ: 24

## Пример № 5

На рисунке изображена ситуация на рынке цветов: линия предложения  $S$  переместилась в новое положение  $S_1$  ( $P$  - цена цветка,  $Q$  - количество предлагаемых цветов). Это перемещение может быть связано в первую очередь с

- 1) С увеличением тарифов на электричество
- 2) С увеличением количества покупателей
- 3) Увеличением налогов на производителей
- 4) Вводом в эксплуатацию цветочной теплицы
- 5) Снижением доходов населения

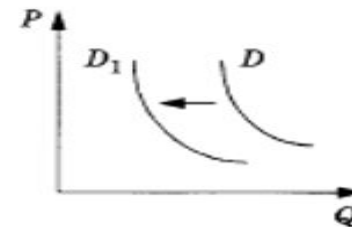


Ответ: 2 4

## Пример № 6

На рисунке отражено изменение спроса сахара на соответствующем рынке: линия спроса  $D$  переместилась в новое положение  $D_1$  ( $P$  - цена товара,  $Q$  - количество товара). Это перемещение может быть вызвано в первую очередь

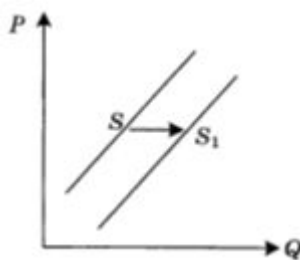
- 1) Увеличение числа продавцов
- 2) Разорением компаний, торгующих продуктами питания
- 3) Снижением цен на сахар
- 4) Ростом популярности заменителей сахара
- 5) Изменением доходов покупателей



Ответ: 4 5

## Пример № 7

На графике отражена ситуация на рынке бытовой техники: линия предложения  $S$  переместилась в новое положение -  $S_1$  ( $P$  – цена товара,  $Q$  – количество товара).



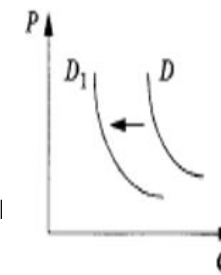
Это перемещение может быть связано прежде всего с

- 1) увеличением доходов потребителей бытовой техники
- 2) широкой рекламой в СМИ бытовой техники новых марок
- 3) применением технологий, сокращающих издержки производства
- 4) ожиданием роста потребительских цен
- 5) появлением новых фирм, торгующих бытовой техникой

Ответ: 35

## Пример № 8

На рисунке отражена ситуация на рынке стационарных компьютеров: линия спроса  $D$  переместилась в новое положение  $D_1$ . ( $P$  - цена товара,  $Q$  - объём спроса товара) Это перемещение может быть связано прежде всего с (со)



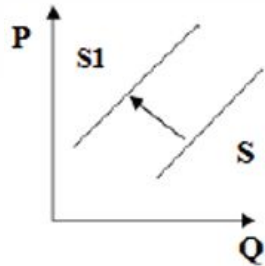
- 1) существенным удешевлением системных блоков и мониторов
- 2) широким распространением на рынке планшетных компьютеров, нетбуков
- 3) снижением пошлин на ввоз комплектующих для стационарных компьютеров
- 4) увеличением количества банковских филиалов и офисов компаний
- 5) ростом цен на системные блоки и мониторы

Ответ: 25

## Пример № 9

На рисунке отражена ситуация на рынке элитной недвижимости: линия предложения  $S$  переместилась в новое положение  $S_1$ . ( $P$  – цена товара,  $Q$  – объем предложения) Это перемещение может быть связано прежде всего с (со)

- 1) Существенным ростом доходов населения
- 2) Возрастание требований заказчика к строительству жилья бизнес-класса
- 3) Снижением цен на строительные материалы
- 4) Предоставлением субсидий на покупку жилья военнослужащим
- 5) Повышением цен на строительные материалы

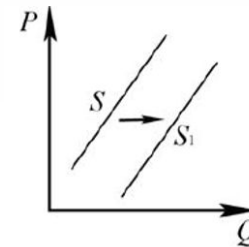


Ответ: 2 5


## Пример № 10

На графике изображено изменение предложения легковых автомобилей на потребительском рынке: кривая предложения  $S$  переместилась в положение  $S_1$ . (На графике  $P$  – цена товара,  $Q$  – количество товара) Какие из перечисленных факторов могут вызвать такое изменение? Запишите цифры, под которыми они указаны.

- 1) Увеличение количества автомобилей
- 2) Снижение возраста получения водительского удостоверения
- 3) Снижением цен на комплектующие изделия для автомобилей
- 4) Рост тарифов на электроэнергию
- 5) Повышением процентов по автокредитам



Ответ: 1 2



Центр репетиторства  
«Перспектива»

Желаю Вам успехов на ЕГЭ!





Центр репетиторства  
«Перспектива»



8-917-492-87-54



lyusisha1



[perspektive-zentr@mail.ru](mailto:perspektive-zentr@mail.ru)



[https://vk.com/disttutor\\_social\\_ege](https://vk.com/disttutor_social_ege)



<https://vk.com/club67409757>